

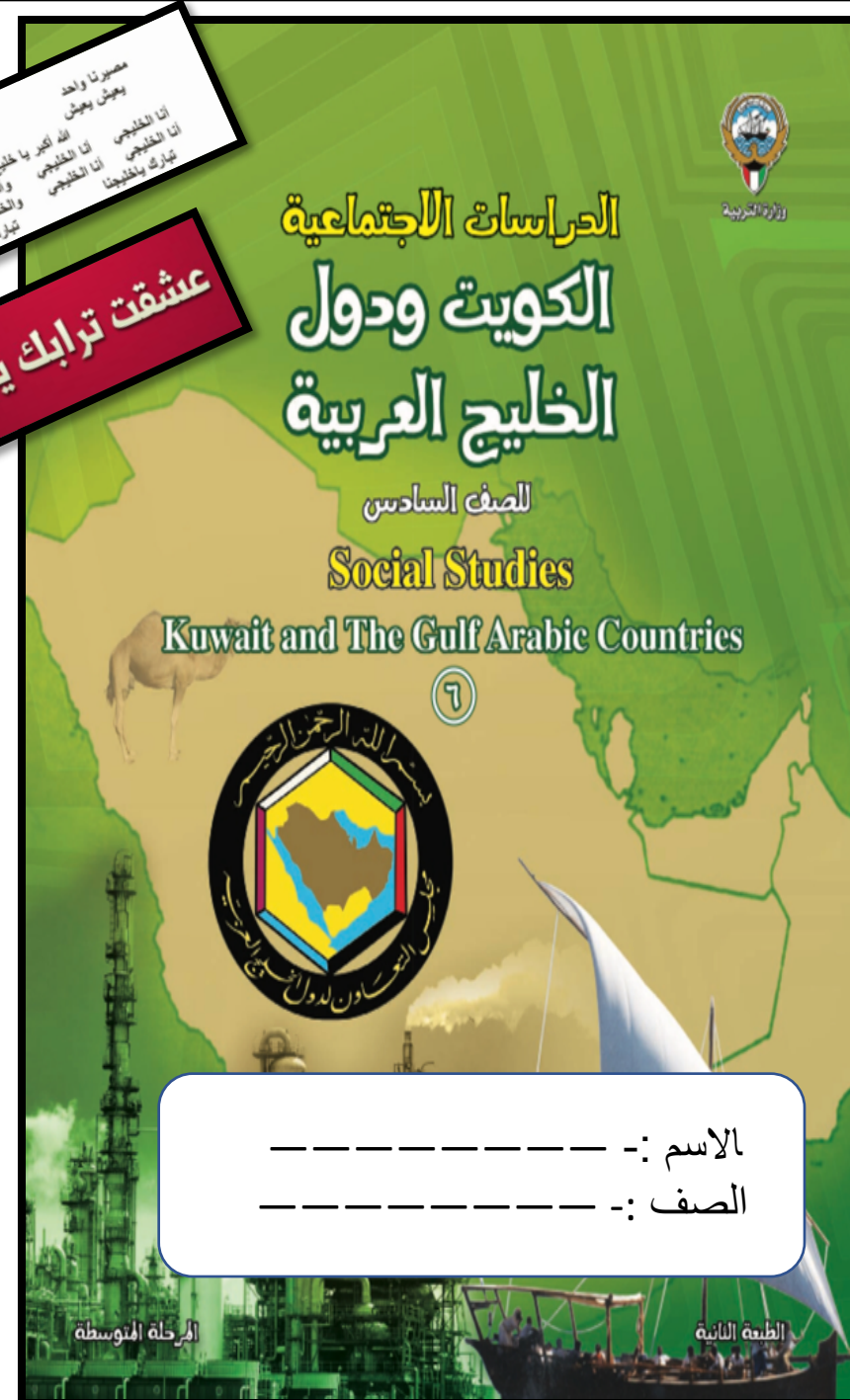


كشكول عبدالله

تطبيقات

للمصف السادس اجتماعيات

إعداد المعلمة :- شيماء العبدالرحمن



الاسم :- _____
الصف :- _____

الرحلة المتوسطة

الطبعة الثانية



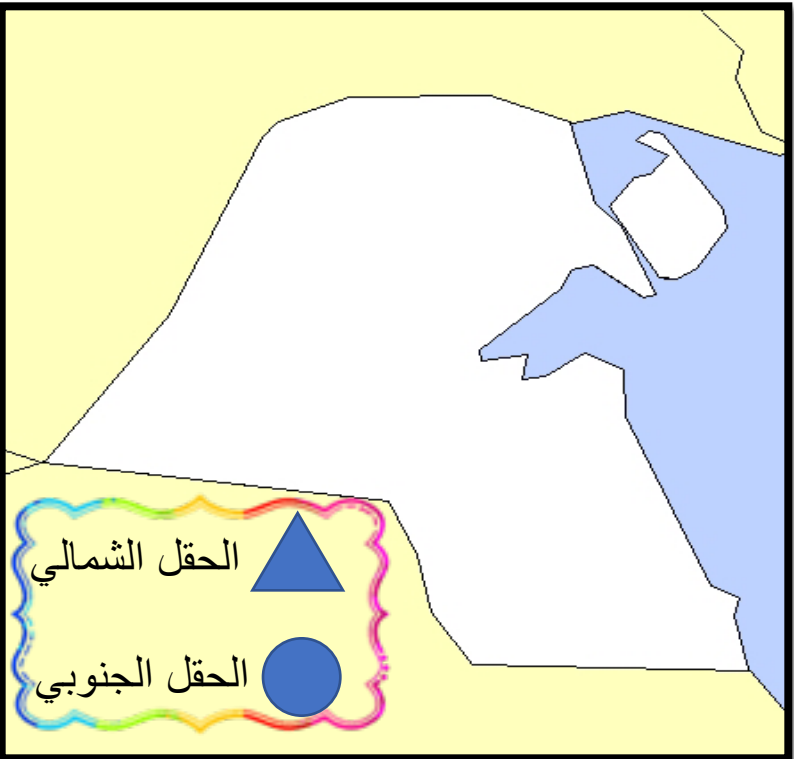
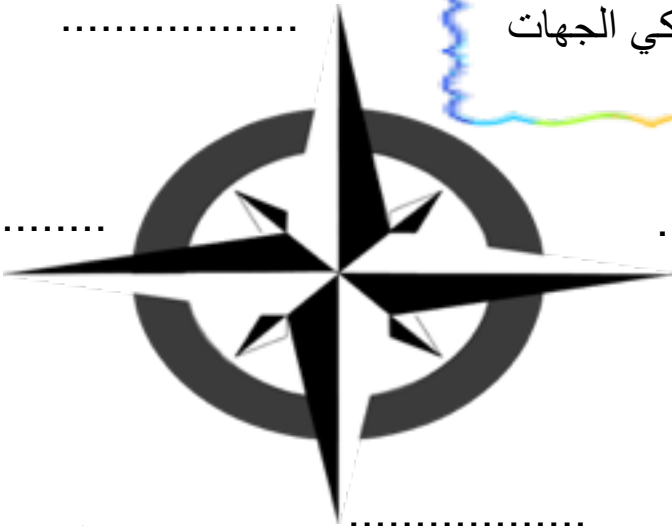
أنا من اكتشف النفط في عهدي أنا حاكم
الكويت الشيخ أحمد الجابر الصباح ابنة
الكويت لنتذكر معا تاريخنا واكتبه بالجدول



أمامك خريطة دولتنا الحبيبة الكويت حدد عليها
المطلوب :-

اسم الحقل	موقعه علي الخريطة	كمية النفط المكتشفة

تذكر يا ذكي الجهات
الأصلية





الموارد الاقتصادية لدول الخليج العربية :- 2 . إنتاج النفط



استفيد من معلوماتك في الدرس وقوم
بتوصيل كل مفهوم أمام تعريفه

* كمية النفط المستخرجة
للاستفادة منها

* احتياطي النفط

* هي كميات النفط
المخزون في باطن الأرض

* إنتاج النفط

اكمل الرسم البياني كل
دولة خليجية ونسبة
انتاجياتها للنفط

نسبة إنتاج بعض دول مجلس التعاون الخليجي عام ٢٠٠٨م	
الدولة	نسبة إنتاج النفط لشهر أغسطس ٢٠٠٨م
الكويت	
السعودية	
الإمارات	
قطر	

* اذكر نسبة كل دولة
خليجية في إنتاجية
النفط

علل لما يلي (اذكر السبب)!؟
ظهرت الحاجة لدول الخليج العربية
لإقامة العديد من الموانئ النفطية

1

2






الموارد الاقتصادية لدول الخليج العربية
3 . تصدير النفط

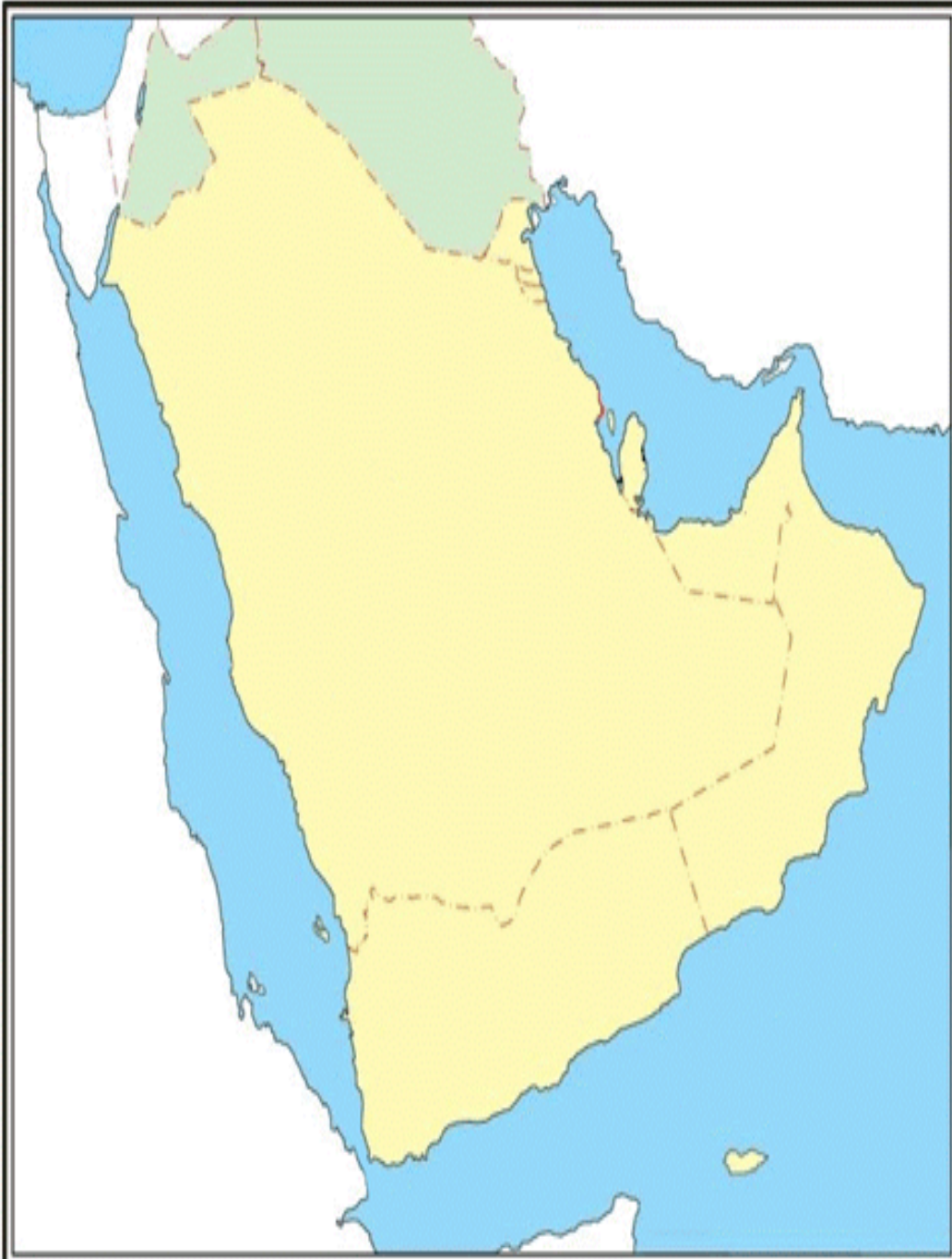
من أنا؟!
الاسم :-

الوظيفة :-

أهم حدث :-

ماهي أهم الدول المستوردة للنفط
الخليجي؟!؟





الموارد الاقتصادية لدول
الخليج العربية :-
3 . تصدير النفط



لأنك من الأذكاء وسريع
حدد علي الخريطة؟

*ميناء في دولة الكويت

*حقل نفطي في دولة الكويت

*حقل نفطي في السعودية

*حقل نفطي في دولة قطر

*حقل نفطي في دولة الامارات

*ميناء نفطي في سلطنة عمان

*حقل نفطي في سلطنة عمان

إعداد المعلمة :- شيماء العبدالرحمن



- هل دول الخليج العربي دول زراعية؟ (.....)
- كيف نجد في الأسواق منتجات خليجية؟
- (.....)



الموارد الاقتصادية لدول الخليج العربية :-
ب-الموارد الزراعية



*المملكة العربية
السعودية
هي الدولة الخليجية
الوحيدة الرائدة
بإنتاج
محصول
.....

• ذكي الصف السادس
• ضع حلولاً تساعد دول الخليج
التغلب على الصعوبات في مجال
الزراعة

.....
.....
.....
.....



* دقيق ونبيه لحل السؤال اختار الإجابة
المختلفة التي لا تنتمي للمجموعة

العبدلي

سهل الباطنة

من المناطق الزراعية
في دولة الكويت

الوفرة

الموارد الاقتصادية لدول
الخليج العربية :-
ب-الموارد الزراعية

قوي الصف
السادس مع ساعد
المزارع
خالد حدد علي
الخريطة أسماء
المناطق الزراعية
من خلال الاستعانة
بالكتاب المدرسي
ص 92

إعداد المعلمة :- شيماء العبدالرحمن





علي لما يلي (اذكري السبب)
*انتعاش الموانئ التجارية في دول الخليج

يا ذكي صل الكلمة المناسبة
بالصورة المناسبة

واردات

صادرات

الموارد
الاقتصادية
لدول الخليج
العربية:-
د. الموارد
التجارية



بالاستعانة بالصور
عرف المفاهيم الدالة علي الصورة



الموارد الاقتصادية لدول الخليج
العربية :- ج.الموارد الصناعية



أنتي عالم جغرافي فلكي
صمم خريطتك باستخدام
مهاراتك
وذكائك وفطنتك
وزع الصناعات القائمة في
دول الخليج

ضع رموزك الخاصة



ما معنى مفهوم السلالة ؟

.....

.....

.....



*دول الخليج العربية تنمو سكانيا وتتشابه ثقافيا :-
أ. السكان في المنطقة العربية (الأصول السكانية)



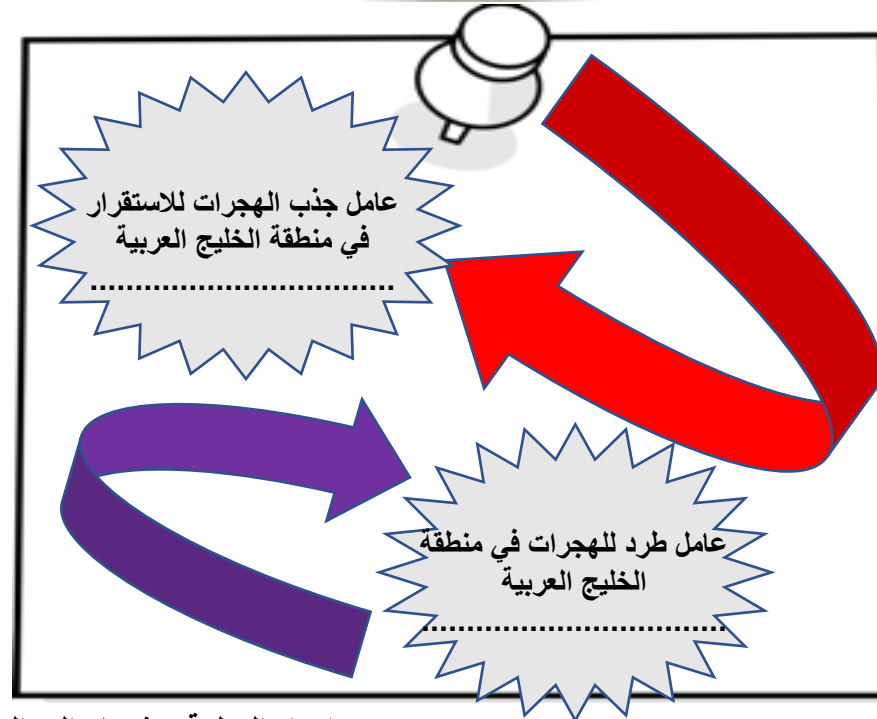
ذاكرتك قوية
اكتب تحت كل علم
اسم الدولة
الخليجية
وحضارتها



حدد على الخريطة
مواقع الحضارات



إعداد المعلمة :- شيماء العبدالرحمن



إعداد المعلمة :- شيماء العبدالرحمن



ساعدوني في البحث
عن الإجابة علي السؤال
التالي ؟!



ماهو السبب في زيادة عدد السكان
في دول الخليج العربية بعد اكتشاف
النفط !

1.....
2.....



شجاع الصف
السادس
اذكر أمام الصورة
نوع
الزيادة في النجمة
الحمراء وتعريف
الزيادة في النجمة
الصفراء

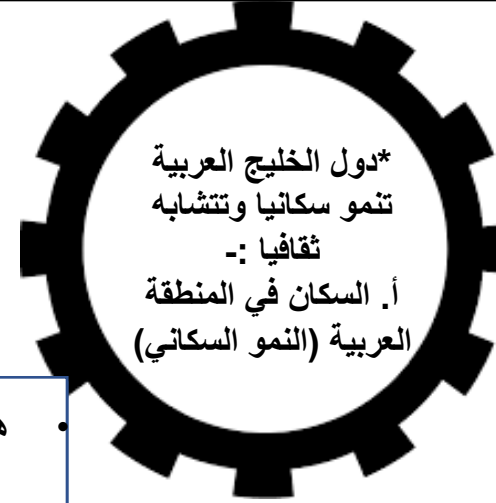
إعداد المعلمة :- شيماء العبدالرحمن

*دول الخليج العربية تنمو
سكانيا وتتشابه ثقافيا :-
أ. السكان في المنطقة العربية
(النمو السكاني)






أعلى دولة خليجية في نسبة الوافدين
أعلى دولة خليجية في نسبة المواطنين



• هناك عوامل ساعدت في زيادة أعداد
الوافدين في دول الخليج العربي
• تلميذي اذكر لي ثلاث عوامل في
الدوائر الملونة



إعداد المعلمة :- شيماء العبدالرحمن



اجمع الكلمات في قطع
البازل وكون منها مفهوم
مناسبا لموضوع الدرس


.....
.....
.....

المفهوم
.....
.....



اذكر العوامل التي ربطت أبناء دول
الخليج العربية

ب-التشابه
الثقافي بين سكان
دول الخليج
العربية :-
*وحدة الأصل
*العادات والتقاليد
*الدين واللغة
*التاريخ المشترك



إعداد المعلمة :- شيماء العبدالرحمن



هذا الشعار يدل علي

ما هو عمله؟

الكويت ودول الخليج العربي في
مواجهة التحديات

اكتب رسالة موجهة للعالم متمثلة بهذه
الصورة :-



اذكر صور التعاون بين دول الخليج العربية
الستة مع ذكر مظهر من مظاهر التعاون

التعاون
المظهر

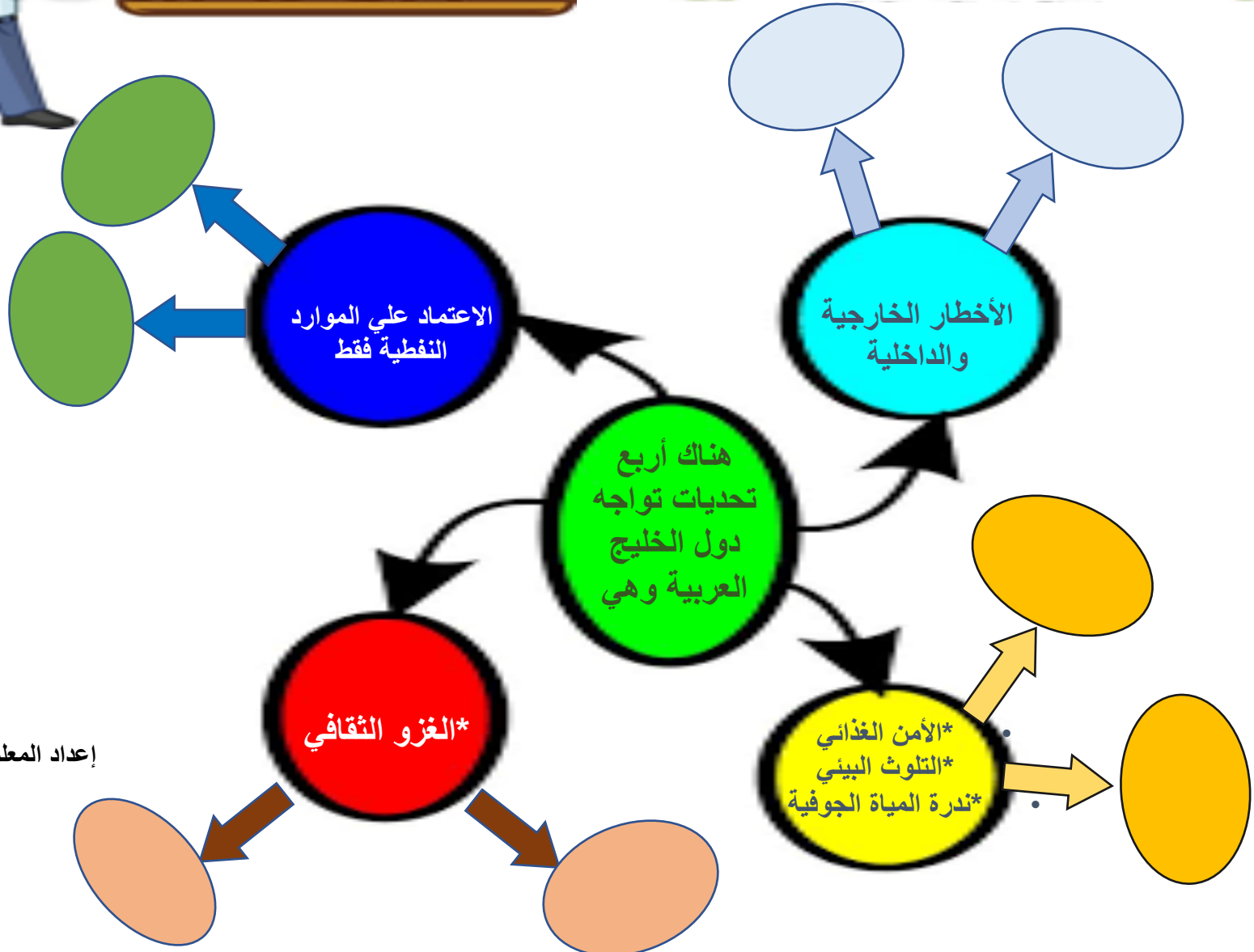
التعاون
المظهر

التعاون
المظهر

التعاون
المظهر

الكويت ودول الخليج العربي في مواجهة التحديات

ذكي الصف السادس اكمل رسم
الخريطة الذهنية حيث أمام كل تحدي
اقترح حلولاً لهذه التحديات



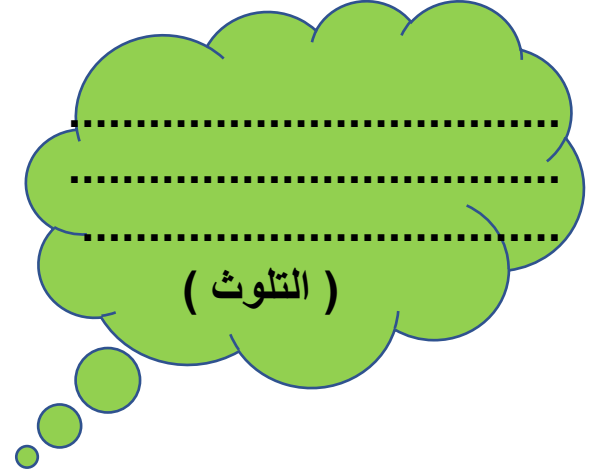
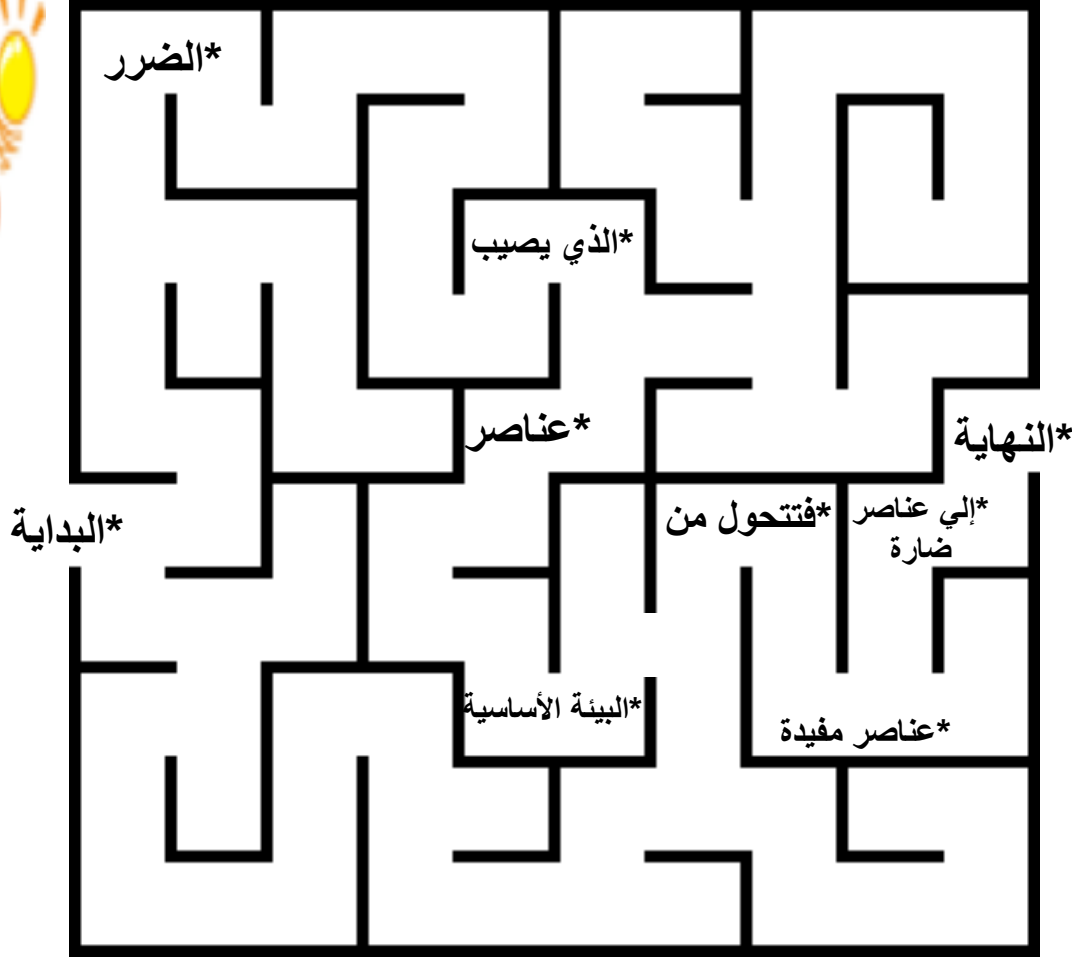
إعداد المعلمة :- شيماء العبدالرحمن



ب. المشكلات التي تواجه دول الخليج
العربية
أولاً:- المشكلات البيئية



*اجمع
الكلمات في
المتاهة
ورتبها





ضع نوع التلوث
الموجود في الصور
المعروضة

ب. المشكلات التي تواجه دول
الخليج العربية
أولاً:- المشكلات البيئية



تلوث

تلوث



تلوث



تلوث

I ♥ Kuwait!

أثر الغزو العراقي الغاشم علي
البيئة الكويتية

حدد علي الرزنامة تاريخ
الغزو العراقي الغاشم علي
دولة الكويت

أثر الغزو العراقي
الغاشم علي البيئة
الكويتية حدد
أنواع التلوث
الناتج من حرق
آبار النفط



شهر أغسطس عام 1990


...../...../.....م

				1	2	3
4	5	6	7	8	9	10
11	12	13	14	15	16	17
18	19	20	21	22	23	24
25	26	27	28	29	30	31

اذكر ماهي المشكلات
الاجتماعية التي تمثلها
الصور



ثانيا :- المشكلات
الاجتماعية





مفهوم العنف



ثانيا :- المشكلات الاجتماعية 2- العنف



إعداد المعلمة :- شيماء عبدالرحمن

اكتب تعليقا
عن الصورة

