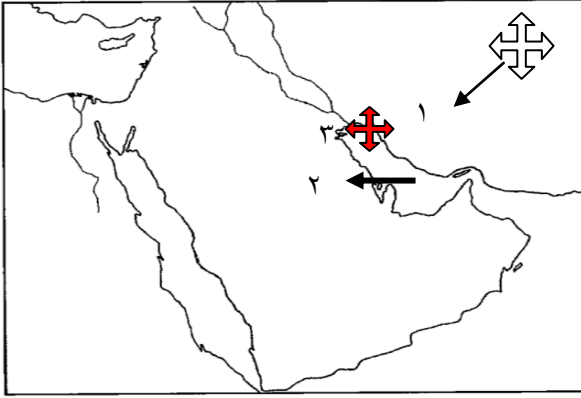


# بنك معلومات مادة الدراسات الاجتماعية الفصل الدراسي الأول للمصف السادس

الكويت ودول الخليج العربية  
إعداد: أ. جليلة الدغيم - أ. فاطمة الحربي

تبسيط المعلومة  
بالخريطة

## الوحدة الاولى : دول الخليج العربية تتأثر ببيئتها الصحراوية والبحرية ( الموقع )



أ. أكمل العبارات التالية :

١. تقع شبه الجزيرة العربية في أقصى جنوب غرب قارة آسيا .
٢. تقع دول الخليج العربية بالنسبة لمسطح الخليج العربية في جهة الغرب
٣. تقع دولة الكويت بالنسبة للخليج العربي في جهة الشمال الغربي .

. الموقع الفلكي لشبه الجزيرة العربية

( تمتد عبر ١٦ درجة عرضية شمال خط الاستواء - ٢٥ خط طول شرق خط جرينتش )

حدد مواقع الأماكن على حسب الجهات الأصلية والفرعية :



.....شمال.....

....الغرب....

.....الشرق.....

.....جنوب.....



. جنوب غربي ...



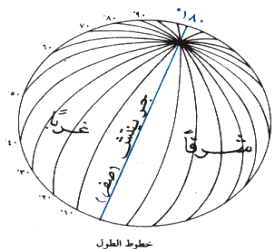
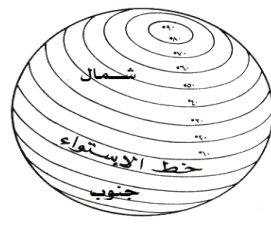
تقع شبه الجزيرة العربية في أقصى جنوب غرب قارة تسمى :

أفريقيا	استراليا	آسيا	اوربا
---------	----------	------	-------

(ب) صل بين كل من المفهوم والتعريف بوضع الرقم في المكان المناسب

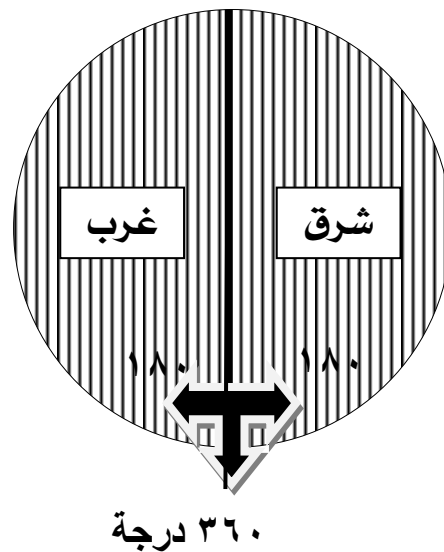
المفهوم	لرقم	التعريف
١- الخليج العربي .	٣	موقع الدولة بالنسبة لخطوط الطول ودوائر العرض
٢- الموقع النسبي	٢	موقع الدولة ما بالنسبة للماء واليابس
٣- الموقع الفلكي	١	ذراع مائي لبحر العرب يمتد من خليج عمان جنوبا حتى شط العرب شمالا

## ج- قارن بين كل من :

وجه المقارنة	خطوط الطول	دوائر العرض
المفهوم	عبارة عن خطوط وهمية ترسم على الكرة الأرضية وتقسم الكرة الأرضية قسمين إلى شرقي وغربي .	عبارة عن خطوط وهمية ترسم الكرة الأرضية وتقسم الكرة الأرضية قسمين إلى شمالي وجنوبي
الخط الرئيسي	خط جرينتش (رقمه صفر)	خط الاستواء (رقمه صفر)
العدد	٣٦٠ خط	١٨٠ دائرة
الرسم		

د- قم برسم الخطوط على الدائرة بناء على المعطيات التالية مع توضيح المعلومات عليها :

خطوط وهمية ترسم على الكرة الأرضية وتقسم الكرة الأرضية قسمين إلى شرقي وغربي . وعدد خطوطها ٣٦٠ خط






الوحدة الاولى : دول الخليج العربية تتأثر ببيئتها الصحراوية والبحرية ( مظاهر السطح )

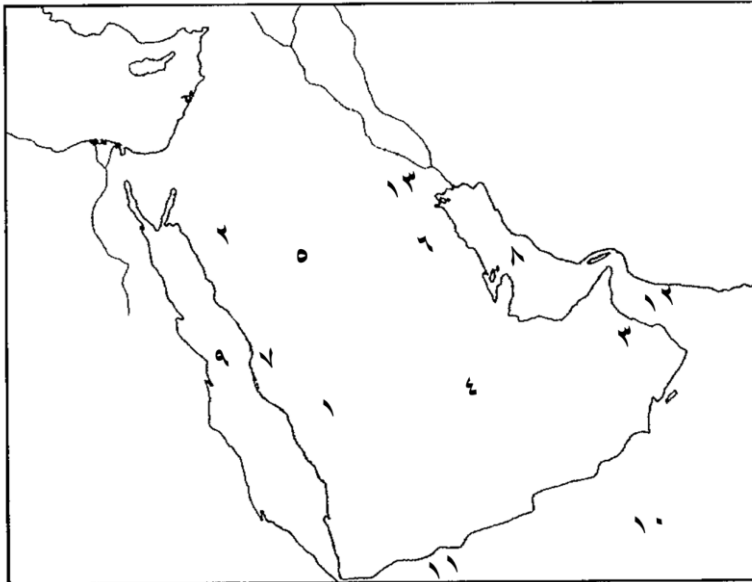
## أ- عرف المفاهيم التالية :

١. التضاريس : وهي أشكال سطح الأرض مثل الجبال والهضاب والسهول والتلال .
٢. الجبل : كل مرتفع له قمة لا تقل ارتفاعها عن ١٠٠٠ متر .
٣. الهضبة : أرض مرتفعة سطحها مستوي وتمتد بمساحة كبيرة
٤. السهول : أجزاء فسيحة من سطح الأرض تتميز باستوائها وقلة ارتفاعها .
٥. التل : مرتفع يقل ارتفاعه عن ألف متر .

بـ صل بين الصورة والمفهوم الدال عليها :

	١. السهول : أجزاء فسيحة من سطح الأرض تتميز باستوائها وقلّة ارتفاعها .
	١. الهضبة : أرض مرتفعة سطحها مستوى وتمتد بمساحة كبيرة
	١. الجبل : كل مرتفع له قمة لا تقل ارتفاعها عن ١٠٠٠ متر

جـ. صف المظاهر التضاريسية التالية علي خريطة شبه الجزيرة العربية الصماء:



١- جبال عسير	جبال
٢- جبال الحجاز	
٣- الجبل الأخضر	
٤ صحراء الربع الخالي	الصحاري
٥ صحراء النفوذ	
هضبة نجد	هضبة
٦- الإحساء	
٧- سهل تهامة	سهول
٨- الخليج العربي	
٩- البحر الأحمر	
١٠- بحر العرب	
١١- خليج عدن	
١٢- خليج عمان	
١٣- تلال جبال الزور	التلال

دـ ضلل الكلمة التي لا تنتمي للمجموعة :

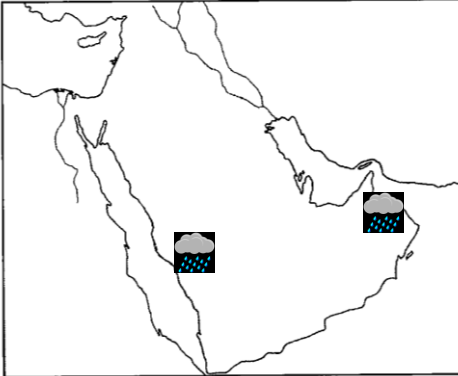
جبال شبه الجزيرة العربية			
عسير	الحجاز	تهامة	الأخضر
مسطحات مائية تطل عليها شبه الجزيرة العربية			
بحر العرب	البحر المتوسط	البحر الأحمر	الخليج العربي



هـ - أكمل جزء الرسم الناقص :  
إذا علمت أن الصورة هي لأحد التضاريس له قمة لا تقل عن ١٠٠٠ متر

## الوحدة الاولى : دول الخليج العربية تتأثر ببيئتها الصحراوية والبحرية ( المناخ )

أ. أكمل العبارات التالية بما يناسبها :



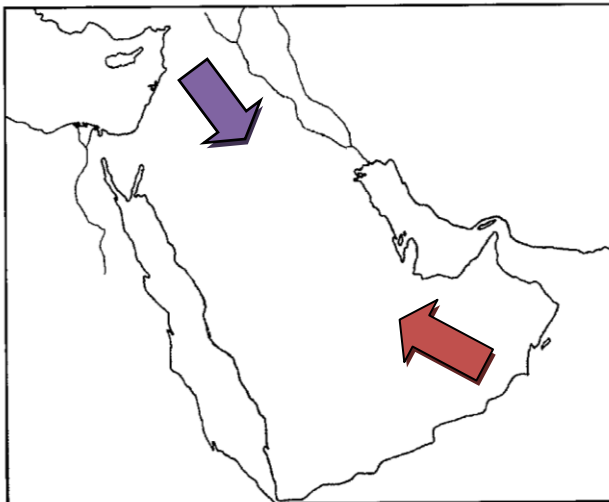
١. يتشابه مناخ دول الخليج العربية ويتصف بأنه صحراوي قاري.
٢. الأمطار في فصل الشتاء قليلة وغير منتظمة
٣. تسقط الأمطار في فصل الصيف في الجبل الاخضر في دولة عمان
٤. تسقط الأمطار في فصل الصيف في جبال عسير في السعودية.

قارن بين فصل الصيف وفصل الشتاء من حيث درجة الحرارة  
واهم ما يميز كل فصل :-

وجه المقارنة	فصل الصيف	فصل الشتاء
درجة الحرارة	أكثر من ٤٠ درجة مئوية	أقل من ٤ درجات
أهم ما يميز كل فصل	فصل طويل يمتد لمعظم شهور السنة وهو حار جاف ورطب خاصة في المناطق الساحلية.	فصل قصير جدا ويمتاز بالدفء.

اذكر أنواع الرياح التي تهب على دول الخليج العربية ؟

١. الرياح الشمالية الغربية
٢. الرياح الجنوبية الشرقية. (الكوس)
٣. الزوايع الترابية. (الغبار)



حدد اتجاه الرياح على  
خريطة شبه الجزيرة العربية :

عرف المفاهيم التالية ::

١. المناخ : حالة الجو في مكان ما خلال فترات زمنية طويلة.
٢. الكوس : هي الرياح الجنوبية الشرقية.
٣. الواحة : هي منطقة تقع في الصحراء فيها مياه عذبة صالحة للزراعة

## الوحدة الاولى : دول الخليج العربية تتأثر ببيئتها الصحراوية والبحرية (الحياة النباتية والحيوانية)

أكمل العبارات التالية :

١. تقوم حرفة الرعي علي وجود النباتات المعمرة

علل لما يأتي

١. الحياة النباتية والحيوانية فقيرة في دول الخليج العربية.  
ج) لقلّة الأمطار والمياه



ما لذي تتوقع حدوثه لو كانت منطقة الخليج العربية تتميز بكثرة الأمطار والمياه؟  
ج) لأصبحت الحياة الحيوانية والنباتية متنوعة وغنية في دول الخليج العربية

٢. توفر النباتات المعمرة طول العام في دول الخليج العربية.

ج) ١. تتحمل الجفاف ٢. تتحمل ارتفاع درجة الحرارة.

حل آخر

٣. توفر النباتات المعمرة طوال العام في دول الخليج العربية

ج) لأن جذورها طويلة واوراقها قليلة واشواكها كثيرة تخزن المياه في أوراقها  
( لتكيفه مع البيئة الصحراوية )

• تنقسم النباتات في دول الخليج العربية إلى نوعين :-

١. نبات معمر ٢. نبات حولي

• قارن بين النبات المعمر والنبات الحولي من حيث التعريف والأنواع :-

وجه المقارنة	نبات معمر	نبات حولي
التعريف	نباتات متوفرة طول العام لأنها تتحمل الجفاف وارتفاع درجة الحرارة	نباتات يرتبط وجودها بموسم سقوط المطر
الأنواع	الصبار والعرفج والشدأ والرمث	الخبيزة والحويذان والعنصل

يمكن أن يطرح بصيغة أكمل المخطط السهمي

اذكري انواع الحيوانات التي تعيش في دول الخليج العربية

١. يربيه الإنسان مثل الأغنام والماعز والإبل .

٢. حيوانات غير مستأنسة مثل السحالي والثعابين والضب .

٣. حيوانات برية مثل الغزلان والثعالب والذئاب والضباع والأرانب .

صنف الكلمات لتالية في الجدول :

ضب - أرنب - ماعز

حيوانات مستأنسة	حيوانات برية	حيوانات غير مستأنسة

ظلل الكلمة التي لا تنتمي الى المجموعة :

حيوانات مستأنسة

حيوانات برية

نباتات معمرة





## الخصائص البشرية لمنطقة الخليج العربية قديما

أ) عللي لما يأتي :	
١. لفقر البيئة	كانت حياة السكان في البيئة الصحراوية لدول الخليج العربية قاسية وخشنة .
٢. قلّة الموارد الطبيعية	انصرف سكان دول الخليج العربي عن حرفة الغوص .
١. اكتشاف النفط	ممارسة سكان دول الخليج العربية للأنشطة التجارية .
٢. ظهور اللؤلؤ الصناعي	سفينّة البغلة من أفضل أنواع السفن المستعملة في رحلة السفر .
١. لمتانتها وقدرتها على نقل الحمولة الكبيرة .	
٢. تمتاز بقلّة تعرضها للأخطار البحرية	
ب) أجب على الأسئلة التالية	
١. الرعي ٢. الزراعة ٣. الحرف اليدوية ٤. التجارة البرية	عددي أنواع الأنشطة البرية لسكان الخليج العربي :-
صناعة السدو / صناعة الخوص / صناعة البشوت	اذكري أنواع الحرف اليدوية لأبناء الخليج العربية :-
١. صيد الأسماك ٢. الغوص على اللؤلؤ ٣. صناعة السفن ٤. التجارة البحرية	عددي أنواع الأنشطة البحرية لسكان دول الخليج العربي :-
١. الميذار ٢. الحظرة ٣. القرقور	اذكري وسائل صيد الأسماك قديما :-
هامور - زبيدي - نقرور - ميد - صبور	اذكري أنواع الأسماك الخليجية التي تتوافر في الأسواق :-
الأخشاب والأغذية مثل الشاي والأرز والسكر والتوابل .	عدد البضائع التي تبادلها أبناء الخليج العربية مع الهند واليمن وسواحل شرق أفريقيا
مقابل التمور - لؤلؤ	عدد أنواع سفن الغوص والتجارة :-
البوم \ البغلة \ السنوك \ الجالبوت \ شعوي	

## ج. ماذا يعني لك الجمع بين هذه الكلمات :

- هامور + زبيدي + ميد = ..... أسماك الخليج .....
- الميذار + الحظرة + القرقور = ..... أدوات الصيد .....
- البوم + البغلة + الجالبوت = ..... سفن .....

## د. صنف الأنشطة التالية حسب مكانها في الجدول :

صناعة السدو / الرعي / صيد الأسماك / الغوص على اللؤلؤ / صناعة الخوص / الزراعة

الحرف اليدوية	الأنشطة البحرية	الأنشطة البرية
صناعة السدو	صيد الأسماك	الرعي
صناعة الخوص	الغوص على اللؤلؤ	الزراعة



بماذا تفسر انصراف سكان دول الخليج العربي عن حرفة الغوص .  
ظهور النفط - اكتشاف اللؤلؤ الصناعي - لأنها مهنة شاقة  
ماذا لو لم يظهر النفط واللؤلؤ الصناعي عند دول الخليج العربية  
استمروا بالعمل بالأنشطة البحرية والبرية - لم تنهض أو تتقدم بشكل كبير / بعيدة عن المطامع

## ج) أكمل الفراغات التالية :

- ❖ اعتمد الاقتصاد قديما اعتماد رئيسي على حرفة الغوص
- ❖ الحرفة المكملّة للأنشطة البحرية هي صناعة السفن
- ❖ استمر موسم الغوص أربعة أشهر
- ❖ يبدأ موسم الغوص من أوائل الصيف شهر يونيو (٦) وينتهي شهر سبتمبر .

## أفراد طاقم السفينة :-

المفهوم	التعريف
النوخذة	ربان السفينة
المجدمي	رئيس البحرية
الغواص	يغوص في أعماق البحار بحثاً عن اللؤلؤ
السيب	يسحب الغاصّة من أعماق البحار
النهام	مطرب السفينة
الرضيف	صغار السن وهو المساعد للسيب في السفن الكبيرة
التبابة	هم الصبية الذين يعملون على ظهر السفينة لاكتساب الخبرة ويقومون ببعض الأعمال مثل مناولة المياه
الطواش	هم تجار اللؤلؤ
الدشه	بداية موسم الغوص .
القفال	نهاية موسم الغوص .
القلاف	صانع السفينة .
المسطحات المائية	جميع أشكال المياه على سطح الأرض مثل الخليجان والبحار والمحيطات .
المياه الجوفية	هي المياه التي توجد في باطن الأرض .
القرقور	وسيلة قديمة لصيد الأسماك / من أدوات الصيد قديماً



## اختر الاجابة الصحيحة :

تسقط الأمطار على دول الخليج في فصل :			
الصيف	الشتاء	الربيع	الخريف
يستمر موسم الغوص عن اللؤلؤ :			
شهرين	ثلاثة أشهر	أربعة أشهر	خمسة أشهر

أ) - صنف الاعمال التالية حسب مكانها الجدول التالي:-

(( السيب @ المجدمي @ النهام @ النوخذة @ الطواش ))

ربان السفينة	رئيس البحرية	يسحب الغواص	تاجر اللؤلؤ	مطرب السفينة
النوخذه	المجدمي	السيب	الطواش	النهام

## حضارات منطقة الخليج العربية قديماً

## أ. أكمل العبارات التالية :

١. ترجع حضارات منطقة الخليج العربية إلى أربعين قرناً .
٢. عرف الخليج العربي قديماً باسم بحر شروق الشمس أو البحر الأدنى .
٣. عثر على العديد من أفران المعادن التي اشتهرت بها حضارة مجان في دولة عمان .
٤. ظهرت الحضارة الهلينستية في جزيرة فيلكا في دولة الكويت .
٥. ظهرت حضارة دلمون في البحرين .
٦. ظهر الإسلام في منطقة الخليج العربية في القرن السابع



## بد عرف التالي :

- ✓ الحضارة : هي إبداع الإنسان وإسهاماته في تطور وتقدم ورقي مجتمعه في جميع نواحي الحياة وحل مشاكله .
- ✓ القرن : يساوي ١٠٠ سنة


ج- أجب على الاسئلة التالية :	
عدد العوامل التي ساعدت على قيام الحضارات في منطقة الخليج العربية:-	١. الموقع المتميز ٢. توفر أبار المياه ٣. البيئة الطبيعية الملائمة
اذكر المعالم الأثرية للحضارة الإسلامية في منطقة الخليج العربية :-	١. متحف دار القرآن في البحرين ٢. متحف الشارقة للحضارة الإسلامية ٣. دار الآثار الإسلامية في الكويت .
عدد مظاهر الحضارة الإسلامية	١. الصناعة ٢. العمران ٣. الفن

ت	السؤال
1	مهنة الزراعة من أشهر الحرف التي مارسها أبناء دول الخليج العربي قديما (X)
2	لعب الخليج العربي دورا كبيرا في التاريخ القديم (✓)
3	لم يساعد موقع الخليج العربي على إنشاء علاقات تجارية مع المناطق المجاورة (X)
4	تسقط الأمطار على الخليج العربي في فصل الصيف (X)
5	لا يطل الوطن العربي على مسطحات مائية (X)
6	وصل سكان دول الخليج في تجارتهم البحرية إلى شبه القارة الهندية (✓)
7	ظهرت في منطقة الخليج العربي حضارات متعددة (✓)
8	ظهر الإسلام في القرن السابع الميلادي (✓)
9	شارك أبناء منطقة الخليج في نشر الإسلام (✓)
10	تأثر سكان منطقة الخليج العربي بمظاهر الحضارة الإسلامية (✓)

(ب) - صنف المظاهر التالية حسب مكانها في الجدول التالي:-

(( بناء المساجد @ الحلي الذهبية @ الأواني الفخارية والخزف @ الخزف ))

العمران	الصناعة	الفن
بناء المساجد	الحلي الذهبية الأواني الفخارية	الخزف



شكل ( ١٥ ) صور توضح مظاهر الحضارة الإسلامية

### أ. أكمل العبارات التالية

١. يطلق على قارة آسيا وقارة أفريقيا وقارة اوربا اسم العالم لقديم.
٢. المنطقة التي هاجر منها العتوب من الخليج العربي هي منطقة الهدار بد صنف الهجرات التي حدثت في الخليج العربي

الكويت	البحرين	قطر	عمان	رأس الخيمة	أبو ظبي
ال صباح	(ال خليفة)	المعاضيد	ال البوسعيد واليعاربة	القواسم	بني ياس

ج۔ علل لما یأتی (بما تفسر)

- ١- لموقع الخليج العربي أهمية كبيرة (مميزات الوطن العربي)  
 .يخترق قلب العالم القديم - يطل على العديد من المسطحات المائية  
 .مارس دورة كوسيط تجاري ومركز تجاري مما أدى الى قيام موانئه بممارسة أنشطة بحرية متنوعة.  
 ٢- بدأت مرحلة جديدة لدول الخليج العربية في تأثيرها في السياسة الدولية.  
 لاكتشاف النفط والبدء في تصديره.  
 (د) :- قارن بين الحضارات التي قامت في دول الخليج العربي من حيث :-

وجه المقارنة	الدولة التي قامت فيها	مظاهر الحضارة
حضارة دلمون	البحرين	اختتام دلمون
حضارة مجان	سلطنة عمان	أفران صهر المعادن
الحضارة الهلنستية	الكويت	بعض الآثار

هـ- استعن بالأشكال التالية ثم رتب أحداث هجرة آل الصباح بكتابة الرقم في المكان المناسب:


$$(\dots \mathfrak{z} \dots)$$
$$(\dots)$$

( ..... ٣ ..... )

و- صل بين الكلمة والصورة الدالة عليها لأنواع التشابه الثقافي بين دول الخليج العربي :

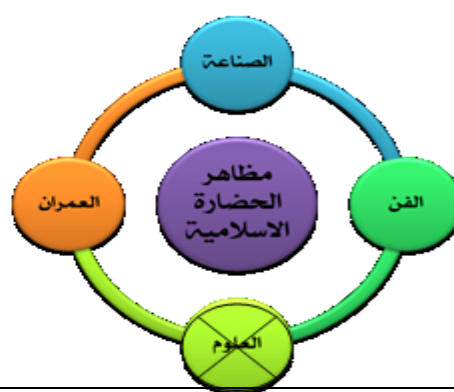


(اللغة العربية)

( التاريخ المشترك )

( العادات والتقاليد )

ي. ظلل الكلمة التي لا تنتمي إلى كل من المجموعات التالية:



لا تغنى

### المنافسة الاستعمارية الأوروبية على الخليج العربي

#### أ. أكمل العبارات التالية :

١. بدأت المنافسة الاستعمارية لمنطقة الخليج العربية منذ القرن ١٥
  ٢. أول دولة أوروبية وصلت للخليج العربي واحتلت أجزاء مهمة لفترة زمنية تسمى البرتغال
  ٣. بدأت مرحلة جديدة في منطقة الخليج العربية باكتشاف النفط
  ٤. الشيخ الذي وقع على اتفاقية الحماية البريطانية يسمى الشيخ مبارك الصباح
  ٥. الشيخ الذي وقع على وثيقة الاستقلال يسمى الشيخ عبدالله السالم الصباح
  ٦. الاسلوب الذي اتبعته بريطانيا لاستعمار الكويت يسمى معاهدة
  ٧. تم توقيع اتفاقية الحماية عام ١٨٩٩م
- بدعرف التالي :
- الاستعمار : هو أن تسيطر دولة قوية على دولة ضعيفة بهدف استغلال موقعها ومواردها .

#### ج. علل لما يأتي

- ١- تنافس الدول الاستعمارية على منطقة الخليج العربية .
- لأهمية موقع الخليج العربي وأهميته استغلاله .
- د- أجب على الاسئلة التالية :
- ١/ أعيد ترتيب الدول الاستعمارية على منطقة الخليج العربية .
- ١/ البرتغال ٢/ هولندا ٣/ إنجلترا (الانجليز)
- ٢/ ماهي الأساليب التي اتبعها الاستعمار للسيطرة على دول الخليج العربية ؟
١. المعاهدات ٢. الاتفاقيات

البنود	معاهدة الحماية
السنة	١٨٩٩
أطراف المعاهدة	الكويت X بريطانيا
الظروف التي دفعت الشيخ مبارك على توقيع اتفاقية الحماية البريطانية	خوفه من الأخطار الخارجية .

#### مرحلة الاستقلال والتطور



البنود	وثيقة الاستقلال
السنة	١٩ يونيو ١٩٦١م
الأطراف	الكويت X بريطانيا

#### أ. عرف

الاستقلال : عبارة عن مسؤولية الدولة عن إدارة شؤونها الداخلية والخارجية الديمقراطية : حكم الشعب لنفسه .

بد أكمل التالي :

١. تم إلغاء معاهدة الحماية في عهد الشيخ عبد الله السالم الصباح
٢. وقع على وثيقة الاستقلال الشيخ عبد الله السالم الصباح
٣. الدولة الخليجية التي لم تخضع للاستعمار هي السعودية وسنة استقلالها ١٩٣٢
٤. البحرين وقطر وعمان والإمارات تمتعوا باستقلالهم في عام ١٩٧١.
٥. الكويت أول دولة خليجية نالت استقلالها في عام ١٩٦١.
٦. تم اصدار وثيقة الدستور الكويتي في عام ١٩٦٢م
٧. اصدرت منظمة الامم المتحدة الاعلان الرسمي لحقوق الانسان عام ١٩٤٨م
٨. استمدت دول الخليج العربية مبادئ حقوق الانسان من الشريعة الاسلامية.

ج. علل : شهدت دول الخليج العربية نهضة عمرانية هائلة وتقدما كبيرا .  
١. بسبب استقلالها ٢. امتلاكها الكامل لثروة النفطية .



قيام مجلس التعاون لدول الخليج العربية

أ. عرف :

مجلس التعاون لدول الخليج العربية : هو عبارة عن منظمة سياسية اقتصادية إقليمية تضم ست دول عربية خليجية .

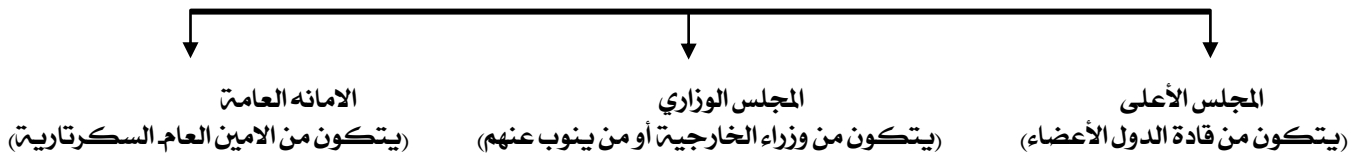
بد أكمل العبارات التالية :

١. أعلن قيام مجلس التعاون الخليجي ٢٥ مايو ١٩٨١ في مدينه أبو ظبي في الإمارات .
٢. يقع مقر مجلس التعاون الخليجي في مدينه الرياض في السعودية.
٣. عدد الدول الأعضاء في مجلس التعاون لدول الخليج العربية ستة دول

ج. علل: تم إنشاء مجلس التعاون الخليجي .

❖ لما بين الدول الأعضاء من علاقات خاصة وصفات مشتركة وأنظمة متشابه وأساسها وحدة التراث والعقيدة.

٤. ينقسم الهيكل التنظيمي لمجلس التعاون لدول الخليج العربية كالتالي:



ماهي الصفات المشتركة بين دول مجلس التعاون الخليجي :-

التراث \ الدين الاسلامي \ المصالح المشتركة \ العادات والتقاليد \ اللغة العربية



### مجلس التعاون لدول الخليج العربية

#### أ- أكمل العبارات التالية :

- صاحب فكرة انشاء مجلس التعاون لدول الخليج العربية هو الشيخ جابر الاحمد الصباح
- العام الذي وجه فيه الشيخ جابر الاحمد فكرة مجلس التعاون ١٩٧٦م



#### بد اجب على الاسئلة التالية :

- ١/ ما الاسم الذي أطلق على القمة السابعة والعشرين لمجلس التعاون الخليجي ؟
- ❖ قمة الشيخ جابر الأحمد الصباح رحمه الله وكانت في ٢٠٠٦/١٢/١٠
- ٢/ عللي تسمية القمة الخليجية السابعة والعشرين لمجلس التعاون الخليجي بقمة الشيخ جابر الاحمد
- ❖ تقديرا لجهود الشيخ جابر الاحمد رحمه الله في انشاء المجلس .

ماذا تمثل هذه الصورة :  
مجلس التعاون الخليجي



شكل (٢١) صورة توضع آخر اجتماعات مجلس التعاون الخليجي



ماذا يمثل الشعار (أ)

يمثل شعار مجلس التعاون لدول الخليج العربية

ماهي العناصر التي يحتويها الشعار ؟

البسملته / خريطة محدده لموقع دول الخليج العربية / ألوان الأعلام المشتركة  
مع اللون الأزرق دلالة على الخليج العربي كرابط بين هذه الدول

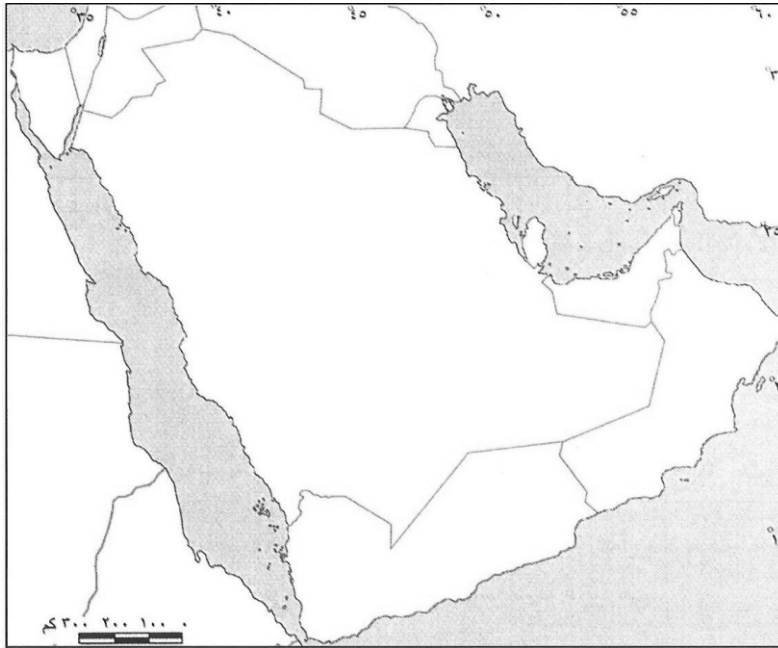
إنجازات مجلس التعاون لدول الخليج العربية	أهداف مجلس التعاون لدول الخليج العربية :-
<ol style="list-style-type: none"> <li>١. إقامة الاتحاد الجمركي .</li> <li>٢. انطلاق السوق الخليجي المشترك في عام ٢٠٠٨ م.</li> <li>٣. التنسيق في المجال السياسي في المحافل الدولية لكل القضايا التي تهم المجلس .</li> <li>٤. وثيقة التطوير الشامل للتعليم .</li> <li>٥. اتفاقية الدفاع المشتركة واستمرار تعزيز قوه درع الجزيرة</li> </ol>	<ol style="list-style-type: none"> <li>١. تحقيق التعاون بين الدول الأعضاء في جميع المجالات</li> <li>٢. تحقيق الترابط والصلات بين دول مجلس التعاون .</li> <li>٣. العمل على تقدم دول مجلس التعاون في المجال العلمي .</li> </ol>



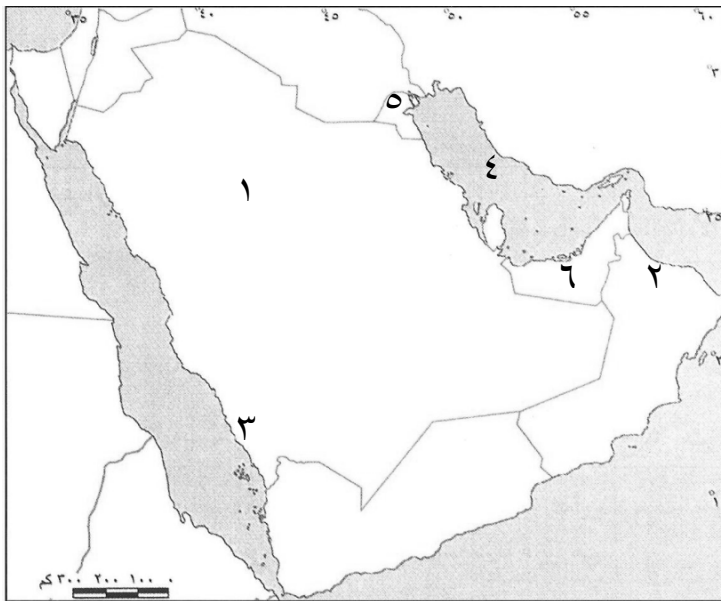
## تدريب على التحديد والاستخراج من الخريطة

أهم النقاط التي يمكن تحديدها على الخريطة حدد على خريطة شبه الجزيرة العربية

- ❖ دول مجلس التعاون الخليجي :-
- ❖ ١. الكويت ٢. البحرين ٣. السعودية ٤. الإمارات ٥. قطر ٦. عمان
- ❖ مقر مجلس التعاون الخليجي ( أ. الرياض ) الدولة التي أعلنت قيام مجلس التعاون (ب - أبو ظبي )
- ❖ الحضارات (دلمون - مجان هيلينستية )
- ❖ الدولة التي لم تخضع للاستعمار (السعودية) - أول دولة تحررت من الاستعمار ( الكويت )
- ❖ أسماء المسطحات المائية ( الخليج العربي - البحر الأحمر )
- ❖ الهجرات



( ب ) امامك ربطة شبه الجزيرة العربية اجيب عما يلي:



- (الرقم ١) يمثل هضبة تسمى .....نجد.....
- (الرقم ٢) يمثل جبل يسمى.....الاحضر.....
- (الرقم ٣) يمثل سهل يسمى .....تهامة .....
- (الرقم ٤) يمثل مسطح مائي يسمى...الخليج العربي.....
- (الرقم ٥) يمثل تلال تسمى .....جال الزور.....
- (الرقم ٦) يمثل دولة خليجية تسمى .....الامارات.....



## نماذج من " تحليل فقرة "

( أ - ) اقرأ القطعة التالية ثم أجب عن الأسئلة التي تليها :-

يعتبر مناخ دول الخليج العربي مشابه من حيث أن مناخ من النوع الصحراوي الحار، وأن من خلال المناخ يمكن معرفة حالة الجو خلال فترة زمنية كما تهب على دول الخليج العربي عدة أنواع من الرياح لذلك نجد أن الأمطار التي تسقط في فصل الشتاء قليلة و غير منتظمة.

عرف ما تحته خط ؟ ..... ( حالة الجو في مكان ما خلال فترة زمنية طويلة )  
 ما نوع المناخ في دول الخليج العربي ؟ ..... ( صحراوي حار )  
 اذكر أنواع الرياح التي تهب على دول الخليج العربي ؟ ..... ( رياح شمالية - جنوبية - زوابع ترابية )  
 عدد المناطق الخليجية التي تسقط فيها الأمطار صيفا ؟ ..... ( الجبل الأخضر - جبال عسير والحجاز )  
 قارن بين درجة الحرارة في الصيف والشتاء في دول الخليج العربي ؟  
 صيفا ..... ( ترتفع درجة الحرارة أكثر من ٤٠ درجة مئوية وهو صيف طويل حار )  
 شتاء ..... ( تنخفض درجة الحرارة أقل من ٤ درجات مئوية وهو شتاء قصير دافئ )

( ب ) أقرأ القطعة التالية ثم أجب عن الأسئلة التي تليها :-

نظرا لقلّة الأمطار في الخليج العربي فالحياة النباتية والحيوانية فقيرة بصفة عامة وأغلبها نباتات صحراوية قادرة على تحمل الجفاف ، وينقسم النبات الطبيعي في دول الخليج العربية إلى نباتات حولية ونباتات معمرة.

١- عرف ماتحته خط ؟

- أ- نباتات حولية ..... ( نباتات يرتبط وجودها بموسم سقوط الأمطار )
- بعض الأمثلة عليها ..... ( الخيزرة - الحويذان - العنصيل )
- ب- نباتات معمرة ..... ( نباتات متوفرة طوال العام )
- بعض الأمثلة عليها ..... ( الصبار - العرفج - الشدة - الرمث )
- ٢- يعيش في دول الخليج العربي حيوانات متشابهة هات بعض الأمثلة عليها ؟
- أ- حيوانات مستأنسة ..... ( الأغنام - الماعز - الإبل )
- ب- حيوانات غير مستأنسة ..... ( السحالي - الثعابين - الضب )
- ج- حيوانات برية ..... ( الغزلان - الثعالب - الذئاب - والضباع - الأرانب )

اقرأ الفقرة التالية ثم أجب عن الأسئلة التي تليها :

(( أعلن قيام مجلس التعاون لدول الخليج العربية في ٢٥ مايو - عام ١٩٨١م في مدينة أبوظبي وضم ٦ دولاً خليجية واتخذ من الرياض مقراً له وساعد إنشاء الصفقات المشتركة والانظمة المتشابهة والمصالح المشتركة والاهداف السامية ويتكون المجلس من هيكل تنظيمي يضم المجلس الأعلى والمجلس الوزاري والأمانة العامة )) .

- اكتب آية من القرآن الكريم تدعو للتجمع وعدم الفرقة حسب دراستك للمقرر ؟

• ﴿وَتَعَاوَنُوا عَلَى الْبِرِّ وَالتَّقْوَىٰ وَلَا تَعَاوَنُوا عَلَى الْإِثْمِ وَالْعُدْوَانِ﴾. [سورة المائدة : ٢].

- سجل اثنين من الهيكل التنظيمي للمجلس ؟ المجلس الأعلى والمجلس الوزاري والأمانة العامة (( .

مع تمنياتنا لكم بالتوفيق والنجاح ،،،،،  
 تنبيه / المراجعة لا تغني عن الكتاب المدرسي