

بنك أسئلة



معلومات

الاجتماعيات

الصف السادس

الفصل الثاني 2020

أهم المصطلحات والتعريفات

المصطلح	التعريف والمعنى
الثقافة	هي مجموعة من العادات والتقاليد والأخلاقيات في مجتمع من المجتمعات
الترانزيت	اعادة تصدير البضائع المستوردة
الصادرات	السلع والمنتجات التي تبيعها دولنا في الخارج
الواردات	البضائع والسلع التي تشتريها دولنا من الخارج
الكثافة السكانية	عدد السكان في الكيلومتر المربع وتقاس بقسمة عدد السكان على مساحة الدولة
السلالة	مجموعة من الناس تشترك فيما بينها في الصفات الجسمانية الرئيسية كلون الجلد وشكل الانف وشكل الشعرو طول القامة وما إليها وتختلف عن غيرها من السلالات في هذه الصفات.
إنتاج النفط	كميات النفط التي يتم استخراجها للاستفادة منها .
احتياطي النفط	كميات النفط المخزونة في باطن الأرض .
الصناعة	تحويل المواد الخام الى مواد مصنعة يمكن الاستفادة منها
الدخل القومي	مجموع الدخول التي تحصل عليها الدولة خلال عام
الزراعة بدون تربة	هي الزراعة التي تتم في بيئة مائية أو رملية أو حصا أو نشارة خشب .

تابع أهم المصطلحات والتعريفات في المنهج

بيوت بلاستيكية	يزرع فيها الخضروات في غير مواسمها وتقوم بحماية المحاصيل من تقلبات الطقس .
التلوث	هو الضرر الذي يصيب عناصر البيئة الأساسية (هواء-ماء -تربة) فتنحول من عناصر مفيدة الى عناصر ضارة .
الضوضاء	تفسد طبيعة الهواء من هواء هادئ مفيد الى هواء مزعج ضار وللضوضاء أخطار نفسية وجسمانية تصيب الإنسان.
تلوث التربة	دخول مواد غريبة في التربة مما يلحق الضرر في خواصها ومكوناتها.
طبقة الأوزون	هي درع واقى للأحياء ضد خطر الأشعة فوق البنفسجية الضارة
التلوث المائي:	هو أحداث افساد لنوعية المياه من خلال ادخال مواد ضارة للمياه من قبل الانسان .
التلوث البحري	ضخ النفط في مياه الخليج العربي
التلوث الهوائي	حرق الآبار – اصابة السكان بأمراض صحية
التلوث الأرضي	تدمير الحياة النباتية
العمالة المنزلية:	مجموعة من الأفراد الذين يشاركون الأسرة في دور أو أكثر داخل المنزل أو خارجه من المربيات والطباخين والسائقين والخدم .
العنف:	هو ذلك السلوك العدو الى التدميري الموجه ضد الغير والذي يتسم بالتخريب والتدمير سواء كان ذلك أقوالا أو أفعالا .



الوحدة الثالثة : دول الخليج العربية تتطور اقتصاديا

(دول الخليج العربية تتطور اقتصاديا)

معلومات هامة على الوحدة

- 1- بدأ التنقيب عن النفط بدولة الكويت عام في الحقول الشمالية في حقل بحرة
- 2- يقع حقل شمال الكويت
- 3- تم تصدير أول شحنة من النفط عام
- 4- إنتاج النفط هو :
- 5- احتياط النفط :

تصدير النفط :

نتيجة إلى تزايد: الإنتاج الخليجي للنفط من

أسئلة عن تنوع المصادر الاقتصادية :

1- الموارد الزراعية هي :

-
- أهم المحاصيل الزراعية في دول مجلس التعاون: (.....)
- الزراعة بدون تربة هي :
- البيوت البلاستيكية :

2- الموارد الصناعية :

- ♦ اهتمت الحكومات في دول مجلس التعاون الخليجي بزيادة الدخل عن طريق
- ♦ بسبب اكتشاف النفط ازدهرت الصناعة – و بسبب اكتشاف النفط
- ♦ من أهم الصناعات القائمة على النفط (.....)

3- الموارد التجارية :

- ♦ ترتبط دول مجلس التعاون بعلاقات تجارية مع دول العالم متمثلة في الصادرات والواردات :
- ♦ الصادرات هي :
- ♦ الواردات : هي.....
- ♦ الترانزيت : هو

4- أهم الواردات الخليجية :

-
-
-
-
-
-

أهم الأسئلة الواردة في الوحدة الثالثة:

السؤال الأول : علل

1- ازدهار الصناعة في دول الخليج العربية؟

♦

2 – ما أهمية البيوت البلاستيكية؟

♦

السؤال الثاني : أكمل الفراغات التالية بما يناسبها: -

- 1- بدأ التنقيب عن النفط في الكويت عام:
- 2- أول الحقول التي تم اكتشافها في الكويت حقل نفطي يسمى
- 3- بدأ تصدير النفط للخارج عام
- 4- أهم الدول المستوردة للنفط الكويتي هي
- 5- اكبر دول الخليج العربية إنتاجا للنفط هي
- 6- كميات النفط المخزونة في باطن الأرض تعرف باسم
- 7- كميات النفط التي يتم استخراجها للاستفادة منها تعرف باسم
- 8- الدولة الخليجية التي لها تجربة رائدة في إنتاج القمح في
- 9- الزراعة التي تتم في بيئة مائية أو رملية أو حصى أو نشارة خشب تعرف باسم
- 10- يزرع فيها الخضروات في غير مواسمها (أوقاتها) وتقوم بحماية المحاصيل تسمى ..
- 11- تحويل المواد الخام إلى مواد مصنعة يمكن الاستفادة منها تسمى
- 12- مجموع الدخول التي تحصل عليها الدولة خلال عام تسمى
- 13- السلع والمنتجات التي تبيعها دولنا في الخارج تسمى
- 14- إعادة تصدير البضائع المستوردة يعرف باسم
- 15- البضائع والسلع التي تشتريها دولنا من الخارج
- 16- يوجد حقل الغوار النفطي في دولة تسمى
- 17- ميناء الأحمدى النفطي يوجد في دولة تسمى

السؤال الثالث :

أ- صنف الموانئ التالية حسب مكانها

(جبل الظنة - سترة - رأس تنوره - الفحل - امسيعيد - الأحمدى)

قطر	البحرين	الكويت	الإمارات	السعودية	عمان

ب- صنف حقول النفط التالية حسب مكانها :

(بوحصا - دخان - الروضتين - عوالي - الغوار - ناطح - مربان - خريص - فهود -
برقان)

الكويت	السعودية	البحرين	الإمارات	عمان	قطر

صنف المناطق الزراعية التالية حسب الدول التي تقع فيها) :

▪ (العبدلي - الإحساء - العين - سهل الباطنة - الوفرة - سهل تهامة - ليوا - صلالة)

الكويت	السعودية	الإمارات	عمان

السؤال الرابع : أجب عن الأسئلة التالية:

١- عدد أهم المحاصيل الزراعية في دول الخليج العربي

أ- ب - ج - د-

2- اكتب أنواع الصناعات القائمة على النفط في دول الخليج العربي؟

أ- ب - ج-

3- اكتب أهم الصادرات والواردات لدول الخليج العربي :

الواردات	الصادرات

الوحدة الرابعة

دول الخليج العربية تنمو سكانيا وتتشابه ثقافيا

معلومات هامة على الوحدة :

1. ترجع أصول السلالات السكانية في منطقة الخليج العربي: إلى جنس البحر المتوسط وشرق أفريقيا .
2. تشابه الآثار الحضارية يدل على وجود اتصال وتقارب بين سكان حوض الخليج العربية .
3. السلالة: هي مجموعة من الناس تشترك فيما بينها في الصفات الجسمانية الرئيسية كلون الجلد وشكل الأنف وشكل الشعر وطول القامة وما إليها وتختلف عن غيرها من السلالات في هذه الصفات .
4. الهجرات الخارجية : من آسيا وأفريقيا وأوروبا
5. الهجرات الداخلية : شمال نجد واليمن وشرق وشمال اليمن ونجد .
6. يربط حوض الخليج العربي بين قارات العالم القديم وهي قارة اسيا وافريقيا واوروبا
7. بسبب الموقع الجغرافي المتميز أصبح حوض الخليج العربي عامل جذب مميز للسكان .
8. بسبب الجفاف وقسوة المناخ أصبحت شبه الجزيرة العربية طاردة للسكان.
9. النمو السكاني : هو تزايد عدد السكان من عام إلى آخر بسبب الزيادة الطبيعية .
10. عدد السكان في دولة الكويت ودول الخليج العربية في تزايد مستمر بسبب الزيادة الطبيعية (عدد المواليد + عدد الوفيات) والزيادة غير الطبيعية بسبب الهجرة .
11. ازدادت أعداد السكان في منطقة الخليج العربي بسبب اكتشاف النفط .

أسئلة هامة على الوحدة: □

السؤال الأول: علل

1- تشابه الآثار الحضارية في منطقة الخليج العربية ؟

♦

2- استقبل حوض الخليج العربي موجات سكانية من كل المناطق المجاورة؟

3-

4- التشابه الثقافي بين سكان دول الخليج العربي ؟

•

•

•

4- عدد السكان في الكويت ودول الخليج العربي في تزايد مستمر؟

♦

♦

5- ازدياد أعداد الوافدين لدول الخليج العربية ؟

♦

♦

6- الكثافة السكانية تبدو منخفضة في منطقة الخليج العربية قديما ؟

⊖ بسبب الفقر الشديد

السؤال الثاني : أكمل الفراغ:

- 1- ترجع أصول السلالة السكارية في منطقة الخليج العربية إلى جنس البحر المتوسط
- 2- توجد حضارة هيلي في دولة تسمى
- 3- الحضارة التي توجد في البحرين تسمى
- 4- قدوم السكان من آسيا وأوروبا وأفريقيا يسمى
- 5- خروج السكان من قلب الجزيرة العربية إلى سواحل الخليج العربي تسمى
- 6- أكبر دولة في عدد السكان في العالم هي
- 7- أقل الدول سكاناً في العالم هي
- 8- عدد المواليد - عدد الوفيات تعرف باسم
- 9- الزيادة عن طريق الهجرة تعرف باسم الزيادة
- 10- أعلى دولة خليجية في نسبة المواطنين في
- 11- أصبحت منطقة الخليج منطقة جذب للسكان بعد
- 12- عدد السكان في الكيلو متر المربع الواحد تعرف باسم

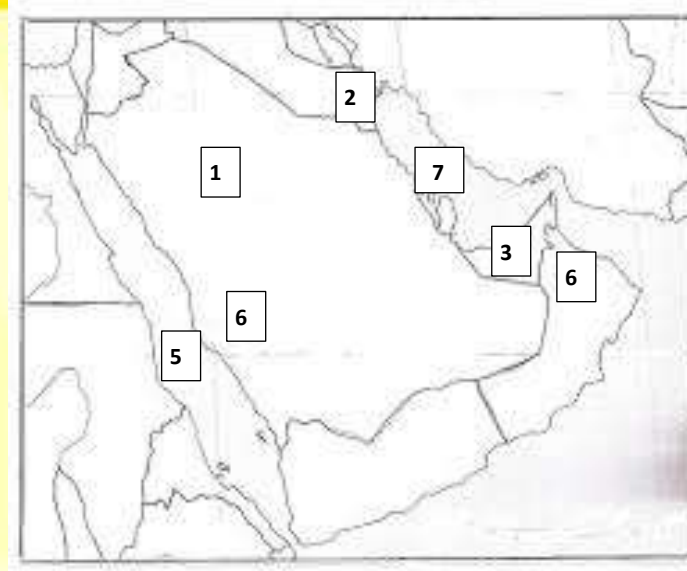
السؤال الثالث : وزع الحضارات التالية في مكانها :

((دلمون - تاروت - هيلي - أم النار - وديا))

قطر	البحرين	السعودية	عمان	الامارات

السؤال الرابع :

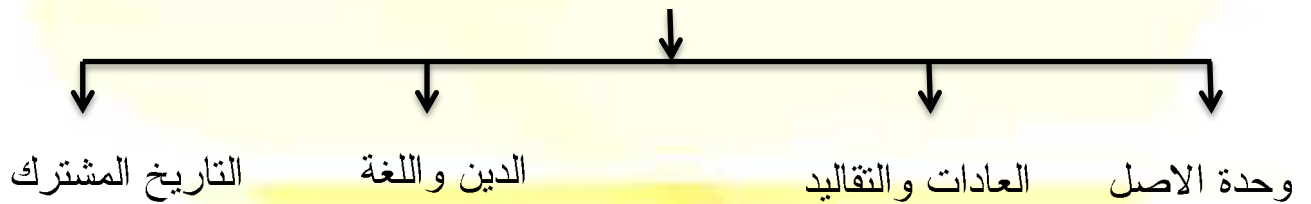
أمامك خريطة صماء لدول الخليج العربي ، اكتب مدلولات الأرقام التي عليها :



- -1
- -2
- -3
- -4
- -5

أكمل المخططات السهمية التالية

1-التشابه الثقافي بين دول الخليج العربية



الوحدة الخامسة

الكويت ودول الخليج العربية في مواجهة التحديات

معلومات هامة ومفيدة:

1- تتعاون دولة الكويت مع دول الخليج العربية من أجل تحقيق أهداف مشتركة مثل:

.....

.....

.....

2- المشكلات التي تواجه دول الخليج العربية:

المشكلات السيئة مثل:

.....

.....

.....

.....

1- المشكلات الاجتماعية مثل:

.....

.....

❖ مجالات التعاون السياسي بين دول الخليج:

.....

.....

❖ مجالات التعاون العسكري:

.....

.....

❖ مجالات التعاون الاقتصادي:

1-

2-

❖ مجالات التعاون الاقتصادي:

1-

أهم الأسئلة في الوحدة

السؤال الأول :

أكمل العبارات التالية بما يناسبها من كلمات :

- 1- تم إعلان قيام السوق الخليجية المشتركة عام م.
- 2- تأسست قوات درع الجزيرة عام.....
- 3- قبول أبناء دول مجلس التعاون في الكليات العسكرية من صور التعاون
- 4- الغاز الذي أدى إلى تلوث منطقة الشعبية عام 1976 م
- 5- يبلغ عدد الآبار النفطية التي حرقها العدوان العراقي حوالي..... بئر نفطي
- 6- تربية الطفل الخاطئة والإحباط يؤدي

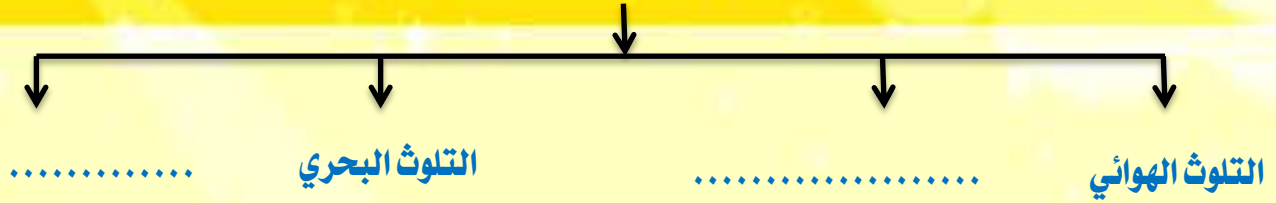
السؤال الثاني :

اختر الإجابة الصحيحة من بين البدائل التالية:-

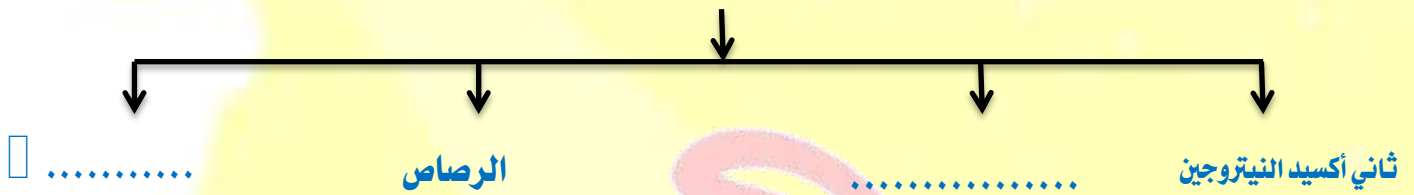
- 1- صدر إعلان الدوحة لقيام السوق المشتركة عام (٢٠٠٩ - ٢٠٠٧ - ٢٠٠٨ - 2009 م)
- 2- يقع مقر مكتب التربية العربي في مدينة الدوحة - الرياض - مكة المكرمة - أبوظبي
- 3- تقدر كمية أول أكسيد الكربون المنبعثة من عوادم السيارات بالكويت حوالي: (165-265-365-465) ألف طن سنوياً
- 4- وقع الغزو العراقي على دولة الكويت عام (١٩٩٠ م - ١٩٩١ م - ١٩٩٢ م - ١٩٩٣ م)
- 5- اعلي نسبة طلاق توجد في دولة (الكويت - السعودية - الإمارات - قطر)

المخططات السهمية (هام جدا)

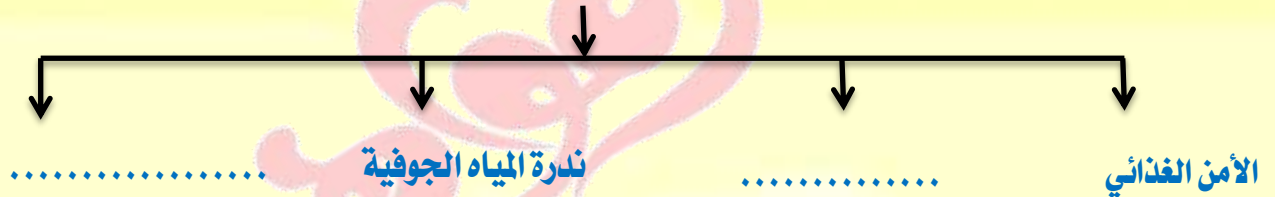
أنواع التلوث



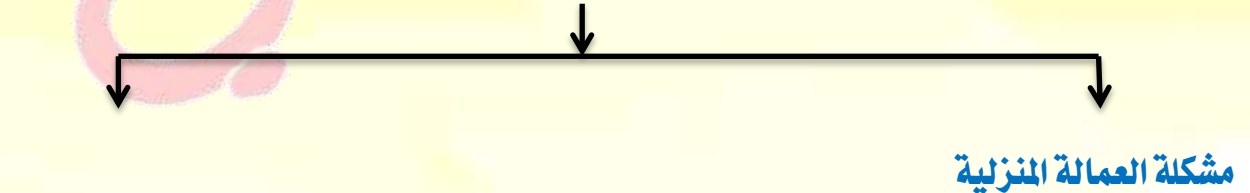
أسباب التلوث



التحديات التي تواجه دول مجلس التعاون



5-المشكلات الاجتماعية بدول الخليج العربية



السؤال الثالث

١- اختر من القائمة (أ) ما يناسبها من القائمة (ب) بوضع الرقم في المكان

المناسب :

القائمة (أ) الدولة	الرقم	القائمة (ب) حقول النفط
1- التلوث البحري		أول أكسيد الكربون
2- التلوث الضوضائي		النفط ومشتقاته
3- التلوث الهوائي		اجهزة التسجيل

السؤال الرابع :

صنف مظاهر التعاون الخليجي التالية حسب الجدول المرفق:

الموقف الموحد للمشكلات السياسية
 درع الجزيرة - درع
 الاحتلال العراقي - مناصرة فلسطين - التبادل التجاري - توحيد المناهج التعليمية - زيادة العلاقات
 الاقتصادية - إنشاء مكتب التربية العربية - السياسات التربوية الموحدة - قبول أبناء دول مجلس
 التعاون في الكليات العسكرية التعاون السياسي التعاون الاقتصادي التعاون العسكري التعاون الثقافي

التعاون السياسي	التعاون الاقتصادي	التعاون العسكري	التعاون الثقافي

السؤال الخامس : علل ما يأتي

- (1) يجمع دول الخليج العربية التاريخ المشترك
..... ■
- (2) تأسس قوات درع الجزيرة عام 1984 م
..... ■
- (3) للسيارات أثار ضارة في تلوث الهواء بدوة الكويت
(4)
- (5) عاني سكان الشعبية الصناعية من الأم الزور والتنفس عام 1976 م
(6)
- (7) ارتفاع نسبة الطلاق في دول الخليج العربية
(8)
(9)
(10)
(11)
- (12) تعرض مياه الخليج العربي للتلوث
(13)
- (14) تزايد حالات العنف لدى المتعلمين في السنوات الأخيرة
(15)
(16)
(17)

السؤال السادس

اجب على الأسئلة التالية :

أ- اذكر الفوائد المرجوة من التعاون بين دول الخليج العربية؟

.....
.....
.....
.....
.....

ب- ما النتائج المترتبة علي تلوث التربة ؟

.....
.....
.....
.....

ت- اذكر المصادر الطبيعية وغير الطبيعية لتلوث الهواء ؟

.....
.....
.....
.....

ث- أسباب التلوث البحري ؟

.....
.....
.....
.....
.....

ج- عدد مظاهر التلوث الناجمة عن الغزو العراقي ؟

.....
.....

-
-

ح- اذكر أهم وظائف العمالة المنزلية ؟

- أ- ب - ج -
د- هـ- و-

خ- الأسباب التي تؤدي للعنف

- أ-
ب-
ت-

السؤال السابع

أكمل الجدول التالي

حلول مشكلة العنف	حلول مشكلة العمالة المنزلية