

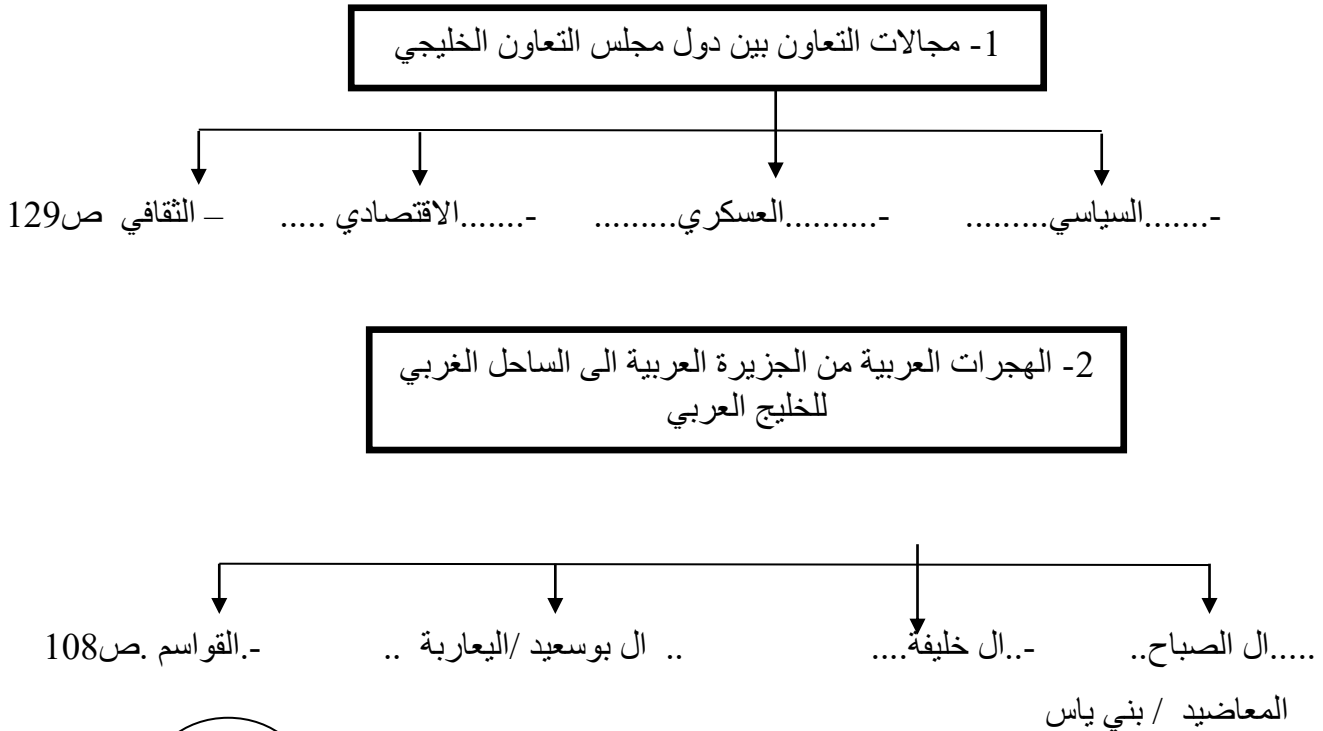
السؤال الأول : يتكون من (أ - ب)

نموذج الاجابة

(أ) : أكمل العبارات التالية بما يناسبها :- (6=1× 6)

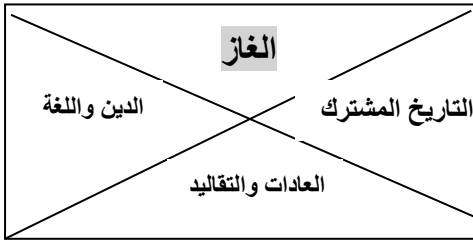
- 1- الضرر الذي يصيب عناصر البيئة الأساسية فتتحول من عناصر مفيدة إلى عناصر ضارة يسمى ----التلوث---ص133
- 2- إعادة تصدير البضائع المستوردة يسمى ----الترانزيت-----ص99
- 3- مجموع الدخول التي تحصل عليها الدولة خلال عام تسمى ----الدخل القومي-----ص95
- 4- عدد السكان في الكيلومتر المربع وتقاس بقسمة عدد السكان على مساحة الدولة تسمى ---الكثافة السكانية-----ص114
- 5- تنتمي أصول السلالات في منطقة الخليج العربية إلى جنس البحر المتوسط و ----شرق أفريقيا-----ص105
- 6- صدر إعلان الدوحة بشأن إقامة السوق الخليجية المشتركة في عام ----2008م-----ص130

(ب) : أكمل المخططات السهمية التالية : (6=1× 6)

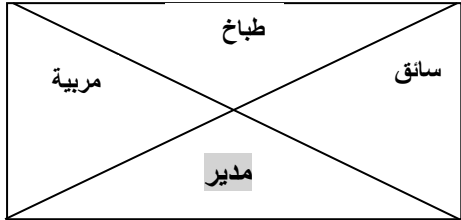


السؤال الثاني : يتكون من (أ - ب)

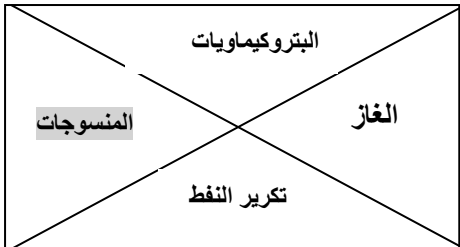
(أ) ظلل الكلمة التي لا تنتمي لكل مجموعة من المجموعات التالية : (6=1×6)



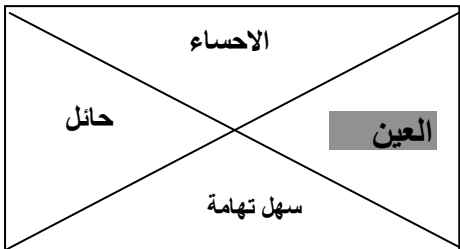
1- الروابط التي تربط بين أبناء دول الخليج العربية ص 118



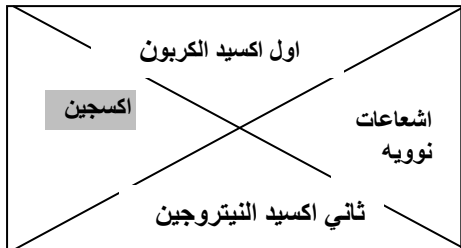
2 - من وظائف العمالة المنزلية ص 142



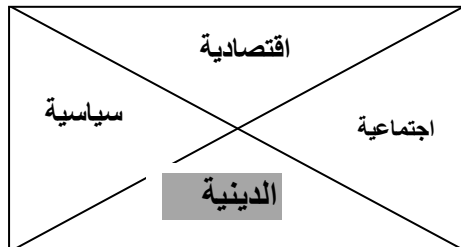
3- أهم الصناعات في منطقة الشعيبة بالكويت ص 96



4 - أهم المناطق الزراعية في المملكة العربية السعودية ص 93



5 - اسباب التلوث الهوائي ص 138



6 - جوانب التغيرات في منطقة الخليج العربية بعد ظهور النفط ص 141

(ب) : صنف مصادر التلوث التالية حسب ما يناسبها في الجدول التالي : ص 134 (6=1×6)

(سيارات - النفط ومشتقاته - براكين - عواصف ترابية - مياه الصرف الصحي - الأمطار الحمضية)

مصادر التلوث الهوائي	مصادر التلوث البحري
سيارات - عواصف ترابية	النفط ومشتقاته - مياه الصرف الصحي

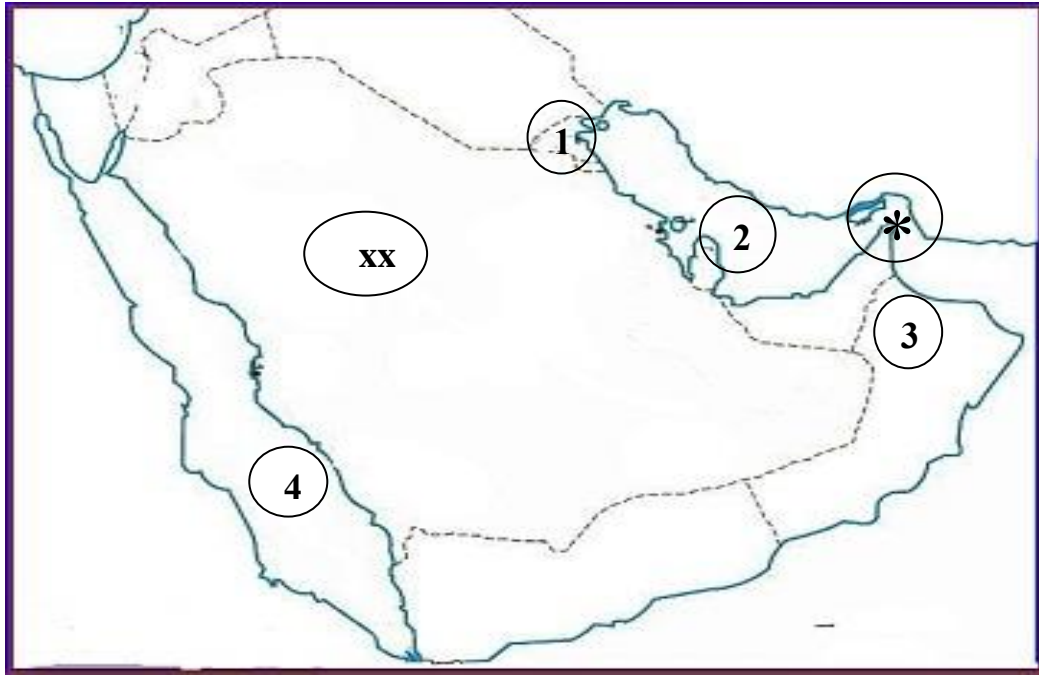
السؤال الثالث : يتكون من (أ - ب) : (6=1×6)

(أ) : صحح ما تحته خط واكتب الإجابة الصحيحة فيما بين القوسين: (6=1× 6)

- 1- ظهرت حضارة هيلي في دولة عربية خليجية تسمى قطر (....الإمارات...ص105)
- 2- تشتهر منطقة صحار بسلطنة عمان بصناعة البتروكيماويات (....النحاسص96)
- 3- كميات النفط المخزونة في باطن الأرض تسمى إنتاج النفط . (احتياطي النفط ..ص88)
- 4- مجموعة من العادات والتقاليد والقيم في مجتمع من المجتمعات تسمى الحضارة (....الثقافة.....ص118)
- 5- تم تصدير أول شاحنه من النفط في عهد الشيخ جابر الأحمد الصباح . (أحمد الجابر الصباح)ص90
- 6- أول حقل نفطي كويتي تم التنقيب عنه في الحقول الجنوبية يسمى الوفرة (...برقان.....ص87)

(ب) : لاحظ خريطة شبه الجزيرة العربية الصماء ثم اكتب الرموز والارقام الدالة على العبارات التالية:

(6=1× 6)



أولاً: اكتب مدلولات الرموز والأرقام التالية :

- الخليج العربي يحمل الرقم (2) ص92
- دولة الكويت تحمل الرقم (1) ص91
- سهل الباطنة يحمل الرقم (3) ص92
- البحر الاحمر يحمل الرقم (4) ص92
- يمثل الرمز (XX) دولة عربية تسمى ..السعودية..ص91
- يمثل الرمز (*) مضيق يسمى ...هرمز...ص91

السؤال الرابع : يتكون من (أ - ب - ج) .

(أ) : أجب عن الأسئلة التالية :-

- 1- اذكر دولتين من الدول المستوردة للنفط الكويتي . ص90 (2 درجة) يكتفى بنقطتين
- الولايات المتحدة الأمريكية - هولندا // اليابان
- 2- عدد اثنين من أسباب النمو السكاني في منطقة الخليج العربية . ص111 (2 درجة) يكتفى بنقطتين
- ارتفاع دخل الفرد // توفر الرعاية الصحية // توفر فرص العمل // ارتفاع الأجور
- الأمن والأمان //زيادة عدد المواليد // السماح للوافدين باصطحاب عائلاتهم

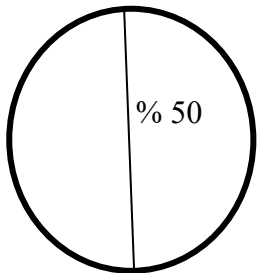
(ب) : لاحظ الجدول التالي لنسب المواطنين في دول الخليج العربية لعام 2006 م ثم أجب عن المطلوب

ص:112

اسم الدولة	نسبة المواطنين
الكويت	46.6 %
المملكة العربية السعودية	79.36 %
البحرين	50 %

- 1 - أعلى دولة في نسب المواطنين هي -----المملكة العربية السعودية ----- (1 درجة)
- 2 - أقل دولة في نسب المواطنين هي -----الكويت----- (1 درجة)
- 3 - رتب الدول السابقة ترتيباً تنازلياً . (3 درجة)

المملكة العربية السعودية	البحرين	الكويت
--------------------------	---------	--------



- 4 - حول النسبة المئوية لدولة البحرين لدائرة بيانية . (1 درجة)

(ج) : علل لما يلي :-

- 1- قيام دول الخليج العربية بإقامة العديد من الموانئ النفطية . ص90 (1 درجة) (نسبة المواطنين في البحرين)
- بسبب تزايد الإنتاج النفطي لدول مجلس التعاون من الحقول البرية والبحرية وتزايد الطلب العالمي عليه كمصدر أساسي للطاقة .
- 2- خروج الهجرات العربية في أزمنة مختلفة من قلب الجزيرة العربية إلى الساحل الغربي للخليج العربي . ص 108
- بسبب سيادة الظروف الطبيعية القاسية والجفاف الصحراوي (1 درجة)

السؤال الخامس : يتكون من (أ - ب - ج)

(أ) : عرف المفاهيم التالية :- (3=1×3)

1- الصناعة : تحويل المواد الخام إلى مواد مصنعة يمكن الاستفادة منها.ص95

2- العمالة المنزلية : إنهم مجموعة من الأفراد الذين يشاركون الأسرة في دور أو أكثر داخل المنزل أو خارجة من المربيات والطباخين والسائقين والخدم إلخ.ص142

3- السلالة : مجموعة من الناس تشترك فيما بينها في الصفات الجسمانية الرئيسية كلون الجلد وشكل الأنف وشكل الشعر وطول القامة وتختلف عن غيرها من السلالات في هذه الصفات.ص106

(ب) : اقرأ الفقرة التالية ثم أجب عما يليها من أسئلة :- ص132

(تلعب دولة الكويت دوراً مهماً مع دول مجلس التعاون الخليجي من أجل ترسيخ الأمن والإستقرار

في منطقة الخليج العربية , وتعزيز التكامل الاقتصادي وصولاً إلى الوحدة الخليجية المنشودة ومواجهة التحديات).

1- ضع عنوان مناسب للفقرة السابقة . (1 درجة)

- التحديات (المشكلات) التي تواجه دول الخليج العربية . (أو أي عنوان مناسب للفقرة يراه المصحح)

2- عدد التحديات التي تواجه دول الخليج العربية .ص132 (2 درجة) يكتفى بنقطتين

- الأخطار الخارجية والداخلية – الحاجة إلى إقامة نظام دفاعي متماسك ودائم للمنطقة – الأمن الغذائي – التلوث البيئي – ندرة المياه الجوفية – الاعتماد على الموارد النفطية فقط – الغزو الثقافي.

3- ما النتائج المترتبة على : تلوث التربة ص134 (2 درجة)

- ضعف قدرتها على الانتاج الزراعي . // تلوث الانتاج الزراعي مما يؤثر على صحة الانسان .

(ج -) اقترح حلولاً لعلاج المشكلات الاجتماعية التالية : ص150

حلول لعلاج مشكلة العمالة المنزلية (2=1×2) يكتفى بنقطتين	حلول لعلاج مشكلة العنف (2=1×2) يكتفى بنقطتين
<ul style="list-style-type: none"> - الاهتمام الجاد بالقرآن الكريم والسنة النبوية الشريفة . - يتحمل كل فرد في الأسرة مسؤوليه والقيام بدوره خير قيام. - جعل مهمة الخادم مقتصرة على ممارسة دوره الأساسي في المساهمة في تحمل أعباء المنزل لاغير 	<ul style="list-style-type: none"> - الاهتمام الجاد بالقرآن الكريم والسنة النبوية الشريفة . - الاهتمام بالقراءة والمطالعة بدلاً من أصدقاء السوء . - القدوة الحسنة من كل المحيطين بالشباب (المتعلمين) واتباع أساليب الحوار والتفاهم في علاج المشكلات والخلافات

انتهت الاسئلة ،،