



وزارة التربية

إدارة الشؤون التعليمية
مراقبة الامتحانات وشؤون الطلبة



نموذج الإجابة

المرحلة المتوسطة

اختبارات نهاية الفترة الدراسية الثاني

المادة : الاجتماعيات

الصف : السادس

العام الدراسي

2018 / 2017

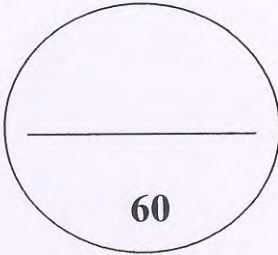


وزارة التربية
الإدارة العامة لمنطقة مبارك الكبير التعليمية
التوجيه الفني للاجتماعيات



اختبار نهاية الفصل الدراسي الثاني

العام الدراسي 2017 / 2018م



المدرسة :

المجال الدراسي : اختبار نهاية الفصل الدراسي الثاني

الصف : السادس

التاريخ :

رقم السؤال	درجة الطالب	الدرجة بالحروف	اسم المصحح
1			
2			
3			
4			
5			
6			
7			
8			
9			
10			
المجموع			

الدرجة بالحروف :

اسم المراجع :



وزارة التربية		العام الدراسي ٢٠١٧/٢٠١٨
منطقة مبارك الكبير التعليمية		الفصل الدراسي الثاني
التوجيه الفني للاجتماعيات		الزمن / ساعة و ٥ دقيقة

اختبار مادة الكويت ودول الخليج العربية (الصف السادس)

٦

السؤال الاول موضوعي يتكون من (١-ب):

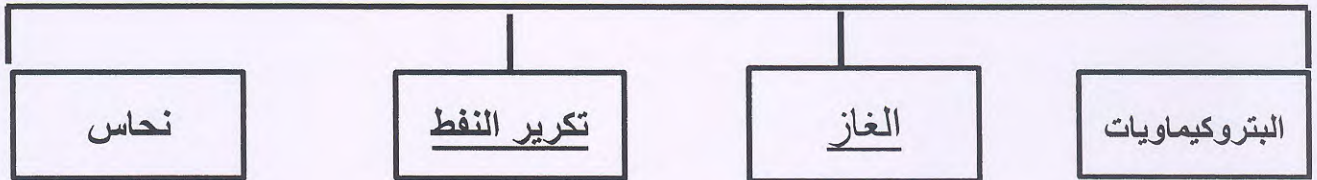
(١) صحح ماتحته خط :

- (١) نجحت المملكة العربية السعودية في إنتاج محصول القطن (القمح ص ٩٢)
- (٢) عدد الآبار النفطية التي اشعلها النظام العراقي البائد ٧٤٧ بئرا (٧٣٧ ص ١٣٩).
- (٣) البعثة التي اكتشفت الآثار الحضارية في منطقة الخليج العربية هي البعثة البريطانية (الدنماركية ص ١٠٥)
- (٤) كميات النفط التي يتم استخراجها للاستفادة منها تسمى احتياطي النفط (انتاج النفط) ص ٨٨
- (٥) العنف ظاهرة موروثة (متعلمة ص ١٤٦)
- (٦) تعرضت دولة الكويت للغزو العراقي الغاشم في عام ١٩٩٢ (١٩٩١ ص ١٣٩)


٤

(ب) أكمل المخططات السهمية التالية:

الصناعات القائمة على النفط في دول الخليج العربية ص ٩٧

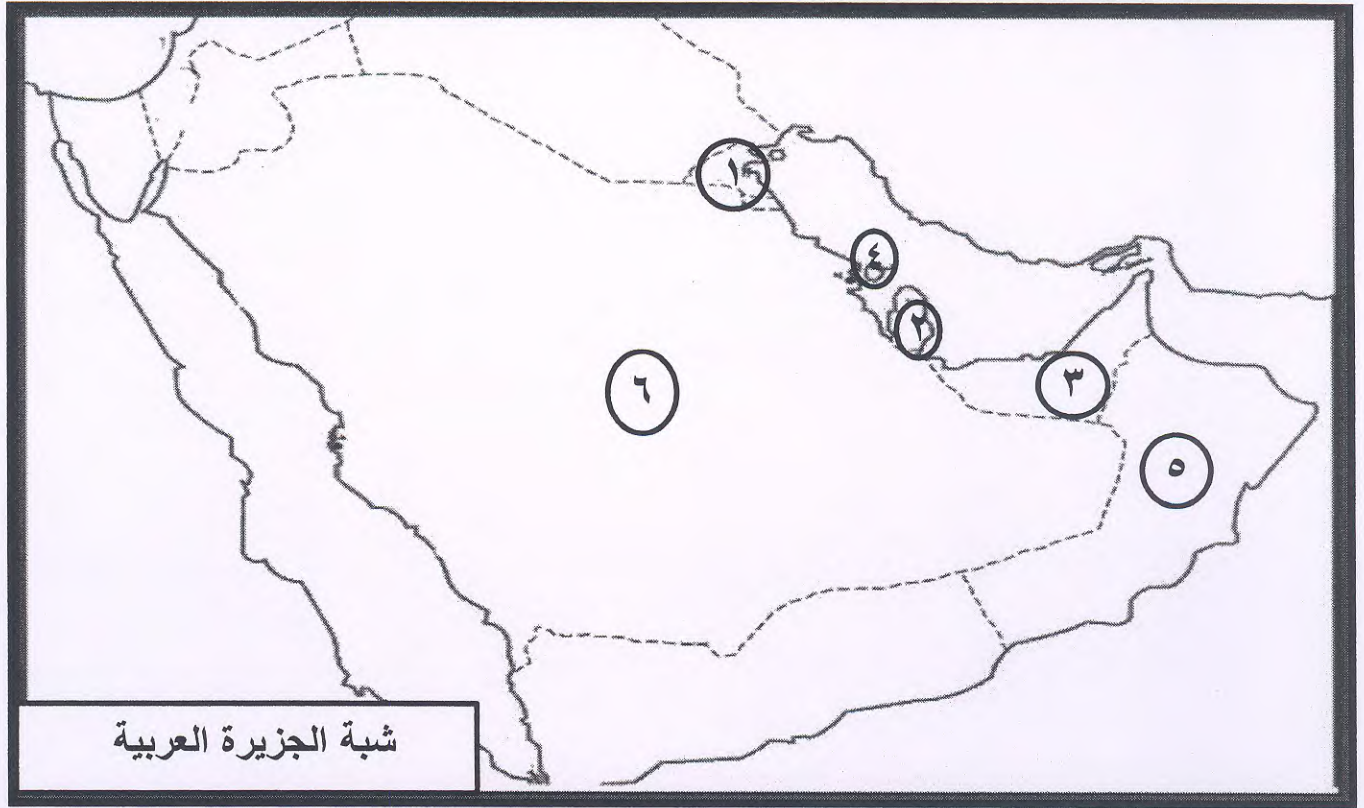


انواع التلوث البيئي ص ١٣٣



١٠

السؤال الثاني: موضوعي و يتكون من (١ - ب) :
(١) أمامك خريطة شبه الجزيرة العربية الصماء ثم نفذ ما هو مطلوب منك



٥

- ١- يقع ميناء الفحل في دولة خليجية تحمل الرقم ٥ سلطنة عمان ص ٩٧
- ٢- تقع منطقة الشعيب الصناعية في دولة خليجية تحمل الرقم ١ دولة الكويت ص ٩٢
- ٣- الدولة الخليجية الاعلى من حيث الكثافة السكانية تحمل الرقم ٤ البحرين ص ١١٤
- ٤- مدينة خليجية تم فيها صدور قيام السوق الخليجية المشتركة تحمل الرقم ٢ الدوحة ص ١٣٠ .
- ٥- الدولة الخليجية الاعلى في نسبة الوافدين تحمل الرقم ٣ الامارات ص ١١٢

٥

ب) أكتب المصطلح العلمي المناسب في الفراغات التالية :

- (١) (التلوث ص ١٣٣) هو الضرر الذي يصيب عناصر البيئة الاساسية (هواء ، ماء ، تربة)
فتتحول من عناصر مفيدة الى عناصر ضارة .
- (٢) (طبقة الاوزون ص ١٣٥) هي درع واقى من الاحياء ضد خطر الاشعة فوق البنفسجية .
- (٣) (الثقافة ص ١١٨) مجموعة من العادات والتقاليد والقيم في مجتمع من المجتمعات .
- (٤) (السلالة ص ١٠٦) مجموعة من الناس ترتبط فيما بينها في الصفات الجسمانية الرئيسية .
- (٥) (العنف ص ١٤٤) السلوك العدوانى الموجة ضد الغير .

١٠

السؤال الثالث : موضوعي ويتكون من (١- ب) :ص ١١١
 (١) لاحظ الصور التالية ثم استنتج عوامل زيادة اعداد السكان في منطقة الخليج العربية :



توفر فرص العمل



زيادة عدد المواليد



ارتفاع الاجور



توفر الرعاية الصحية



الامن والامان

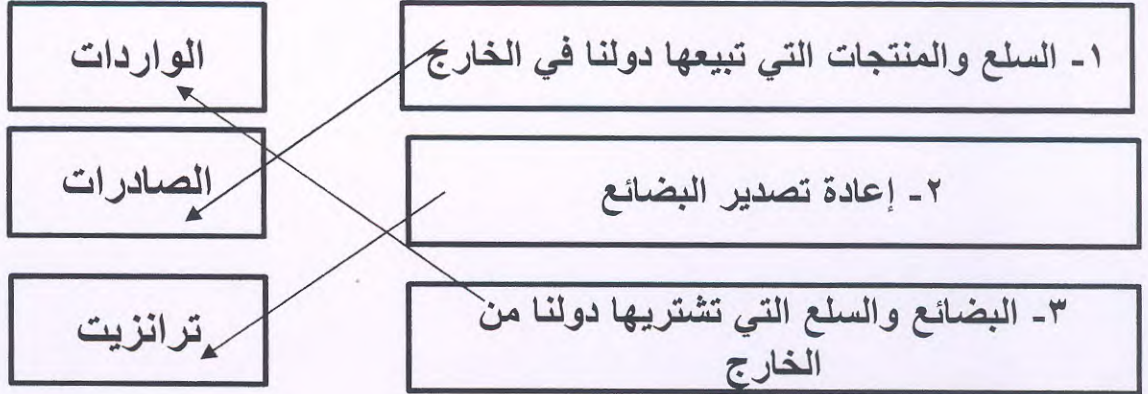
(ب) صنف الكلمات التالية في مكانها الصحيح في الجدول التالي:ص ١٣٤
 (سيارات وطائرات ، براكين ، الصناعة ، عواصف ترابية ، حرق النفايات)

مصادر تلوث الهواء	
طبيعية	غير طبيعية
<u>عواصف ترابية</u> <u>براكين</u>	<u>سيارات وطائرات ، حرق النفايات ،</u> <u>الصناعة</u>

السؤال الرابع : موضوعي ويتكون من (١ ب):

٣

(أ) ساعد منصور للتوصليل بين المفهوم والتعريف المناسب له : ص ٩٩



(ب) أكمل العبارات التالية بما يناسبها من كلمات :

١- بدأ عمليات التنقيب عن النفط في دولة الكويت في حقل يسمى بحرة ص ٨٧

٢- ظهرت في البحرين حضارة تسمى دلمون ص ١٠٥.

٣- أعلى دولة خليجية في نسبة المواطنين هي السعودية ص ١١٢.

٣

٦

٣٦

٣

السؤال الخامس :مقالى و يتكون من (ا،ب،ج):

(أ) علل لما يأتى :

١) إقامة دول الخليج العربية للعديد من الموانئ النفطية .ص ٩٠

-تزايد الانتاج النفطي

-تزايد الطلب العالمي

٢)استقبال حوض الخليج العربي موجات سكانية من كل المناطق المجاورة . ص ١٠٨

- بحكم موقعه الجغرافى المهم بين قارات العالم القديم

٣) حدوث التلوث البحري.ص ١٣٦

-مخلفات المصانع/مياه الصرف الصحى الغير معالجة / النفط ومشتقاته/مياه الصرف

الزراعى /النفط ومشتقاته/ النفايات الخطرة /الامطار الحمضية.

٤

(ب) فسر المفاهيم التالية :

١- كثافة سكانية: عدد السكان في الكيلومتر المربع وتقاس بقسمة عدد السكان على مساحة

الدولة ص ١١٤

٢- دخل قومي : مجموعة الدخول التي تحصل عليها الدولة خلال عام ص ٩٥

٣- عمالة منزلية : مجموعة من الافراد الذين يشاركون الاسرة في دور او اكثر داخل المنزل

او خارجه ص ١٤٢

٤- صناعة : تحويل المواد الخام الى مواد يمكن الاستفادة منها ص ٩٥

٣

(ج) انظر للصورة التي أمامك ثم أجب عن الأسئلة التالية : ص ١٣٤



- ما المقصود بالتلوث الارضى؟

دخول مواد غريبة فى التربة مما يلحق الضرر فى

خواصها ومكوناتها

- ما النتائج المترتبة على التلوث الارضى؟

ضعف قدرتها على الانتاج الزراعى

- تلوث الانتاج الزراعى مما يؤثر على صحة الانسان

١٠

السؤال السادس: مقالي و يتكون من (أ، ب- ج) :

(أ) فرق بين كل مما يلي من حيث التعريف:

بيوت بلاستيكية ص ٩٤	زراعة بدون تربة ص ٩٤
<u>يزرع فيها الخضراوات في غير مواسمها وتقوم بحماية المحاصيل من تقلبات الطقس</u>	<u>الزراعة التي تتم في بيئة مائية او رملية او حصى او نشارة خشب تضاف اليها المحاليل الغذائية</u>
زيادة غير طبيعية	زيادة طبيعية ص ١١٠
<u>الهجرة</u>	<u>عدد المواليد على عدد الوفيات</u>

(ب) أكتب نقطتين فيما يلي :

- ١) الروابط التي تربط بين أبناء دول الخليج العربية ص ١١٧ + ص ١٢٠
- * التاريخ المشترك / الدين واللغة / * وحدة الاصل / العادات والتقاليد.
- ٢) مظاهر التلوث الناتجة عن الغزو العراقي لدولة الكويت ١٣٩
- * تساقط الرذاذ النفطي على التربة (تلوث التربة) / اشتعال الابار و الدخان (تلوث هوائي
- * ضخ النفط في مياة البحر سبب تلوث للتربة وتدمير للحياة الفطرية / اثار خطرة على صحة الانسان
- ٣) اهم الحضارات الموجودة في شبة الجزيرة العربية ١٠٥
- * هيلي في الامارات / أم النار قطر / ودبا عمان / تاروت السعودية / دلمون البحرين
- ٤) مظاهر التعاون بين دول مجلس التعاون الخليجي في المجال الثقافي. ص ١٣٠
- * توحيد المناهج / انشاء مكتب التربية العربي / اجتمع وزراء التربية لدى دول الخليج كل عامين لوضع السياسات

(ج) اقرأ الفقرة ثم اجب عن ما يلي: ص ٩٠

((تم تصدير اول شحنة من النفط الكويتي عام ١٩٤٦ في عهد الشيخ احمد الجابر رحمه الله ومن اهم الدول المستوردة الولايات المتحدة الامريكية و هولندا و اليابان))

١- متى تم تصدير اول شحنة من النفط الكويتي؟

* ١٩٤٦

٢- في عهد أي من حكام دولة الكويت تم تصديرها؟

*.. الشيخ احمد الجابر

