

هيا نتعلم اللغة العربية للفص الأول الابتدائي

الجزء الأول

اسم التلميذ :

اسم المعلم :

تأليف
أ. حمزة الخياط

١

الدرس الأول

- اقرأ ، ثم اكتب :

بَ

حَثَ

ثَ

بَثَ

دَ

رَسَ

حَ

جَبَ

صَ

بَرَ

خَ

بَزَ

ثَدَ

رَحَ

جَ

ذَبَ

عَ

رَضَ

فَ

رَسَ

- ركب ما يلي :

٢

دا ر

صا ح


جا ع

عا ش


- ضع المقاطع التالية في مكانها الصحيح :

تا جا عا

ك ب



د ج



ط م



٣

رياضيات

- اكتب الأرقام الآتية :

١٠	٩	٨	٧	٦

- اكتب العدد الناقص :

٣		١
---	--	---

	٢	١
--	---	---

٦	٥	
---	---	--

٦		٤
---	--	---

	٥	٤
--	---	---

- اكتب الكلمات الآتية :

بَحَثَ

ثَبَّتَ

دَرَسَ

حَجَبَ

جَذَبَ

خَبَزَ

- اكتب الكلمات الآتية :

صَاخَ

دَارَ

عَاشَ

جَاعَ

٥

نشاط منزلي رياضيات

- اكتب الأرقام الآتية :

٦	٧	٨	٩	١٠

- اكتب العدد الناقص :

٤	٣		
---	---	--	--

١		٣	
---	--	---	--

٣	٤		
---	---	--	--

٢		٤	
---	--	---	--

٦

اختبار قراءة

- اقرأ الكلمات الآتية بطلاقة :

ثَبَّتَ	بَحَثَ	حَجَبَ
---------	--------	--------

دَرَسَ	خَبَزَ	جَذَبَ
--------	--------	--------

صَبَرَ	غَرَسَ	عَرَضَ
--------	--------	--------

- اقرأ الكلمات الآتية بطلاقة :



جَنَاحٌ



كِتَابٌ



غَزَالٌ



دَجَاجٌ



حِصَانٌ



طَعَامٌ

أ. حمزة الخياط

CREATIVE LITERACY CENTER
الإبداعية
الكتابية
٦٧٧٠٦٠٥٠

حقوق التوزيع والطبع محفوظة لمركز الإبداع اللغوي
للاستفسار الاتصال على : ٦٦٦٩٠٠٩٥



ostathhamza



OstathHamza



٦٦٦٩٠٠٩٥

٧

الدرس الثاني

- اقرأ ، ثم اكتب :

كُ	تِب
_____	_____

زُ	رِع
_____	_____

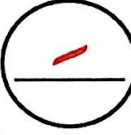
دُ	رِس
_____	_____

أُ	مِر
_____	_____


- اكتب الحركات القصيرة :

٨

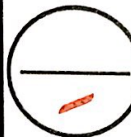
ك	ز	د	أ
---	---	---	---



ك	ز	د	أ
---	---	---	---



ك	ز	د	إ
---	---	---	---



- اقرأ ، ثم اكتب :

ف

تَح

ز

زِل

س

مَح

ج

ذِب

- حوط العدد الأكبر :

٤	٦
---	---

٢	٣
---	---

٥	٤
---	---

- حوط العدد الأصغر :

٤	٢
---	---

٣	٥
---	---

٦	٣
---	---

١٠

نشاط منزلي

- اكتب الحركات القصيرة :

نَ	فَ	جَ	سَ
----	----	----	----

نَ	فَ	جَ	سَ
----	----	----	----

نَ	فَ	جَ	سَ
----	----	----	----

- اقرأ ، ثم اكتب :

كُتِبَ	زُرِعَ	دُرِسَ

أُمِرَ	نُزِلَ	فُتِحَ

- حوط العدد الأكبر :

٣	١
---	---

٢	٤
---	---

٦	٥
---	---

- حوط العدد الأصغر :

٢	٥
---	---

٦	٣
---	---

٧	٦
---	---

- اقرأ ، ثم اكتب :

وَقَفَزَ	ضَارِي	وَثَبَ

وَأَكَلَ	سَالِمٌ	غَسَلَ

وَسَجَدَ	نَاصِرُ	رَكَعَ

وَكَتَبَ	صَابِرُ	قَرَأَ

- اقرأ ، ثم اكتب :

١٣

قَا	لَ

فَزَ	قَ

غَا	بَ

سَلَّ	غَ













رَا	حَ

كَعَ	رَ

سَا	رَ

جَدَ	سَدَ

- اكتب رمز العدد :



- رتب الكلمات الآتية :

وَقَفَزَ - ضَارِي - وَثَبَ

سَالِمٌ - وَأَكَلَ - غَسَلَ

- اقرأ ، ثم اكتب :

رَكَعَ	سَجَدَ


قَرَأَ	كَتَبَ

١٦


نشاط منزلي رياضيات

- ارسم عناصر رمز الأعداد التالية :


٤



٦



٣



- اقرأ ، ثم اكتب :

جَاعَ	مَازِنُ	وَأَكَلَ


قَامَ	ضَارِي	وَشَرَحَ

خَافَ	ثَامِرُ	وَهَرَبَ

- اقرأ ، ثم اكتب :

ذَابَ	ضَاعَ	غَاصَ

١٨ - اقرأ ، ثم اكتب المقطع الممدود بالألف :



ك	تَا	ب	د	صَا	ن

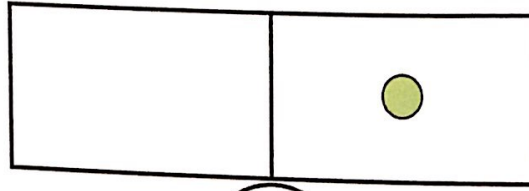


ط	عَا	م	غَا	زَا	ل

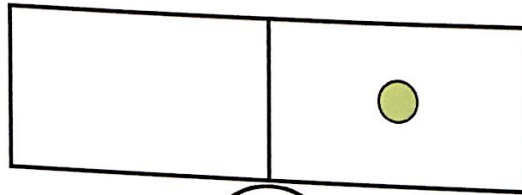


دَا	جَا	ج	جَا	نَا	ح

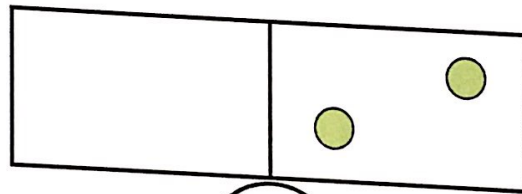
- أكمل الدوائر لتكون العدد المطلوب :



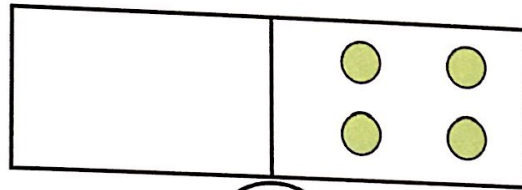
٣



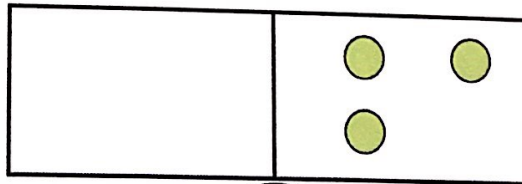
٢



٤



٧



٥

- رتب الكلمات الآتية :

جَاع - مَارِنُ - وَأَكَلَ


قَامَ - ضَارِي - وَشَرَحَ

خَافَ - ثَامِرُ - وَهَرَبَ

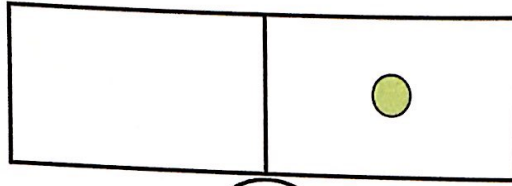
٢١

نشاط منزلي رياضيات

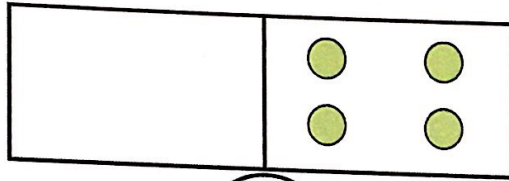
- أكمل الدوائر لتكون العدد المطلوب :



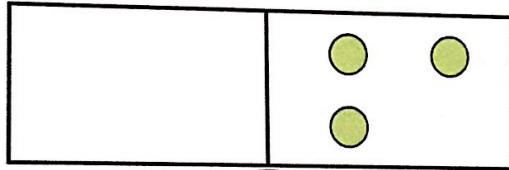
٤



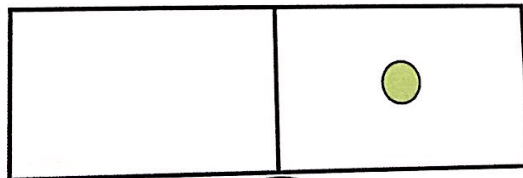
٢



٧



٥



٣

- اقرأ الكلمات الآتي بطلاقة :



جَنَاحٌ



كِتَابٌ



غَزَالٌ



دَجَاجٌ



حِصَانٌ



طَعَامٌ



غُرَابٌ



جِبَالٌ

قَ	قَا	رَأَ	لَ
_____	_____	_____	_____
سَدَ	سَا	جَدَ	رَ
_____	_____	_____	_____
فَ	فَا	تَحَ	زَ
_____	_____	_____	_____
غَ	غَا	سَلَ	بَ
_____	_____	_____	_____
طَ	طَا	رَقَ	رَ
_____	_____	_____	_____

قَ	قَا
_____	_____


سَ	سَا
_____	_____

فَ	فَا
_____	_____


غَ	غَا
_____	_____

طَ	طَا
_____	_____


- اطرح ما يلي :




$$\bigcirc = \bigcirc 1 - \bigcirc 2$$




$$\bigcirc = \bigcirc 2 - \bigcirc 3$$



$$\bigcirc = \bigcirc 2 - \bigcirc 4$$




$$\bigcirc = \bigcirc 3 - \bigcirc 5$$




$$\bigcirc = \bigcirc 1 - \bigcirc 6$$


- ا طرح ما يلي :




$$\bigcirc = \bigcirc 2 - \bigcirc 4$$




$$\bigcirc = \bigcirc 2 - \bigcirc 5$$



$$\bigcirc = \bigcirc 1 - \bigcirc 3$$



$$\bigcirc = \bigcirc 3 - \bigcirc 5$$



$$\bigcirc = \bigcirc 1 - \bigcirc 2$$

- اقرأ الكلمات الآتية بطلاقة :

قَالَ	←	قَرَأَ
سَارَ	←	سَجَدَ
فَازَ	←	فَتَحَ
غَابَ	←	غَسَلَ
طَارَ	←	طَرَقَ
دَارَ	←	دَرَسَ
بَاعَ	←	بَحَثَ
زَارَ	←	زَرَعَ