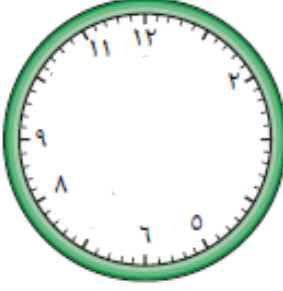





## الوحدة التاسعة



- أكتب رموز الأعداد الناقصة و ارسم لتوضح الساعه الخامسة :

- أكتب الوقت



- رتب الأحداث التالية :



- يذهب بدر الى النادي عند الساعة ٤:٠٠ و يذهب خالد عند الساعة ٦:٠٠ و يذهب محمد بعد بدر وقبل خالد ، فمتى يذهب محمد الى النادي ؟



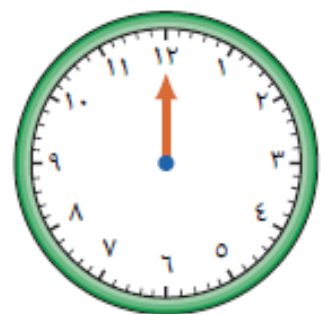
- يبدأ النشاط الرياضي عند الساعة ٩:٠٠ و يستمر لمدة ٥ ساعات ، إذا كانت الساعة الآن ١١:٠٠ ، كم عدد الساعات الباقية لليوم الرياضي ؟ ( ارسم عقرب الساعة لبداية النشاط الرياضي و نهايته )

ساعة

الباقي



نهاية النشاط



بداية النشاط

- وصل محمد إلى الملعب عند الساعة ٣:٠٠ ، قبل بداية المباراة بساعتين ، عند أي ساعة تبدأ المباراة ؟

تبدأ المباراة عند الساعة

- أكمل الجدول التالي :

شهور السنة الهجرية		شهور السنة الميلادية	
	١		١
	٢		٢
	٣		٣
	٤		٤
	٥		٥
	٦		٦
	٧		٧
	٨		٨
	٩		٩
	١٠		١٠
	١١		١١
	١٢		١٢

- عدد اشهر السنة الميلادية \_\_\_\_\_ شهرا

- عدد أشهر السنة الهجرية \_\_\_\_\_ شهرا