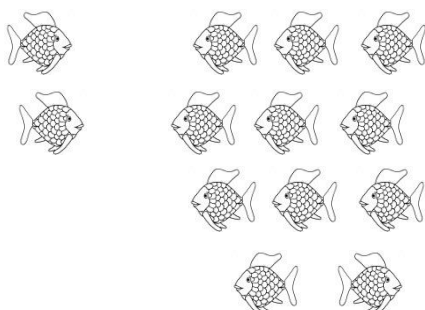


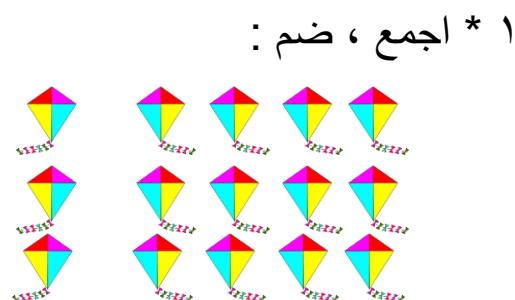


ورقة عمل لمادة الرياضيات للصف الأول الابتدائي

الفصل الدراسي الثاني الوحدة ٨



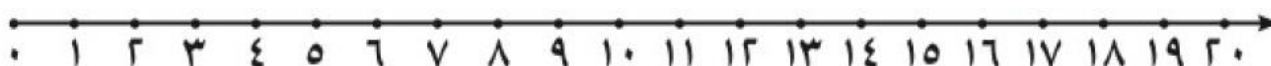
$$\underline{\hspace{2cm}} = 2 + 11$$



$$\underline{\hspace{2cm}} = 3 + 12$$



٢ * اجمع استخدم خط الأعداد :



٧

٦

١١

١٣

١١ +

١٢ +

٢ +

٤ +



٣ * أوجد الناتج :

٤

٥

١

٩

٧

٨

٧

١

٦ +

٢ +

٣ +

٣ +

$$\underline{\hspace{2cm}} = ٥ + ٥ + ٥$$

$$\underline{\hspace{2cm}} = ٣ + ٦ + ٤$$



ورقة عمل لمادة الرياضيات للصف الأول الابتدائي


الفصل الدراسي الثاني الوحدة ٨

١ * اطرح ، اشطب :



١ ٤

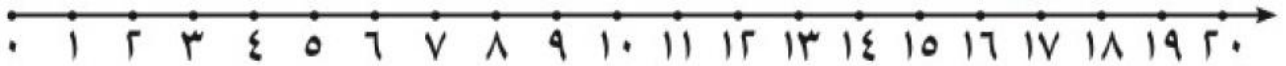
٣ -



_____ = ٤ - ١٦



٢ * اطرح استخدم خط الأعداد :



١ ٨

٥ -

١ ٧

٦ -

١ ٠

٢ -

١ ٤

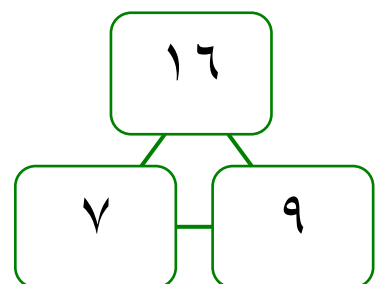
٣ -



٣ * اكتب عبارات الجمع و الطرح ذات الصلة مستخدماً الأعداد المعطاة :

_____ = _____ + _____

_____ = _____ - _____

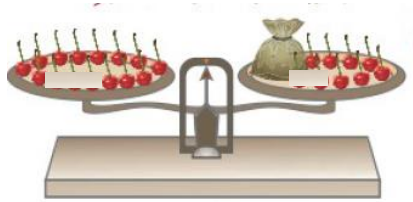




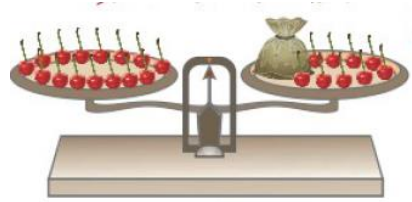
ورقة عمل لمادة الرياضيات للصف الأول الابتدائي

الفصل الدراسي الثاني الوحدة ٨

١ * اشطب لإيجاد العدد المجهول :



$$12 = \underline{\quad} + 7$$



$$15 = \underline{\quad} + 9$$



٢ * استكمل رسم العناصر لإيجاد العدد المجهول :



$$11 = \underline{\quad} + 8$$



$$16 = \underline{\quad} + 12$$



٣ * حل المسائل :

٦ عند أحمد ، أعطاه والده ٨ ، أَعْطَاهُ وَالِدُهُ ٨ ، أُخْرَى .
كم صار عند أحمد ؟



$$\underline{\quad} = \underline{\quad} \bigcirc \underline{\quad}$$



١٥ مع ساره ، اشترت هدية لوالدتها بمبلغ ٥ ،
كم بقي عند ساره ؟



$$\underline{\quad} = \underline{\quad} \bigcirc \underline{\quad}$$