


السؤال الأول :

\* اكتبى الوقت



\* اجيبى على الأسئلة التالية

- ١- كم عدد أشهر السنة الميلادية....
- ٢- ما هو اسم أول شهر هجري....

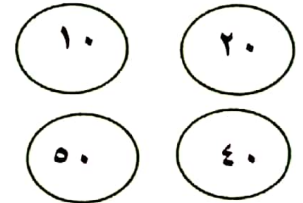
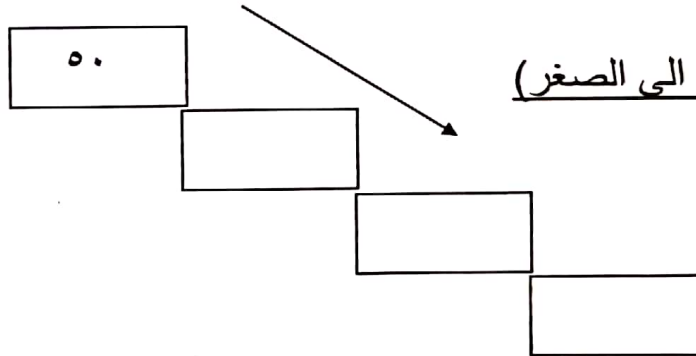
ارسمى عقرب الساعة الصغير لتوضي قبل وبعد الساعة المرسومة.



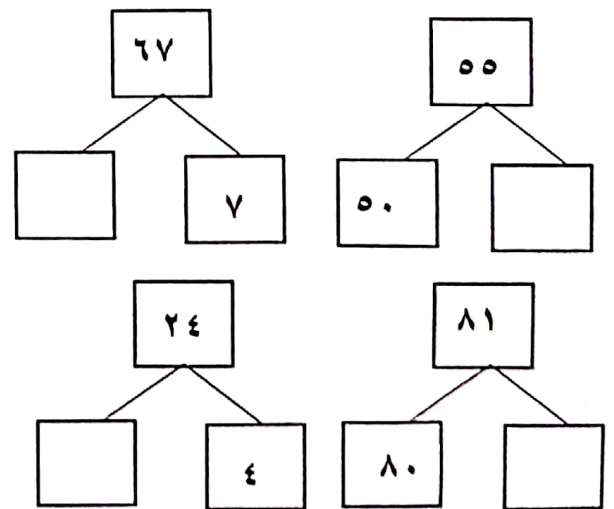
- ٣- ما اسم الشهر الذي يصوم فيه المسلمون....
- ٤- ما اسم الشهر الذي يأتي بعد شهر رمضان....

السؤال الثاني :

\* رتبى الأعداد (من الأكبر الى الصغر)



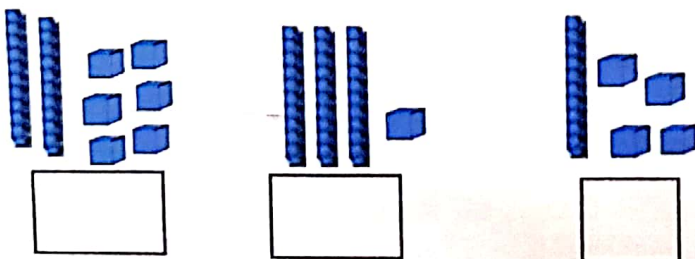
\* أكملى



\* باستخدام خط الأعداد ان أمكن

- العدد ٥٤ مقربا الى أقرب عشرة ---
- العدد ٣٨ مقربا الى أقرب عشرة ---
- العدد ٢٦ مقربا الى أقرب عشرة ---

\* اكتبى رمز العدد

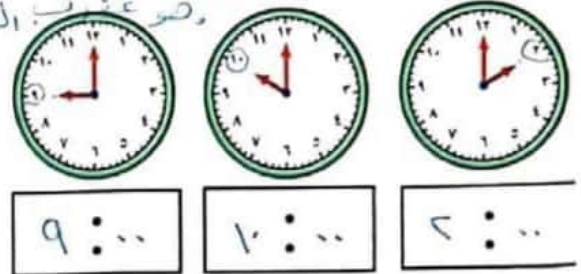


السؤال الأول :

ارسمي عقرب الساعة الصغير لتوضحي قبل وبعد الساعة المرسومة.

نقرأ العقرب الصغير  
وصنع عقرب الساعة

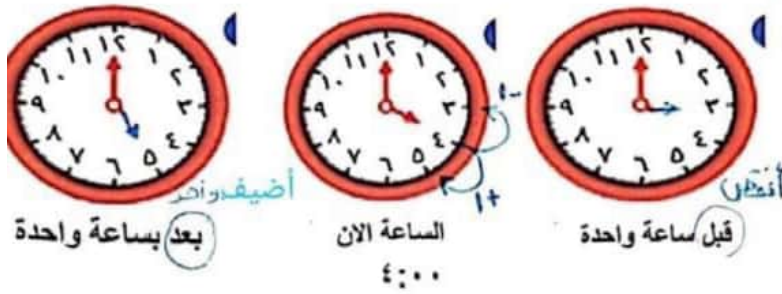
\* اكتبی الوقت



\* اجیبی علی الأسئلة التالية

١- كم عدد أشهر السنة الميلادية...!

٢- ما هو اسم أول شهر هجري...مجرم

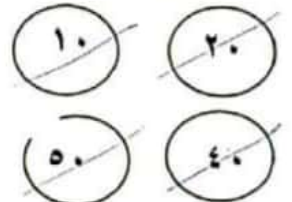
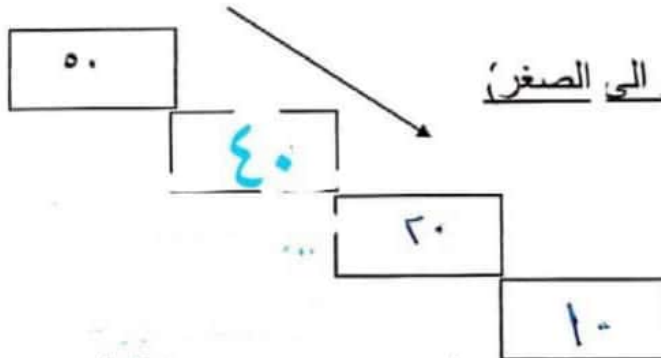


٣- ما اسم الشهر الذي يصوم فيه المسلمون...رمضان

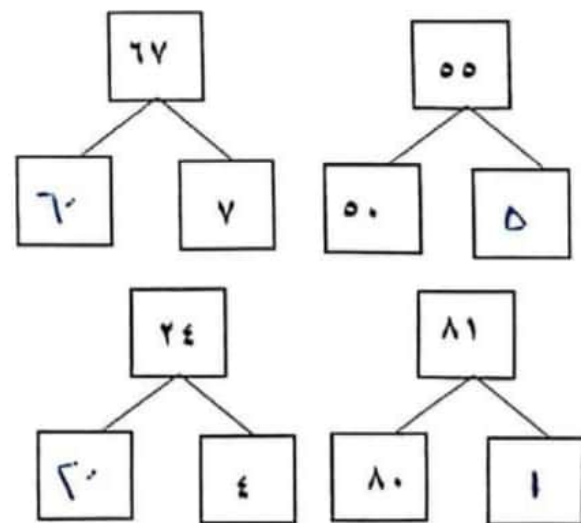
٤- ما اسم الشهر الذي يأتي بعد شهر رمضان...شوال

السؤال الثاني :

\* رتبی الأعداد (من الأكبر الى الصغر)



\* اكملی



أعداد أقل  
من نصف

الوحدة (لا  
تعطي) (٠)

أعداد أكبر أو  
كساوي نصف

الوحدة  
تعطي (٥)

(٩، ٨، ٧، ٦)


\* باستخدام خط الأعداد أن أمكن

العدد ٥٤ مقربا الى أقرب عشرة

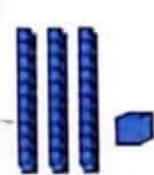
العدد ٣٨ مقربا الى أقرب عشرة

العدد ٢٦ مقربا الى أقرب عشرة

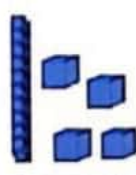
\* اكتبی رمز العدد



٢٦



٣١



١٤