



١ اكتب رمز العدد الممثل.


ب

عَشَرَات	وَحَدَات

عَشَرَات	آحَاد



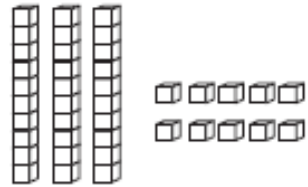
عَشَرَات	آحَاد



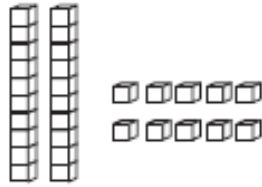
عَشَرَات	آحَاد

٢ لَوْن. اكتب رمز العدد.

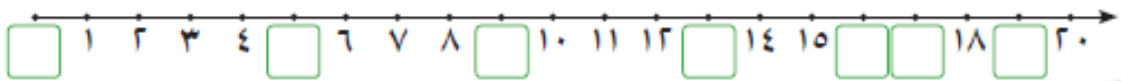
١ ٩ وحدات و ١ عشرة




ب ٨ وحدات






٣ اكمل خط الأعداد.





- ارسم ○ عن كل لعبة في الجدول التالي :

- صل :



• اللعبة الأكثر عدداً .



• اللعبة الأقل عدداً .

- أكتب عدد الألعاب :

اللعبة	العدد
	
	
	

- اختر الاجابة الصحيحة :

• عدد أصغر من ٢٠ و أحاده يساوي عشراته

١٠

١٩

١١

٢٠

١٢

• عدد أكبر من ١٥ و أحاده اكبر من ٢

١٣

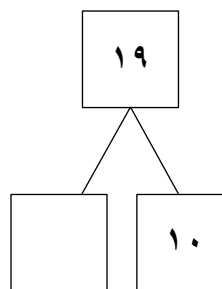
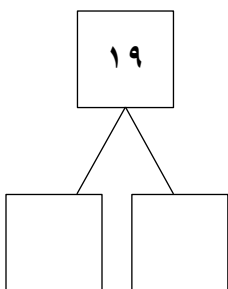
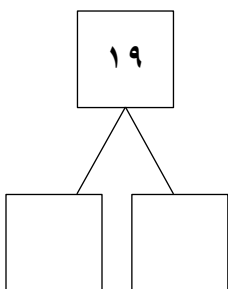
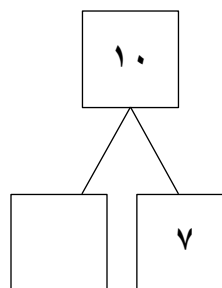
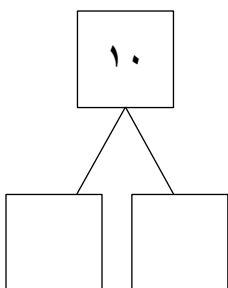
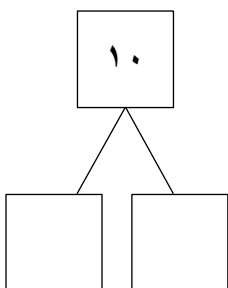
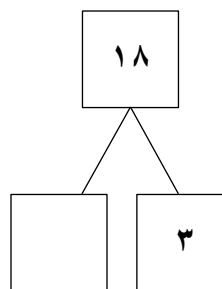
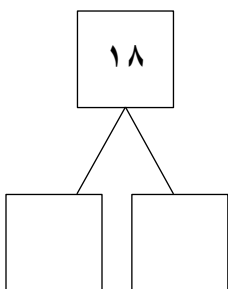
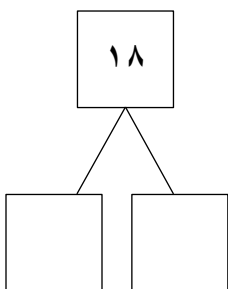
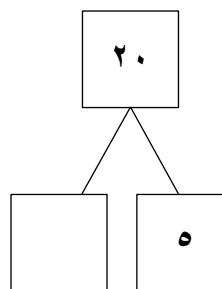
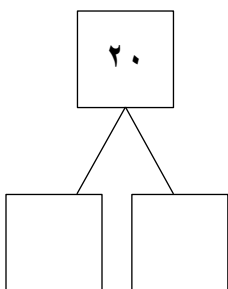
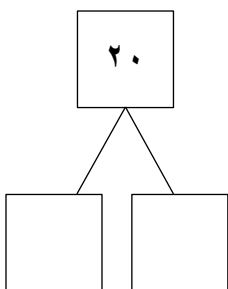
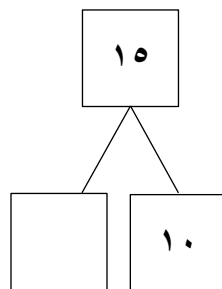
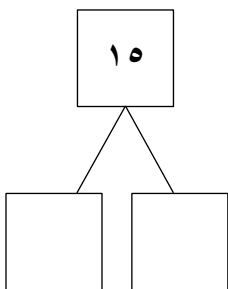
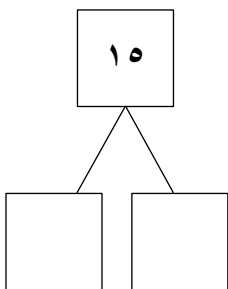
١٧

١٤

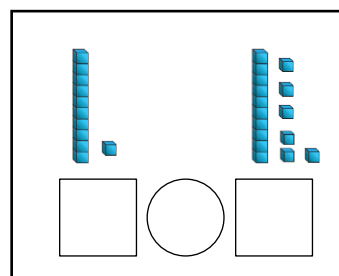
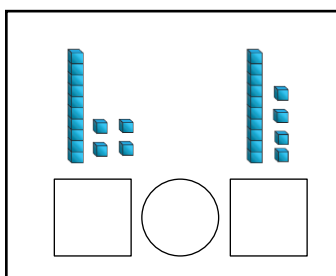
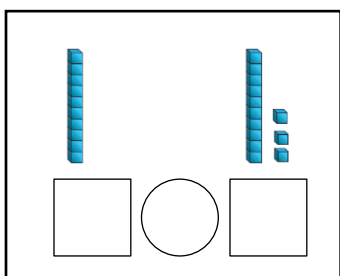
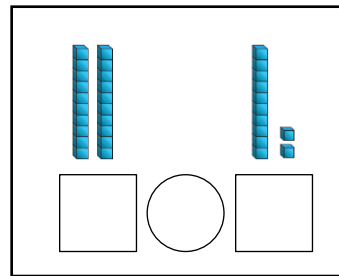
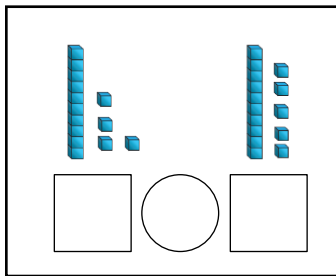
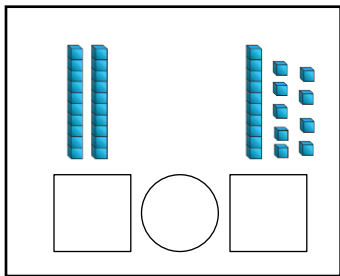
٢٠

١٥

- أكمل :



- أكتب رمز العدد الممثل ، قارن مستخدما العلامة المناسبة (< أو > أو =)



- قارن مستخدما العلامة المناسبة (< أو > أو =)

$$17 \bigcirc 17$$

$$10 \bigcirc 15$$

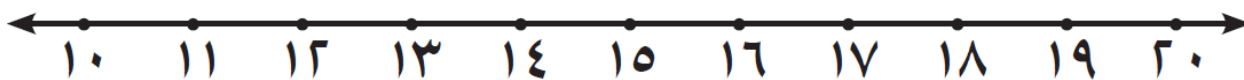
$$10 \bigcirc 20$$

$$20 \bigcirc 12$$

$$19 \bigcirc 9$$

$$15 \bigcirc 10$$

- قارن باستخدام خط الأعداد



$$10 \bigcirc 7$$

$$20 \bigcirc 10$$

$$11 \bigcirc 11$$

$$17 \bigcirc 18$$

$$19 \bigcirc 6$$

$$18 \bigcirc 13$$

- رتب الأعداد التالية من الأصغر إلى الأكبر :

٢٠	١٧	١٠

١٨	١٠	١٤

١٥	١٠	٦

١٤	٤	١٠

- أكمل بكتابة أعداد من عندك بحيث يكون الترتيب من الأصغر إلى الأكبر :

	٧	
--	---	--

	١٥	
--	----	--

- رتب الأعداد التالية من الأكبر إلى الأصغر :

٢٠	١٧	١٠

١٨	١٠	١٤

١٥	١٠	٦







١٢	٧	١٧



- أكمل بكتابة أعداد من عندك بحيث يكون الترتيب من الأكبر إلى الأصغر :

	٧	
--	---	--

	١٥	
--	----	--

- لون حسب الترتيب

الأول	الثاني	الرابع	الخامس	الرابع	العاشر
					



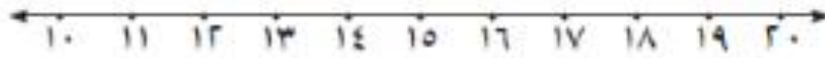
مراجعة الوحدة السابعة



١ عدّ الوحدات والعشرات، ثم اكتب رمز العدد.



٢ قارن. اكتب رمز العلاقة (< أو > أو =). بإمكانك استخدام خط الأعداد.



٣ حلّ مستخدماً أو

١ رتب الأعداد من الأكبر إلى الأصغر

٢٠، ٦، ١٠

--	--	--

٢ رتب الأعداد من الأصغر إلى الأكبر

١٣، ١٧، ١٥

--	--	--

٤ اكْمَلْ بِكِتَابَةِ أَعْدَادٍ مِنْ عِنْدِكَ بِحَيْثُ يَكُونُ التَّرْتِيبُ مِنَ الْعَدَدِ الْأَصْغَرِ إِلَى الْعَدَدِ الْأَكْبَرِ.



٥ اكْمَلْ سِلْسِلَةَ الْأَعْدَادِ مُسْتَعِدِّمًا (قَبْلَ، بَعْدَ، بَيْنَ).



٦ حَوِّطْ لِتَوْضِيحِ التَّرْتِيبِ مُسْتَعِدِّمًا الشَّكْلَ الْمُنَاسِبَ.



الأَوَّلُ