



وزارة التربية  
الادارة العامة لمنطقة العاصمة التعليمية  
مدرسة الشايع الابتدائية بنين



# مذكرة للصف الاول الابتدائي مادة الرياضيات



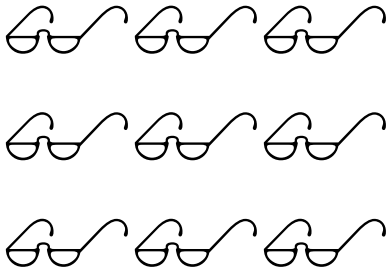
الموجهة الفنية  
أ / سعاد الجدي

رئيسة القسم  
أ / مريم مناحي العزي

مديرة المدرسة  
أ / سلوى الفضلي



## حوط رمز العدد المناسب لكل مجموعة:-

		
<div>٨      ٧      ٦</div>	<div>٨      ٢      ٦</div>	<div>٣      ٩      ٢</div>


## ارسم بحسب العدد

<div>٤</div>	<div>٧</div>	<div>٦</div>
--------------	--------------	--------------

## اكمل

								١	٠
			٦			٣	٢		
٩		٧	٦						

عد ثم اكتب:



عشرة	عشرة	١٠	١٠	١٠
عشرة	عشرة	١٠	١٠	١٠

أكمل

$$10 = \square + 5$$

$$10 = \square + 0$$

$$10 = \square + 6$$

$$10 = \square + 1$$

$$10 = \square + 7$$

$$10 = \square + 2$$

$$10 = \square + 8$$

$$10 = \square + 3$$

$$10 = \square + 9$$

$$10 = \square + 4$$

استكمل رسم العناصر ليصبح العدد ( ١٠ )

--	--	--



عد ، اكتب رمز العدد

	☆ ☆ ☆ ☆ ☆ ☆ ☆ ☆ ☆ ☆ ☆ ☆
--	-------------------------

	h h h h h h h h h h h h h h h h
--	---------------------------------

	⌚ ⌚ ⌚ ⌚ ⌚ ⌚ ⌚ ⌚ ⌚ ⌚ ⌚ ⌚ ⌚ ⌚
--	-----------------------------

	✎ ✎ ✎ ✎ ✎ ✎ ✎ ✎ ✎ ✎ ✎ ✎ ✎ ✎ ✎
--	-------------------------------

	😊 😊 😊 😊 😊 😊 😊 😊 😊 😊 😊 😊 😊 😊 😊
--	-------------------------------

	🌸 🌸 🌸 🌸 🌸 🌸 🌸 🌸 🌸 🌸 🌸 🌸 🌸 🌸 🌸
--	-------------------------------

	△ △ △ △ △ △ △ △ △ △ △ △ △ △ △ △
--	---------------------------------

	✋ ✋ ✋ ✋ ✋ ✋ ✋ ✋ ✋ ✋ ✋ ✋ ✋ ✋ ✋ ✋ ✋
--	-----------------------------------

	□ □ □ □ □ □ □ □ □ □ □ □ □ □ □ □ □ □
--	-------------------------------------

أكمل :

	٨				٤		٢	١	٠
		١٧				١٣			١٠

[illegible]

## اكتب رمز العدد


	=	عشرات	آحاد
		١	٦

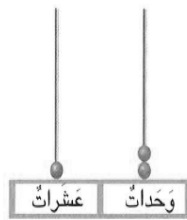
		عشرات	آحاد
		١	٣


	=	عشرات	آحاد
		١	١

		عشرات	آحاد
		١	٩

## اكتب رمز العدد الممثل













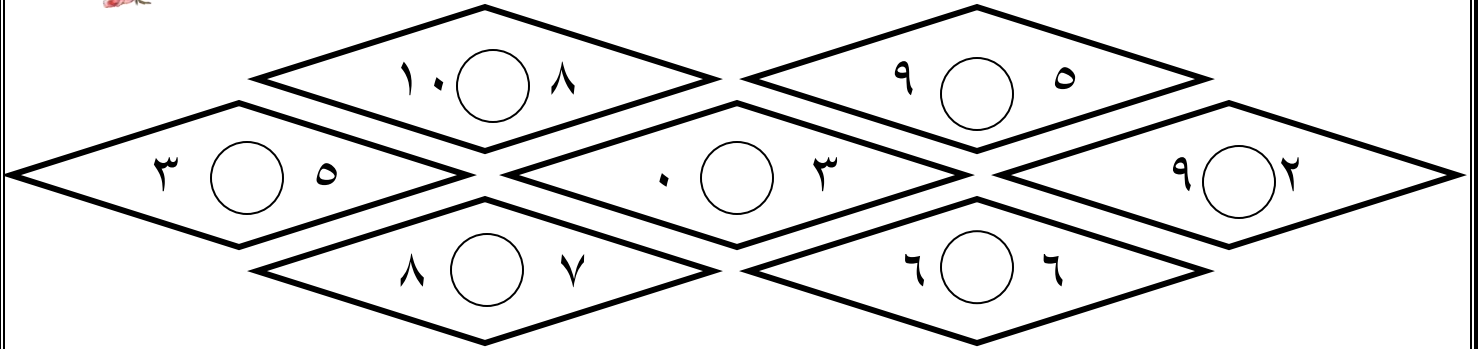


## اكمل :-

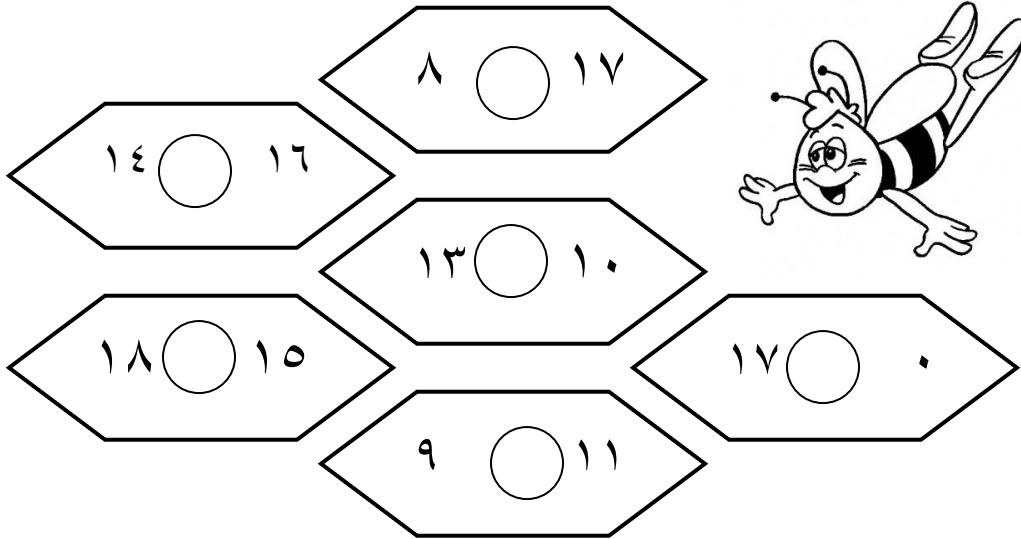
					٤	٣			٠
					١٤				١٠



✿ اكتب رمز العلاقة المناسب ( < أو > أو = ) :



✿ اكتب رمز العلاقة المناسب ( < أو > أو = ) :



اكتب رمز العدد الذي يأتي بعد العدد مباشرة:

	٣
--	---

	٥
--	---

	٢
--	---

	٩
--	---

	٧
--	---

	٨
--	---

	١٥
--	----

	١٠
--	----

	١٤
--	----

	١٣
--	----

	١٧
--	----

	١٨
--	----



أحسنْتَ يا نكي

اكتب رمز العدد الذي يأتي قبل العدد مباشرة

٥	
---	--

٨	
---	--

١	
---	--

٩	
---	--

٢	
---	--

٤	
---	--

١٧	
----	--

١٤	
----	--

١٠	
----	--

١٩	
----	--

١٦	
----	--

١١	
----	--





اكمل

٨		٦
---	--	---

٣		١
---	--	---

٦		٤
---	--	---

٢		٠
---	--	---

	١	
--	---	--

	٦	
--	---	--

	٨	
--	---	--

	٥	
--	---	--

		٢
--	--	---

		٧
--	--	---

		٥
--	--	---

		١
--	--	---

	١٨	
--	----	--

	١٦	
--	----	--

	١٧	
--	----	--

	١١	
--	----	--

١١		٩
----	--	---

٩		٧
---	--	---

١٥		١٣
----	--	----

١٧		١٥
----	--	----

١١		
----	--	--

٦		
---	--	--

١٩		
----	--	--

٣		
---	--	--



اكمل

	٦	٥		٣	
--	---	---	--	---	--

٩	٨			٥	
---	---	--	--	---	--

١٤			١١	١٠	
----	--	--	----	----	--

	١٨	١٧			١٤
--	----	----	--	--	----

				٥				١	٠
--	--	--	--	---	--	--	--	---	---

		١٧				١٣	١٢		
--	--	----	--	--	--	----	----	--	--

			١٤					٩	٨
--	--	--	----	--	--	--	--	---	---

رتب الاعداد ( من الاصغر إلى الاكبر):

٩ ، ١٧ ، ٨		

١٤ ، ١٥ ، ١٠		

١١ ، ١٦ ، ٨		

٢٠ ، ١٨ ، ١٠ ، ١٦			

١٥ ، ٩ ، ١٨ ، ٧			

١١ ، ١٠ ، ١٢ ، ١٣			



رتب الاعداد (من الاكبر إلى الاصغر):

٩ ، ١٤ ، ٨		

٤ ، ١٥ ، ٣		

٢٠ ، ١٦ ، ١٧		

١٢ ، ١٣ ، ٠ ، ٩			

٥ ، ١٧ ، ٨ ، ١٦			

٩ ، ٧ ، ١٦ ، ١٣			

أكمل سلاسل الاعداد

		١٣		١٥				١٩	٢٠
--	--	----	--	----	--	--	--	----	----

٦			٩		١١	١٢			١٥
---	--	--	---	--	----	----	--	--	----

اكمل

		١٢			١٥		١٧	١٨	
--	--	----	--	--	----	--	----	----	--



	٨	٩		١١
--	---	---	--	----

			١١	١٢
--	--	--	----	----



		١٦	١٧	
--	--	----	----	--

			١٦	١٨
--	--	--	----	----




لون السيارة حسب المطلوب



الاولى



الخامسة

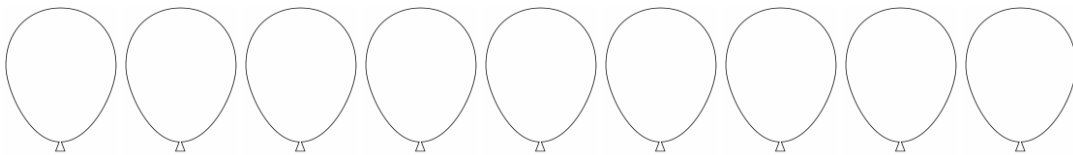


الثالثة

متميز .. مستمر



لون البالون السابع، لون البالون التاسع



لون الكتاب الثالث ، لون الكتاب الخامس



فكر .... من أنا ؟

انا عدد اكبر من  
١٦ بإثنين فمن انا؟

انا عدد اقع بين  
١٧ و ١٩ ،

انا عدد بين ١٣  
و ١٥ فمن انا؟

انا عدد اصغر من  
٤ فمن انا؟

إلى الإمام يا بطل

اجمع



$$\square = \text{bell} + \text{bell} + \text{bell} + \text{bell} + \text{bell} + \text{bell} + \text{bell}$$

$$\square = \square + \square$$

$$\square = \text{flower} + \text{flower} + \text{flower} + \text{flower} + \text{flower} + \text{flower} + \text{flower}$$

$$\square = \square + \square$$

$$\square = \text{smiley} + \text{smiley} + \text{smiley} + \text{smiley} + \text{smiley} + \text{smiley} + \text{smiley} + \text{smiley} + \text{smiley}$$

$$\square = \square + \square$$

اكتب ناتج الجمع

$\square = 8 + 0$	$\square = 3 + 1$	$\square = 6 + 2$
$\square = 7 + 1$	$\square = 2 + 6$	$\square = 3 + 3$



أوجد الناتج:

$\begin{array}{r} ٤ \\ ٤ + \\ \hline \end{array}$	$\begin{array}{r} ٥ \\ ٠ + \\ \hline \end{array}$	$\begin{array}{r} ٤ \\ ٣ + \\ \hline \end{array}$	$\begin{array}{r} ٦ \\ ١ + \\ \hline \end{array}$	$\begin{array}{r} ٢ \\ ٣ + \\ \hline \end{array}$
---------------------------------------------------	---------------------------------------------------	---------------------------------------------------	---------------------------------------------------	---------------------------------------------------

$\begin{array}{r} ١٣ \\ ٦ + \\ \hline \end{array}$	$\begin{array}{r} ١٦ \\ ٢ + \\ \hline \end{array}$	$\begin{array}{r} ١٢ \\ ٣ + \\ \hline \end{array}$	$\begin{array}{r} ١٨ \\ ٢ + \\ \hline \end{array}$	$\begin{array}{r} ١٤ \\ ٣ + \\ \hline \end{array}$
----------------------------------------------------	----------------------------------------------------	----------------------------------------------------	----------------------------------------------------	----------------------------------------------------

أوجد الناتج:

$= ١ + ١٣$	$= ٦ + ١٢$	$= ٥ + ١٣$
$= ١ + ١٦$	$= ٢ + ١٧$	$= ٤ + ١١$
$= ٨ + ١١$	$= ٤ + ١٦$	$= ٠ + ١٨$
$= ٥ + ١٤$	$= ٤ + ١٥$	$= ٣ + ١٢$
$= ٦ + ١١$	$= ١ + ١٨$	$= ١ + ١٢$

أوجد الناتج:

$= ٧ + ٩ + ١$	$= ١ + ٨ + ٢$	$= ٤ + ١ + ٦$
$= ٣ + ٧ + ٢$	$= ٤ + ٤ + ٦$	$= ٥ + ١ + ٥$

## أوجد الناتج:

$$= ٤ + ١٣$$

$$= ١٢ + ٤$$

$$= ٤ + ١٤$$

$$= ٣ + ١٥$$

$$= ٧ + ١١$$

$$= ٣ + ١١$$

$$= ٨ + ١٢$$

$$= ١٢ + ٢$$

$$= ٠ + ١٩$$

$$= ١١ + ٣$$

$$= ١٢ + ٥$$

$$= ١٣ + ٣$$

$$= ١٠ + ٣$$

$$= ١٠ + ٨$$

$$= ١٠ + ٥$$

## اوجد العدد المجهول:

$$١٤ = \square + ٤$$

$$١٩ = ٣ + \square$$

$$١٥ = \square + ٢$$

$$٦ = \square + ٣$$

$$٨ = ٠ + \square$$

$$١٢ = \square + ٩$$

$$٩ = ٤ + \square$$

$$٩ = \square + ٦$$

$$١٤ = ١ + \square$$

$$٨ = \square + ١$$

$$١٣ = ٨ + \square$$

$$١٧ = ١ + \square$$



عبقري

## حل المسائل:

★ ركب في الباص ١٣ ولد، و ٤ بنات، فما مجموع الذين  
ركبوا في الباص؟




$$\dots\dots\dots = \dots\dots\dots + \dots\dots\dots$$

★ خبزت منى ١٥ كعكة في اليوم الأول، ثم خبزت ٣  
كعكات في اليوم الثاني، فما مجموع الكعك الذي قامت  
بخبزه في اليومين؟




$$\dots\dots\dots = \dots\dots\dots + \dots\dots\dots$$

★ اكل ارنب ٨ جزرات، ثم اكل ٤ جزرات،  
فما مجموع الجزر الذي أكله؟



$$\dots\dots\dots = \dots\dots\dots + \dots\dots\dots$$

قرأ محمد ٩ قصص في يوم السبت، و ٥ قصص  
في يوم الاحد فكم قصة قرأ في اليومين؟



$$\dots\dots\dots = \dots\dots\dots + \dots\dots\dots$$


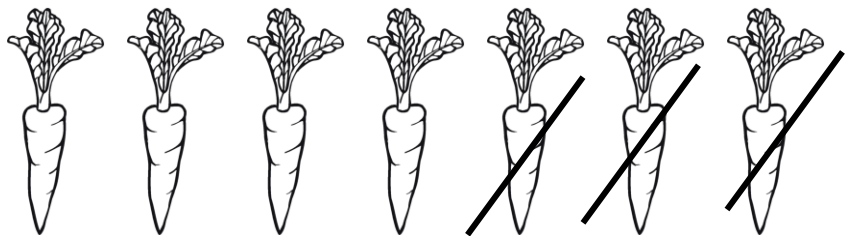


## اشطب لتطرح

$$\square = \square - \square$$



$$\square = \square - \square$$



$$\square = \square - \square$$

## اوجد الناتج :

$$\square = 1 - 2$$

$$\square = 6 - 9$$

$$\square = 5 - 6$$

$$\square = 5 - 7$$

$$\square = 4 - 9$$

$$\square = 4 - 8$$



صل كل بطاقة بالإجابة الصحيحة :

٦ •

• ٥ - ٢

٣ •

• ٦ - ٦

• ٠

• ٧ - ١



مبدع

أوجد الناتج :

$$\begin{array}{l} = ٣ - ١٤ \\ = ١ - ١١ \\ = ٥ - ١٨ \\ = ٤ - ١٧ \end{array}$$

$$= ٩ - ١٩$$

$$= ٥ - ١٩$$

$$= ٠ - ١٧$$

$$= ٢ - ١٦$$

$$= ١ - ١٤$$

$$= ٢ - ١٨$$

$$= ٤ - ١٦$$

$$= ١ - ١٥$$

$$\begin{array}{r} ١٨ \\ - ٣ \\ \hline \end{array}$$


$$\begin{array}{r} ١٦ \\ - ٣ \\ \hline \end{array}$$

$$\begin{array}{r} ١٣ \\ - ١ \\ \hline \end{array}$$

$$\begin{array}{r} ١٤ \\ - ٠ \\ \hline \end{array}$$

$$\begin{array}{r} ١٥ \\ - ٣ \\ \hline \end{array}$$

### حل المسائل :-



\* مع خالد ٩ اقلام ، اعطى اخته ٤ منها .  
فكم بقي معه؟

$$\dots\dots\dots = \dots\dots\dots - \dots\dots\dots$$



\* اشترت سعاد ٦ بالونات ، طار منها ٢  
كم بقي معها؟

$$\dots\dots\dots = \dots\dots\dots - \dots\dots\dots$$



\* صنع نجار ١٩ كرسي خشبي ، باع  
منها ٨ كراسي فكم بقي عنده ؟

$$\dots\dots\dots = \dots\dots\dots - \dots\dots\dots$$



نسال الله العافية لجميع المسلمين  
و أن يحفظ فلذات اكبادنا  
نسألكم الدعاء بظهر الغيب