

دليل مبادئ علم الاقتصاد-المراجعة
الفصل الدراسي الأول



اعداد/ أ. أبو الوفا السمان / معلم الجغرافيا

بالتعاون مع - أ/ منال العسال

اشراف واخراج المذكرات

أ.سعود المونس - رئيس قسم الاجتماعيات

قناة أ. سعود المونس
للاستفسار
WWW.Q84S.COM

www.q84s.com

 @q84skw

 @Social_ar

المقدمة

هذا العمل "النسخة الثالثة المحدثه" إهداء إلى إخواننا الطلبة وأولياء الأمور والمعلمين وهو خالص لوجه الله تعالى ،
يخدم المعلم في تحضير الدروس وإعداد الأسئلة والامتحانات واستحضار المعلومة كما يخدم المعلمين الجدد في ذلك ،
وللطالب في استذكار الدروس والمراجعة ومعرفة طرق صياغة الأسئلة والتدريب عليها ، كما يساعد أولياء الأمور في
تخفيض المصاريف الدراسية والحد من الدروس الخصوصية، وهذا الدليل لا يغني عن كتاب المادة الدراسية والذي
يعتبر المرجع الأول للطالب والمعلم ، ولا يسعنا إلا أن نتقدم بجزيل الشكر للموجهين الفنيين ومدراء المدارس وإدارة
المناهج.



قناة أ. سعود المونس
WWW.Q84S.COM

الفصل الأول/ مقدمة في علم الاقتصاد ص 197-207

السؤال الأول: لاحظ الأشكال التالية ثم أجب عما يليها من أسئلة:

| | |
|--|--|
| <p>● الشكل المقابل يمثل <u>حاجات الفرد المتعددة</u>. ص 198</p> |  |
| <p>● الشكل المقابل يمثل أحد عناصر الموارد الاقتصادية ويسمى <u>الأرض الموارد الطبيعية</u>. ص 201</p> |  |
| <p>● الشكل المقابل يمثل مرحلة من مراحل النشاط الاقتصادي تسمى <u>مرحلة العملية الإنتاجية</u>. ص 202</p> |  |

● **تمرين رقم (2)**

| | | |
|---|--|-------------------------|
|  |  | <p>السلعة</p> |
| <p>2016/9/18</p> | <p>2016/9/3</p> | <p>تاريخ عرض السلعة</p> |

ص 197

أ- اذكر المشكلة التي تتضح لك من خلال دراستك للجدول.

زيادة أسعار السلع والخدمات

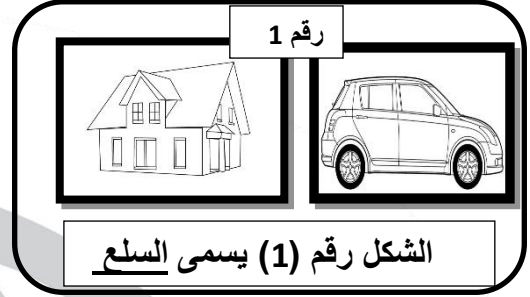

ب- استنتج سبب حدوث هذه المشكلة.

ارتفاع أسعار المواد الأولية المستخدمة لإنتاج هذه السلعة.

ج- اقترح الحلول المناسبة لهذه المشكلة.

زيادة دور الدولة المؤثر في مراقبة إرتفاع أسعار السلع والخدمات والسيطرة عليها ومحاربتها.

السؤال الثاني/ لاحظ الأشكال التالية ثم أكتب المفهوم او المصطلح المناسب لكل من الصور التالية:



السؤال الثالث/أكمل العبارات التالية:

- 1- الملابس والغذاء والعلاج تصنف ضمن نوع من الحاجات وهي السلع.
- 2- كل شيء معنوي غير ملموس يحصل عليه الفرد وينتفع منه بعد شراؤه يسمى الخدمة.
- 3- التعليم الآمن نوع من الحاجات يطلق عليها اسم الخدمات.
- 4- عملية انتاج وتبادل السلع والخدمات بين البائع والمشتري تعرف باسم النشاط الاقتصادي.
- 5- يطلق على الفرد الذي يبيع السلعة اسم البائع.
- 6- الفرد الذي يحصل على السلعة يسمى المشتري.
- 7- الشخص الذي يولف بين ما تحتاجه عملية الانتاج من موارد طبيعية عمال وراس المال اسمه المنظم.
- 8- الجهد الذي يبذله الإنسان سواء بدنيا او ذهنيا لإنتاج السلع والخدمات يعرف باسم العمل.
- 9- الموارد الاقتصادية يمكن تسميتها باسم عناصر الإنتاج.
- 10- المرحلة التي يتم بها انتاج السلع والخدمات بشكلها النهائي هي مرحلة السلع والخدمات.
- 11- السلع التي يستخدمها الفرد مباشرة لا شباع حاجاته تسمى السلع الاستهلاكية.
- 12- السلع التي يستطيع الفرد استخدامها لفترة طويلة مثل المسكن والسيارة سلع استهلاكية معمرة.
- 13- العامل الذي يحول السلعة الاستهلاكية الكمية في الفترة الماضية الى سلعة استهلاكية ضرورية حالياً يسمى الزمن.
- 14- السلع التي لا يستطيع الفرد الاستغناء عنها مثل المسكن والمأكل تعرف بالسلع الضرورية.
- 15- السلع التي يستطيع الفرد التقليل منها أو التوقف عن إستهلاكها مثل الإكسسوار تسمى السلع الكمية.
- 16- العلم الذي يهتم بدراسة كثير من المجالات كالنظم الاقتصادية ودراسة السوق والعرض والطلب والسياسات الاقتصادية يسمى علم الاقتصاد.

- 17- علم يختص بدراسة أنشطة الانسان المتنوعة على سطح بالإضافة الى التوزيع الجغرافي لكل نشاط والعوامل الجغرافية والبشرية المؤثرة يسمى علم الجغرافيا. ص206
- 18- لعلم الاقتصاد علاقة وثيقة بعلم الاجتماع حيث تكمن المشاكل الاجتماعية بوجود مشاكل اقتصادية منها انخفاض مستوى المعيشة -بطالة-ارتفاع الأسعار. ص206
- 19- العلم الذي يدرس القرارات السياسية بأبعادها الاقتصادية يسمى علم السياسة. ص206

السؤال الرابع/اختر الخيار المناسب من بين الخيارات التي تلي كل عبارة مما يلي وضع خطأ تحتها:

- 1- الآلات والمعدات والمباني وغيرها من المواد اللازمة لإنتاج السلع والخدمات تسمى ص201
أ- رأس المال ب- الأرض ج- العمل د- المنظم
- 2- سلعة إستهلاكية غير معمرة لا يستطيع الفرد استخدامها لفترة طويلة مثل ص204
أ- السيارة ب- الدواء ج- المسكن د- الالكترونيات
- 3- العلم الذي يدرس سلوك الانسان بغرض الوصول لا شباع حاجاته المتعددة يسمى ص205
أ- علم السياسة ب- علم الاجتماع ج- علم الجغرافيا د- علم الاقتصاد
- 4- العلم الذي يدرس الجرائم والتفكك الاسرى والسرقة يسمى علم ص206
أ- علم السياسة ب- علم الاجتماع ج- علم الجغرافيا د- علم الاقتصاد
- 5- علم يدرس أنشطة الانسان مثل الزراعة والصناعة والرعي يسمى ص206
أ- علم السياسة ب- علم الاجتماع ج- علم الجغرافيا د- علم الاقتصاد

السؤال الخامس/عرف ما يلي:

أ-الحاجات:

ص198

رغبات الفرد في سبيل الحصول على السلعة او الخدمة.

ب - الخدمة:

ص199

كل شيء معنوي غير ملموس يحصل عليه الفرد وينتفع منه بعد شرائه.

ج-النشاط الاقتصادي:

ص200

عملية انتاج وتبادل السلع والخدمات بين البائع والمشتري.

د -الموارد الاقتصادية (عناصر الإنتاج):

ص201

العناصر المطلوبة والتي تستخدم لانتاج السلع والخدمات في المجتمع.

هـ - عرف علم الاقتصاد:

هو أحد العلوم الاجتماعية الذي يدرس سلوك الانسان بغرض الوصول لا شباع حاجاته المتعددة والمتزايدة في ظل وجود موارد اقتصادية محدودة.

ص205

السؤال السادس/اختر من العمود (أ) ما يناسب العمود (ب) بوضع الرقم في المكان المناسب:

ص201-202

| م | (أ) | الرقم | (ب) |
|---|--------------------------|-------|---|
| 1 | مرحلة السلع والخدمات | 2 | هي مرحلة يتم بها مزج الموارد الاقتصادية المطلوبة في أسلوب انتاج محدد لانتاج سلعة او خدمة. |
| 2 | مرحلة العملية الإنتاجية | 3 | العناصر المطلوبة والتي تستخدم لانتاج السلع والخدمات في المجتمع. |
| 3 | مرحلة الموارد الاقتصادية | 1 | هي مرحلة يتم بها انتاج السلع والخدمات بشكلها النهائي. |

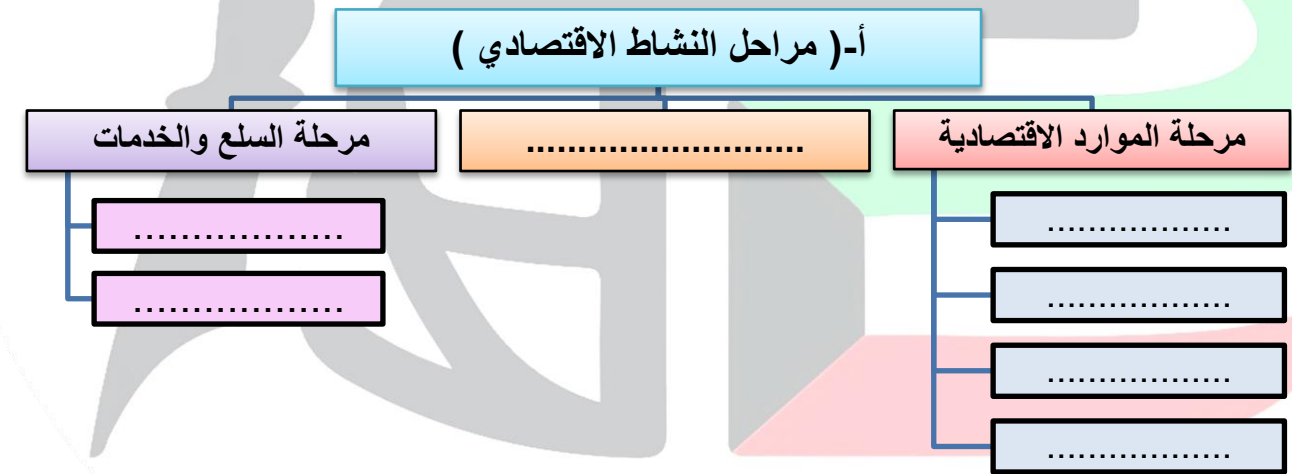
صفحة رقم 6



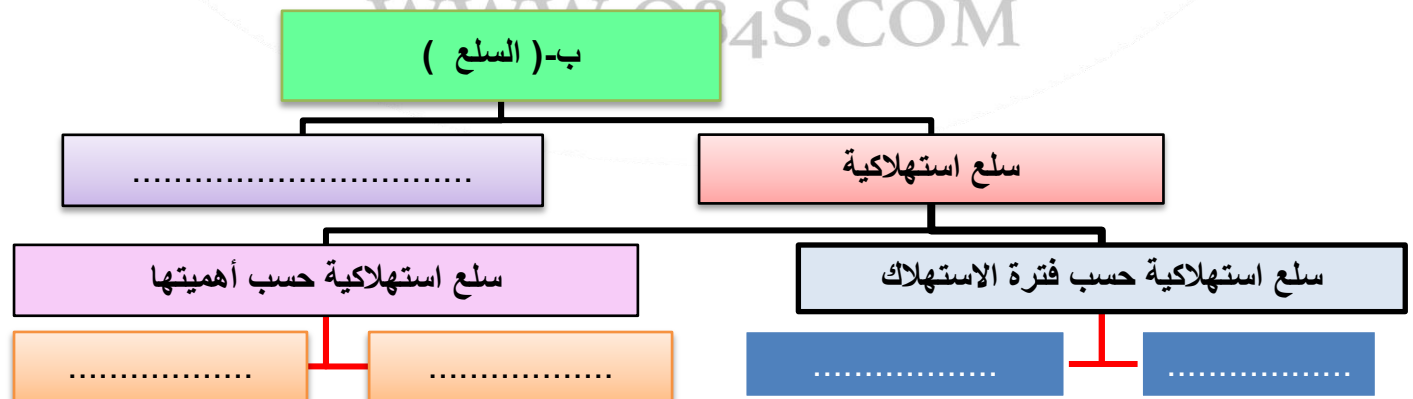
السؤال السابع/ اكتب المصطلح أو المفهوم العلمي الدال على العبارات التالية:

1. (السلعة) كل شيء مادي ملموس حسيًا يحصل عليه الفرد بعد شرائه. ص199
2. (المنظم) الشخص سواء طبيعيًا أو معنويًا الذي يقوم بتأليف ما تحتاجه عملية الإنتاج. ص201
3. (النشاط الاقتصادي) عملية إنتاج وتبادل السلع والخدمات بين البائع والمشتري. ص201
4. (عملية الإنتاج) هي مرحلة يتم بها مزج الموارد الاقتصادية المطلوبة في أسلوب إنتاج محدد لإنتاج سلعة أو خدمة. ص201
5. (السلع الإنتاجية) السلع التي تستخدمها الشركات لزيادة قدرتها الإنتاجية لإنتاج سلع أو خدمات. ص203
6. (علم الاقتصاد) هو أحد العلوم الاجتماعية ويدرس سلوك الإنسان بغرض الوصول لاشباع حاجاته المتعددة في ظل وجود موارد اقتصادية محدودة. ص205

السؤال الثامن/أكمل المخططات السهمية التالية:



ص203



السؤال التاسع/ علل لما يلي:

ص197

أ- يعتبر علم الاقتصاد محور مهم واساسي للحياة اليومية للأفراد داخل المجتمع.

1- يربط بين إمكانيات المجتمع وحاجاته.

2- يرشد الفرد مستهلكاً أو منتجاً لإتخاذ القرار السليم الذي يشبع رغباته.

ص199

ب- تتميز حاجات الفرد بأنها متعددة وغير متناهية.

لان حاجات الفرد تتعدد من السلع كالمأكل والمشرب والسكن والملبس ومن الخدمات كالتعليم والصحة والأمن بل أن احتياج الفرد يتزايد بتزايد أعداد أسرته.

ص205

ج- يسعى كل مجتمع الى الاستفادة من الموارد الاقتصادية المتاحة له.

لإنتاج أكبر قدر من السلع والخدمات التي تحقق الإشباع للأفراد في هذا المجتمع.

ص206

د - ارتباط علم الاقتصاد بكثير من العلوم الأخرى.

لاحتياج العلوم الأخرى تطبيق أدوات علم الاقتصاد في الدراسات والتجارب المستخدمة لتحليل الظواهر الاقتصادية لتلك العلوم.

السؤال العاشر/ صنف ما يلي:

ص199

1 - أمامك مجموعة من الحاجات الاقتصادية صنفها وفق الجدول التالي:

الملابس - الامن - الغذاء - التعليم - العلاج - المنزل - السيارة - تصليح السيارة.

| السلعة | الخدمة |
|-------------------------------|------------------------------------|
| الملابس-الغذاء-المنزل-السيارة | التعليم-الامن-العلاج-تصليح السيارة |

2 - أمامك مجموعة من السلع الاستهلاكية صنفها حسب نوعها في الجدول التالي: ص204

الالكترونيات- المشرب - المسكن - السيارات - الغذاء - الدواء

| سلع استهلاكية معمرة | سلع استهلاكية غير معمرة |
|----------------------------------|--------------------------|
| الالكترونيات - المسكن - السيارات | المشرب - الغذاء - الدواء |

3 - أمامك مجموعة من المشاكل صنفها حسب نوعها في الجدول التالي: ص206

تفكك أسرى - ارتفاع الأسعار - سرقة - بطالة - انخفاض مستوى المعيشة - جرائم

| مشاكل اقتصادية | مشاكل اجتماعية |
|---|--------------------------|
| انخفاض مستوى المعيشة - بطالة - ارتفاع الأسعار | جرائم - تفكك أسرى - سرقة |

السؤال الحادي عشر/فرق بين ما يلي:

| السلعة | الخدمة |
|--|---|
| كل شيء مادي ملموس حسيا يحصل عليه الفرد بعد شرائه. ص199 | كل شئ معنوي غير ملموس يحصل عليه الفرد وينتفع منه بعد شراء. ص199 |
| مرحلة العملية الانتاجية | مرحلة السلع والخدمات |
| هي مرحلة يتم بها مزج الموارد الاقتصادية المطلوبة في أسلوب انتاج محدد لانتاج سلعة أو خدمة. ص202 | هي مرحلة يتم بها انتاج السلع والخدمات بشكلها النهائي. ص202 |
| السلع الاستهلاكية | السلع الانتاجية |
| هي السلع التي يستخدمها الفرد مباشرة لا شباع حاجاته مثل الملابس والمسكن والغذاء وغيرها. ص203 | السلع التي تستخدمها الشركات والمؤسسات لزيادة قدرتها الانتاجية لانتاج سلع او خدمات جديدة مثل الآلات والمعدات. ص203 |

| 4-سلع استهلاكية معمرة | سلع استهلاكية غير معمرة |
|---|---|
| السلع التي يستطيع الفرد استخدامها لفترة طويلة من الزمن - مثل المسكن والسيارة والالكترونيات. | السلع التي لا يستطيع الفرد استخدامها لفترة طويلة من الزمن مثل - المأكل والمشرب والدواء. |
| 5-سلع استهلاكية ضرورية | سلع استهلاكية كمالية |
| هي السلع التي لا يستطيع الفرد الاستغناء عنها مقارنة بالسلع الاخرى - مثل المسكن والمأكل والمشرب. | هي السلع التي يستطيع الفرد التقليل او التوقف عن استهلاكها إذا دعت الحاجة مقارنة بالسلع الاخرى مثل الإكسسوار والمجوهرات والنظارة الشمسية والالعاب الالكترونية. |
| ص204 | ص204 |
| ص204 | ص204 |

ص197

السؤال الثاني عشر/دلل على أهمية دراسة علم الاقتصاد.

- أ-يعتبر محورا رئيسيا ومهما للحياة اليومية للأفراد بحيث يربط امكانيات المجتمع بحاجياته .
- ب-دراسة المشكلات الاقتصادية داخل الدولة والسعي الى ايجاد الحلول المناسبة التي تتوافق مع امكانيات المجتمع وقدراته.

السؤال الثالث عشر/برهن على صحة العبارات التالية:

ص197

أ-دراسة علم الاقتصاد تؤثر في قرار الفرد الاستهلاكي.

لان علم الاقتصاد يساعد الفرد علي إختيار القرار الاستهلاكي الذي يحقق أقصى إشباع من السلع والخدمات بأقل التكاليف وبحدود قدرته المتاحة.

ص205

ب-من أهداف الاقتصاد في الدول تحسين الكفاءة الانتاجية.

- 1-تشجيع الانتاج وتحسين مخرجاته.
- 2-تحقيق أكبر عائد بأقل تكاليف وموارد متاحة.
- 3-تحسين مستوى معيشة الأفراد.
- 4-تحقيق الرفاهية الإجتماعية والاقتصادية.

السؤال الرابع عشر/ أكتب نوع العلاقة أمام كل عبارة في الجدول التالي:

| نوع العلاقة | العبارات |
|-------------|---|
| طردية | سعر السلعة النهائي وأسعار المواد الأولية. ص197 |
| طردية | حاجات الافراد وحجم الأسرة. ص199 |
| طردية | الانشطة الاقتصادية وحاجات الأفراد. ص200 |

السؤال الخامس عشر/ قارن بين الموارد الاقتصادية حسب الجدول التالي:

ص201

| وجه المقارنة | الأرض | العمل | رأس المال | المنظم |
|--------------|--|---|---|--|
| التعريف | تشمل الموارد الطبيعية وكل ما على الأرض وما في باطنها وليس للانسان دخل فيه. | الجهد الذي يبذله الانسان سواء بدنيا او ذهني الانتاج السلع والخدمات. | الآلات والمعدات والمباني وغيرها من المواد اللازمة لا نتاج السلع والخدمات. | الشخص الذي يولف بين لما تحتاجه عملية الانتاج من موارد طبيعية والعمال ورأس المال. |
| الامثلة | مثل المعادن و ثروات البحار والشجر والنفط وغيرها. | مثل العامل. | مثل الآلات والمعدات والمباني والمخزون والسلع الوسيطة. | مثل قيام المنظم باختيار موقع العمل واحتياجاته والاشراف والرقابة. |

السؤال السادس عشر/ برهن بمثال على أن:

1- النشاط الاقتصادي يمر بمراحل متعددة.

سلعة الخبز مثلاً مرت بمراحل حتى تخرج في شكلها النهائي بداية من زراعة القمح – حصاده – مزجه مع مواد أخرى – وضعه في المطاحن الخاصة حتى يخرج في شكله النهائي كسلعة تباع في الأسواق.

2- تركيز بعض الدول في إنتاج سلع لا يحتاجها المجتمع على حساب السلع الأساسية.

إفراط بعض الدول في إنتاج الآلات الحربية على حساب الآلات الزراعية.

ص200

ص205

السؤال السابع عشر/ أكتب فيما يلي:

ص 205

أ- أهداف الاقتصاد:

- 1- تحسين الكفاءة الإنتاجية.
- 2- انتاج السلع والخدمات التي يحتاجها المجتمع.
- 3- التوزيع العادل للدخل.

ص 205

ب- أسس تحقيق التوزيع العادل للدخل.

- 1- قيام المجتمعات علي أساس تكافؤ الفرص.
- 2- الحصول على عائد الإنتاج العادل عن طريق توزيع الدخل على اساس الجهد أو العمل المبذول.

ص 206


السؤال الثامن عشر/ أوجد العلاقة بين علم الاقتصاد وبين كل مما يلي:

| | | |
|-----------------------|---------------|--|
| علاقة علم الاقتصاد بـ | علم الاجتماع | علم الاجتماع يدرس الجرائم والتفكك الاسرى والسرقة وغالبا ما ترجع الى وجود مشاكل اقتصادية مثل انخفاض مستوي المعيشة والبطالة وأرتفاع الأسعار لذا فدراسة سلوك المستهلك تؤدي لعلاج تلك الظواهر. |
| | علم السياسة | تتسم بعض القرارات السياسية بأبعاد اقتصادية وعادة ترتبط الثورات السياسية بالأوضاع الاقتصادية مما يجعل صناع القرار السياسي يضعون الاعتبار الاقتصادية في الاعتبار. |
| | علم الجغرافيا | علم الاقتصاد يدرس السوق والعرض والطلب والنظم الاقتصادية وهذا يرتبط بالجغرافيا الاقتصادية التي تدرس أنشطة الإنسان مثل الزراعة والصناعة والرعي والصيد وتوزيعها. |
| | علم الاحصاء | تحتاج تحليل الظواهر والمشاكل الاقتصادية الى اساليب وطرق احصائية من جمع البيانات وتبويب وتحليل. |

الفصل الثاني/ طبيعة المشكلة الاقتصادية ص211-216

السؤال الأول/ لاحظ الأشكال التالية ثم أجب عما يليها:

1- الشكل المقابل يمثل أحد خصائص
المشكلة الاقتصادية تسمى الندرة.
ص211



2- الشكل المقابل يمثل أحد خصائص
المشكلة الاقتصادية تسمى الاختيار.
ص212



3- الشكل المقابل يمثل أحد خصائص
المشكلة الاقتصادية تسمى التضحية.
ص212



4- الشكل المقابل يمثل أضلاع المشكلة الاقتصادية.
ص213



السؤال الثاني/أكمل العبارات التالية:

- 1-الاسم الذي يطلق على نظام اقتصاديات السوق الاقتصاديات الرأسمالية. ص215
- 2-يعتمد نظام اقتصاديات السوق على فكر الحرية الاقتصادية. ص215
- 3-الفكر الذي يستمد منه نظام اقتصاديات التخطيط المركزي من الفكر الاشتراكي. ص215
- 4-العالمان اللذان تبنيان نظام اقتصاديات التخطيط المركزي كارل ماركس وفريدريك أنجلز. ص215
- 5-الاسم الذي يعرف به نظام اقتصاديات التخطيط المركزي في القرن 20 باسم الفكر الماركسي. ص215
- 6-التعامل مع الخلل الموجود في اقتصاد أي دولة يعتمد على التعرف على المشكلة الاقتصادية. ص215
- 7-اقتصاديات السوق يعتمد على فكر الحرية الاقتصادية الذي نادى به العالم الاقتصادي آدم سميث. ص215
- 8-يعتمد نظام اقتصاديات السوق على فكر الحرية الاقتصادية. ص215
- 9-نظام اقتصادي يقوم على أساس الحرية والتملك بالاقتصاد النظام الرأسمالي. ص215
- 10-أحد الأنظمة الاقتصادية التي تقوم على مبدأ العدالة الاجتماعية بمساعدة الفقراء والتوزيع العادل للدخل يسمى النظام الإسلامي. ص216
- 11-التركيز على المنافسة بين البائعين من صفات نظام اقتصادي يسمى اقتصاديات السوق. ص216

WWW.Q84S.COM



السؤال الثالث/اختر البديل المناسب من بين البدائل التالية وضع تحتها خطأ:

- ص216** 1. الملكية الخاصة للموارد الاقتصادية تعتبر من أهم مبادئ:
أ-النظام الاسلامي
ب-النظام المختلط
ج-نظام اقتصاديات السوق
د-نظام اقتصاديات التخطيط المركزي
- ص216** 2. النظام الاقتصادي الذي يقوم على مبدأ العدالة الاجتماعية والتوزيع العادل للدخل هو: ...
أ-النظام الاسلامي
ب-النظام المختلط
ج-نظام اقتصاديات السوق
د-نظام اقتصاديات التخطيط المركزي
- ص216** 3. يجمع بين نظام اقتصاديات السوق ونظام اقتصاديات التخطيط المركزي:
أ-النظام الاسلامي
ب-النظام المختلط
ج-نظام اقتصاديات السوق
د-نظام اقتصاديات التخطيط المركزي
- ص216** 4. ملكية الموارد الاقتصادية في نظام اقتصاديات التخطيط المركزي تكون:
أ-خاصة
ب-عامة
ج-خاصة وعامة
د-مختلط

السؤال الرابع/اختر من العمود (أ) ما يناسب العمود (ب) بوضع الرقم في المكان المناسب:

ص211-212

| (أ) | الرقم | (ب) |
|-------------|-------|--|
| 1- الندرة | 2 | اختيار كمية من السلع والخدمات من بين عدة بدائل لانتاجها بحسب أهميتها للمجتمع. |
| 2- الاختيار | 3 | اختيار سلع وخدمات من بين بدائل مختلفة بسبب محدودية الموارد الاقتصادية المتاحة. |
| 3- التضحية | 1 | وجود موارد اقتصادية محدودة لانتاج كمية من السلع والخدمات تقل عن حاجات الافراد. |

السؤال الخامس/عرف ما يلي:

أ - اقتصاديات السوق:

ص215

يطلق عليه الاقتصاديات الرأسمالية ويقوم على أساس الحرية والتملك بالاقتصاد والتي نادى بها آدم سميث في القرن 18 من بين الدول التي تأخذ بهذا النظام الولايات المتحدة الأمريكية واليابان وفرنسا وكوريا الشمالية.

ب - اقتصاديات التخطيط المركزي:

ص215

يقوم على أساس أن الدولة هي من تقوم بالتخطيط للنشاط الاقتصادي والإنتاج في المجتمع وهو مستمد من الفكر الاشتراكي لكارل ماركس وفريدريك أنجلز من بين الدول التي تأخذ بهذا النظام روسيا وكوريا الشمالية وكوبا.

السؤال السادس/علل لما يأتي:

ص211

1-المشكلة الاقتصادية أساس اهتمام المجتمعات.
-بسبب وجود الفجوة بين الحاجات والموارد الاقتصادية.

ص215

2-تختلف النظم الاقتصادية من دولة لأخرى.
أ-لاختلاف ملكية الموارد الاقتصادية سواء أكانت ملكية خاصة أو عامة.
ب-دور الدولة بالاقتصاد.
ج-تحديد أسعار السلع والخدمات.

ص216

3-تسمية نظام الاقتصاد الإسلامي بهذا الاسم.
-حيث تتم ممارسة الأنشطة الاقتصادية على أساس القواعد والأسس المتوافقة مع الشريعة الإسلامية والمنبثقة من القرآن الكريم والأحاديث الشريفة.

السؤال السابع/ أكتب فيما يلي:

ص211

1-أسباب ظهور المشكلات الاقتصادية في المجتمعات.
-تظهر المشكلات الاقتصادية لأن الموارد الاقتصادية أما نادرة أو محدودة ولا تلبي حاجات السكان المتعددة والمتزايدة.

ص215

2-الأسس التي يقوم عليها اقتصاديات السوق.
أ- الحرية.
ب- التملك بالاقتصاد.

ص215

3-المميزات التي يتميز بها افراد نظام اقتصاديات السوق.
أ-تحقيق وتعظيم مصالحهم الخاصة من استهلاك وإنتاج.
ب-حيث إن الفرد يستطيع القيام بأي نشاط اقتصادي يرغب فيه.

ص215

4-الأسس التي يقوم عليها نظام اقتصاديات التخطيط المركزي.
أن الدولة هي من تقوم بالتخطيط للنشاط الاقتصادي والإنتاج في المجتمع.

ص216

5-اساس المشكلة الاقتصادية في نظام الاقتصادي الإسلامي.
أ-ليست الندرة فقط هي اساس المشكلة الاقتصادية.
ب-يضاف للندرة السلوك والمعاملات التي يقوم بها الأفراد في المجتمع.

السؤال الثامن/ فسر العبارات التالية:

ص215

1. صعوبة تطبيق الدول النظم الاقتصادية بشكلها الكامل.
أ-اختلاف تعامل الدول للموارد الاقتصادية النادرة.
ب-تباين التجارب الناجحة لهذه الدول.

ص215

2. لجوء كثير من الدول الى تبني نظم اقتصادية مختلطة.

أ-وجود صعوبة لدى الدول بتطبيق النظم الاقتصادية بشكلها الكامل.
ب-اختلاف تعامل الدول للموارد الاقتصادية النادرة.
ج-تباين التجارب الناجحة لتلك الأنظمة.
د-لتلافي عيوب نظام اقتصاديات السوق ونظام اقتصاديات التخطيط المركزي.

السؤال التاسع/ فرق بين ما يلي:

1 -المشكلة الاقتصادية والندرة.

ص211

| الندرة | المشكلة الاقتصادية |
|--|---|
| الخاصية التي تتميز بوجود موارد اقتصادية محدودة لانتاج كمية من السلع والخدمات تقل عن حاجات الافراد. | وجود ندرة نسبية للموارد الاقتصادية المتاحة بسبب حاجات الأفراد المتزايدة في ظل محدودية الموارد الاقتصادية. |

ص216

2 -النظام الاقتصادي المختلط والنظام الاقتصادي الإسلامي.

| النظام الاقتصادي الإسلامي | النظام الاقتصادي المختلط |
|---|--|
| يقوم على اساس القواعد والاسس المتوافقة مع الشريعة الاسلامية من القران والسنة. | يقوم على الاستفادة من خصائص النظام الرأسمالي والاشتراكي وتلافي عيوبهما وينتشر هذا النظام بين الكثير من دول العالم. |

السؤال العاشر/دلل على تعدد المعايير التي تتبعها الانظمة الاقتصادية المختلفة لحل المشكلة الاقتصادية.

أ-معيان نظام ملكية الأفراد للموارد الاقتصادية.

ب-معيان دور الحكومة في الاقتصاد.

ج-معيان طريقة تحديد أسعار السلع والخدمات في الدولة.

السؤال الحادي عشر/اقترح خطة لمعالجة المشكلة الاقتصادية في دولتك.

يمكن معالجة المشكلة الاقتصادية بالإجابة على التساؤلات الثلاثة وهي:

(أ) ماذا ننتج: من خلال معرفة وتحديد كميات السلع والخدمات التي يحتاجها المجتمع.

(ب) كيف ننتج: معرفة الطريقة الأقل تكلفة لإنتاج السلع والخدمات التي يحتاجها المجتمع.

(ج) لمن ننتج: كيف نوزع الكميات المنتجة من السلع والخدمات بشكل عادل علي أفراد المجتمع.

السؤال الثاني عشر/أجب عما يلي:

ص215

- 1 - أعطي أمثلة للدول التي تطبق نظام اقتصاديات السوق.
- أ-الولايات المتحدة الأمريكية.
 - ب-اليابان.
 - ج-ألمانيا.
 - د-كوريا الجنوبية.

ص215

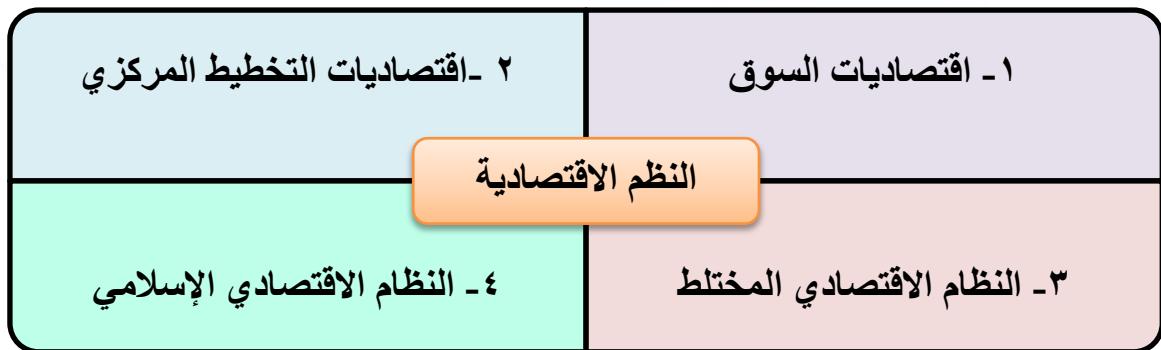
- 2 - النظرية التي تبناها العالمان كارل ماركس و فريدريك أنجلز في القرن 19.
- أ-نظرية نزع ملكية الرأسماليين للموارد الاقتصادية.
 - ب-إعادة توزيع الثروات بين أفراد المجتمع.

ص215

- 3 - عدد أهم الدول التي تطبق هذا نظام اقتصاديات التخطيط المركزي أو الفكر الماركسي.
- أ-كوريا الشمالية.
 - أ-كوبا.
 - ج-الاتحاد السوفيتي 1922م.
 - د-الصين 1949م.

ص215-216

السؤال الثالث عشر/أكمل المخطط التالي الذي يبين الأنظمة الاقتصادية.



ص216

السؤال الرابع عشر/صنف صفات الأنظمة الاقتصادية حسب الجدول التالي:

الملكية الخاصة للموارد الاقتصادية - الملكية العامة للموارد الاقتصادية - الملكية الخاصة والعامة للموارد الاقتصادية - يجمع بين نظام اقتصاديات السوق ونظام اقتصاديات التخطيط المركزي - التخطيط المركزي من قبل الحكومة للنشاط الاقتصادي - تقوم الحكومة بدور تنظيم الحياة الاقتصادية - تقوم الحرية الاقتصادية بحدود الحلال والحرام في المعاملات المالية - التركيز على المنافسة بين البائعين - تحدد الحكومة كمية الانتاج وكيفية توزيع الدخل بين الأفراد - تقوم على مبدأ العدالة الاجتماعية بمساعدة الفقراء والتوزيع العادل للدخل - تحقيق أعلى الأرباح والمنافع للمستهلكين والمنتجين.

| اقتصاديات السوق | اقتصاديات التخطيط المركزي | النظام المختلط | النظام الإسلامي |
|--|--|---|--|
| الملكية الخاصة للموارد الاقتصادية | الملكية العامة للموارد الاقتصادية | الملكية الخاصة والعامة للموارد الاقتصادية | الملكية الخاصة والعامة للموارد الاقتصادية |
| التركيز على المنافسة بين البائعين | التخطيط المركزي من قبل الحكومة للنشاط الاقتصادي | يجمع بين نظام اقتصاديات السوق ونظام اقتصاديات التخطيط المركزي | تقوم الحرية الاقتصادية بحدود الحلال والحرام في المعاملات المالية |
| تحقيق أعلى الأرباح والمنافع للمستهلكين والمنتجين | تحدد الحكومة كمية الانتاج وكيفية توزيع الدخل بين الأفراد | تقوم الحكومة بدور تنظيم الحياة الاقتصادية | تقوم على مبدأ العدالة الاجتماعية بمساعدة الفقراء والتوزيع العادل للدخل |

السؤال الخامس عشر/اقرأ الفقرة التالية ثم أجب عما يلي:

تركز الأنظمة الاقتصادية المختلفة على مجموعة من القواعد تؤثر في طريقتها واسلوبها في التعامل مع المشكلة الاقتصادية وقد تعتمد هذه الأنظمة في حلها على ثلاثة معايير رئيسية، منها معيار نظام ملكية الافراد للموارد الاقتصادية.

أ-عرف ما تحته خط.

وجود ندرة نسبية للموارد الاقتصادية المتاحة بسبب حاجات الأفراد المتزايدة في ظل محدودية الموارد الاقتصادية.

ب-عدد خصائص المشكلة الاقتصادية.

أ-الندرة

ب-الاختيار

ج-التضحية

السؤال السادس عشر/قارن بين أنظمة اقتصاديات السوق واقتصاديات التخطيط المركزي لحل المشكلة الاقتصادية.

ص 216

| اقتصاديات التخطيط المركزي | اقتصاديات السوق | معايير الأنظمة في حل المشكلة الاقتصادية |
|---------------------------|--------------------------------|---|
| عامة | خاصة | ملكية الموارد الاقتصادية |
| مركزي لاتخاذ القرار | إشرافي لسن القوانين الاقتصادية | دور الحكومة |
| الحكومة | السوق عن طريق الطالب والعرض | تحديد الأسعار |

الفصل الثالث: اقتصاد الأفراد والأعمال ص 221-236

السؤال الأول/لاحظ الشكل المقابل جيداً ثم أجب عما يلي:



ص 225

أ-ما سلوك المشتري اتجاه التخفيضات على الأسعار من وجهة نظرك.

عندما يكون هناك تخفيضات على الأسعار يقوم المشترون بشراء كميات أكبر وفي بعض الحالات التي لا تتأثر به الكمية المطلوبة حتى لو ارتفع سعرها وذلك لأسباب مختلفة ففي شهر رمضان المبارك رغم ارتفاع أسعار السلع الغذائية إلا أن الأسر تستمر بشراء هذه السلع.

ص 230

ب-حدد سلوك المنتج اتجاه التخفيضات على الأسعار.

يسعى المنتج لإنتاج كميات أكبر عندما ترتفع الأسعار ويخفض إنتاجه عندما تنخفض الأسعار.

السؤال الثاني: أكمل العبارات التالية:

ص 221

1-أغلب ما ينفق عليه الأفراد الأموال هي الخدمات.

2-الحيز أو الوسط التي تتم خلاله مبادلة السلع والخدمات بين البائعين والمشتريين بمقابل يسمى السوق.

ص 222

3-إسم يطلق علي البائع في الاقتصاد يسمى العرض.

ص 222

4-أسم يطلق على المشتري في الاقتصاد يسمى الطلب.

5-السوق الأكثر ندرة في الواقع العملي ويعتبر سوق افتراضي والوضع الأمثل اقتصادياً يسمى سوق

ص 222

المنافسة الكاملة.

ص223

6-السوق الذي يعد الأسوأ اقتصادياً يسمى سوق الاحتكار.

ص223

7-السوق الذي يعد خليط بين سوق المنافسة الكاملة والاحتكار يسمى سوق المنافسة الاحتكارية.

ص223

8-السوق الذي ينشأ عندما يكون هناك بائع واحد في السوق يسمى سوق الاحتكار.

ص224

9-السوق الأكثر انتشاراً بعد سوق المنافسة الاحتكارية يسمى سوق احتكار القلة.

10-القانون الذي ينص على أن "هناك علاقة عكسية بين الكمية المطلوبة والسعر "

ص228

يسمى قانون الطلب.

السؤال الثالث/ اختر البديل المناسب من بين البدائل التالية وضع تحتها خطأ:

ص222

1-الشخص الذي لديه سلعة أو خدمة يرغب في بيعها بمقابل سعر معين هو
أ-سوق ب-بائع ج-مشتري د-سلعة

ص222

2-الشخص الذي يرغب بشراء سلعة أو خدمة بمقابل مادي هو
أ-سلعة ب-بائع ج-سوق د-مشتري

ص222

3-السوق الذي يعتبر أكثر ندرة في الواقع العملي ويعد الأمثل اقتصادياً هو سوق
أ-الاحتكار ب-المنافسة الاحتكارية ج-المنافسة الكاملة د-احتكار القلة

ص223

4-السوق الذي يعد الأسوأ اقتصادياً حيث يعتمد على منتج (بائع) واحد هو سوق
أ-الاحتكار ب-المنافسة الاحتكارية ج-المنافسة الكاملة د-احتكار القلة

ص225

5-الشرط المهم لكي يتحقق قانون الطلب هو
أ-ثبات محددات الطلب ب-تناقص محددات الطلب ج-تزايد محددات الطلب د-تذبذب محددات الطلب

ص230

6-إذا انخفضت تكاليف إنتاج القطن مع ثبات سعر القطن في السوق فإن الأثر المتوقع هو
أ-تزايد الكمية المعروضة من القطن ب-تقل الكمية المعروضة من القطن ج-ثبات الكمية المعروضة من القطن د-تذبذب الكمية المعروضة

ص230

7-إذا ارتفعت تكاليف إنتاج القمح مع ثبات سعر القمح في السوق فإن الأثر المتوقع هو
أ-تزايد الكمية المعروضة من القمح ب-تقل الكمية المعروضة من القمح ج-ثبات الكمية المعروضة من القمح د-تذبذب الكمية المعروضة من القمح

ص 231

8- إذا قامت الدولة بدعم منتجي التمور فإن الأثر المتوقع هو.....

- ب- انخفاض الكمية المعروضة من التمور
د- ثبات الكمية المعروضة

- أ- زيادة الكمية المعروضة من التمور
ج- انخفاض الكمية المطلوبة من التمور

ص 231

9- نوع العلاقة بين التطور التقني والكميات التي ينتجها المنتج علاقة.....

د- طردية

ج- متذبذبة

ب- سببية

أ- عكسية

ص 234

10- عندما تتساوى الكمية المعروضة مع الكمية المطلوبة عند سعر معين يطلق عليه.....

د- عجز عرض

ج- توازن السوق

ب- فائض عرض

أ- فائض طلب

السؤال الرابع: عرف ما يلي:

ص 221

1- المفهوم الحديث للسوق:

الحيز أو الوسط التي تتم خلاله مبادلة السلع والخدمات بين البائعين والمشتريين بمقابل نقدي.

ص 222

2- بائع:

الشخص أو الجهة التي لديها سلعة أو خدمة يرغب ببيعها مقابل سعر معين.

ص 222

3- تجانس:

التطابق بحيث لا يكون هناك أي اختلاف بين السلع المباعة بهذا السوق.

ص 225

4- قانون الطلب:

وجود علاقة عكسية بين الكمية المطلوبة للسلعة وسعرها مع ثبات العوامل الأخرى.

ص 230

5- قانون العرض:

وجود علاقة طردية بين السعر والكمية المعروضة بافتراض ثبات العوامل الأخرى.

ص 231

6- جدول العرض:

جدول يبين الكميات التي يرغب بعرضها أو بيعها المنتج عند كل مستوى سعري.

ص 234

7- توازن السوق:

يتحقق توازن السوق عند السعر الذي تتساوى فيه الكمية المعروضة مع الكمية المطلوبة وعندها فلا يوجد فائض عرض أو فائض طلب.

السؤال الخامس/فرق بين:

1-البائع والمشتري.

ص222

| البائع | المشتري |
|--|--|
| الشخص أو الجهة التي لديها سلعة أو خدمة يرغب ببيعها مقابل سعر معين. | الشخص أو الجهة التي ترغب بشراء سلعة أو خدمة بمقابل مادي. |

2-جدول الطلب ومنحنى الطلب.

ص227- 228

| جدول الطلب | منحنى الطلب |
|---|---|
| جدول يبين الكميات المطلوبة من سلعة معينة عند مستويات مختلفة من الأسعار. | تحويل المعلومات الموجودة بجدول الطلب إلى منحنى يوضح العلاقة بين السعر والكمية المطلوبة. |

3-مفهوم السوق قديماً وحديثاً.

ص221

| مفهوم السوق قديماً | مفهوم السوق في الوقت الحاضر |
|---|---|
| كان ينحصر في مكان معين يتواجد به التاجر والبضائع ويذهب إليه المشترون وتتم عملية مبادلة النقود بالسلع. | في الوقت الحاضر أصبح مفهوم السوق أشمل وأوسع فأصبحت السلع تباع من خلال المواقع الالكترونية أو بالاتصال الهاتفي تطور مفهوم السوق من مكان محدد إلى مفهوم واسع لا يمكن تحديده في حيز محدود. |

السؤال السادس /علل لما يلي:

1-السوق حالياً غير محصور في حيز محدود.

ص221

- أ-السوق حالياً أصبح أشمل وأوسع فأصبحت السلع تباع من خلال المواقع الالكترونية أو بالاتصال الهاتفي.
ب-تطور مفهوم السوق من مكان محدد إلى مفهوم واسع لا يمكن تحديده في حيز محدود.

2-وجود علاقة طردية بين الطلب على السلعة البديلة والسلعة الأخرى.

ص227

- لأنه في حال ارتفاع سعر السلعة البديلة سيرتفع الطلب على السلعة الأخرى وفي حال انخفاض سعر السلعة البديلة سينخفض الطلب على السلعة الأخرى.

ص 227

3-تؤثر توقعات الأسعار على قرارات الفرد .

-أن توقعات ارتفاع الأسعار في المستقبل ستزيد الطلب اليوم، والتوقعات بانخفاضها ستقلل الطلب اليوم.

ص 229

4-أهمية استخدام منحنى الطلب لرجال الاقتصاد.

أ-يعكس العلاقة العكسية بين الكمية المطلوبة والسعر.

ب-يبين الكميات المطلوبة عند مستويات مختلفة من السعر.

ص 231

5-يؤثر التطور التقني في العرض.

-التطور التقني يؤثر في كمية الإنتاج فكلما تطورت أساليب الإنتاج يستطيع المنتج زيادة إنتاجه بتكاليف أقل وأسرع.

السؤال السابع/أكمل المخططات السهمية التالية:

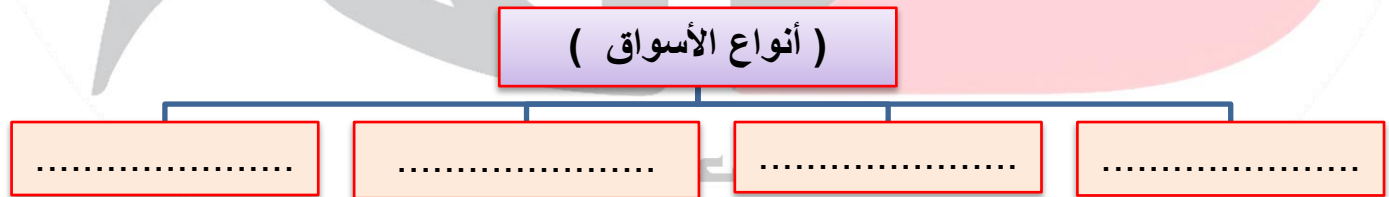
ص 221

- 1



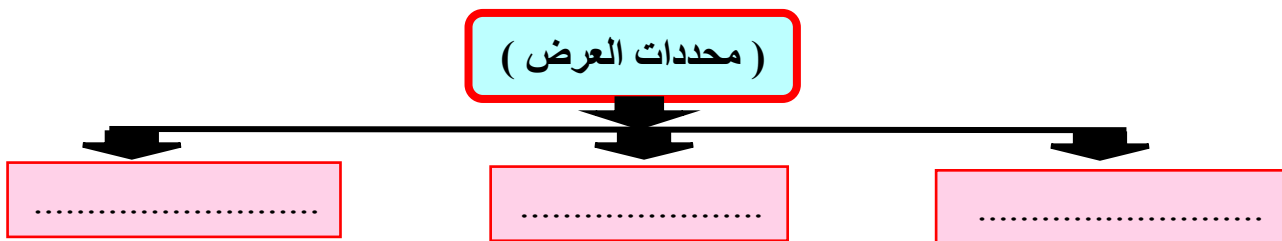
ص 222

- 2



ص 230

-3



السؤال الثامن/ فسر العبارات التالية:

ص223

1-سوق الاحتكار يعتبر أسوأ الأسواق من الناحية الاقتصادية.
أ-وجود بائع وحيد في السوق.

ب-السلعة في السوق وحيدة وليس لها بدائل.

ج-وجود عوائق كثيرة تمنع المنافسين من دخول السوق. (قانونية كمنع تراخيص للمنافسين).

د-البائع (المحتكر) هو من يتحكم في السعر.

ص222

2-الأهمية الاقتصادية الكبيرة لسوق المنافسة الكاملة.

أ-وجود عدد كبير من البائعين والمشتريين للسلعة.

ب-تجانس السلعة في السوق.

ج-توافر المعلومات لدي المشتريين والبائعين.

د-حرية الدخول إلى السوق والخروج منه.

هـ-المنتج [البائع] لا يتحكم في هذا السوق.

ص227

3-العلاقة عكسية بين السلعة المكملة والسلعة الأخرى.

ارتفاع سعر السلعة المكملة سينخفض الطلب على السلعة الأخرى.

ص230

4-أهمية العرض (المنتج) في مكونات السوق.

أ-يبين الكميات المختلفة التي يرغب المنتج ببيعها بأسعار معينة.

ب-يسعي المنتج للربح فينتج كميات كبيرة عندما ترتفع الأسعار ويخفض الإنتاج عندما تنخفض الأسعار.

ص230

5-تأثير تكاليف الإنتاج في العرض.

أ-عند انخفاض تكاليف عناصر الإنتاج مع ثبات سعر السلعة فإن هامش ربح المنتج يرتفع و عليه يستطيع المنتج عرض وإنتاج كمية أكبر من السلعة.

ب-العكس صحيح فعند ارتفاع تكاليف عناصر الإنتاج مع ثبات سعر السلعة سيعمل المنتج إلى تخفيض إنتاجه من السلعة.

السؤال التاسع/قارن بين ما يلي:

أ-أنواع الأسواق من حيث المميزات.

ص222-223-224

| م | نوع السوق | المميزات والسمات |
|---|-------------------------|--|
| 1 | سوق المنافسة الكاملة | <ul style="list-style-type: none"> وجود عدد كبير من البائعين والمشتريين للسلعة. تجانس السلعة في السوق. توافر المعلومات لدى المشتريين والبائعين. حرية الدخول إلى السوق والخروج منه. المنتج [البائع] لا يتحكم في هذا السوق. |
| 2 | سوق الاحتكار | <ul style="list-style-type: none"> وجود بائع وحيد في السوق. السلعة في السوق وحيدة وليس لها بدائل. وجود عوائق كثيرة تمنع المنافسين من دخول السوق. البائع (المحتكر) هو من يتحكم في السعر. |
| 3 | سوق المنافسة الاحتكارية | <ul style="list-style-type: none"> كثرة عدد البائعين والمشتريين. حرية دخول وخروج البائعين من السوق. عدم تطابق السلع، فقد تختلف من حيث الشكل والنوعية والجودة. قدرة البائع على التحكم في السعر. |
| 4 | سوق احتكار القلة | <ul style="list-style-type: none"> عدد البائعين في هذه السوق قليل. السلع بدائل قريبة جداً من بعضها بعضاً. قرارات المتنافسين في هذه السوق تؤثر على بعضهم بعضاً. |

قناة أ. سعود المونس
WWW.Q84S.COM



ب- الأنواع الرئيسية لتركيب السوق من حيث عدد المنتجين ونوع الإنتاج والتحكم في السعر وحرية دخول السوق.

ص222-224

| وجه المقارنة | المنافسة الكاملة | المنافسة الاحتكارية | احتكار القلة | الاحتكار |
|-----------------|------------------------|---------------------|-------------------|------------------|
| عدد المنتجين | عدد كبير | كثير | قليل | بائع وحيد |
| نوع الإنتاج | كثير ومتجانس | متنوع | للسلع بدائل كثيرة | السلعة وحيدة |
| التحكم في السعر | البائع لا يتحكم بالسعر | البائع | البائع | البائع (المحتكر) |
| حرية دخول السوق | حرية كاملة | حرية كاملة | حرية قليلة | مغلقة |

السؤال العاشر/ أجب عما يلي:

ص227

1- حدد العلاقة بين توقعات الأسعار والطلب على السلع.

- أن التوقع لارتفاع الأسعار في المستقبل ستزيد الطلب اليوم، والتوقعات بانخفاضها ستقل الطلب اليوم.

ص231

2- حدد كيف تتدخل الدولة في العرض.

أ- تفرض الدولة الضرائب على السلع لتقليل الاستهلاك والضريبة ترفع سعر السلع والارتفاع لصالح الحكومة فيخفض التاجر الإنتاج.

ب- تلجأ الحكومة لدعم السلع المهمة حيث تتحمل الدولة جزء من قيمة السلعة فالسعر لدي المشتري أقل من السعر للتاجر فيلجأ لزيادة الإنتاج.

ص225

3- حدد قانون الطلب.

كلما ارتفع سعر سلعة معينة يضطر الشخص لشراء كمية أقل من هذه السلعة، وكلما تراجع سعر السلعة نشترى كمية أكبر، وفي بعض الحالات لا تتأثر الكمية المطلوبة للشراء حتى لو ارتفع السعر (شهر رمضان).

قناة أ. سعود المونس
WWW.Q84S.COM

السؤال الحادي عشر/أقرأ الفقرات التالية ثم نفذ ما هو مطلوب منك:

1- "ذهب احمد لشراء 5 علب من مشروبة المفضل (صودا بنكهة الكولا) من السوق المركزي وعندما وصل وجد عرض خصم على 50% على سعر الصودا بالليمون وهنا اشترى احمد الصودا بالليمون"

ص227

أ- استخرج اسم السلعة البديلة في الفقرة السابقة.

-الصودا بالليمون.

ص227

ب- ما العلاقة بين سعر السلعة البديلة والطلب على السلعة الأخرى.
علاقة طردية في حال ارتفاع سعر السلعة البديلة سيرتفع الطلب على السلعة الأخرى وفي حال انخفاض سعر السلعة البديلة سينخفض الطلب على السلعة الأخرى.

ص231

2- إذا علمت أن الحكومة فرضت زيادة في السعر على سلعة ما وهو 4 دينار.

أ- ما اسم الزيادة التي فرضتها الحكومة على هذه السلعة.
-الضرائب.

ب- ما هدف الحكومة من فرض الزيادة على هذه السلعة.
تقليل الاستهلاك أو انتاج هذه السلعة.

ج- ما الجهة المستفيدة من هذه الزيادة.
-الحكومة.

د- ما الإجراءات التي تتخذها الحكومة من أجل دعم وتثبيت سعر سلع مهمة.
تتحمل الدولة جزء من قيمة السلعة فالسعر لدى المشتري أقل من السعر للتاجر فيلجأ لزيادة الإنتاج.

قناة أ. سعود المونس

www.Q84S.COM

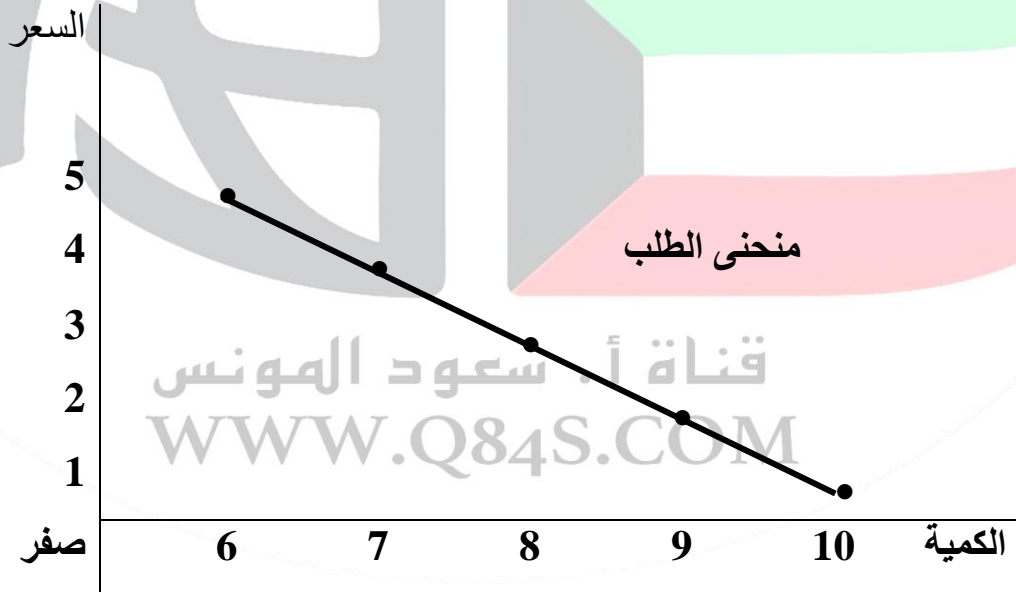


السؤال الثاني عشر/ الجداول والرسوم البيانية:

• **تمرين رقم (1)**

1- أدرس الجدول التالي الذي يمثل كمية المطلوبة من التفاح مقارنة بالسعر ثم نفذ المطلوب. ص 229
 أ- ارسم منحنى بياني لجدول الطلب على التفاح.

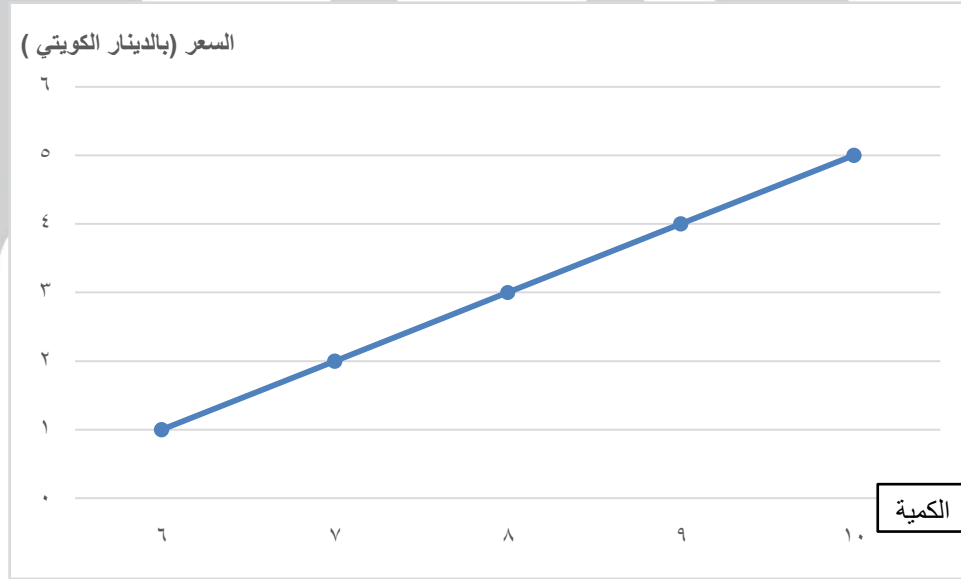
| الكمية المطلوبة من التفاح | السعر | |
|------------------------------|---------|----|
| 10 | 1 دينار | أ |
| 9 | 2 دينار | ب |
| 8 | 3 دينار | ج |
| 7 | 4 دينار | د |
| 6 | 5 دينار | هـ |



• **تمرين رقم (2)**

2- أدرس الجدول التالي الذي يمثل كمية العرض من التفاح مقارنة بالسعر ثم نفذ المطلوب. ص 229
 أ- ارسم منحنى بياني لجدول العرض على التفاح.

| الكمية المعروضة | السعر | |
|-----------------|---------|----|
| 10 | 5 دينار | هـ |
| 9 | 4 دينار | د |
| 8 | 3 دينار | ج |
| 7 | 2 دينار | ب |
| 6 | 1 دينار | أ |



منحنى العرض

فضاء أ. سعود المونس
 WWW.Q84S.COM

• **تمرين رقم (3)**

ص 234

ج- ادرس الجداول التالي جيداً ثم نفذ ما هو مطلوب منك.

| السعر (دينار كويتي) | الكمية المطلوبة | الكمية المعروضة | فائض الطلب والعرض في السوق |
|---------------------|-----------------|-----------------|----------------------------|
| أ | 1 | 10 | 6 |
| ب | 2 | 9 | 7 |
| ج | 3 | 8 | 8 |
| د | 4 | 7 | 9 |
| هـ | 5 | 6 | 10 |
| | | | فائض عرض بمقدار 4 |

• أوجد السعر التوازني في السوق.

3

• الكمية التوازنية في هذا السوق.

8

• أكمل الناقص من الجدول السابق (بحساب فائض الطلب والعرض).

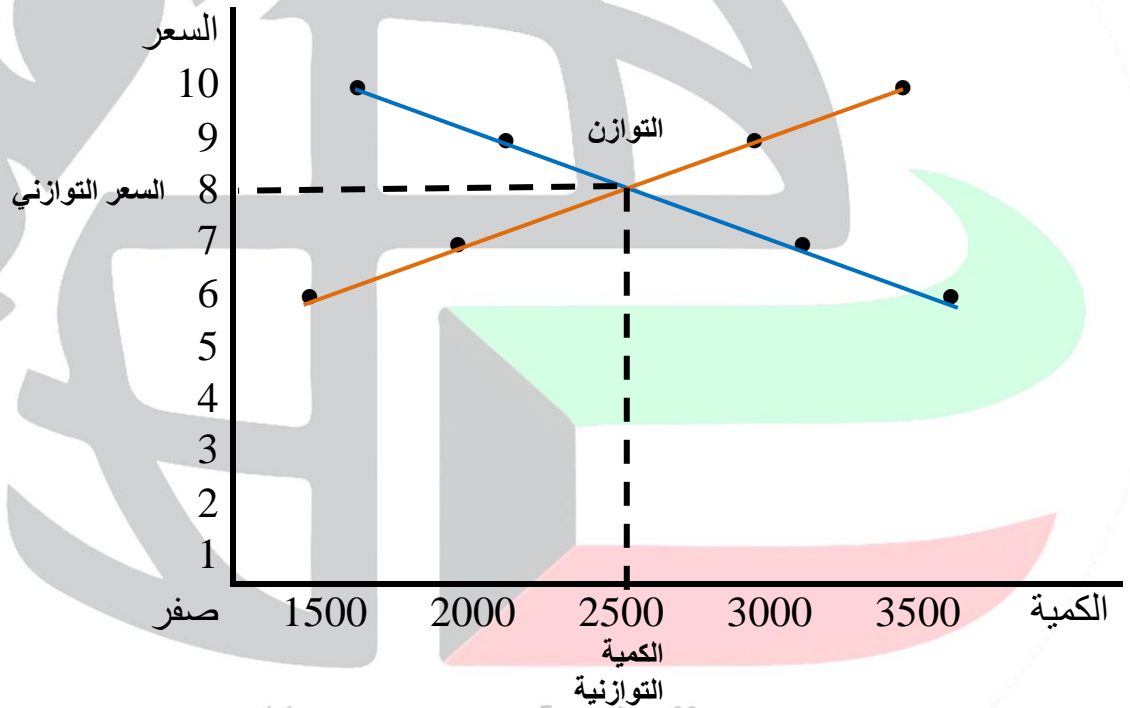
قناة أ. سعود المونس
WWW.Q84S.COM

تمرين رقم (4)

د- ادرس الجدول التالي لسلعة ما ثم أجب عما يلي:

| الكمية المطلوبة | السعر (الدينار الكويتي) | الكمية المعروضة | فائض الطلب والعرض في السوق |
|-----------------|-------------------------|-----------------|----------------------------|
| 1500 | 10 | 3500 | فائض طلب بمقدار 2000 |
| 2000 | 9 | 3000 | فائض طلب بمقدار 1000 |
| 2500 | 8 | 2500 | توازن السوق |
| 3000 | 7 | 2000 | فائض عرض بمقدار 1000 |
| 3500 | 6 | 1500 | فائض عرض بمقدار 2000 |

• ارسم منحنى الطلب ومنحنى العرض في السوق.



• أوجد السعر التوازني.

8

• الكمية التوازنية في هذا السوق.

2500

قناة أ. سعود المونس
 WWW.Q84S.COM

الفصل الرابع/اقتصاد الدولة ص239- 260

السؤال الأول/أكمل الفراغات التالية:

- أ-تعدد طرق حساب الناتج المحلي الإجمالي منها طريقة الإنتاج وطريقة الإنفاق. ص240
- ب-أهم وأكبر قطاعات الانفاق في الدولة يسمى القطاع العالي. ص240
- ج-السلع والخدمات التي يقوم المستهلك بشرائها تسمى الإنفاق الاستهلاكي. ص240
- د-يندرج بناء المستشفيات والمدارس والطرق تحت نوع من الإنفاق يسمى الحكومي. ص240
- هـ-جميع ما يتم بيعه من سلع وخدمات للدول الأخرى يسمى الصادرات. ص241
- و-جميع السلع التي يتم شراؤها وتنتج من خارج الدولة تسمى الواردات. ص241

السؤال الثاني/أكمل المعادلات التالية:

- 1-الناتج المحلي الإجمالي = (الإنفاق الاستهلاكي + الإنفاق الحكومي + الإنفاق الاستثمار + الصادرات) - الواردات. ص241
- 2-متوسط دخل الفرد = الناتج المحلي الإجمالي ÷ عدد السكان في الدولة ص241
- 3-قانون معدل البطالة = $\frac{\text{عدد العاطلين عن العمل}}{\text{قوة العمل}} \times 100 =$
- 4-معدل النمو الاقتصادي = $\frac{\text{الناتج المحلي للسنة الحالية} - \text{الناتج المحلي للسنة الماضية}}{\text{الناتج المحلي للسنة الماضية}} \times 100$ ص244

ص241

الناتج المحلي الإجمالي

5-متوسط دخل الفرد

عدد السكان في الدولة

السؤال الثالث / اختر البديل المناسب من بين البدائل وضع تحتها خطأ:

1- إذا كان لديك بيانات عن الناتج المحلي لدولة ما عام 2013م (بملايين الدولارات) كالتالي:
الانفاق الحكومي 300 مليون، الانفاق الاستثماري 400 مليون، الانفاق الاستهلاكي 900 مليون
والصادرات 80 مليون والواردات 140 مليون فان الناتج المحلي الإجمالي لهذه الدولة هو:
ص241 أ- 1680 مليون دولار ب- 1540 مليون دولار ج- 1820 مليون دولار د- 1850 مليون دولار

2- لعلاج مشكلة التضخم في اقتصاد الدولة:
ص244 أ- زيادة الانفاق الحكومي ب- تخفيض الضرائب ج- زيادة الضرائب على المستهلكين د- زيادة الطلب على السلع.

3- خفض الانفاق الاستثماري في الدولة يؤدي الى:
ص245 أ- زيادة معدل البطالة ب- زيادة الانفاق الاستهلاكي ج- زيادة الناتج المحلي الإجمالي د- النمو الاقتصادي

4- تعرض اقتصاد الدولة لموجة من الارتفاعات في أسعار السلع والخدمات يسبب:
ص246 أ- انخفاض الطلب على السلع ب- زيادة الانفاق الكلي ج- انخفاض الانفاق الكلي د- التضخم

5- مقياس تقدم الدولة وتحسن مستواها الاقتصادي يقاس من خلال:
ص246 أ- زيادة التضخم ب- زيادة معدل البطالة ج- الزيادة السنوية في الناتج المحلي الإجمالي ومتوسط دخل الفرد د- الانكماش الاقتصادي

6- لكي يتحقق الاستمرار في النمو الاقتصادي ذاتيا عام بعد عام لابد من:
ص246 أ- الزيادة المستمرة في الانفاق الاستهلاكي والاستثماري ب- خفض الانفاق الاستثماري ج- الزيادة المستمرة في معدل البطالة د- خفض الانفاق الاستهلاكي والاستثماري

7- يعتبر مؤشر كمي للتقدم الاقتصادي في الدولة:
ص247 أ- زيادة معدل البطالة ب- التضخم ج- انخفاض الناتج المحلي الإجمالي د- النمو الاقتصادي

السؤال الرابع: اختر من العمود (أ) ما يناسب العمود (ب) بوضع الرقم في المكان المناسب:

| (أ) | الرقم | (ب) |
|-------------------|-------|---|
| 1-النمو الاقتصادي | 4 | يتم حسابه بقسمة عدد العاطلين عن العمل مجموع قوة العمل $\times 100$. |
| 2-قوة العمل | 3 | هو الارتفاع المستمر في المستوى العام لأسعار السلع والخدمات في فترة زمنية محددة. |
| 3-التضخم | 1 | النسبة المئوية للزيادة في الناتج المحلي الإجمالي. |
| 4-معدل البطالة | 5 | مجموع الأشخاص الراغبين بالحصول على وظيفة والقادرين على العمل ويقومون بالبحث عن وظيفة. |
| 5-البطالة | 2 | كل من هم بين عمر 18 عاما و70 عاما ولديهم القدرة والرغبة بالعمل. |
| | | مجموع السياسات التي تتخذها الحكومة والتي تؤدي إلى زيادة النمو الاقتصادي بدافع ذاتي. |

السؤال الخامس / صنف ما يلي:

ص247

1-محددات النمو والتنمية الاقتصادية.

تحسين التعليم – زيادة الصادرات – تحسين المستوى الصحي – زيادة مستوى الاستهلاك – انخفاض معدلات التلوث – تحسين إنتاجية العامل – الاستقرار السياسي – زيادة مستوى الدخل – حرية التعبير

| النمو الاقتصادي | التنمية الاقتصادية |
|--|--|
| زيادة الصادرات- زيادة مستوى الاستهلاك زيادة مستوى الدخل- تحسين إنتاجية العامل | تحسين التعليم- تحسين المستوى الصحي انخفاض معدلات التلوث - الاستقرار السياسي - حرية التعبير |

السؤال السادس/فرق بين ما يلي:

1- قطاعات الإنفاق الاستهلاكي والإنفاق الحكومي والإنفاق الاستثماري والصادرات. ص 240-241

| القطاع الخارجي (الصادرات) | قطاع الاعمال (الإنفاق الاستثماري) | القطاع الحكومي (الإنفاق الحكومي) | القطاع العائلي (الإنفاق الاستهلاكي) |
|---|--|--|---|
| ما نبيعه من سلع وخدمات للدول الأخرى كالنفط مثلاً. | هو مجموع ما ينفقه قطاع الأعمال والاستثمار والقطاعات التجارية الأخرى داخل الدولة. | هو القطاع الذي تقوم الحكومة بإنفاقه من بناء مدراس ومستشفيات وطرق وغيرها. | هو أهم وأكبر القطاعات، وهو ما يقوم المستهلكون بشرائه من سلع وخدمات. |

2- البطالة ومعدل البطالة. ص 242-243

| معدل البطالة | البطالة |
|---|--|
| (عدد العاطلين عن العمل / قوة العمل) × 100 | مجموع الأشخاص الراغبين بالحصول على وظيفة والقادرين على العمل ويقومون بالبحث عن الوظيفة. |

السؤال السابع/أجب عما يلي:

1- طرق قياس الناتج المحلي الإجمالي للدولة مع ذكر مثال.

ص240

أ- طريقة الإنتاج أو القيمة المضافة.

تعتمد هذه الطريقة على احتساب الناتج المحلي الإجمالي باحتساب القيمة السوقية لمجموع السلع والخدمات النهائية والتي يتم إنتاجها في الاقتصاد خلال عام فقط.

*مثال: في عام (×) المجتمع ينتج سلعتين أ - ب سعر السلعة أ يقدر 50 دينار وسعر السلعة ب يقدر 40 دينار وتم إنتاج 3000 وحدة من السلعة أ و 2000 وحدة من السلعة ب أحسب الناتج المحلي الإجمالي لهذه الدولة ؟
- الناتج المحلي الإجمالي للدولة في العام (×) = (3000 × 50) + (2000 × 40) = 150.000 + 80.000 = 230.000 دينار

ص240

ب- طريقة الإنفاق.

يتم احتساب قيمة الناتج المحلي الإجمالي بطريقة الإنفاق عن طريق احتساب كل ما ينفق داخل الدولة خلال سنة واحدة في كل القطاعات .

*مثال: يشمل الجدول التالي بعض البيانات لدولة ما في عام 2015م (القيم بالمليون دينار كويتي)

| الواردات | الصادرات | الاستثمار الاجمالي | الانفاق الحكومي | الاستهلاك |
|----------|----------|--------------------|-----------------|-----------|
| 55 | 63 | 80 | 42 | 370 |

ص241

1- احسب قيمة الناتج المحلي الإجمالي لهذه الدولة.

الناتج المحلي = الأنفاق الاستهلاكي + + + الصادرات (القطاع الخارجي) -

2- استنتج سبب اعتبار دول الخليج العربي أفضل حالا من الدول الأخرى برغم امتلاك الدول الأخرى لناتج محلي أكبر من دول الخليج.

ص242

-لان عدد سكان دول الخليج العربية أقل مما يؤدي لارتفاع مستوى الدخل بها.

ص244-245

3- ماذا يحدث في اقتصاد الدولة لو انخفض الإنفاق الاستثماري.

أ-يؤدي إلى انخفاض الناتج المحلي الإجمالي.

ب-مع انخفاض الإنفاق الاستثماري ستتخلى الشركات عن بعض موظفيها.

ج-معدل البطالة سيزداد مما يخفض من الإنفاق الاستهلاكي لهم.

د-مما يزيد من الانخفاض في الناتج المحلي الإجمالي.

ص244

4- استنتج دور الدولة في معالجة مشكلة الانكماش الاقتصادي وارتفاع معدلات البطالة.

تقوم الحكومة برفع الناتج المحلي الإجمالي من خلال زيادة إنفاقها الحكومي مما يرتفع الناتج المحلي الإجمالي ويكون هناك فرص وظيفية جديدة ويرتفع معها الإنفاق الاستهلاكي ويرتفع الناتج المحلي الإجمالي مرة أخرى.

السؤال الثامن/ عرف ما يلي:

1-الناتج المحلي الإجمالي:

ص239

هو مجموع قيم ما ينتج في دولة معينة من سلع نهائية وخدمات خلال مدة زمنية محددة (عادة سنة واحدة).

2-متوسط دخل الفرد:

ص241

حاصل قسمة الناتج المحلي الإجمالي على عدد السكان في الدولة.

3-قوة العمل:

ص243

كل من هم بين عمر 18 عاما و70 عاما ولديهم القدرة والرغبة بالعمل.

4-التضخم:

ص243

الارتفاع المستمر في المستوى العام للأسعار للسلع والخدمات في فترة زمنية محددة.

5-النمو الاقتصادي:

ص243

النسبة المئوية للزيادة في الناتج المحلي الإجمالي.

6-التنمية:

ص246

مجموع السياسات التي تتخذها الحكومة والتي تؤدي إلى زيادة النمو الاقتصادي بدافع ذاتي.

السؤال التاسع/ علل لما يلي:

1-لا يعبر مفهوم قوة العمل تعبير صحيح عن معدل البطالة في الدولة.

ص242-243

أ-توجد فئات كثيرة في الدولة من الأطفال وكبار السن والمرضي وأصحاب الاحتياجات الخاصة وهي فئات لا تستطيع العمل.

ب-بعض السكان مثل ربات البيوت لا يرغبون بالعمل.

ج-لكي نصل لمعدل دقيق عن البطالة وقوة العمل لابد من طرح الفئات السابقة من عدد السكان الجمالي لنحصل على قوة العمل الصحيحة.

صفحة رقم 40

2-يطلق على ارتفاع الأسعار في شهر رمضان لفظ (تضخم وقي).

ص243

ترتفع أسعار المواد الغذائية في شهر رمضان لشدة الإقبال عليها ثم تعود الأسعار للانخفاض مع نهاية الشهر ويطلق عليه (ارتفاع سعري مؤقت) وليس تضخم.

3-تعتبر ظاهرة النمو الاقتصادي من أكثر المصطلحات شيوعاً في وسائل الاعلام.

ص243

وذلك لأهمية النمو الاقتصادي لكل دولة.

4-حدوث انكماش اقتصادي للدولة

ص244

-بسبب انخفاض أحد مكونات الناتج المحلي الإجمالي.

السؤال العاشر/الجدول والتمارين:

1- أدرس الجدول جيداً ثم نفذ ما هو مطلوب.

| الانتاج | السعر بالدينار لكويتي | العام 2015 |
|---------|-----------------------------|---------------|
| 3000 | 50 | السلعة × |
| 1500 | 30 | السلعة y |

أ- أوجد قيمة الناتج المحلي الإجمالي للدولة.

$$60000 = 45000 + 15000 = (15000 \times 30) + (3000 \times 50) = \text{الناتج المحلي الإجمالي}$$

ص 241

2- لاحظ الجدول التالي ثم نفذ ما هو مطلوب منك.

| أوجه المقارنة الدولة | الناتج المحلي الإجمالي | عدد السكان | متوسط دخل الفرد من الناتج المحلي الإجمالي |
|----------------------------|------------------------------|--------------|--|
| الدولة الأولى | 3 مليار دولار أمريكي | 3 مليون نسمة | متوسط دخل الفرد = $\frac{\text{الناتج المحلي}}{\text{عدد السكان}}$ |
| الدولة الثانية | 2 مليار دولار أمريكي | 1 مليون نسمة | متوسط دخل الفرد = $\frac{\text{الناتج المحلي}}{\text{عدد السكان}}$ |

أ- أكمل الناقص من الجدول بحساب متوسط دخل الفرد.

ب- اختر أي الدولتين تفضل العيش فيها ولماذا؟

- الدولة الثانية لارتفاع مستوي دخل الفرد.

3- الجدول التالي يوضح حجم الإنتاج من السلع في اقتصاد دولة ما لعامي 2008 و2009م.

| السلعة العام | 2008م | | 2009م | |
|-----------------|--------|------------------------|--------|------------------------|
| | الكمية | السعر بالدينار الكويتي | الكمية | السعر بالدينار الكويتي |
| الاسمنت بالكيلو | 1000 | 40 | 1100 | 44 |
| الحديد بالطن | 600 | 132000 | 600 | 117000 |
| الطحين بالكيلو | 200 | 29 | 250 | 36 |

أ- احسب الناتج المحلي الإجمالي لهذه الدولة لعامي 2008م وعام 2009 م.
الحل

* الناتج المحلي الإجمالي لعام 2008 =

* الناتج المحلي الإجمالي لعام 2009 =

4- يشمل الجدول التالي بعض البيانات لدولة ما في عام 2015م (القيم بالمليون دينار كويتي).

| الاستهلاك | الانفاق الحكومي | الاستثمار الاجمالي | الصادرات | الواردات |
|-----------|-----------------|--------------------|----------|----------|
| 314 | 97 | 73 | 23 | 24 |

أ- احسب قيمة الناتج المحلي الإجمالي للدولة

الحل

الناتج المحلي الإجمالي =

قناة أ. سعود المونس
WWW.Q84S.COM

5- إذا بلغ الناتج المحلي الإجمالي 300 مليار دولار، وعدد السكان 20 مليون نسمة، احسب متوسط دخل الفرد؟

القانون =

متوسط دخل الفرد من الناتج المحلي الإجمالي =



6- إذا كان لدينا دولة يبلغ حجم السكان فيها 200 مليون نسمة وتبلغ قوة العمل 100 مليون شخص في حين ان 92 مليون عامل منهم موظفين، احسب معدل البطالة في الدولة.

الحل

عدد العاطلين = قوة العمل - عدد العاملين = 100 - 92 = 8 مليون شخص

$$\text{قانون معدل البطالة} = \frac{\text{عدد العاطلين عن العمل}}{\text{قوة العمل}} \times 100 =$$

7- لاحظ الجدول التالي الذي يبين الناتج المحلي الاجمالي لدولة ما عامي 2015-2016 ثم نفذ ما هو مطلوب منك.

ص 244

| السنة | الناتج المحلي الاجمالي |
|-------|------------------------|
| 2015م | 2,000,000,000 دولار |
| 2016م | 2,500,000,000 دولار |

أ- احسب معدل النمو الاقتصادي في هذه الدولة.

القانون =

معدل النمو الاقتصادي =

(الناتج المحلي للسنة الحالية - الناتج المحلي للسنة الماضية) ÷ الناتج المحلي للسنة الماضية × 100

$$\text{الحل} = \frac{(2,500,000,000 - 2,000,000,000)}{2,000,000,000} \times 100 = 25\%$$

ب- ماذا يحدث في الحالات التالية:

1- إذا كان معدل النمو الاقتصادي موجب القيمة.

يدل ذلك على ذلك على النمو الاقتصادي للدولة.

2- إذا كان معدل النمو الاقتصادي سالب القيمة

يدل ذلك على انكماش أو تباطؤ اقتصادي للدولة.

8- مسألة على حساب معدل البطالة.

أ- اذا علمت ان دولة ما تبلغ قوة العمل فيها 20 مليون شخص في حين بلغ عدد الأشخاص العاملين في الدولة 18 مليون شخص احسب معدل البطالة في هذه الدولة.

القانون =

الحل

9- أدرس الجدول جيداً ثم اجب عما يلي:

| السنة | النتاج المحلي الاجمالي |
|-------|------------------------|
| 2008 | 39,000,000,000 |
| 2009 | 31,000,000,000 |

أ- احسب النمو الاقتصادي.

قناة أ. سعود المونس
WWW.Q84S.COM

أسأل الله لكم التوفيق والنجاح

@Social_ar
@q84skw