



وزارة التربية

التوجيه الفني العام للاجتماعيات

الإدارة العامة لمنطقة العاصمة التعليمية

بنك الأسئلة

للفصلين الدراسيين الأول والثاني  
للعام الدراسي ٢٠٢٢ / ٢٠٢٣ م  
لمقرر

الدراسات الاجتماعية

# دولة الكويت والعالم الإسلامي

الصف الثامن

إعداد ومراجعة  
الموجهة الفنية  
أ. غدير الجيران

محمد علي العتيبي

الموجه الفني العام للاجتماعيات - بالإنابة

محمد علي العتيبي

الموجه الفني العام للاجتماعيات - بالإنابة

أحمد الشبيحه

الموجه الفني الأول للاجتماعيات

الطبعة الأولى

المرحلة المتوسطة

## الوحدة الأولى

### أكمل العبارات التالية بما يناسبها :

- ١- امتدت الحضارة الإسلامية عبر قارة آسيا وإفريقيا وأوروبا في القرن.....الميلادي ص١٧
- ٢- كل ما يطرأ على المجتمع من تقدم وتطور ورقي سواء في الجانب المادي أو الجانب الروحي يسمى ..... ص ١٨
- ٣- عالم مسلم أشهر مؤلفاته كتاب ( الصيدلة في الطب ) اسمه ..... ص ١٨
- ٤- العالم المسلم الذي اكتشف معادلة ( نصف القطر ) اسمه ..... ص ١٩
- ٥- تميزت الحضارة الإسلامية بالطابع ..... ص ٢٢
- ٦- تنسب مقولة " لم يعرف التاريخ أمة أرحم من العرب المسلمين والرحمة والعدل متلازمان " إلى المفكر الفرنسي ..... ص ٢٢
- ٧- الشيخ الذي لقب ( بقائد العمل الإنساني ) اسمه ..... ص ٢٤
- ٨- العام الذي لقب فيه الشيخ صباح الأحمد الصباح رحمه الله بأمير الإنسانية هو..... ص ٢٤ ص ٨٢
- ٩- منصب إداري جديد ظهر بعد وفاة الرسول صلى الله عليه وسلم يسمى.....ص ٢٥
- ١٠- العام الذي توفي فيه الرسول صلى الله عليه وسلم هو ..... هـ ص ٢٥
- ١١- منصب إداري ظهر في عهد الخليفة عمر بن الخطاب هو ..... ص ٢٥
- ١٢- رابع الخلفاء الراشدين اسمه ..... ص ٢٦
- ١٣- اهتمت الحضارة الإسلامية بالزراعة بإنشاء ديوان ..... ص ٢٧
- ١٤- انشئ ديوان الماء في مدينة ..... ص ٢٧
- ١٥- صناعات خشبية ذات طراز مميز برع فيها العرب تسمى ..... ص ٢٧
- ١٦- أول الخلفاء الراشدين اسمه ..... ص ٢٥

١٧- يدفعه أهل الذمة ( اليهود والنصارى ) من القادرين على حمل السلاح نظير حماية

الدولة لهم يسمى .....ص ٢٩

١٨- كل ما يفرض على الأراضي الزراعية يسمى .....ص ٢٨

١٩- ركن من أركان الإسلام يخرجها المسلمون الأغنياء للمستحقين من الفقراء تسمى .....ص ٢٨

٢٠- صدقة جارية يوقفها المرء في حياته لوجوه الخير فيستمر في أجرها ونفعها ما دامت باقية

تسمى .....ص ٢٩

٢١- يطلق على (اليهود والنصارى) الذين ظلوا على دينهم مع دفع الجزية اسم .....ص ٣٦

٢٢- مجموعة من مكعبات الزجاج الملون والشفاف وقطع من الحجر الأسود يستخدم في الطراز

المعماري ويعكس جمال التصميم الأندلسي يسمى .....ص ٣٠

٢٣- أنشئ خلال شهرين من الهجرة ليكون مركزاً دينياً وسياسياً وثقافياً للدولة الإسلامية الجديدة

يسمى .....ص ٣٣

٢٤- أحد أكبر المساجد في العالم وأكثرها قدسية للمسلمين وأول القبليتين في الإسلام يسمى ....ص ٣٣

٢٥- أحد القصور بناه الخليفة الأموي "معاوية بن أبي سفيان" ويقع في دمشق يسمى.....ص ٣٤

٢٦- الخليفة الذي بنى " قصر عمره " أسمه .....ص ٣٤

٢٧- القصر الذي بناه " هشام بن عبد الملك " ويقع في سوريا يسمى .....ص ٣٥

٢٨- القصر الذي يعتبر نموذجاً مميزاً للعمارة الإسلامية ويقع في مدينة غرناطة بالأندلس

يسمى .....ص ٣٥

٢٩- المجالس التي تميز بها المجتمع الإسلامي بسماع القصص والحكايات تسمى .....ص ٣٦

٣٠- ترجمة الكتب القديمة اليونانية والهندية والفارسية تسمى .....ص ٣٧

٣١- يقع المسجد الحرام في مدينة .....ص ٣٨

٣٢- يقع المسجد النبوي في .....ص ٣٨

٣٣- يقع بيت الحكمة في مدينة .....ص ٣٨

٣٤- يعتبر مجمع ( باي كاليان ) أحد المراكز العلمية للحضارة الإسلامية ويقع في مدينة  
تسمى .....ص ٣٨

٣٥- عالم مسلم ألف ٣٥٠ كتاباً أهمها " كتاب الحيوان " اسمه .....ص ٤٠

٣٦- الحركة التي كان لها دور بارز في نقل الحضارة الإسلامية إلى أوروبا  
تسمى .....ص ٤٢

٣٧- كتاب ( في الهندسة ) أهم مؤلفات العالم الفيلسوف .....ص ٤٢

٣٨- العالم الإنجليزي الذي تأثر في كتابة مؤلفات الكندي " كتاب في الهندسة " اسمه .....ص ٤٢

٣٩- ينسب كتاب ( نزهة المشتاق في اختراق الآفاق ) للعالم .....ص ٤٢

٤٠- الطريقة التي استفاد منها الأوروبيون من المسلمون في نقل الرسائل جواً تسمى .....ص ٤٣

٤١- العالم الذي يؤمن بكروية الأرض ورسم الخريطة اسمه .....ص ٤٣

#### ملاحظات

.....

.....

.....

.....

## الوحدة الثانية

### أكمل العبارات التالية بما يناسبها :

- ١- عدد الدول الإسلامية في قارة آسيا ..... ص ٥١
- ٢- عدد الدول الإسلامية في قارة إفريقيا ..... ص ٥١
- ٣- الدول الإسلامية في قارة ( أوروبا ) هي ( البوسنة والهرسك ) وأخرى تسمى ..... ص ٥١
- ٤- تضم قارة أمريكا الجنوبية دولة إسلامية واحدة تسمى ..... ص ٥١
- ٥- تبلغ مساحة العالم الإسلامي حوالي ..... مليون كم مربع . ص ٥١
- ٦- يقع العالم الإسلامي بين خطي طول ١٨ غرباً إلى ..... شرقاً ص ٥٢
- ٧- يقع العالم الإسلامي بين دائرتي عرض ١٣ جنوب خط الإستواء إلى ..... شمال خط الاستواء ص ٥٢
- ٨- أكبر الدول الإسلامية من حيث المساحة تسمى ..... ص ٥٢
- ٩- أصغر دول العالم الإسلامي مساحة هي جمهورية ..... ص ٥٢
- ١٠- تُعرف أشكال السطح باسم ..... ص ٥٣
- ١١- أجزاء فسيحة من سطح الأرض تتميز باستوائها وقلّة ارتفاعها تسمى ..... ص ٥٣
- ١٢- حوض أو منخفض طبيعي على سطح الأرض يسمى ..... ص ٥٣
- ١٣- أرض مرتفعة سطحها مستوٍ وتمتد لمساحة واسعة تسمى ..... ص ٥٣
- ١٤- يشبه الجبل لكن ارتفاعه أقل من ١٠٠٠ متر ..... ص ٥٣
- ١٥- كل قمة لا يقل ارتفاعها عن ١٠٠٠ متر تقريباً تسمى ..... ص ٥٣
- ١٦- أرض مرتفعة سطحها مستوٍ وتمتد في مساحة واسعة تسمى ..... ص ٥٦
- ١٧- أكبر الهضاب في العالم تمتد من ساحل المحيط الأطلسي غرباً إلى مرتفعات البحر الأحمر شرقاً تسمى ..... ص ٥٧

- ١٨- إقليم مُناخي حار ممطر طوال العام يسمى .....ص٦٤
- ١٩- إقليم مُناخي حار ممطر صيفاً يسمى .....ص٦٤
- ٢٠- إقليم مُناخي أمطاره صيفية تقل عن الإقليم الموسمي يسمى .....ص٦٥
- ٢١- إقليم مُناخي دافئ ممطر شتاءً وحار صيفاً يسمى .....ص٦٥
- ٢٢- إقليم مُناخي صحراوي حار يسمى .....ص٦٥
- ٢٣- حالة الجو خلال فترة زمنية طويلة يسمى .....ص٦٤
- ٢٤- حالة الجو في مكان لمدة قصيرة تتراوح بين يوم أو عدة أيام تسمى .....ص٦٤
- ٢٥- مساحة من الأرض تتصف بعناصر مُناخية متشابهة تسمى .....ص٦٥
- ٢٦- ينتج العالم الإسلامي من النفط الخام حوالي ..... % ص ٦٧
- ٢٧- تقع دولة الكويت ضمن الإقليم المُناخي .....ص٦٦
- ٢٨- أولى الدول الإسلامية في إنتاج معدن اليورانيوم تسمى .....ص٧٠
- ٢٩- يبلغ إنتاج العالم الإسلامي من الحبوب حوالي .....% ص ٧٢
- ٣٠- المحاصيل التي تُزرع من أجل التصدير تسمى .....ص ٧٣
- ٣١- نبات ينمو في المناطق الاستوائية والموسمية تُؤخذ أغصانه وتوضع تحت الماء وتطمر بالطين وبعد أيام تستخرج وتغزل ويصنع منها الحبال والأحذية تسمى .....ص ٧٣
- ٣٢- الدولة التي احتلت المركز الثاني على مستوى العالم في الإنتاج البحري عام ٢٠١٤م تسمى .....ص ٧٤

#### ملاحظات

.....

.....

.....



## الوحدة الثالثة

### أكمل العبارات التالية بما يناسبها :

- ١- أي تغير غير مرغوب به في الخواص الطبيعية أو الكيميائية أو البيولوجية للبيئة المحيطة والذي قد يتسبب في الإضرار بحياة الإنسان والكائنات الأخرى يسمى ..... ص ٨١
- ٢- العام الذي تم فيه إنشاء شرطة البيئة هو ..... م ص ٨٢
- ٣- بلغت نسبة التلوث الهوائي في باكستان بسبب عوادم السيارات حوالي ..... % ص ٨٣
- ٤- يمثل التلوث الهوائي في ماليزيا خطراً على الشعب بسبب ما يسمى ..... ص ٨٣
- ٥- تعرضت دولة الكويت لتلوث بيئي خطير بسبب الغزو العراقي عام ..... م ص ٨٥
- ٦- نوع الأمطار التي سقطت على دولة الكويت بعد حرب تحرير دولة الكويت تسمى ..... ص ٨٥
- ٧- العام الذي تم فيه ضخ مياه المجاري في جون الكويت مما تسبب في نفوق الكثير من الأسماك هو ..... م ص ٨٥
- ٨- العاصمة العربية التي تعتبر نموذجاً للتلوث في العالم الإسلامي تسمى ..... ص ٨٧
- ٩- انجراف التربة على المدن والمناطق الزراعية يسمى ..... ص ٨٨
- ١٠- ارتفاع درجات حرارة الأرض عن معدلها الطبيعي مما يؤدي إلى تغيرات مناخية يسمى ..... ص ٩٠
- ١١- الإعصار الذي ضرب سواحل سلطنة عُمان الشرقية باتجاه سواحل الإمارات الشرقية وسواحل إيران الجنوبية الشرقية بسبب ظاهرة الاحتباس الحراري يسمى ..... ص ٩٠
- ١٢- مواد زائدة وغير مرغوبة من مخلفات البيئة والفضلات تسمى ..... ص ٩١
- ١٣- عملية إعادة استخدام المخلفات لإنتاج منتجات أخرى أقل جودة من المنتج الأصلي تسمى ..... ص ٩١

- ١٤- برامج لتحسين نوعية الحياة ولا تتحقق إلا بمشاركة جميع المواطنين من أجل تحسين نوعية الحياة وفق بيئة صحية آمنة ومستقرة ومتقدمة تسمى ..... ص ٩٣
- ١٥- تم تشغيل أول محطة كهرباء تعمل بالطاقة الشمسية في دولة الكويت عام ..... م ص ٩٣
- ١٦- الزيادة الكبيرة في أعداد السكان تسمى ..... ص ٩٥
- ١٧- الحالة الاقتصادية التي يفتقد فيها الفرد إلى الدخل الكافي للحصول على المستويات الدنيا من الغذاء والملبس والتعليم والرعاية الصحية وكل ما يعد من الاحتياجات الضرورية لتأمين مستوى لائق في الحياة يسمى ..... ص ٩٦
- ١٨- أدنى مستوى من الدخل يحتاجه المرء أو الأسرة حتى يكون بالإمكان توفير مستوى معيشة ملائم في بلد ما يسمى ..... ص ٩٧
- ١٩- نظام عالمي جديد يقوم على الإبداع العلمي والتطور التقني والتكنولوجي وثورة الاتصالات بحيث تزول الحدود الثقافية بين الشعوب بالعالم ويصبح العالم كقرية واحدة يسمى ..... ص ٩٩
- ٢٠- عملية اقتصادية واجتماعية يتم بموجبها إزالة جميع الحواجز بين الوحدات المختلفة وتؤدي إلى تحقيق تكافؤ الفرص أمام جميع عناصر الإنتاج في دول التكامل يسمى ..... ص ١٠٠
- ٢١- خطوط حددت بواسطة الإنسان ورُسمت حتى تفصل بين سيادة دولة ودولة أخرى تسمى.. ص ١٠٢
- ٢٢- المؤتمر الذي عقد عام ١٩٢٢م لإيجاد حل لمشاكل الحدود بين نجد والعراق من جهة والكويت والعراق ونجد من جهة أخرى يسمى ..... ص ١٠٣
- ٢٣- ادعى عبدالكريم قاسم بتبعية دولة الكويت للعراق في عهد الشيخ..... ص ١٠٣
- ٢٤- تم الاعتداء على مركز الصامته الحدودي في عام ..... م ص ١٠٣
- ٢٥- التاريخ الذي اجتاحت فيه قوات النظام العراقي دولة الكويت هو .../...../..... م ص ١٠٤
- ٢٦- انسحبت القوات العراقية بالقوة العسكرية من أراضي دولة الكويت عام ..... م ص ١٠٤



٢٧-قرار الأمم المتحدة لترسيم الحدود بين الكويت والعراق يحمل الرقم ..... ص ١٠٤

ص ١٠٦

٢٨- عقد الشيخ مبارك الصباح إتفاقية مع بريطانيا عام ١٨٩٩م تسمى ..... ص ١٠٦

٢٩-أول ترسيم للحدود بين الكويت والعراق عام ..... م ص ١٠٦

٣٠- العام الذي تم فيه تقسيم فلسطين إلى قسمين عربي ويهودي هو ..... م ص ١٠٧

٣١-مؤتمر القمة العربي الذي عقد عام ٢٠٠٠ م في القاهرة يسمى ..... ص ١٠٨

٣٢- مجموعة من المسلمين تعيش تحت سلطة دولة غير مسلمة في وسط أغلبية غير مسلمة

يسمى ..... ص ١١٢

٣٣- مجموعة من سكان دولة أو إقليم ما يختلفون عن غالبية سكان تلك الدولة بخاصية العرق أو

الثقافة أو الدين ويحاولون بكل الإمكانات أن يحافظوا عليها لكي لا تذوب في خاصية الأغلبية

تسمى ..... ص ١١٢

٣٤- اندلعت الحرب الأهلية في الصومال عام ..... م ص ١١٧

٣٥-أحد أبطال إطفاء حرائق النفط الناجمة عن الغزو العراقي الغاشم على دولة الكويت اسمها ..... ص ١١٩

٣٦- عدد آبار النفط المشتعلة من قبل النظام العراقي الغاشم على دولة الكويت يبلغ..... ص ١٢٠

٣٧- أكبر خبراء مكافحة حرائق النفط في العالم تنبأ بأن تمتد المدة المطلوبة لإخماد حرائق النفط

في الكويت إلى خمس سنوات اسمه ..... ص ١٢٠

٣٨-المدة التي استغرقت للسيطرة على إطفاء الآبار الكويتية المشتعلة حوالي ..... يوماً ص ١٢٠

٣٩- تم إخماد آخر بئر مشتعل في دولة الكويت بتاريخ ..... /..... /..... م ص ١٢٠

٤٠- حرب تحرير دولة الكويت عام ١٩٩١م تسمى ..... ص ١٢٢

٤١-الدولة الخليجية التي سجلت أعلى معدل في إلمام البالغين بالقراءة والكتابة تسمى ..... ص ١٢٨

الوحدة  
الرابعة

أكمل العبارات التالية بما يناسبها :

- ١- العام الذي عقد فيه مؤتمر القمة العربية الثالثة هو ..... م ص ١٣٧
- ٢- الدولة التي يكون فيها نسبة المسلمين ٥٠٪ تسمى ..... ص ١٣٧
- ٣- منظمة تضم في عضويتها ٥٧ دولة إسلامية مستقلة مقرها مدينة جدة تسمى ..... ص ١٣٨
- ٤- مقر منظمة التعاون الإسلامي مدينة ..... ص ١٣٨
- ٥- أنشئت منظمة التعاون الإسلامي عام ١٩٦٥ بمدينة ..... ص ١٣٨
- ٦- المدينة التي عقد فيها المؤتمر الإسلامي الأول تسمى ..... ص ١٤٢
- ٧- الدولة التي عقد فيها المؤتمر الإسلامي الخامس تسمى ..... ص ١٤٣
- ٨- يطلق على المنظمة الإسلامية للتربية والعلوم والثقافة اسم ..... ص ١٤٧
- ٩- يطلق على وكالة الأنباء الإسلامية الدولية اسم ..... ص ١٤٧
- ١٠- الاعتدال في كل أمور الحياة يسمى ..... ص ١٤٨

ملاحظات

.....

.....

.....

.....

الوحدة  
الخامسة

أكمل العبارات التالية بما يناسبها :

- ١- تأسس الصندوق الكويتي للتنمية عام ..... م ص ١٥٩
- ٢- ترجع فكرة إنشاء الصندوق الكويتي للتنمية للشيخ ..... ص ١٥٩
- ٣- عقدت القمة الخليجية الثالثة والثلاثين في مدينة ..... ص ١٦٠
- ٤- عقد المؤتمر الأول للدول المانحة عام ..... م ص ١٦٠
- ٥- هيئة أسست عام ١٩٨٢ م ذات ميزانية مستقلة خاضعة لإشراف وزارة الأوقاف والشئون الإسلامية تسمى ..... ص ١٦٠

ملاحظات

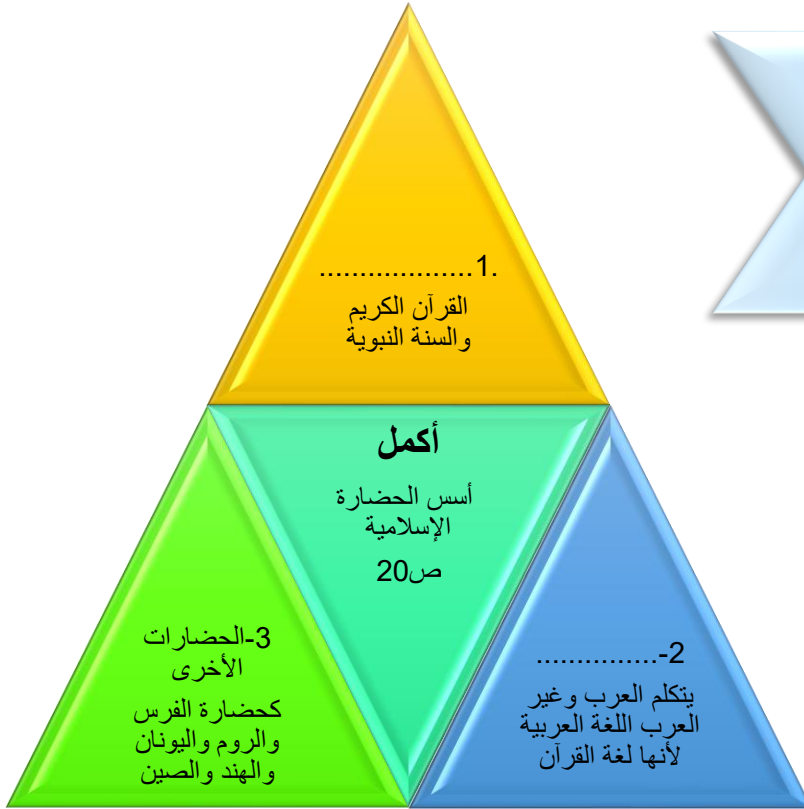
.....

.....

.....

.....

أجب



ملاحظات

.....

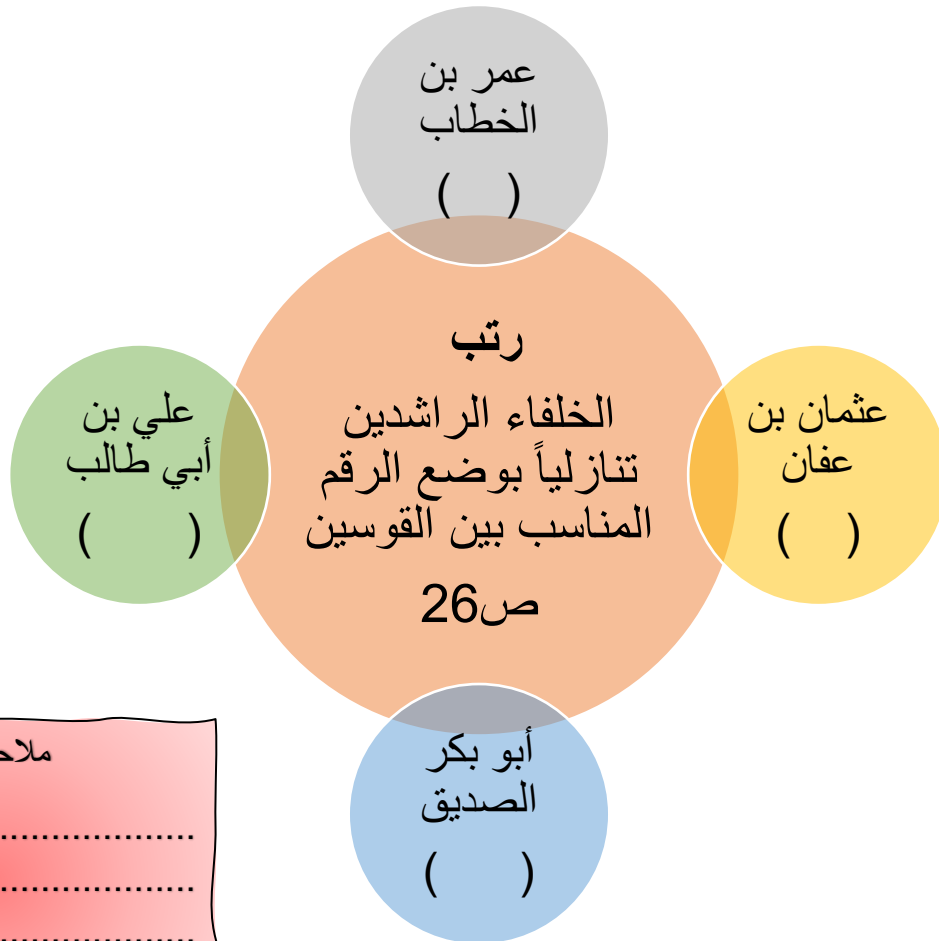
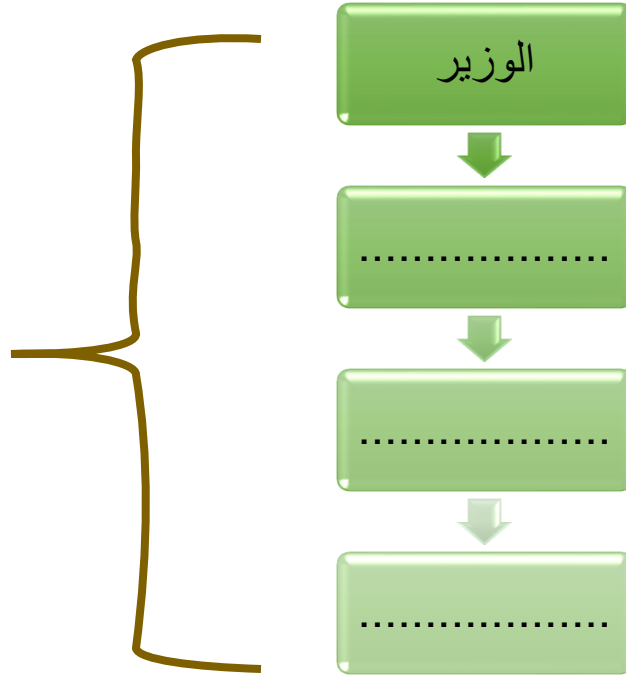
.....

.....

.....



أكمل  
المناصب  
الإدارية  
التي ظهرت  
مع اتساع  
الدولة  
الإسلامية  
ص ٢٥



ملاحظات

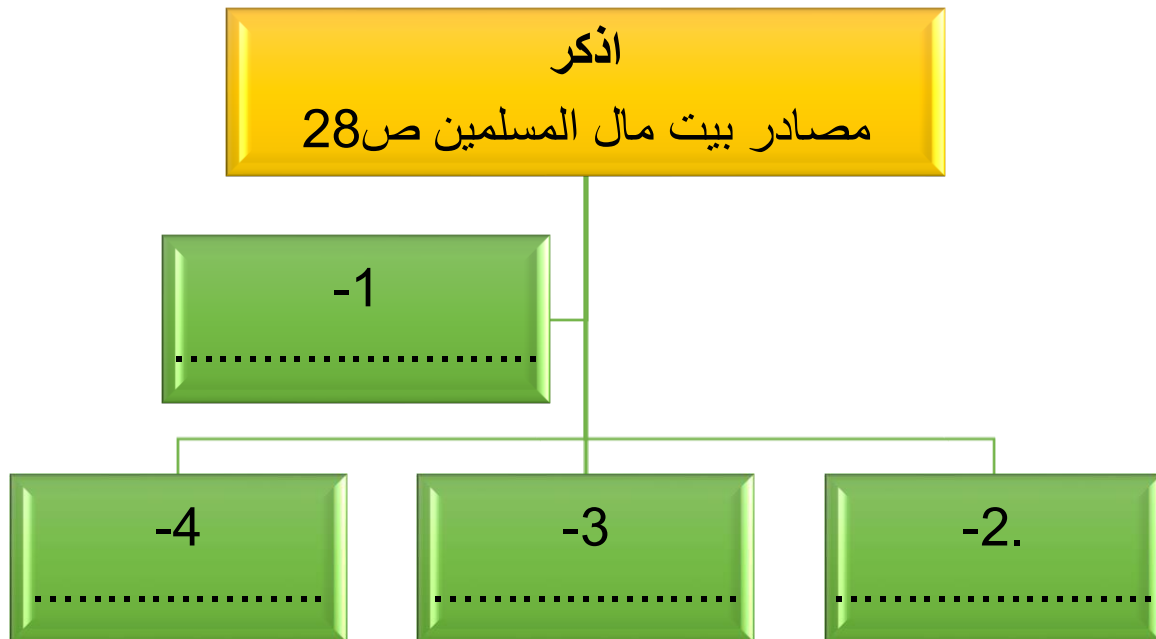
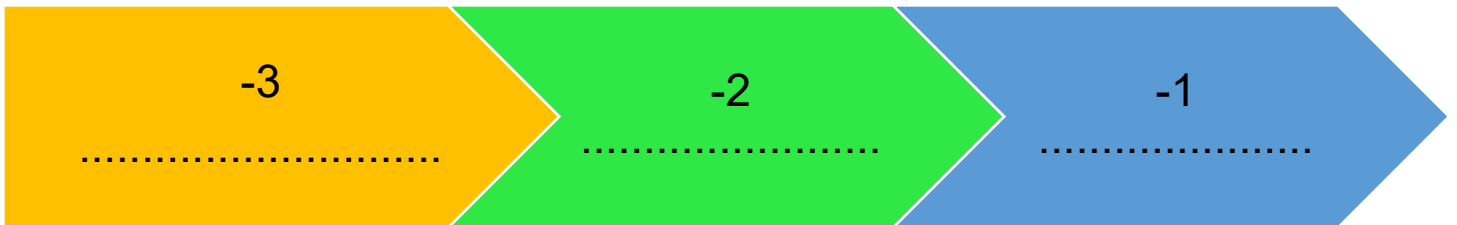
.....

.....

.....

.....

# اذكر جهود المسلمين في الزراعة ص ٢٦



ملاحظات

.....

.....

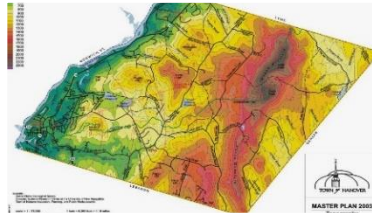
## ملاحظات







.....



أكمل - الأشكال التضاريسية ص 53



السهول



.....

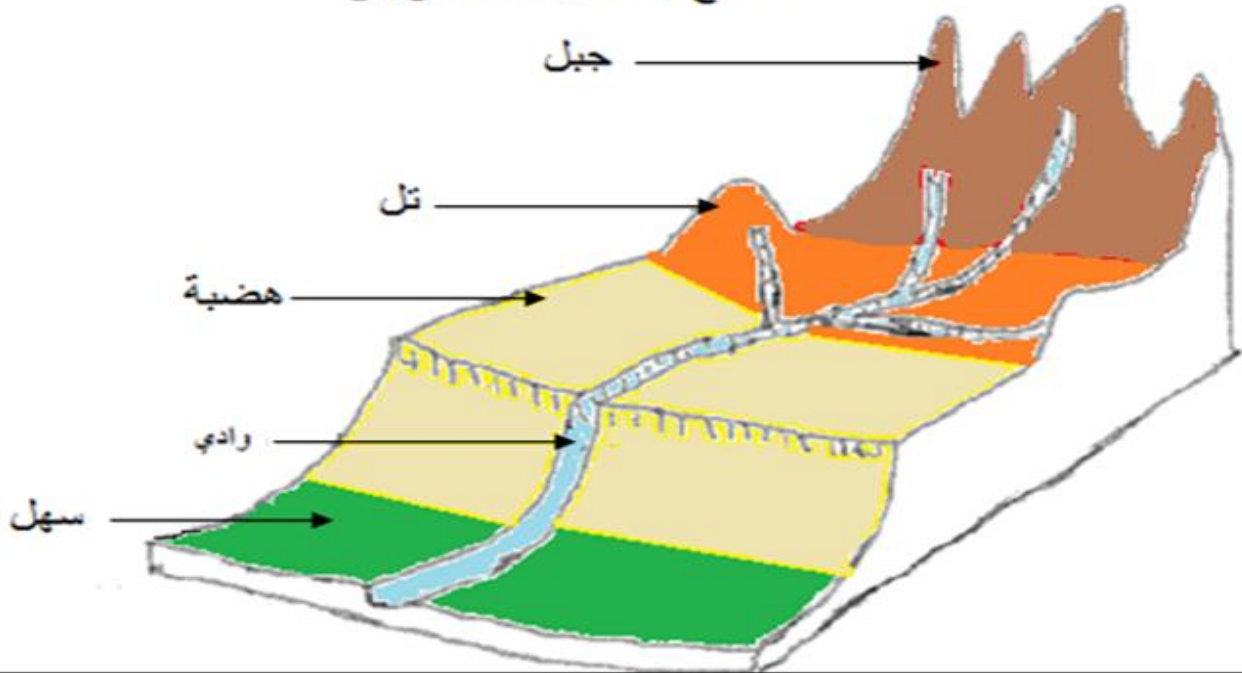


الهضاب



.....

مقطع لأشكال التضاريس





ملاحظات

.....

.....

.....

.....



أهم  
المحاصيل  
الزراعية  
في العالم  
الإسلامي  
ص ٧٢

.....

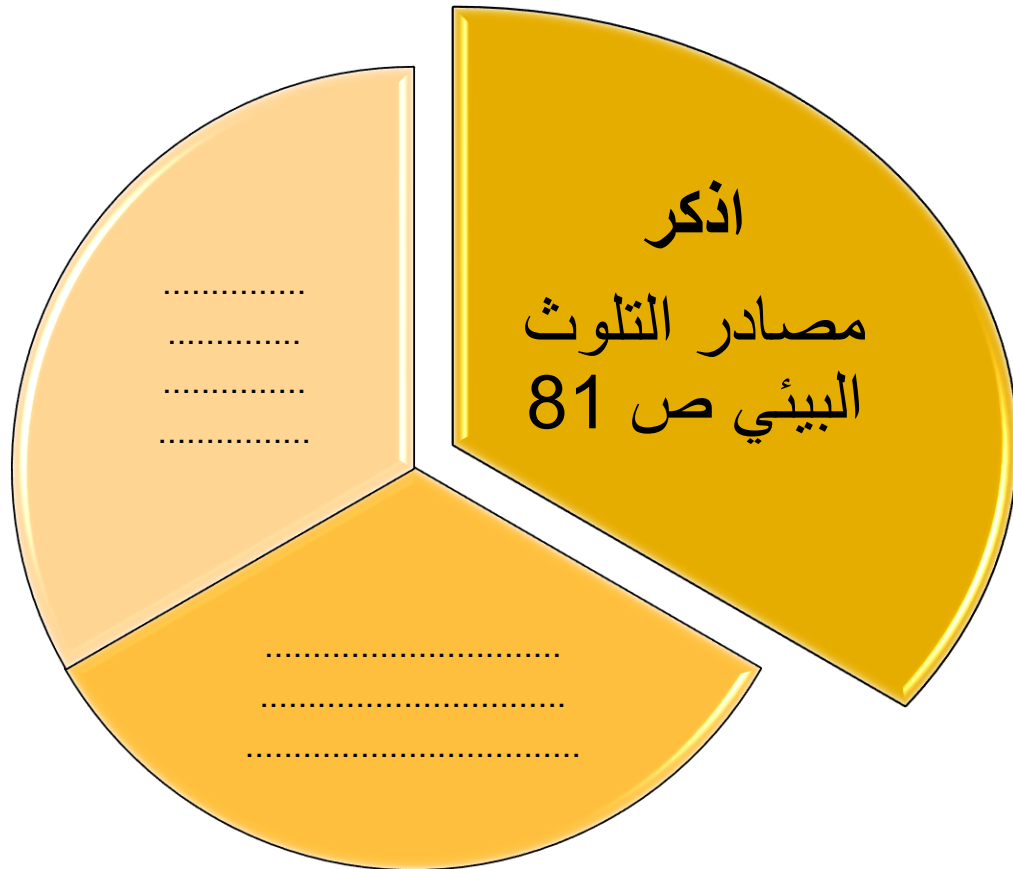
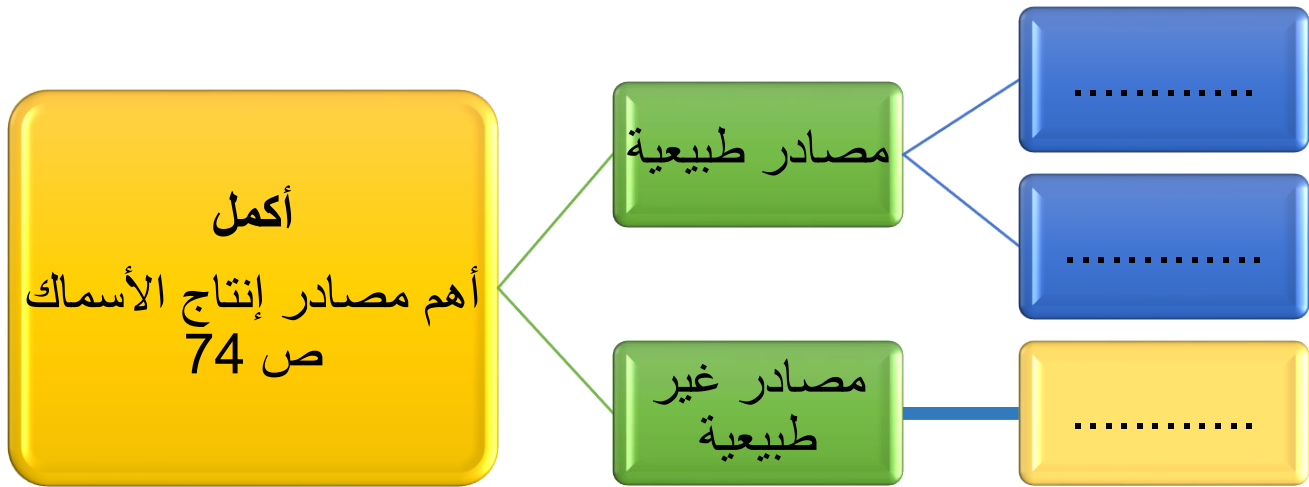
.....

.....

.....

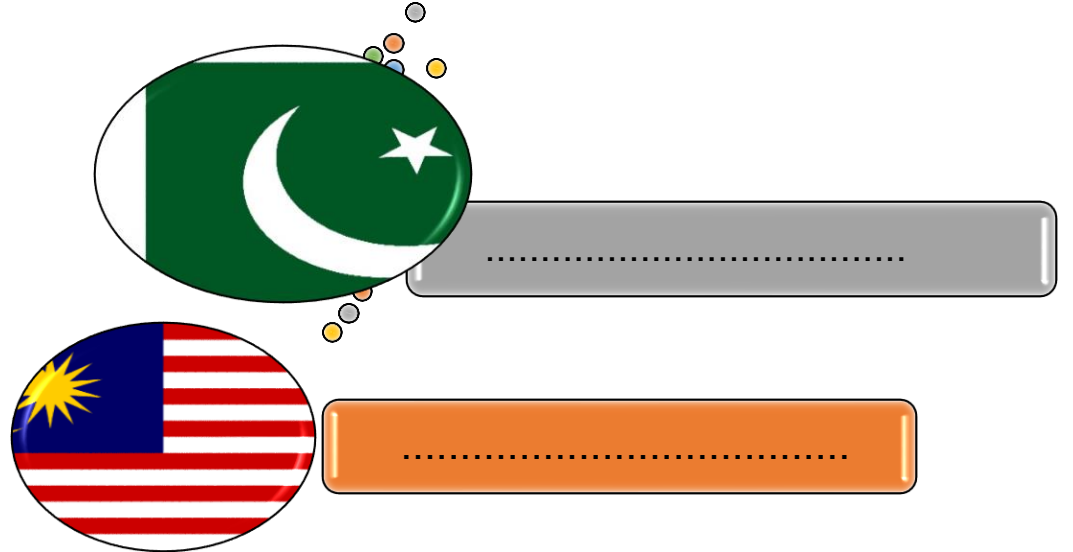
.....

.....



## الذكر- أنواع التلوث البيئي ص ٨٣

نماذج من  
الدول  
الإسلامية  
التي تعاني  
من التلوث  
الهوائي  
ص ٨٣



اذكر  
الآثار (النتائج) المترتبة على التلوث المائي  
ص 86

.....

.....

.....

.....

.....

اذكر  
التحديات التي تواجه  
الأقليات الإسلامية  
في العالم ص ١١٤

.....

.....

.....

## أكمل

الحلول الإسلامية والدولية المقترحة للتحديات التي تواجه الأقليات  
الإسلامية ص ١١٥

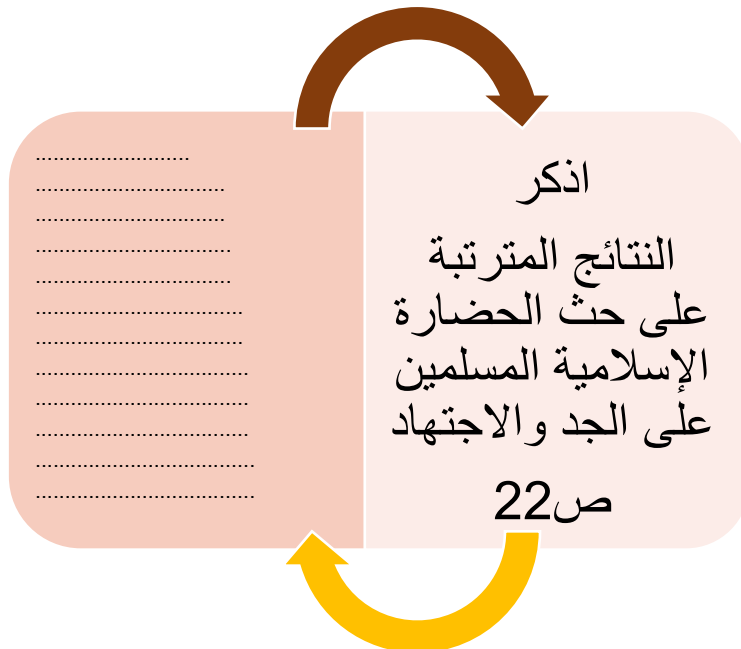
.....	تفعيل الوجود الإسلامي
- تقوم المؤسسات بدور تثقيفي وتوعوي عن كيفية الحفاظ على الهوية الإسلامية والتمسك بقيم الدين الإسلامي .	- ..... ..... - ..... .....


## اذكر

دور أهم المنظمات والمؤسسات الإسلامية في مواجهة التحديات .

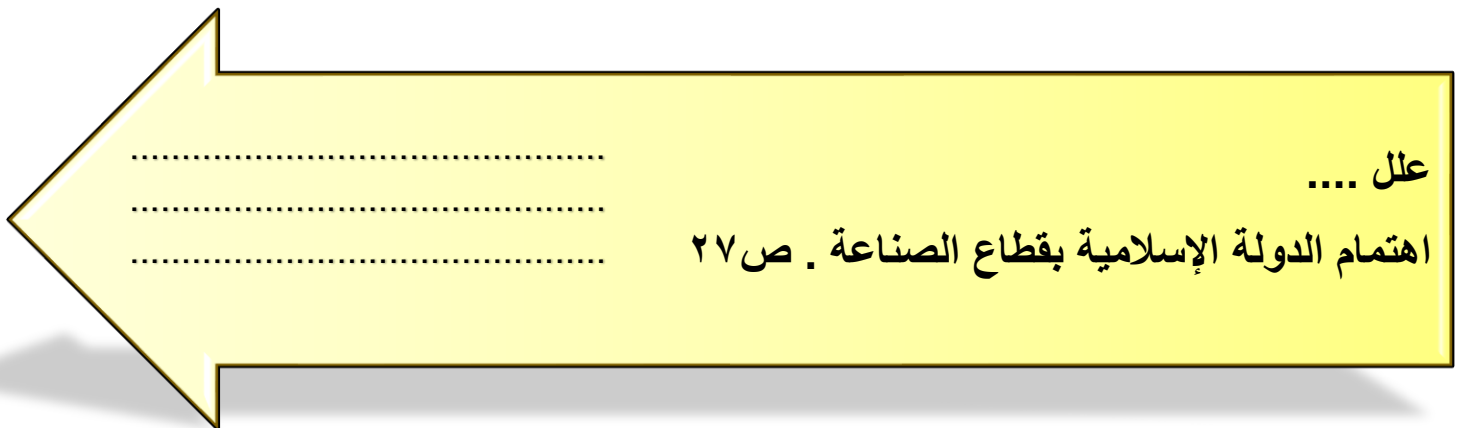
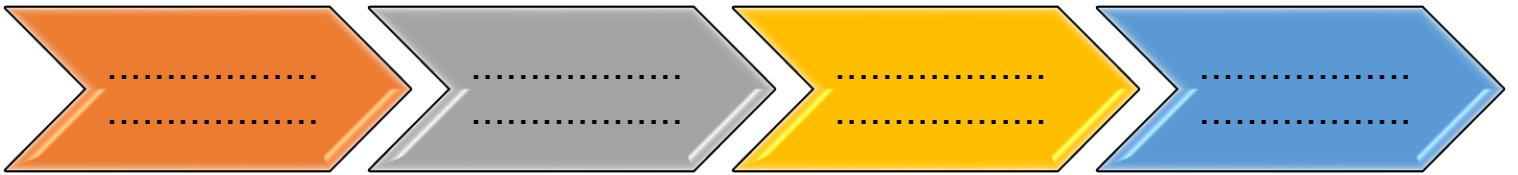
	البنك الإسلامي للتنمية ص ١٤٦
	وكالة الأنباء الإسلامية الدولية ( إينا ) ص ١٤٧
	المنظمة الإسلامية للتربية والعلوم والثقافة ( إيسيسكو ) ص ١٤٧
	مجمع الفقه الإسلامي ص ١٤٨
	اللجنة الإسلامية للهلال الدولي ص ١٤٨







دلل  
تأثير الحضارة الإسلامية على دولة الكويت ص ٢٤



### قارن بين أشهر المساجد التاريخية في العالم الإسلامي ص ٣٢ ص ٣٣

أوجه المقارنة	الكعبة المشرفة	المسجد النبوي	المسجد الأقصى المبارك
المكان			
عهد الخليفة			
الأهمية			

م	المسجد ص ٣٢ ص ٣٣	الرقم المناسب	المكان
١	الكعبة المشرفة		فلسطين
٢	المسجد الأقصى المبارك		دمشق
٣	المسجد النبوي		الفسطاط
٤	المسجد الأموي		القاهرة
٥	الأزهر		تونس
٦	جامع عمرو بن العاص		الأندلس/ إسبانيا
٧	جامع الزيتونة		المدينة المنورة
٨	جامع قرطبة		إسطنبول
٩	مسجد السلطان أحمد		المملكة العربية السعودية
١٠	مسجد عمر بن الخطاب		مكة المكرمة

م	القصر	الخليفة ص ٣٤ ص ٣٥	المكان
١	قصر الخضراء	.....	دمشق
٢	قصر عمرة	يزيد بن الوليد	.....

اذكر - العوامل التي أدت إلى ازدهار العلم وظهور العلماء .ص ٣٧

- ١- .....
- ٢- .....
- ٣- .....
- ٤- .....

علل- قلة عدد السكان في المناطق الجبلية في دول العالم الإسلامي  
ص 55 .

١-انخفاض الضغط الجوي ٢- .....	٣- .....	٤- .....
----------------------------------	----------	----------

علل - تسمية جبال ( الحجاز ) بهذا الاسم . ص ٥٥

- .....

علل

تنوع المناخ في دول العالم الإسلامي . ص 63

.....

.....

.....

.....

.....

.....

.....

.....

.....

.....

علل- يعتبر تلوث الهواء من أخطر أنواع التلوث البيئي . ص ٨٣

.....

.....

.....

ما النتائج المترتبة على " التلوث الهوائي " ص ٨٤

.....-

.....-

.....-

علل - يعتبر التلوث المائي من أخطر أنواع التلوث . ص ٨٥

.....

.....

.....

علل- معاناة موريتانيا عام ٢٠١٧ م من شدة التلوث المائي . ص ٨٥

.....

.....

.....

اذكر

الآثار

المتربة

على

التلوث

المائي

ص ٨٦

.....-

.....-

.....-

علل- أسباب  
التلوث  
الضوضائي  
ص 87

- .....-
- .....-

ما النتائج  
المتربة على  
التلوث  
الضوضائي .  
ص 87

- .....-
- .....-

علل- تعتبر التربة عنصراً مهماً من عناصر البيئة الطبيعية ص ٨٨

- .....
- .....
- .....

ملاحظات

- .....
- .....



ملاحظات

الاحتباس  
الحراري



عرف - الاحتباس الحراري ( ص ٩٠ ) .....

.....

علل - أسباب الاحتباس الحراري . ( ص ٩٠ )

.....

.....

اذكر-النتائج المتوقعة من ظاهرة الاحتباس الحراري.( ٩٠ )

.....

.....

.....

علل- أسباب الفقر في الدول الإسلامية . ص ٩٨

.....-

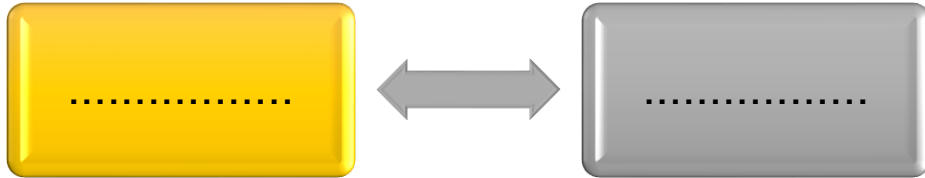
.....-

.....-

.....-

.....-

اذكر- أقسام الحدود السياسية بين الدول  
ص 102



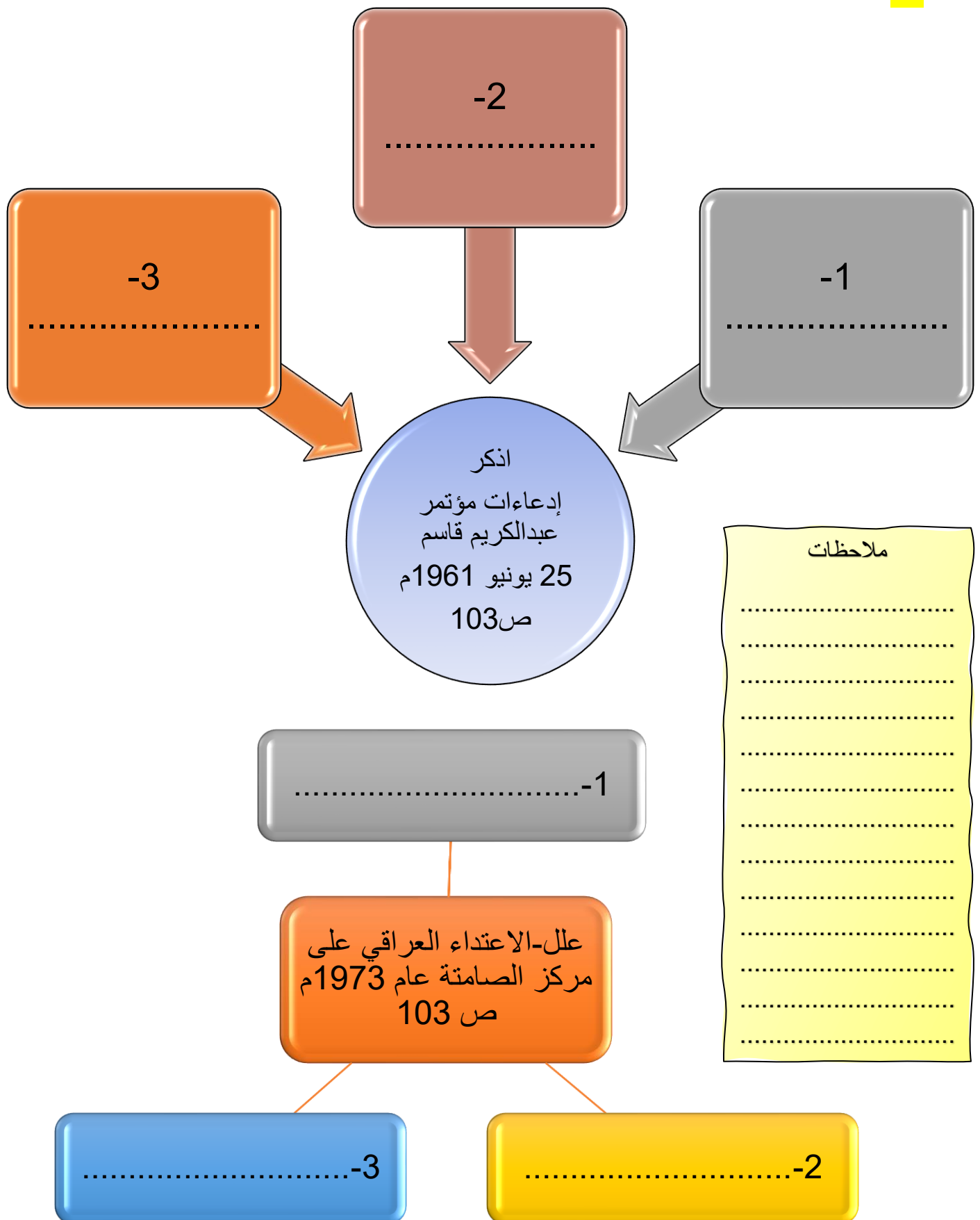
ملاحظات

.....

.....

.....

.....



اذكر- موقف الملك عبدالله بن عبدالعزيز رحمه الله تجاه القضية  
ال فلسطينية . ص ١٠٨

١- .....

٢- .....

عرف

الدولة الإسلامية .  
ص ١٣٧

عرف

الأقليات . ص ١١٢

عرف

الأقليات الإسلامية .  
ص ١١٢

ملاحظات

.....

.....

.....

.....

.....

.....

.....

.....

.....

.....

.....



علل - الفرار من ميرمار والعيش كلاجئين في الدول المجاورة ص ١١٣

.....

.....

من القائل ؟



" الناس تموت هنا ، ويجب على العالم أن يتحرك الآن لوقف هذا " . ص ١١٧

.....

فرق بين - معنى الأمية في البلدان النامية عن البلدان المتقدمة . ص ١٢٨

الأمية عند البلدان النامية : .....

.....

الأمية عند البلدان المتقدمة : .....

.....

# عرف ما يلي:

التصحر

ص ٨٨

التلوث البيئي

ص ٨١



الانفجار

السكاني

ص ٩٥

خط الفقر

ص ٩٧



# عرف

الفقر ص ٩٦

العولمة

ص ٩٩

التكامل الاقتصادي

ص ١٠٠

الحدود

ص ١٠٢

الوقف الإسلامي

ص ٢٩

الحضارة

ص ١٨

الحضارة

الإسلامية

ص ١٨





عرف

الخراج

ص ٢٨

الزكاة

ص ٢٨

الطقس

ص ٦٤

الهضبة

ص ٥٣ ص ٥٦

المناخ

ص ٦٤

السهول

ص ٥٣ ص ٥٨

التل

ص ٥٣

ص ٦٠

وادي  
ص ٥٣

جبل  
ص ٥٣

الاحتباس الحراري  
ص ٩٠

الفسيفساء  
ص ٣٠

عرف

النفايات  
ص ٩١

أهل الذمة  
ص ٢٩ ص ٣٦

التنمية المستدامة  
ص ٩٣

الأرابيسك  
ص ٢٧

إقليم مُناخي  
٦٥ ص

عرف

الوسطية  
١٦٨ ص

احتياطي النفط  
٦٨ ص



الأمية  
١٢٨ ص

الجوت  
٧٣ ص

الدولة الإسلامية  
١٣٧ ص

التدوير  
٩١ ص

الغلات النقدية  
٧٣ ص

وكالة الأنباء ( إينا )

ص ١٤٧

الرأي العام العالمي

ص ١٦٨

التطرف الفكري

ص ١٦٨

حق

تحقيق المصير

ص ١٦٨



الجزية

ص ٢٩

الإيسيسكو

ص ١٤٧

التضاريس

ص ٥٣

## عرف

الأقلية

ص ١١٢

الحدود

ص ١٠٢

الدخل القومي

ص ١٠٠

مؤتمر القمة

الإسلامية

ص ١٦٨

التلوث المائي

ص ٨٥

الأقليات

الإسلامية

ص ١١٢

التلوث

الضوضائي

ص ٨٧

البلدان

النامية

ص ١٠٠







اذكر- أهم المراكز العلمية في الحضارة الإسلامية المتمثلة في الرمز ●

ص ٣٨

- ١-.....
- ٢-.....
- ٣-.....
- ٤-.....
- ٥-.....



م	مراكز إشعاع الحضارة الإسلامية إلى أوروبا	الرقم المناسب	الدول الحالية التي تمثلها ص ٤١
١	بلاد الشام		إسبانيا والبرتغال
٢	صقلية		طنجة
٣	بلاد الأندلس		إيطاليا
			سوريا-لبنان-الأردن-فلسطين



حدد على الخريطة الصماء التي أمامك  
مراكز إشعاع الحضارة الإسلامية باستخدام  
الرموز التالية: ص ٤١

▲ بلاد الشام باستخدام الرمز

● بلاد الأندلس باستخدام الرمز

■ جزيرة صقلية باستخدام الرمز

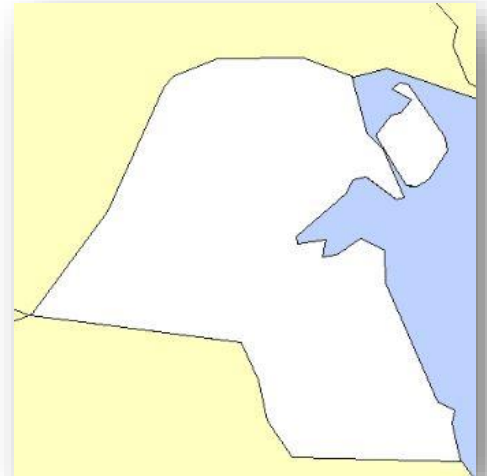




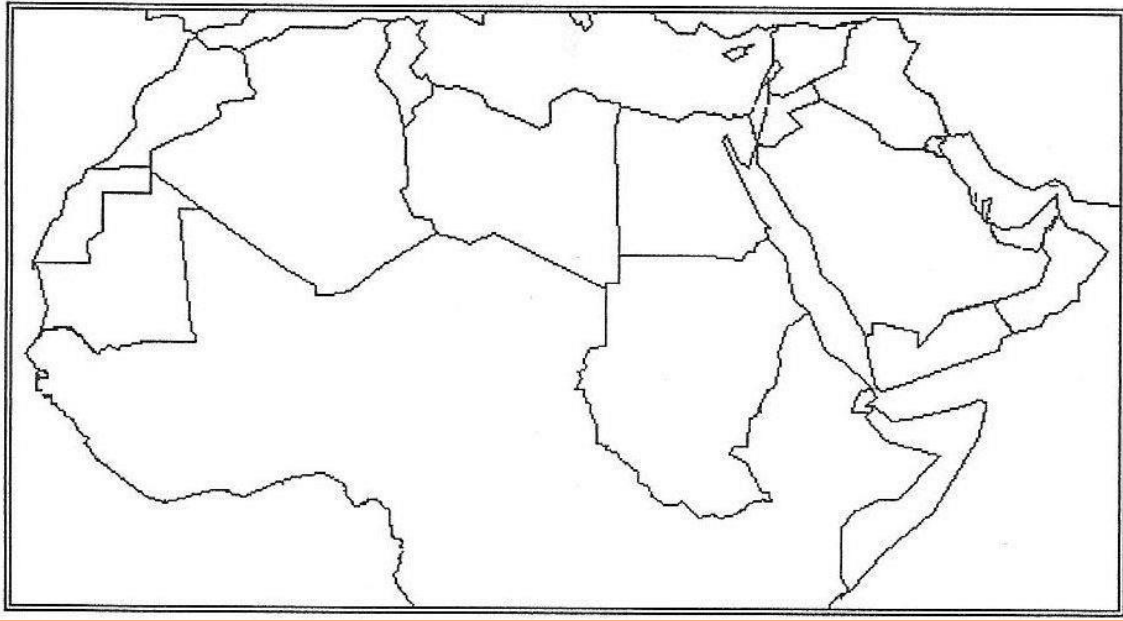
من خلال الخريطة أجب عن الأسئلة التالية : ص ٥١

- اكتب مفتاح الخريطة .
- اكتب أسماء القارات التي يمتد بها العالم الإسلامي .
- ضع الرمز ▲ على أكبر دولة إسلامية والرمز ● على أصغر الدول الإسلامية
- ارسم خط الإستواء .
- كم عدد الدول الإسلامية في الجانب الآسيوي ؟ وكم عدد الدول الإسلامية في الجانب الإفريقي ؟

-ضع عنواناً للخريطة . ص ٦١  
-حدد التلال بدولة الكويت بوضع الرمز —  
-صنف تلال دولة الكويت إلى تلال شمالية وتلال جنوبية .







أمامك خريطة الوطن العربي الصماء نفذ عليها ما يلي : ص ٥٦ ص ٥٧

- اكتب مفتاح الخريطة .

- ضع عنواناً مناسباً للخريطة .

- حدد الهضاب بوضع الرمز  ( اللون البرتقالي )

- حدد السهول الفيضية ( النهرية ) بوضع الرمز  ( اللون الأزرق )

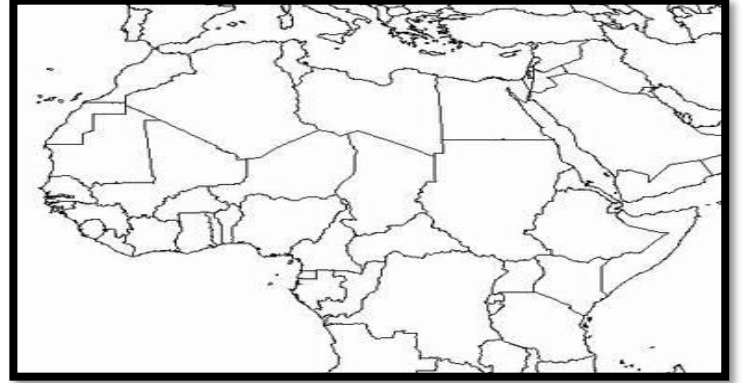
- حدد السهول الساحلية بوضع الرمز  ( اللون الأخضر )

حدد أهم الجبال في العالم الإسلامي

بوضع الرمز  
ص ٥٤

٤٦

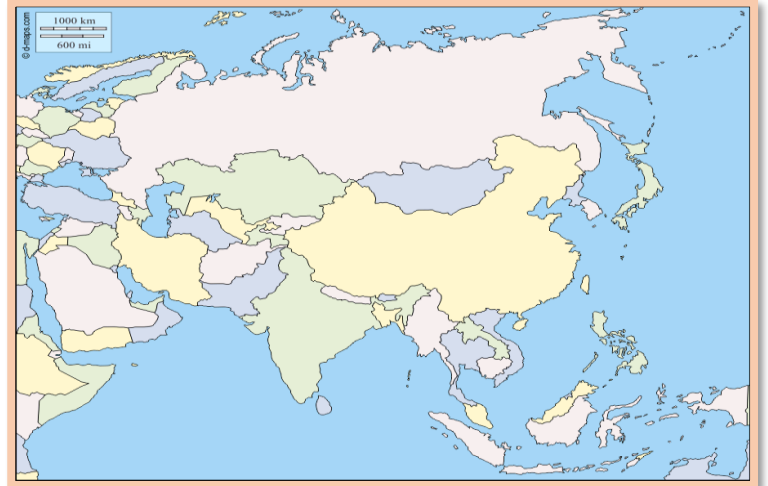
قارة إفريقيا



قارة أوروبا



قارة آسيا



قارة أمريكا الجنوبية

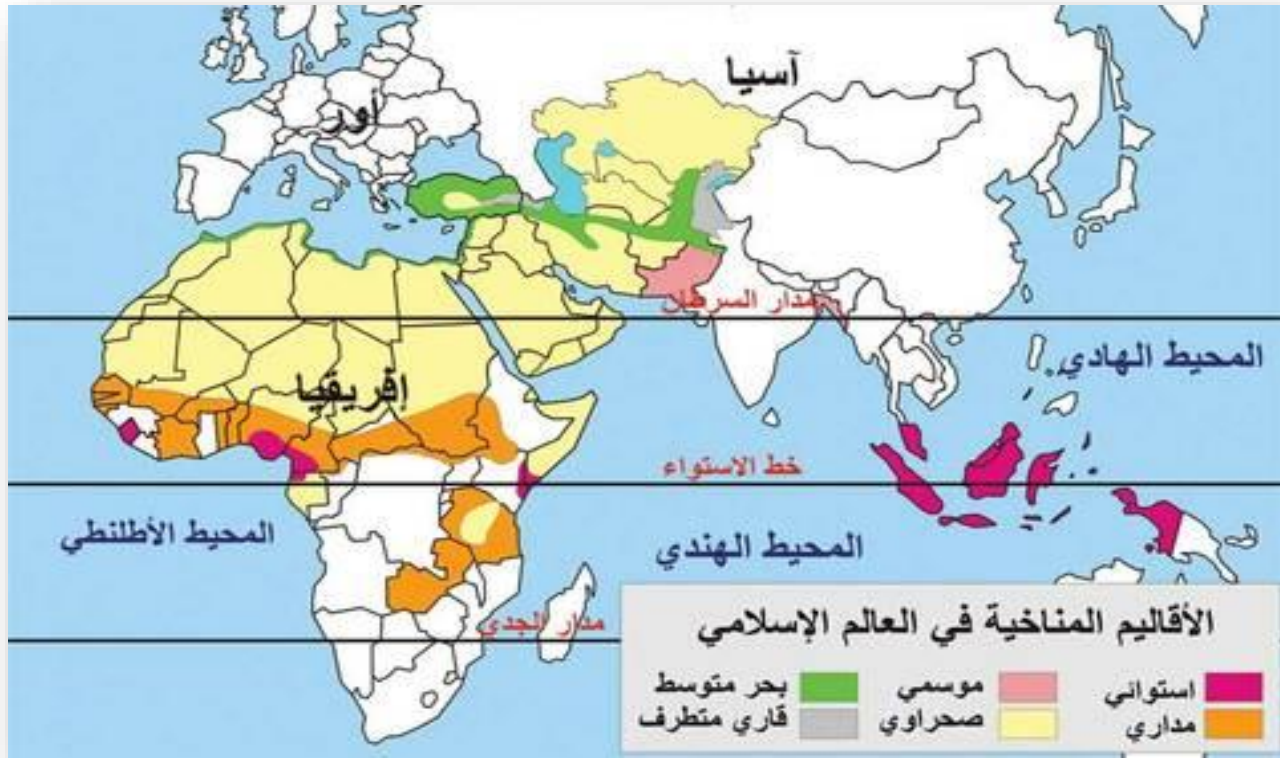




حدد على الخريطة التي أمامك أهم هضاب دول العالم الإسلامي .ص ٥٦

أكبر الهضاب في العالم تمتد من ساحل المحيط الأطلسي غرباً إلى مرتفعات البحر الأحمر شرقاً تسمى ..... ص ٥٧.





اكمل ما يلي بكتابة أسماء الدول التي يوجد بها الإقليم المناخي التالي . ص ٦٤

المناخ الاستوائي الحار الممطر طوال العام (.....)


المناخ الموسمي الحار الممطر صيفاً (.....)

المناخ المداري أمطاره صيفية تقل عن الإقليم الموسمي (.....)


المناخ المعتدل الدافئ ممطراً شتاءً وحار صيفاً (.....)

المناخ القاري الصحراوي الحار (.....)


## حول الجداول التالية إلى رسوم بيانية ص ٧٠



الذهب	
إندونيسيا	٢,٣ %
أوزبكستان	٣,٤ %
السودان	٢,٤ %
مالي	١,٥ %
كازخستان	١,٧ %

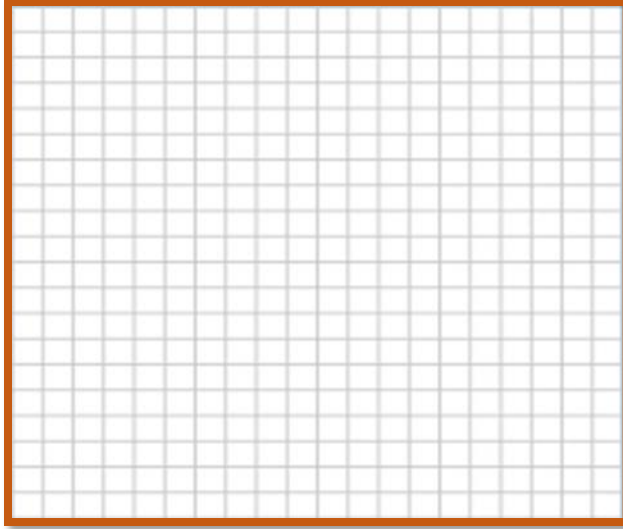


اليورانيوم	
كازاخستان	٤١ %
أوزبكستان	٤,٣ %
النيجر	٧,٢ %
باكستان	٠,١ %



الفضة	
تركيا	٠,٧ %
إندونيسيا	٣,٦ %
كازخستان	٣,٦ %
أوزبكستان	٠,٢ %
المغرب	٠,٧ %

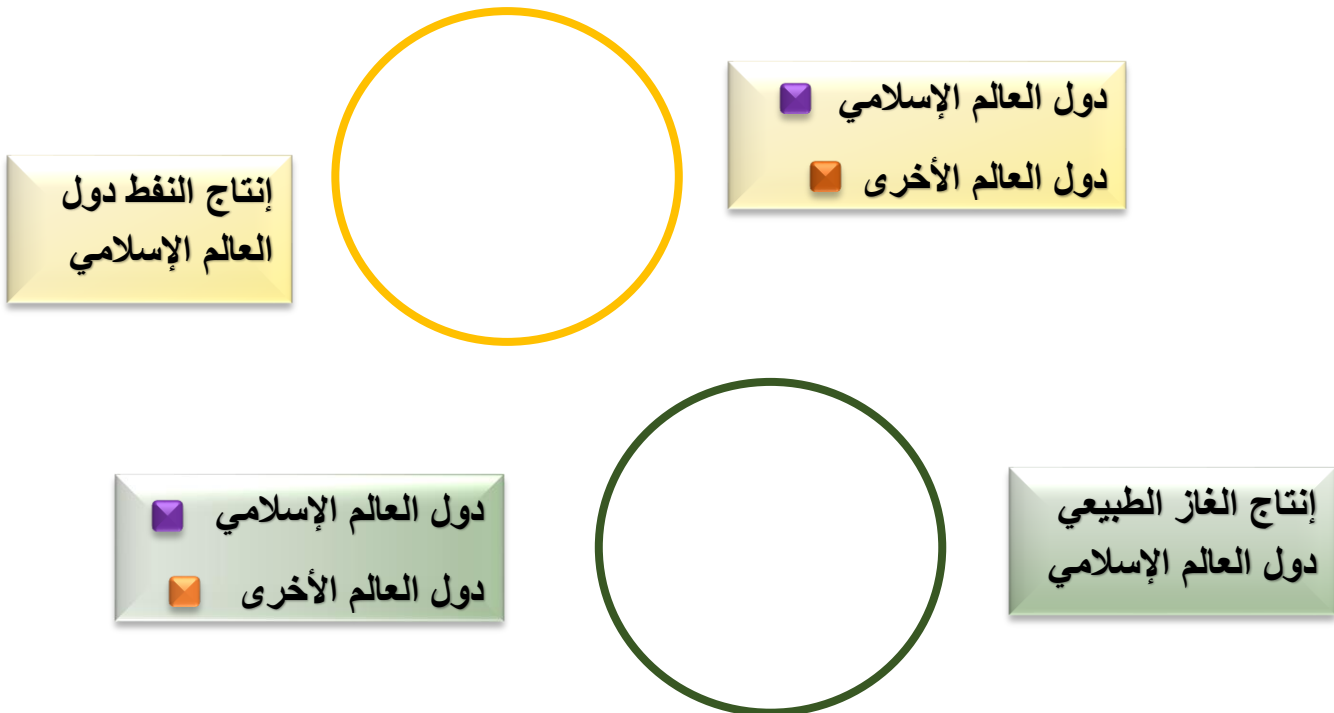


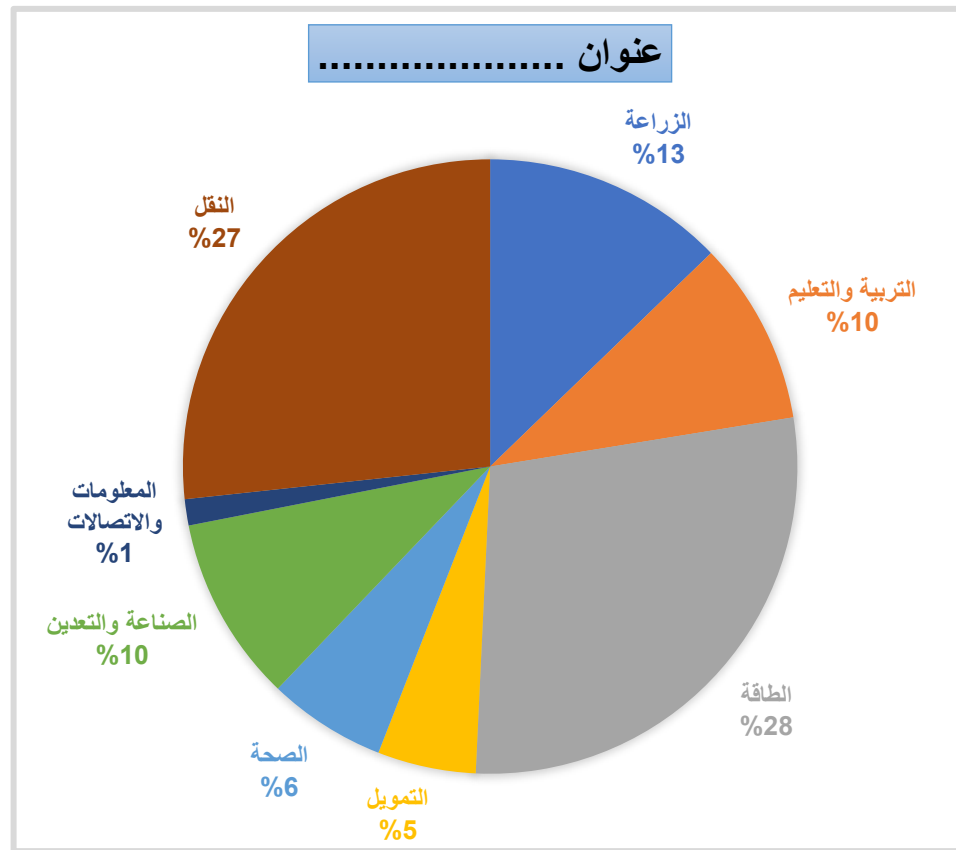


المجموع	البلدان ص ١٢٩
٤٨,٠٩	سيراليون
٩٩,٩٧	كازخستان
٩٣,٨٨	إندونيسيا
٩٥,٠١	تركيا
٩٥,٥٧	سورينام
١٩,١٣	النيجر
٧٠,٠٧	اليمن
٩٩,٨٢	أذربيجان


يعتبر النفط والغاز الطبيعي من أهم مصادر الطاقة في العالم حيث ينتج العالم الإسلامي من النفط الخام ٤١,٥٪ والغاز الطبيعي ٣٦٪ من إجمالي الإنتاج العالمي . ص ٦٧

حول نسبة إنتاج النفط والغاز الطبيعي في دول العالم الإسلامي مقارنة مع الإنتاج العالمي على شكل دائرة بيانية .





لاحظ الشكل ، ثم  
نفذ المطلوب  
ص ١٤٦



حول النسب  
الموجودة في  
الدائرة البيانية إلى  
أعمدة بيانية

# بنك الأسئلة للصف الثامن

## مع الإجابة

### الوحدة الأولى / الوحدة الثانية / الوحدة الثالثة

الوحدة الأولى: لمحة تاريخية عن الحضارة الإسلامية أ. نجلاء المعود

الوحدة الثانية : البيئة الطبيعية للعالم الإسلامي وأثرها على الاقتصاد أ. مريم المطيري

الوحدة الثالثة : العالم الإسلامي تحديات وحلول أ. نجلاء المعود

مراجعة

الموجهة الفنية

أ. غدير عيسى الجيران

إعداد الموجهة الفنية

أ. مريم المطيري

أ. نجلاء المعود

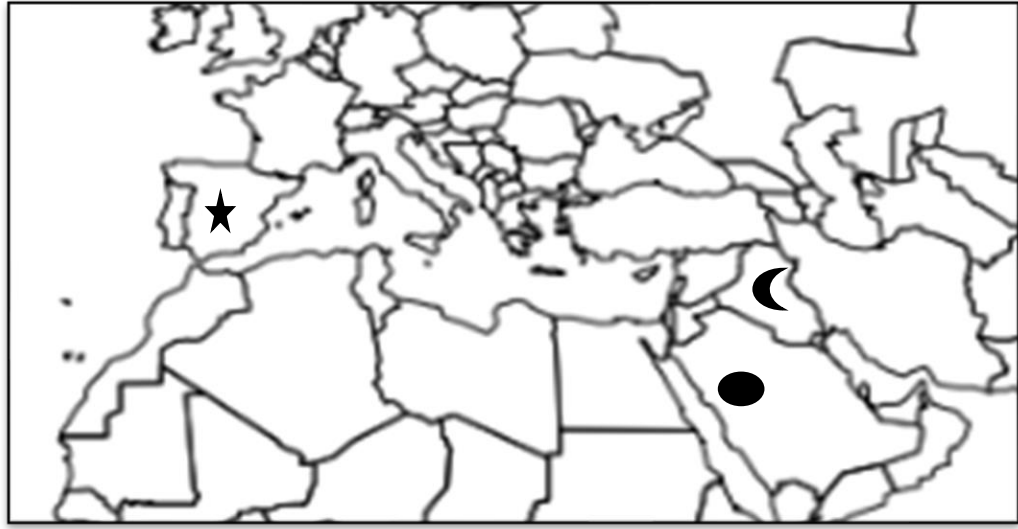


## الوحدة الأولى

### لمحة تاريخية عن الحضارة الإسلامية

#### الأسئلة الموضوعية :

أ - لاحظ الخريطة جيداً ثم استعن بالأشكال التي عليها لأكمال العبارات التالية:-



- ١- يمثل الشكل (☾) مركز من المراكز العلمية في الحضارة الإسلامية في مدينة بغداد ص ٣٨
- ٢- يمثل الشكل (●) مدينة انطلقت منها الدولة الإسلامية المدينة المنورة ص ١٧
- ٣- يمثل الشكل (★) أحد معاير الحضارة الإسلامية إلى أوروبا الأندلس ص ٤١

ب- اختر من المجموعة ( أ ) إسم العالم ما يناسبها من المجموعة ( ب ) الإنجازات :-

الانجازات	الرقم المناسب	أسم العالم
فكرة الكاميرا	٣	١- الأديسي ص ٤٢
كتاب الجبر والمقابلة	٥	٢- الجاحظ ص ٤٠
كتاب الحاوي في التداوي	٤	٣- الحسن بن الهيثم ص ٣٩
كتاب الحيوان	٢	٤- أبو بكر الرازي ص ٤٠
كتاب نزهة المشتاق في اختراق الآفاق	١	٥- الخوارزمي ص ٣٩
		٦- الكندي

ج- اختر الحدث التاريخي والمدينة المناسبة للحدث حسب الجدول وذلك بوضع الرقم :

الرقم	الحدث التاريخي	الرقم المناسب	المدينة
١	انشئ فيها ديوان الماء وتقع في خرسان (ايران حالياً) ص ٢٧	٢	الشجي
٢	محطة لاستراحة قوافل الحجاج في عصر الدولة الإسلامية ( الشقايا حالياً في الكويت) ص ٢٨	١	مرو
٣	ازدهرت بازدهار الطريق التجاري البحري عبر الخليج (قرية في جزيرة فيلكا ) ص ٢٨	٤	غرناطة
٤	يقع فيها قصر الحمراء (الأندلس) اسبانيا حالياً ص ٣٥	٣	القرينية والقصور
٥	شق فيها المسلمون قنوات ومد مجاري جوفية تحت الأرض بطريقة هندسية محكمة ( مدريد حالياً عاصمة اسبانيا) ص ٤٣	٥	مجريط

د- اختريين مجموعة (أ) ما يناسبها من مجموعة (ب) وذلك بوضع الرقم :- ص ٣٢-٣٣

الرقم	مجموعة (أ) ( المساجد )	الرقم المناسب	مجموعة (ب) ( المَدَن )
١	المسجد الأموي	٩	مكة المكرمة
٢	جامع عمر بن العاص	٥	دومة الجندل(السعودية)
٣	الجامع الأزهر	٨	الأندلس (أسبانيا)
٤	مسجد السلطان أحمد	١	دمشق
٥	مسجد عمر بن الخطاب	٣	القاهرة
٦	المسجد الأقصى المبارك	٧	المدينة المنورة
٧	المسجد النبوي	٤	إسطنبول
٨	جامع قرطبة	٢	الفسطاط
٩	الكعبة المشرفة	٦	القدس الشريف (فلسطين المحتلة)

## هـ - أكمل العبارات التالية بما يناسبها مما درست :-

- ١- قامت الدولة الإسلامية على يد النبي محمد صلى الله عليه وسلم ص ١٧
- ٢- المدينة التي انطلق منها شعاع الحضارة الإسلامية تسمى المدينة المنورة ص ١٧
- ٣- قامت الدولة الإسلامية في القرن ١٨ الميلادي ص ١٧
- ٤- أشهر مؤلفات "البيروني" كتاب الصيدلة في الطب ص ١٩
- ٥- العالم الذي ألف كتاب الصيدلة في الطب أسمه البيروني ص ١٩
- ٦- أسس الدين الإسلامي القرآن الكريم والسنة النبوية ص ٢٠
- ٧- يحتفل العالم بيوم اللغة العربية بتاريخ ١٨ ديسمبر ص ٢١
- ٨- أدخلت اللغة العربية ضمن اللغات الرسمية في الأمم المتحدة عام ١٩٧٣م ص ٢١
- ٩- لقب الشيخ صباح الأحمد رحمه الله عام ٢٠١٤م بلقب قائد العمل الإنساني ص ٢٤
- ١٠- الداعية الذي عُرف بالعمل الإنساني أسمه عبدالرحمن السميّط ص ٢٤
- ١١- أول حاكم للدولة الإسلامية بعد الرسول ﷺ الخليفة أبو بكر الصديق رضي الله عنه ص ٢٥
- ١٢- اجتمع المسلمون في سقيفة بني ساعدة بعد وفاة الرسول ﷺ عام ١١هـ ص ٢٥
- ١٣- استحدث منصب المحتسب في عهد الخليفة عمر بن الخطاب رضي الله عنه ص ٢٥
- ١٤- سميت صناعة خشب (الأرابيسك) بهذا الاسم نسبةً إلى العرب ص ٢٧
- ١٥- أهم مورد مالي للدولة الإسلامية في العصور الوسطى يسمى الخراج ص ٢٨
- ١٦- تبلغ قيمة الزكاة بواقع ٢,٥ % ص ٢٨
- ١٧- الجهة المسؤولة عن الوقف في دولة الكويت تسمى وزارة الأوقاف والشؤون الإسلامية ص ٢٩
- ١٨- عالم وفيلسوف مسلم أثر على العالم الإنجليزي روجر بيكون أسمه الكندي ص ٤٢
- ١٩- عالم مسلم أكتشف كروية الأرض أسمه الإدريسي ص ٤٢

## الأسئلة المقالية

### أ - عدد لكل مما يلي :

- ١- العوامل التي ساهمت في تطوير الحضارة الإسلامية. ص ١٧
- ترجمة علوم الشعوب الأخرى. - اندماج الشعوب الأخرى مع العرب في الدين الإسلامي. ص ١٧
- ٢- العلوم العقلية التي برع فيها المسلمون. ص ١٧
- الرياضيات - الفيزياء - الكيمياء - الفلسفة - الفلك .
- ٣- العلوم النقلية التي برع فيها المسلمون. ص ١٧
- علوم الدين من (حديث - فقه - تفسير - تاريخ).
- ٤- الشعوب التي كوّنت الحضارة الإسلامية. ص ١٨
- العرب - الفرس - الترك - الأفارقة - الآسيويين - الهنود - الأوروبيين
- ٥- أسس الحضارة الإسلامية . ص ٢٠
- الدين الإسلامي ( القرآن الكريم والسنة النبوية) - اللغة العربية - الحضارات الأخرى.
- ٦- اللغات الرسمية ولغات العمل في الأمم المتحدة. ص ٢١
- الإنجليزية - الفرنسية - الصينية - الروسية - الإسبانية - العربية
- ٧- خصائص الحضارة الإسلامية. ص ٢٢ ص ٢٣
- حضارة تسامح - حضارة إيمان وعمل - حضارة إنسانية - حضارة عالمية - حضارة شمولية
- ٨- المؤسسات والهيئات والجمعيات الخيرية في الكويت. ص ٢٤
- بيت الزكاة الكويتي - الهيئة الخيرية الإسلامية العالمية
- ٩- المناصب الإدارية التي ظهرت في الدولة الإسلامية. ص ٢٥
- الخليفة - الوزير - الوالي - المحتسب - الحاجب - القاضي
- ١٠- الصناعات التي برع فيها المسلمون. ص ٢٧
- صناعة السفن - الأسلحة - الورق - الأدوية - المنسوجات
- الخزف والمعادن - الأرابيسك (صناعة الخشب
- ١١- صادرات المسلمون في الدولة الإسلامية. ص ٢٨
- التمر - الفواكه - اللبان - الخيول العربية

- ١٢- واردات المسلمون في الدولة الإسلامية. ص ٢٨
- الأخشاب - التوابل - الذهب
- ١٣- أهم المساجد التاريخية في العالم الإسلامي. ص ٣٢
- الكعبة المشرفة في مكة المكرمة
- المسجد النبوي في المدينة المنورة
- المسجد الأقصى المبارك (فلسطين المحتلة)
- ١٤- الفئات الاجتماعية في الدولة الإسلامية. ص ٣٦
- الحكام - رجال الدين - التجار - الخدم - أهل الذمة
- ١٥- المظاهر الدينية والأعياد في الدولة الإسلامية. ص ٣٦
- عيد الفطر - عيد الأضحى
- ١٦- مراكز إشعاع الحضارة الإسلامية إلى أوروبا. ص ٤١
- بلاد الشام - صقلية - الأندلس

### ب - علل لما يأتي :

- ١- ادخال اللغة العربية ضمن اللغات الرسمية ولغات العمل في الأمم المتحدة عام ١٩٧٣م. ص ٢١
- بسبب اقتراح المملكة العربية السعودية ومملكة المغرب برغبة منهم لانتشار اللغة العربية واعتبر يوم ١٨ ديسمبر من كل عام يوم الاحتفال باللغة العربية.
- ٢- لقيت التجارة تشجيعاً كبيراً في الحضارة الإسلامية. ص ٢٨
- لدورها الكبير في التبادل التجاري مع المناطق المجاورة ولقد أسهمت في نشر الدين الإسلامي.
- يمتلك موقع العالم الإسلامي الإستراتيجي العديد من الخطوط التجارية البرية والبحرية.
- ٣- ازدهار العلم وظهور العلماء في الدولة الإسلامية. ص ٣٧
- تشجيع العلماء ورعاية وتمويل القيادات السياسية لهم من خلفاء وملوك وسلاطين وأمراء.
- التنافس العلمي بين الدول الإسلامية. - الرخاء الاقتصادي
- حركة التعريب ( الترجمة ) للكتب القديمة اليونانية والهندية والفارسية وغيرها.

## ج - قارن بين كل من مما يلي :

أوجه المقارنة	قصر الخضراء ص ٣٤	قصر عمرة ص ٣٤	قصر الرصافة ص ٣٥
الخليفة الذي بناه	الخليفة الأموي معاوية بن أبي سفيان	الخليفة يزيد بن الوليد	الخليفة هشام بن عبد الملك
المكان	دمشق	الأردن	سوريا

## د - أكتب فيما يلي :-

- ١- جهود المسلمين في الزراعة. ص ٢٦
  - شق القنوات المائية والترع.
  - إقامة السدود.
  - تنظيم وسائل الري.
- ٢- أهم مميزات المظاهر العمرانية في الحضارة الإسلامية. ص ٣٠
  - الأسوار مثل سور الأحساء وسور القاهرة وسور بغداد.
  - القباب.
  - المآذن.
  - المنابر.
  - الزخارف.
- ٣- أهم المراكز العلمية في الحضارة الإسلامية. ص ٣٨
  - المسجد الحرام في مكة المكرمة والمسجد النبوي في المدينة المنورة.
  - (بيت الحكمة) في "بغداد".
  - المرصد الفلكي في (مراغة) في "أذربيجان".
  - مجمع (باي كاليان) في مدينة بخارى في "أوزبكستان".

## هـ - عرف المفاهيم والمصطلحات التالية :-

- ١- الحضارة : كل ما يطرأ على المجتمع من تقدم وتطور ورقي سواء في الجانب المادي أو الجانب الروحي . ص ١٨
- ٢- الزكاة : ركن من أركان الإسلام يخرجها المسلمون الأغنياء للمستحقين من الفقراء وسميت الزكاة لما فيها من تزكية للنفس وتطهيرها. ص ٢٨
- ٣- الخراج: ضريبة الأرض الزراعية التي تخرج مبلغاً مالياً معيناً من ناتج المحصول الزراعي، وهي من أهم مورد في العصور الوسطى. ص ٢٨
- ٤- الجزية : مبلغ مالي يدفعه الرجال غير المسلمين من (أهل الذمة) ممن هم قادرون على حمل السلاح نظير حماية الدولة لهم. ص ٢٩
- ٥- الوقف الإسلامي: صدقة جارية يوقفها المرء في حياته لوجوه الخير والبر ، ويكون أجرها ونفعها ما دامت باقية ويستمر الأجر حتى بعد وفاته. وتوقف لسد حاجات الفقراء والمساكين والمرضى ونشر العلم النافع وبناء المدارس ودور الأيتام. ص ٢٩
- ٦- الفسيفساء : مجموعة من مكعبات الزجاج الملون والشفاف وقطع من الحجر الأبيض والأسود وكذلك القطع الخزفية تثبت فوق طبقة من الجص أو الأسمنت بشكل منظم لتعطي منظراً جميلاً متناسقاً في اللون والشكل. ص ٣٠
- ٧- المساجد : تقام فيها الصلوات وخطبة الجمعة والتعليم الديني. ص ٣٢
- ٨- القصور: مقر الحاكم والمكان الذي يضم المؤسسات الإدارية كالوزارة والدواوين ، وأحياناً تكون قصوراً صحراوية لتنزه الخلفاء. ص ٣٤
- ٩- أهل الذمة : هم النصارى واليهود الذين ظلوا على دينهم مع دفع الجزية. ص ٣٦
- ١٠- القصص والوعاظ : مجالس لسماع القصص والحكايات التي كانت محببة لدى الناس (ورد القرآن الكريم قصص عن الأنبياء والرسل وشعوبهم) ص ٣٦



## الوحدة الثانية

### البيئة الطبيعية للعالم الإسلامي وأثرها على الاقتصاد والمجتمع

#### الأسئلة الموضوعية :

#### أ) اختر الإجابة الصحيحة من بين البدائل التي تلي كل عبارة :

- ١- عدد الدول الإسلامية التي تضمها قارة آسيا : ص ٥١  
( ٢٦ دولة - ٢٧ دولة - ٢٨ دولة - ٢٩ دولة )
- ٢- عدد الدول الإسلامية التي تضمها قارة إفريقيا : ص ٥١  
( ٢٦ دولة - ٢٧ دولة - ٢٨ دولة - ٢٩ دولة )
- ٣- تقع دولة ألبانيا في قارة : ص ٥١  
( آسيا - إفريقيا - أوروبا - أمريكا الجنوبية )
- ٤- دولة سورينام تقع في قارة : ص ٥١  
( آسيا - إفريقيا - أوروبا - أمريكا الجنوبية )
- ٥- تبلغ مساحة العالم الإسلامي حوالي : ص ٥١  
( ٢٩ مليون كم<sup>٢</sup> - ٣٢ مليون كم<sup>٢</sup> - ٣٦ مليون كم<sup>٢</sup> - ٤٠ مليون كم<sup>٢</sup> )
- ٦- يقع العالم الإسلامي بين خطي طول : ص ٥٢  
( ١٣ غرباً - ٥٥ شرقاً - ١٦ غرباً - ١٣٠ شرقاً - ١٨ غرباً - ١٤١ شرقاً - ٢٠ غرباً - ١٥٠ شرقاً )
- ٧- يقع العالم الإسلامي بين دائرتي عرض : ص ٥٢  
( ١٣- جنوباً - ٥٥ شمالاً - ١٥ جنوباً - ٦٠ شمالاً - ١٨ جنوباً - ٦٥ شمالاً - ١٩ جنوباً - ٨٠ شمالاً )
- ٨- التل يشبه الجبل ولكن ارتفاعه يكون أقل من : ص ٦٠  
( ١٠ متر - ١٠٠ متر - ١٠٠٠ متر - ١٠٠٠٠ متر )
- ٩- النسبة التي ينتجها العالم الإسلامي من النفط الخام تبلغ : ص ٦٧  
( ٢١,٥ % - ٣١,٥ % - ٤١,٥ % - ٥١,٥ % )

١٠- النسبة التي ينتجها العالم الإسلامي من الغز الطبيعي تبلغ : ص ٦٧

( ١٦ % - ٢٦ % - ٣٦ % - ٤٦ % )

١١- يبلغ إنتاج العالم الإسلامي من الحبوب حوالي : ص ٧٢

( ١٤ % - ٢٤ % - ٤١ % - ٤٢ % )

### **( ب ) أكمل العبارات التالية بما يناسبها مما درست :**

١-تضم قارة أمريكا الجنوبية دولة إسلامية واحدة تسمى سورينام . ص ٥١

٢-أكبر الدول الإسلامية من حيث المساحة جمهورية كازاخستان . ص ٥٢

٣-أصغر دول العالم الإسلامي مساحة جمهورية المالديف . ص ٥٢

٤-أجزاء فسيحة من سطح الأرض تتميز باستوائها وقلة ارتفاعها تسمى السهول . ص ٥٣

٥-يشبه الجبل ولكن ارتفاعه أقل من ١٠٠٠ متر يسمى التل . ص ٥٣

٦-حوض أو منخفض طبيعي على سطح الأرض يسمى الوادي . ص ٥٣

٧-الدولة التي يقع فيها جبل مرة تسمى السودان ص ٥٤

٨-الدولة التي توجد بها جبال الأحجار تسمى الجزائر ص ٥٤

٩-من أكبر الهضاب في العالم وتمتد من ساحل المحيط الأطلسي غرباً إلى مرتفعات البحر الأحمر شرقاً تسمى

هضبة الصحراء الكبرى . ص ٥٧

١٠-أشهر السهول في دولة الكويت ، يمتد من جون الكويت باتجاه الجنوب موازياً لخط الساحل يسمى

سهل برقان ص ٥٨

١١-أولى دول العالم الإسلامي في إنتاج الذهب جمهورية أوزباكستان ص ٧٠

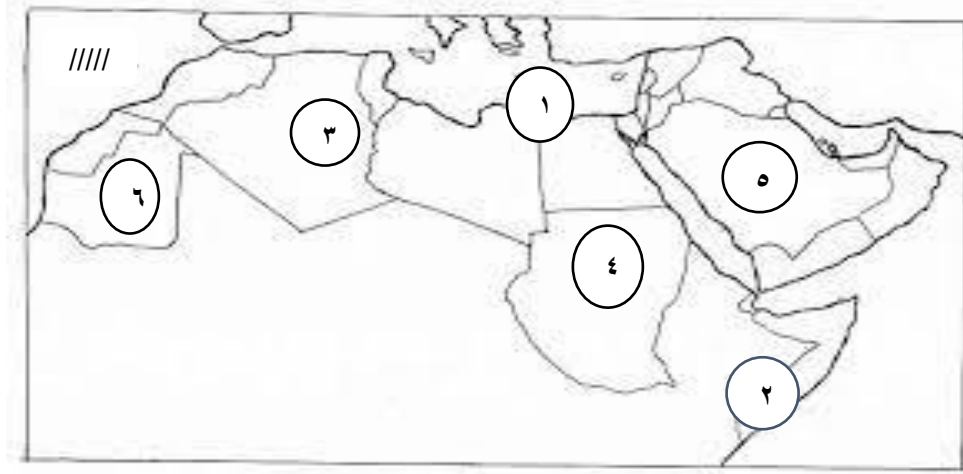
١٢-أولى دول العالم الإسلامي في إنتاج اليورانيوم جمهورية كازاخستان . ص ٧٠

١٣-نبات ينمو في المناطق الاستوائية والموسمية ويصنع منه الحبال والأحذية والحقائب يسمى الجوت ص ٧٣

١٤-الدولة الإسلامية التي احتلت المركز الثاني على مستوى العالم في الإنتاج البحري في عام ٢٠١٤ تسمى إندونيسيا .

ص ٧٤

### ج) أمامك خريطة للوطن العربي الصماء نفذ عليها ما يلي :



- ١- حدد على الخريطة جبال مرة مستخدماً الشكل ▲ ص ٥٤
- ٢- هضبة نجد يمثلها الرقم ( ٥ ) ص ٥٦
- ٣- سهل نهر جوبا يمثلها الرقم ( ٢ ) ص ٥٩
- ٤- حدد على الخريطة المحيط الأطلسي مستخدماً الشكل ///// ص ٥٩
- ٥- البحر المتوسط يمثلها الرقم ( ١ ) ص ٥٩
- ٦- سهول نهر الشليف يمثلها الرقم ( ٣ )

## الأسئلة المقالية

### أ) عرف المفاهيم والمصطلحات التالية :

المفهوم	التعريف
الوادي	حوض أو منخفض طبيعي على سطح الأرض . ص ٥٣
السهول	أجزاء فسيحة من سطح الأرض تتميز باستوائها وقلّة ارتفاعها. ص ٥٣
الهضبة	أرض مرتفعة سطحها مستوٍ وتمتد لمساحة واسعة . ص ٥٣
الجبل	كل قمة لا يقل ارتفاعها عن ١٠٠٠ متر تقريباً . ص ٥٣
التل	يشبه الجبل ولكن ارتفاعه أقل من ١٠٠٠ متر. ص ٥٣
المناخ	حالة الجو خلال فترة زمنية طويلة من حيث عناصره وهي درجة الحرارة والرطوبة والأمطار والضغط الجوي . ص ٦٤
الطقس	حالة الجوفي مكان لمدة قصيرة تتراوح بين يوم أو عدة أيام من حيث درجة الحرارة والرطوبة والأمطار والضغط الجوي . ص ٦٤
الجوت	نبات ينمو في المناطق الاستوائية والموسمية تؤخذ أغصانه وتوضع تحت الماء وتطمر بالطين وبعد أيام تستخرج وتغزل ويصنع منها الحبال والأحذية والحقائب والأقمشة الخشنة ص ٧٣
احتياطي النفط	كمية النفط المخزونة في باطن الأرض ولم تستخرج بعد . ص ٦٨
الغلات النقدية	المحاصيل التي تزرع من أجل التصدير مثل القطن والجوت والمطاط الطبيعي ص ٧٣

## ( ب ) علل لما يأتي :

١- قلة عدد السكان في المناطق الجبلية في دول العالم الإسلامي . ص ٥٥  
شدة انحدارها / قلة وجود الأوكسجين / انخفاض الضغط الجوي / صعوبة التنقل

٢- أهمية السهول . ص ٥٨  
استخدامها كموانئ طبيعية / تشييد المدن / تركيز السكان فيها لسهولة التنقل

٣- تنوع المناخ في دول العالم الإسلامي . ص ٦٣  
امتداد دول العالم الإسلامي على مساحة شاسعة / الموقع بالنسبة لدوائر العرض  
الإطلالة على عدة مسطحات مائية في معظم أجزائه / التنوع في التضاريس من جبال وهضاب وسهول ووديان

## ( ج ) فرق بين كل مما يلي :

الهضبة ص ٥٣	الجبل ص ٥٣
أرض مرتفعة سطحها مستوٍ وتمتد لمساحة واسعة	هو كل قمة لا يقل ارتفاعها عن ١٠٠٠ متر
الوادي ص ٥٣	التل ص ٥٣
حوض أو منخفض طبيعي على سطح الأرض	يشبه الجبل ولكن ارتفاعه أقل من ١٠٠٠ متر
المناخ ص ٦٤	الطقس ص ٦٤
حالة الجو خلال فترة زمنية طويلة من حيث عناصره وهي درجة الحرارة والرطوبة والأمطار والضغط الجوي	حالة الجوفي مكان لمدة قصيرة تتراوح بين يوم أو عدة أيام من حيث درجة الحرارة والرطوبة والأمطار والضغط الجوي

## د ) اكتب فيما درست :

١- أهم العوامل التي ساعدت على زيادة الإنتاج الزراعي في دول العالم الإسلامي . ص ٧٢

-التربة الخصبة

-المناخ

-وجود البحيرات والأنهار والأبار

-سقوط الأمطار

-كثرة السكان والأيدي العاملة

٢- أهم المصادر الطبيعية لإنتاج الأسماك في دول العالم الإسلامي . ص ٧٤

-المحيطات والبحار

-المياه العذبة

٣- أهم المصادر الغير طبيعية لإنتاج الأسماك في دول العالم الإسلامي . ص ٧٤

الاستزراع السمكي .

## الوحدة الثالثة

### البيئة الطبيعية للعالم الإسلامي وأثرها على الاقتصاد والمجتمع



الأسئلة الموضوعية :

أ- يرمز الشكل المقابل إلى :- ص ٩١

وجود الكثير من المنتجات الورقية  
والبلاستيكية في المنزل أو الأسواق . ( إعادة التدوير )

### ب- صنف الدول حسب نسبة التصحر فيها بالاستعانة بأسماء الدول بين القوسين :

(مصر – لبنان – جيبوتي – سوريا – السودان – العراق – دول الخليج عدا عمان - السنغال)

التصحر فيها ما بين ١٠٪ - ٥٠٪	التصحر فيها يصل ٩٠٪ ص ٨٩
لبنان - سوريا العراق - السودان السنغال غرباً حتى الصومال شرقاً	مصر جيبوتي دول الخليج العربي ما عدا عمان

**ج - أكتب أسماء الدول العربية المسلمة التي نجحت في استخدام الطاقة البديلة حسب الجدول التالي:**

اسم الدولة ص ٩٣	مشاريع التنمية المستدامة
مصر	تشغيل مدرسة بالطاقة الشمسية
الكويت	تشغيل أول محطة كهرباء تعمل بالطاقة الشمسية في منطقة الشقايا عام ٢٠١٧ م
السعودية	خطط طموحة لتوليد الكهرباء بالطاقة الشمسية لكافة مناطقها بحلول عام ٢٠٤٠ م

**د- اختر ( الحدث التاريخي ) و ( التاريخ ) الذي يناسبه حسب الجدول التالي بوضع الرقم المناسب :**

الرقم	الحدث التاريخي	الرقم المناسب	التاريخ
١	تحرير دولة الكويت ص ١٢٢	٣	٦ نوفمبر ١٩٩١ م
٢	بدء حرب عاصفة الصحراء ص ١٢٢	٤	٢ أغسطس ١٩٩٠ م
٣	اخماد آخر بئر نفطي مشتعل في الكويت ص ١٢٠	١	٢٦ فبراير ١٩٩١ م
٤	اجتاحت جيوش الطاغية صدام حسين دولة الكويت (الغزو العراقي على دولة الكويت) ص ١٢٢	٢	١٧ يناير ١٩٩١ م



## هـ - أكمل العبارات التالية بما يناسبها فيما درست :-

- ١- تم انشاء شرطة البيئة في دولة الكويت عام ٢٠١٥م ص ٨٢
- ٢- قائد العمل الإنساني الشيخ صباح الأحمد الجابر الصباح رحمه الله ص ٨٢
- ٣- بلغت نسبة التلوث في باكستان بسبب عوادم السيارات حوالي ٤٠٪ ص ٨٣
- ٤- التلوث المائي في ماليزيا يمثل خطراً على الشعب نظراً لما يسمى بالتلوث الدخاني أو الضبابي ص ٨٣
- ٥- عانت موريتانيا من شدة التلوث المائي عام ٢٠١٧م ص ٨٥
- ٦- المدينة التي تعتبر نموذجاً للتلوث الضوضائي في العالم الإسلامي بسبب وجود عدد كبير من السيارات تسمى القاهرة ص ٨٧
- ٧- تعتبر التربة عنصراً مهماً من عناصر البيئة الطبيعية لأنها المصدر الرئيسي لإنتاج الغذاء ص ٨٨
- ٨- نتج عن تدهور التربة وتلويثها إلى زيادة في مشكلة التصحّر ص ٨٨
- ٩- أكد مؤتمر الأمم المتحدة للتصحّر عام ١٩٧٧م بأن التصحر عملية بشرية من صنع الإنسان ص ٨٩
- ١٠- تعاني دول الخليج العربي من التصحر بنسبة ٩٠٪ ما عدا دولة تسمى سلطنة عمان ص ٨٩
- ١١- الغاز الأول المسؤول عن الاحتباس الحراري يسمى غاز ثاني أكسيد الكربون ص ٩٠
- ١٢- يعيش سكان العالم الإسلامي تحت مستوى خط الفقر بنسبة ٣٧٪ ص ٩٧
- ١٣- الدولة الأعلى في نسبة الفقر بين دول العالم الإسلامي تسمى بنجلادش ص ٩٧
- ١٤- ضعف الإنتاج الاقتصادي يترتب عليه انخفاض شديد فيما يسمى الدخل القومي ص ١٠٠
- ١٥- ترسيم الحدود الكويتية العراقية عام ١٩٩٣م بقرار الأمم المتحدة يحمل الرقم ٨٣٣ ص ١٠٤
- ١٦- بدأت القضية الفلسطينية عقب الحرب العالمية الأولى ص ١٠٧
- ١٧- حكم فلسطين في الفترة ما بين ١٩٢٠م - ١٩٤٨م الانتداب البريطاني ص ١٠٧
- ١٨- أنشئ صندوق الأقصى باقتراح من الملك عبدالله بن عبدالعزيز رحمه الله ص ١٠٨
- ١٩- عقد مؤتمر القمة الاقتصادية والتنموية والاجتماعية عام ٢٠٠٩م في دولة الكويت ص ١٠٩
- ٢٠- تقع منطقة (شينجيانغ أوريجور) ذات الأقلية الإسلامية في الحدود الغربية لجمهورية الصين ص ١١٣
- والهرسك من كل عام ذكرى إغلاق معسكر أومارسكا ص ١١٦ - تحيي جمهورية البوسنة
- ٢٢- حرب تسببت بآبادة أكثر من ٣٠٠ ألف مسلم باعتراف الأمم المتحدة حرب البوسنة ص ١١٦
- ٢٣- انتشر وباء الكوليرا والجفاف والمجاعة في الصومال بسبب الحرب الأهلية ص ١١٧

- ٢٤- سكرتير الأمم المتحدة الذي وصف أزمة الصومال بالكابوس عام ١٩٩١م أسمه أنطونيو جوتيريش ص١١٧
- ٢٥- تقدم دولة الكويت المساعدات الخيرية عبر مؤسساتها من بينها جمعية تسمى الهلال الأحمر ص١١٧
- ٢٦- بطلة من أبطال إطفاء حرائق النفط الناجمة عن الغزو العراقي الغاشم اسمها سارة أكبر ص١١٩
- ٢٧- عدد الآبار النفطية التي أشعلها النظام العراقي البائد قبل انسحابه من الكويت بلغ حوالي ٧٣٧ ص١٢٠
- ٢٨- تمت السيطرة على آبار النفط المشتعلة في الكويت وإخمادها خلال ٢٤٠ يوم ص ١٢٠
- ٢٩- يوجد (جدار الشهداء) الذي يحتوي على أسماء وصور شهداء الكويت في حديقة الشهيد ص١٢٣
- ٣٠- الدولة التي سجلت أعلى معدل في إلمام البالغين بالقراءة والكتابة حسب إحصائية اللجنة الاقتصادية والاجتماعية لمنظمة (الإسكوا) عام ٢٠١٥م تسمى قطر ص١٢٨
- ٣١- أعلى دولة من دول العالم الإسلامي أمية تسمى النيجر ص١٢٩

## الأسئلة المقالية

### أ- فرق بين كل مما يلي حسب المطلوب في الجدول :

مصادر طبيعية للتلوث البيئي ص ٨١	مصادر بشرية للتلوث البيئي ص ٨١
البراكين والغبار وغيرها	النفايات الناتجة عن بعض التطور الصناعي الاستخدام المفرط للأسمدة – رش المبيدات الحشرية على المزروعات – الحروب -الانفجارات النووية.
التدوير ص ٩١	النفايات ص ٩١
إعادة استخدام المخلفات لإنتاج منتجات أخرى أقل جودة من المنتج الأصلي .	مواد زائدة وغير مرغوبة من مخلفات البيئة أو الفضلات.
الفقر ص ٩٦	خط الفقر ص ٩٧
الحالة الاقتصادية التي يتفقد فيها الفرد إلى الدخل الكافي للحصول على المستويات الدنيا من الغذاء والملبس والتعليم والرعاية الصحية وكل ما يُعد من الاحتياجات الضرورية لتأمين مستوى لائق في الحياة .	أدنى مستوى من الدخل يحتاجه المرء أو الأسرة حتى يكون بالإمكان توفير مستوى معيشة ملائم في بلد ما.
الأقلية ص ١١٢	الأقلية الإسلامية ص ١١٢
مجموعة من سكان دولة أو إقليم ما يختلفون عن غالبية سكان تلك الدولة بخاصية من الخصائص المتمثلة في العرق أو في الثقافة ، أو في الدين ويحاولون بكل الإمكانيات أن يحافظوا عليها لكي لا تذوب في خاصيات الأغلبية.	مجموعة من المسلمين تعيش تحت سلطة دولة غير مسلمة في وسط أغلبية غير مسلمة.
الأمية في البلدان الإسلامية ص ١٢٨	الأمية في البلدان المتقدمة ص ١٢٨
الإنسان الذي بلغ الثانية عشر من عمره ولم يتعلم مبادئ القراءة والكتابة والحساب بلغة ما .	الشخص الذي لم يصل إلى المستوى التعليمي الذي يجعله يفهم التعليمات الكتابية في موضوعات التقنية في عمله. (كاليابان)

### ب - قارن كل مما يلي حسب المطلوب في الجدول :-

أوجه المقارنة	التلوث الضوضائي ص ٨٧	تلوث التربة ص ٨٨
الأسباب	<ul style="list-style-type: none"> <li>- وسائل النقل السيارات بأنواعها والطائرات والقطارات.</li> <li>- عمليات البناء والهدم وأصوات آلات الحفر .</li> </ul>	<ul style="list-style-type: none"> <li>- الإفراط باستخدام المبيدات الحشرية على المزروعات النباتية</li> <li>- المخلفات الصناعية والكيميائية والبشرية (النفايات)</li> <li>- الأمطار الحمضية.</li> </ul>
النتائج	<ul style="list-style-type: none"> <li>- الضوضاء الشديدة تؤدي إلى ضرر خطير في الجهاز السمعي.</li> <li>- التوتر العصبي لدى الإنسان.</li> </ul>	<ul style="list-style-type: none"> <li>- الاخلال بالتوازن البيئي للتربة.</li> <li>- ضعف عمليات البناء الضوئي للنبات.</li> <li>- انحسار الغطاء النباتي.</li> </ul>

### ج- عدد لكل مما يلي:

- ١- أنواع التلوث البيئي . ص ٨٣
  - التلوث الهوائي - التلوث المائي - التلوث الضوضائي - تلوث التربة
- ٢- المشكلات الناتجة عن الانفجار السكاني . ص ٩٥
  - عدم التوازن بين عدد السكان والموارد والخدمات - وفرص العمل - وارتفاع المستوى المعيشي
  - الجريمة - البطالة - الطلاق - المخدرات .
- ٣- أنواع الحدود السياسية . ص ١٠٢
  - حدود بحرية - حدود برية
- ٤- نتائج حرب يونيو ١٩٦٧ م على فلسطين . ص ١٠٧
  - احتلت غزة - والضفة الغربية - وسيناء المصرية - وهضبة الجولان السورية - والقدس الشرقية
- ٥- طرق تكوّن الأقليات الإسلامية. ص ١١٢
  - اعتناق الإسلام . - هجرة بعض المسلمين إلى أرض غير مسلمة .
- ٦- الآثار المترتبة على إدمان المخدرات على الإنسان والمجتمع. ص ١٢٥
  - هلوسة سمعية وبصرية وعصبية زائدة . - سلوك عدواني.
  - يضر نفسه والمجتمع. - صعوبة علاج متعاطيه.

### د- علل فيما يلي :-

- ١- معاناة موريتانيا من شدة التلوث المائي عام ٢٠١٧ م. ص ٨٥
  - بسبب تسرب كميات كبيرة من بقع الزيت من البواخر، الأمر الذي أدى إلى نفوق كم هائل من الأسماك.
- ٢- تكوّن سحابة دخانية كثيفة في دولة الكويت عام ١٩٩١ م. ص ٨٥
  - بسبب احراق آبار النفط الكويتية من قبل النظام العراقي البائد.
- ٣- نفوق كثير من الأسماك في جون الكويت عام ٢٠٠١ م. ص ٨٥
  - بسبب ضخ مياه المجاري في جون الكويت وتكررت هذه الظاهرة عدة سنوات كما حدث في عام ٢٠١٧ م.

- ٤- حدوث مشكلة الاحتباس الحراري. ص ٩٠
- نتيجة الزيادة المستمرة لغاز ثاني أكسيد الكربون في الهواء الجوي بسبب نشاطات الإنسان الملوثة للبيئة فإن ذلك يؤدي إلى إحداث تغيرات في معدل درجات الحرارة ويؤثر في التوازن الطبيعي في البيئة.
- ٥- إعصار (جونو أو غونو) الذي ضرب سواحل سلطنة عمان عام ٢٠٠٧ م. ص ٩٠
- نتيجة لظاهرة الاحتباس الحراري.
- ٦- إنتشار الفقر في الدول الإسلامية. ص ٩٨
- عدم توفر فرص العمل. - ضعف اقتصاد الدولة.
- انتشار البطالة. - تضخم أسعار السلع والخدمات. - قلة التبرعات والصدقات في المجتمع.
- ٧- الاعتداء على مركز الصامته الحدودي الكويتي عام ١٩٧٣ م. ص ١٠٣
- رفض الحكومة الكويتية للمشروع العراقي (وهو حصول العراق على منفذ بحري جديد على الخليج العربي)
- ٨- تشرد سبعمائة وخمسون ألفاً من الفلسطينيين ما بين نازح ومهاجر في حرب ١٩٤٨ م. ص ١٠٧
- بسبب توسع المحتل الصهيوني الإسرائيلي بعد حرب ١٩٤٨ م في أراضي فلسطين لتحتل حوالي ٨٠٪ من الأراضي الفلسطينية.
- ٩- هجرة أكثر من مليوني مسلم من (ميانمار) والعيش كلاجئين في الدول المجاورة. ص ١١٣
- بسبب قيام (السلطات الميانمارية) في شن حملات قمعية ضد المجموعات المسلمة وصلت إلى حد الإبادة الجماعية والجرائم ضد الإنسانية.
- ١٠- تواجه الأقليات الإسلامية حول العالم انخفاض في المستوى التعليمي. ص ١١٤
- بسبب سوء الأحوال الاجتماعية والمادية.
- ١١- أسباب الإدمان. ص ١٢٦
- ضعف الوازع الديني وانحدار القيم الأخلاقية - ضعف الرقابة من الأسرة على الفرد - رفاق السوء
- التقليد الأعمى للغرب واستيراد قيم غريبة تتنافى مع ديننا الحنيف - انتشار التدخين بين المتعلمين في المدارس - قضاء أوقات الفراغ في أمور تافهة لا تعود على الشباب بالنفع .

## هـ - أكتب فيما يلي :-

ص ٨٤

١- أثر التلوث الهوائي.

-سبب رئيسي لأمراض القلب والأوعية الدموية والرئة ، وضيق التنفس.

-اضطراب في الجهاز العصبي.

- تآكل وتلف المباني والمنشآت والآثار.

ص ٨٦

٢- الآثار السلبية للتلوث المائي.

-هلاك الكائنات البحرية الحيوانية والنباتية .

- فقدان السواحل لقيمتها الاقتصادية والسياحية .

- التأثير على صحة الإنسان لاعتماده على الغذاء البحري الذي يعتبر من أهم مصادر الغذاء الغنية

بالمعادن والقيمة الغذائية .

ص ٩٠

٣- النتائج المتوقعة لظاهرة الاحتباس الحراري.

- احتباس الحرارة في طبقة الغلاف الجوي القريبة من سطح الأرض مسببة ارتفاعاً تدريجياً في معدل درجات الحرارة. مما يؤدي ذلك إلى تغيير المناخ. مثل : ذوبان الجليد في القطب الشمالي والجنوبي وغرق مناطق كثيرة من العالم.

ص ١٠٣

٤- الهدف من انعقاد (مؤتمر العقير) عام ١٩٢٢م .

- الهدف منه إيجاد حل لمشاكل الحدود السياسية بين نجد والعراق من جهة ، و الكويت والعراق من جهة أخرى

ص ١٠٣

٥- ادعاءات مؤتمر عبدالكريم قاسم ٢٥ يونيو ١٩٦١م.

- ادعى فيه إلى الحقوق التاريخية للعراق في الكويت ، وإنها كانت تابعة لولاية البصرة .

ص ١٠٦

٦- الأحداث التاريخية التي تؤكد على إن الكويت دولة مستقلة.

- اتفاقية الحماية عام ١٨٩٩م بين الشيخ مبارك الصباح والحكومة البريطانية.

- اعتراف العثمانيين باستقلال دولة الكويت وترسيم الحدود الأول بين الكويت والعراق عام ١٩١٣م.

- ترسيم الحدود في مؤتمر العقير ١٩٢٢م بين الكويت والعراق والسعودية مما يثبت استقلال دولة الكويت عن العراق.

- عام ١٩٩١م شكل مجلس الأمن لجنة لترسيم حدود البلدين ووافق العراق على الالتزام بقرارات اللجنة.

- عام ١٩٩٣م صدر قرار مجلس الأمن رقم ٨٣٣ بترسيم الحدود بين الكويت والعراق واعترفت الكويت به فيما اعترف العراق بالقرار في عام ١٩٩٤م.

٧- موقف الملك عبدالله بن عبدالعزيز رحمه الله تجاه القضية الفلسطينية. ص ١٠٨

- اقترح إنشاء صندوق يحمل أسم (صندوق انتفاضة القدس) وآخر يحمل اسم (صندوق الأقصى) برؤوس أموال تخدم الشعب الفلسطيني في مؤتمر القمة العربية في القاهرة عام ٢٠٠٠م والذي أطلق عليها ( قمة الأقصى).

- موقفه التاريخي في مؤتمر القمة العربية والاقتصادية والتنموية والاجتماعية ( قمة التضامن مع الشعب الفلسطيني في غزة) التي عقدت في الكويت في شهر يناير ٢٠٠٩م.

٨- الحلول الإسلامية والدولية المقترحة للتحديات التي تواجه الأقليات الإسلامية. ص ١١٥

تفعيل الوجود الإسلامي: أن تكون لكل جالية مسلمة هيئة تتحدث باسمها وترعى مصالحها،

وتفعيل المشاركات الاجتماعية والسياسية والاقتصادية للمسلمين في الغرب.

الدور التثقيفي للمؤسسات الإسلامية: تقوم المؤسسات بدور تثقيفي وتوعوي عن كيفية الحفاظ على الهوية الإسلامية والتمسك بقيم الدين الإسلامي.

٩- النتائج المترتبة على حرب البوسنة عام ١٩٩٢م - ١٩٩٥م. ص ١١٦

- تعذيب المدنيين البوسنيين والكروات على يد القوات الصربية في معسكر (أومارسكا).

- إبادة أكثر من ٣٠٠ ألف مسلم باعتراف الأمم المتحدة.

١٠- النتائج المترتبة على الحرب الأهلية في الصومال عام ١٩٩١م. ص ١١٧

-الجفاف ، تغيير المناخ ، المرض وباء الكوليرا.



## و- عرف كل مما يلي :

- ١- التلوث البيئي : تغيير غير مرغوب به في الخواص الطبيعية أو الكيميائية أو البيولوجية للبيئة المحيطة وقد يتسبب في الإضرار بحياة الإنسان والكائنات الأخرى . ص ٨١
- ٢- التلوث الضوضائي : الإزعاج أو الضجيج وهي إحدى ملوثات البيئة ولا تقل خطورة عن غيرها من الملوثات الأخرى. ص ٨٧
- ٣- التصحر : انجراف التربة على المدن والمناطق الزراعية. ص ٨٨
- ٤- الاحتباس الحراري : ارتفاع درجات حرارة الأرض عن معدلها الطبيعي مما يؤدي إلى تغيرات مناخية. ص ٩٠
- ٥- التنمية المستدامة : عبارة عن برامج تحسين نوعية الحياة ، ولا تتحقق إلا بمشاركة جميع المواطنين من أجل تحسين نوعية الحياة وفق بيئة صحيّة آمنه ومستقرة ومتقدمة. ص ٩٣
- ٦- الانفجار السكاني : هو الزيادة الكبيرة في أعداد السكان. ص ٩٥
- ٧- العولمة : نظام عالمي جديد يقوم على الإبداع العلمي والتطور التقني والتكنولوجي وثورة الاتصالات بحيث تزول الحدود الثقافية بين الشعوب بالعالم ويصبح العالم كقرية واحدة. ص ٩٩
- التكامل الاقتصادي : عملية اقتصادية ، واجتماعية يتم بموجبها إزالة جميع الحواجز بين الوحدات المختلفة ، وتؤدي إلى تحقيق تكافؤ الفرص أمام جميع عناصر الإنتاج في دول التكامل. ص ١٠٠
- ٨- البلدان النامية : الدول التي ما زالت أقل تقدماً في ميادين الاقتصاد والعلم والتكنولوجيا. ص ١٠٠
- ٩- الدخل القومي : مجموع الدخل المكتسب في بلد ما خلال فترة زمنية معينة عادةً ما تكون سنة واحدة. ص ١٠٠
- ١٠- الميزان التجاري: الفرق بين قيمة الصادرات وقيمة الواردات بالدولة. ص ١٠٠
- ١١- الحدود : خطوط حُدّدت بواسطة الإنسان ورُسِمَت حتى تفصل بين سيادة دولة ودولة أخرى . ص ١٠٢