

ثالثاً : التحديات السياسية التي تواجه دول العالم الإسلامي

﴿وَتَعَاوَنُوا عَلَى الْبِرِّ وَالتَّقْوَىٰ وَلَا تَعَاوَنُوا عَلَى الْإِثْمِ وَالْعُدْوَانِ﴾ المائدة : الآية (٢)

حث ديننا الإسلامي على التعاون والإصلاح بين المجتمعات والدول ، ونهى عن العدوان . كما أن السلام العالمي هو الهدف الأسمى التي تسعى الإنسانية إلى تحقيقه ، وعلى الرغم من ذلك عانت بعض الدول والمجتمعات الإسلامية من نزاعات سياسية وحروب مدمرة فيما بينها وبين دول أخرى لأسباب عديدة . انتهت بعضها باتفاقيات ومعاهدات أو دامت قضاياها عالقة إلى وقتنا الحالي . ومن جهة أخرى كان وما زال للمنظمات والمؤسسات الإسلامية والدولية دورٌ مهمٌ في مواجهة التحديات والمشكلات التي تواجه العالم الإسلامي كمنظمة التعاون الإسلامي التي سنتطرق لها في الوحدة الرابعة .

١ - مشكلة الحدود السياسية

ما المقصود بالحدود السياسية ؟

أولاً : تنقسم الحدود السياسية بين الدول إلى نوعين :
أ- حدود بحرية
ب- حدود برية

ثانياً : تُعرف **الحدود** : بأنها خطوط حُدَّتْ بواسطة الإنسان ورُسِمَتْ حتى تفصل بين سيادة دولة و دولة أخرى .



نشاط (١)

استخرج سؤالاً من الفقرة السابقة ثم أجب عليه.

السؤال :

الإجابة :

ماذا تعرف عن تاريخ مشكلات الحدود السياسية في الدول الإسلامية ؟



أ- أزمة الحدود السياسية بين دولة الكويت والعراق.

كان الهدف منه إيجاد حل لمشاكل الحدود بين نجد والعراق من جهة، والكويت والعراق، ونجد من جهة أخرى.



ما هي ادعاءات مؤتمر عبدالكريم قاسم ٢٥ يونيو ١٩٦١م؟

- اتضحت الأطماع حين عقد حاكم العراق آنذاك مؤتمراً صحفياً في وزارة الدفاع العراقية أشار فيه إلى الحقوق التاريخية للعراق في الكويت ، وأنها كانت تابعة لولاية البصرة .
- رفض الشيخ عبدالله السالم حاكم دولة الكويت هذه الادعاءات ، وقال «إن الكويت دولة عربية ذات سيادة ، ومن ورائها يقف شعب الكويت بدعم قيادتها» .
- وجدت دولة الكويت دعماً قوياً من الدول الخليجية ، والعربية ، والإسلامية تجاه هذه الادعاءات والمحاولات الباطلة . وانضمت دولة الكويت لاتفاقية الدفاع العربي المشتركة .

ما سبب الاعتداء على مركز الصامطة الحدودي عام ١٩٧٣م؟

- مع بداية عام ١٩٧٣م ، ازدادت الضغوط العراقية على دولة الكويت للحصول على منفذ بحري جديد على الخليج العربي من خلال محاولة عقد مشروع اتفاق بين الدولتين .
- بعد رفض الحكومة الكويتية للمشروع العراقي ، قامت القوات العراقية في العشرين من مارس ١٩٧٣م ، بالهجوم على مركز الصامطة الكويتي ، والذي أسفر عن قتلى وجرحى كويتيين .
- بدأت القوات العراقية انسحابها من الصامطة إثر زيارة قام بها نائب الرئيس العراقي صدام حسين آنذاك إلى موسكو التي نصحت بدورها أن يتراجع العراق عن موقفه .

ترسيم الحدود بين دولة الكويت والعراق ١٩٩٣ م

يوم الخميس ٢ أغسطس ١٩٩٠م اجتاحت قوات النظام العراقي على دولة الكويت وكان عدواناً غادراً لم يشهد التاريخ الحديث له مثيلاً وانتهى هذا الاحتلال بهزيمة وانسحاب القوات العراقية بالقوة العسكرية من أراضي دولة الكويت في ٢٦ فبراير ١٩٩١ م .

وبما أن هناك مشكلة حدودية بين الدولتين أصدرت هيئة الأمم المتحدة عن طريق مجلس الأمن قراراً يحمل رقم ٦٧٨ في عام ١٩٩١ م لترسيم الحدود بين الدولتين والذي انتهى بإصدار قرار يحمل رقم ٨٣٣ في عام ١٩٩٣ م ويرسم الحدود بين الدولتين .

نشاط (١)

شارك مجموعتك في إكمال جدول يوضح مراحل أزمة الحدود السياسية بين دولة الكويت و العراق


مراحل أزمة الحدود	أهم الأحداث	قدم رأيك حول الموضوع
●	● انضمام الكويت ● لاتفاقية الدفاع العربي المشترك	●
● مركز الصامته ● عام ١٩٧٣ م	● ●	●
● ترسيم الحدود عام ● ١٩٩٣ م		

نشاط (٢)


ابحث عن نص قرار الأمم المتحدة رقم ٦٧٨ ، ثم دونه

.....
.....

(انسحاب القوات العراقية)



شكل رقم (٣٥) توضح الحرب الجوية
وفرحة التحرير



شكل رقم (٣٤) الشيخ جابر الأحمد الصباح في منصبه الأمم
المتحدة وخطابه الحكيم الذي حرك العالم تجاه قضية دولة الكويت .



دولة الكويت دولة مستقلة



اتفاقية الحماية عام ١٨٩٩م بين الشيخ مبارك الصباح والحكومة البريطانية دليل راسخ على سيادة دولة الكويت .

جاء أول ترسيم للحدود بين الكويت والعراق - الدولة العثمانية آنذاك - عام ١٩١٣م والتي تضمنت اعتراف العثمانيين باستقلال دولة الكويت وترسيم الحدود.

ترسيم الحدود في مؤتمر العقير ١٩٢٢م بين الكويت والعراق والسعودية مما يثبت استقلال دولة الكويت عن العراق.

عام ١٩٩١م شكل مجلس الأمن لجنة لترسيم حدود البلدين ووافق العراق على الالتزام بقرارات اللجنة.

في عام ١٩٩٣م صدر قرار مجلس الأمن رقم ٨٣٣ بترسيم الحدود بين الكويت والعراق واعترفت الكويت به فيما اعترف العراق بالقرار في عام ١٩٩٤م.



ب - قضية فلسطين :

بدأت القضية الفلسطينية عقب الحرب العالمية الأولى حيث شجع الانتداب البريطاني الذي حكم فلسطين في الفترة ما بين ١٩٢٠ و ١٩٤٨ م ، ووصول موجات متتالية من الهجرات اليهودية التي نظمتها مؤسسات يهودية ذات سياسة استعمارية داخل فلسطين .

أهم الأحداث :

- أصدرت الجمعية العامة للأمم المتحدة قرارها رقم (١٨١) والذي يهدف إلى خطة لتقسيم فلسطين إلى قسمين عربي ويهودي في عام ١٩٤٧ م ، وجاء هذا القرار حين شهد تعداد اليهود ارتفاعاً كبيراً .
- توسع المحتل الصهيوني الإسرائيلي بعد حرب ١٩٤٨ م في أراضي فلسطين لتحتل حوالي ٨٠٪ من الأراضي الفلسطينية (انظر إلى الملاحق صفحة ١٧١) .
- اندلعت الحرب مجدداً في يونيو ١٩٦٧ م على فلسطين ، والذي على أثره احتلت غزة والضفة الغربية وسيناء المصرية وهضبة الجولان السورية والقدس الشرقية .

هل تعلم

تشرّد سبعمائة وخمسين ألفاً من الفلسطينيين ما بين نازح ، ومهاجر في حرب ١٩٤٨ م .

نشاط

أ- اكتب ما تعرفه عن قرار ١٨١ الذي أصدرته الجمعية العامة للأمم المتحدة تجاه قضية فلسطين

.....
.....

ب- ما هي النتائج المترتبة على قضية فلسطين ، و المعتدي الصهيوني ؟

.....
.....

موقف الملك عبدالله بن عبدالعزيز رحمه الله تجاه القضية الفلسطينية منها :

- حيث اقترح فيه إنشاء صندوق يحمل اسم (صندوق انتفاضة القدس) وآخر يحمل اسم (صندوق الأقصى) برؤوس أموال تخدم الشعب الفلسطيني في مؤتمر القمة العربية في القاهرة عام ٢٠٠٠م والذي أطلق عليها (قمة الأقصى) .

- كان للملك عبدالله بن عبدالعزيز - رحمه الله - موقف تاريخي في مؤتمر القمة العربية الاقتصادية والتنموية والاجتماعية (قمة التضامن مع الشعب الفلسطيني في غزة) التي عقدت في الكويت في شهر يناير ٢٠٠٩م .



شكل رقم (٣٧) الملك عبدالله بن عبد العزيز
رحمه الله



شكل رقم (٣٦) مؤتمر القمة العربية الاقتصادية والتنمية
والاجتماعية في الكويت ٢٠٠٩م

اكتب تغريدة اعتزاز بتضامن الدول الإسلامية.



.....
.....

اجمع بعض المعلومات عن مشاكل الحدود السياسية بين دولة الكويت ، والعراق ، وموقف
الدول العربية .

.....
.....



أنا أختبر معلوماتي

أجب على الأنشطة التالية، ثم ناقشها لاحقاً مع أحد زملائك:

تطبيق

أولاً اذكر مثلاً لدول إسلامية بينها حدود برية، ودول أخرى حدود بحرية من دراساتك السابقة.

ثانياً

دول عانت من مشكلات الحدود السياسية

فلسطين

لخص معلومة عن ما يلي :




ثالثاً

حرب فلسطين ١٩٤٨ م

.....

.....

قيم ذاتك

١ - ٢ 	٣ - ٤ 	٥ - ٦ 

اكتب عبارة تشجيع أو نصيحة إلى نفسك.

.....



أنا أختبر معلوماتي

تطبيق

السؤال الأول : اختر الإجابة الصحيحة من بين البدائل التالية:

-
٢

١- وقع الغزو العراقي في عهد الشيخ :

☐ الشيخ جابر الأحمد ☐ الشيخ سعد العبدالله ☐ الشيخ صباح الأحمد ☐ الشيخ عبدالله السالم

٢- القرار الذي طالب القوات العراقية بالانسحاب من دولة الكويت دون شروط يحمل الرقم :

☐ ٦٧٩

☐ ٦٧٨

☐ ٦٧٧

☐ ٦٧٦

-
٤

السؤال الثاني : صنف العبارات التي أمامك بما يناسبها من أرقام :

الهجوم على مركز
الصامتة
(.....)

الحرب البرية لتحرير
الكويت
(.....)

عاصفة
الصحراء
(.....)

ادعاءات
عبدالكريم قاسم
(.....)

٢٥ يونيو ١٩٦١

٣

٢٠ مارس ١٩٧٣م

١

١٧ يناير ١٩٩١م

٤

٢٤ فبراير ١٩٩١م

٢

السؤال الثالث : دلل على عدم تبعية دولة الكويت للعراق .

-
٢

- ١

- ٢

قيم ذاتك

١ - ٤ 	٥ - ٦ 	٧ - ٨ 

اكتب عبارة تشجيع أو نصيحة إلى نفسك

.....

٢- مشكلة الأقليات الإسلامية

تساؤلات

- ما المقصود بالأقليات ؟ و الأقليات الإسلامية؟
- كيف تكونت الأقليات الإسلامية؟
- أين تتواجد الأقليات الإسلامية حول العالم؟
- ماهي المشكلات و التحديات التي تعاني منها الأقليات الإسلامية؟

تعريف

يطلق لفظ الأقلية على مجموعة من سكان دولة أو إقليم ما يختلفون عن غالبية سكان تلك الدولة بخاصية من الخصائص المتمثلة في العرق أو في الثقافة ، أو في الدين ، ويحاولون بكل الإمكانات أن يحافظوا عليها لكي لا تذوب في خصائص الأغلبية .

الأقليات الإسلامية: هي مجموعة من المسلمين تعيش تحت سلطة دولة غير مسلمة في وسط أغلبية غير مسلمة .

هل تعلم

يعيش حوالي ٤٥٠ مليوناً مسلم في الدول غير العضو بمنظمة المؤتمر الإسلامي ويتوزعون على قارات العالم الست أي ما يقارب من ثلث عدد المسلمين .

تكونت الأقليات الإسلامية عن طريق :

- ١- اعتناق الإسلام: فإنه من الممكن أن تتشكل الأقلية المسلمة في أي بقعة من بقاع الأرض إذا اعتنق بعض أهلها الإسلام .
- ٢- هجرة بعض المسلمين إلى أرض غير مسلمة: كأوروبا وأمريكا و استراليا وغيرها بدوافع سياسية أو اقتصادية أو اجتماعية .
- أذكر أمثلة :

٣- ابحث عن أسباب أخرى

أين تتواجد الأقليات الإسلامية

أ- أراكان

تعد قضية مسلمي منطقة أراكان (بورما) في ميانمار من أكبر التحديات التي تواجه المجتمع الدولي بأسره . وقد قامت السلطات الميانمارية في شن حملات قمعية ضد المجموعات المسلمة وصلت إلى حد الإبادة الجماعية والجرائم ضد الإنسانية .

مما اضطر أكثر من مليوني مسلم إلى الفرار من ميانمار والعيش كلاجئين في الدول المجاورة .



شكل رقم (٣٨) توضح منطقة أراكان في ميانمار بورما .

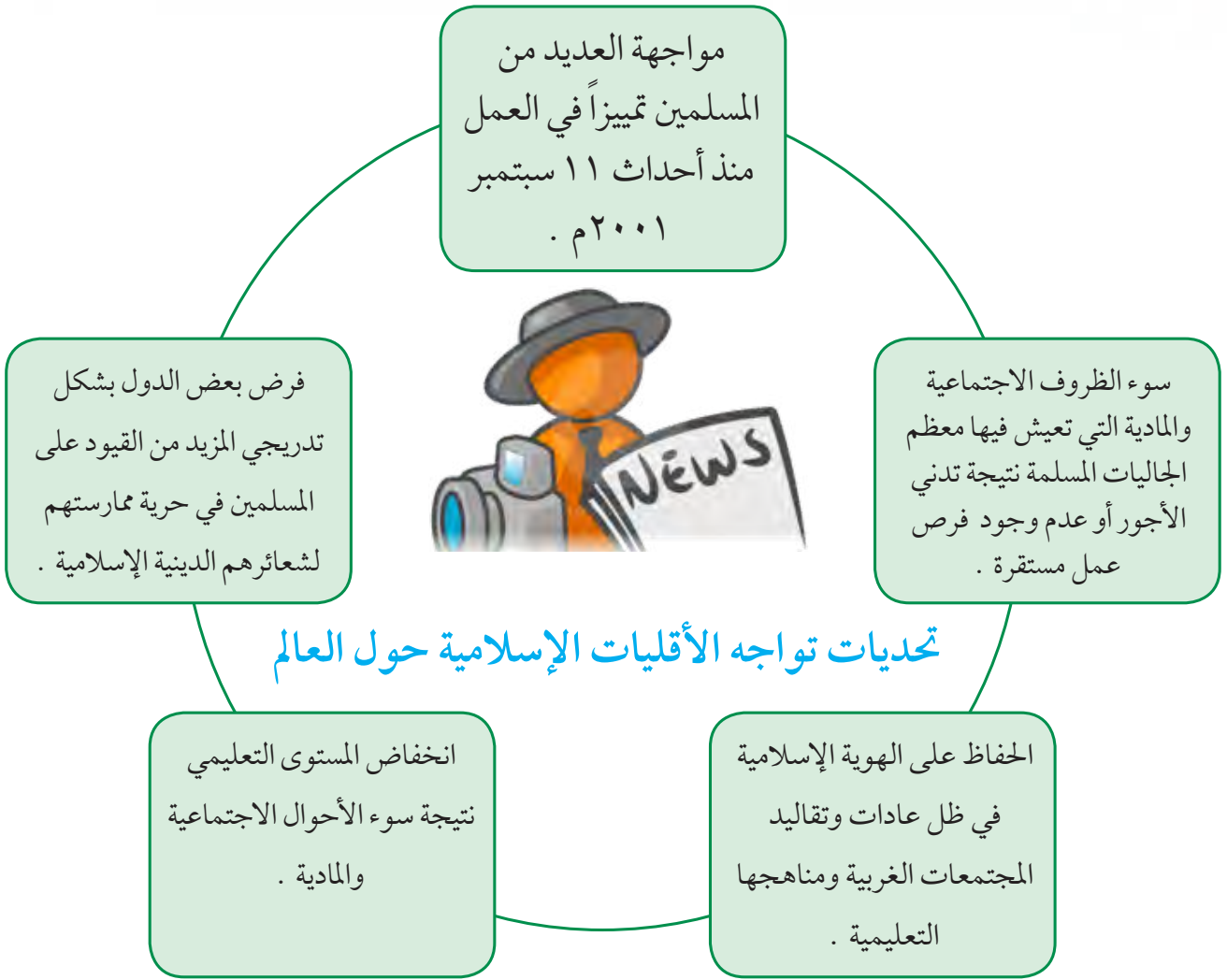
ب- شينجيانغ أوريجور

ظلت منظمة التعاون الإسلامي على مدى سنوات عديدة ، تراقب أوضاع المسلمين المقيمين في جمهورية الصين الشعبية وبالتحديد في منطقة شينجيانغ أوريجور الواقعة على الحدود الغربية للصين .

عانى المسلمون فيها من محاولات طمس هويتهم الثقافية وحرمانهم من حقوقهم الاجتماعية والدينية .



شكل رقم (٣٩) توضح منطقة شينجيانغ أوريجور الواقعة في جمهورية الصين الشعبية



نشاط

- ١- بعد قراءتك للتحديات التي تواجه العالم الإسلامي عددها .
- ٢- اختر مع مجموعتك أحد هذه التحديات واشرح حلول لهذه المشكلة .
- ٣- كل مجموعة تستعرض ماتوصلت له من حل للتحدي الذي اختارته .

الحلول الإسلامية و الدولية المقترحة للتحديات التي تواجه الأقليات الإسلامية

الدور التثقيفي للمؤسسات الإسلامية

- تقوم المؤسسات بدور تثقيفي وتوعوي عن كيفية الحفاظ على الهوية الإسلامية ، والتمسك بقيم الدين الإسلامي .

تفعيل الوجود الإسلامي

- أن تكون لكل جالية مسلمة هيئة تتحدث بأسمها وترعى مصالحها .
- تفعيل المشاركات الاجتماعية والسياسية والاقتصادية للمسلمين في الغرب .

٣- مشكلة الحروب والدمار (نماذج من دول العالم الإسلامي)

لخص مما درست في موضوع مشاكل الحدود السياسية كنموذج آخر لدولة عانت من الحروب والدمار .

.....
.....



شكل رقم (٤٠) توضح الانتفاضة الفلسطينية

أ- البوسنة والهرسك



تحيي جمهورية البوسنة والهرسك ، من كل عام ذكرى إغلاق معسكر (أومارسكا) ، الذي كان مركزاً لاعتقال وتعذيب المدنيين البوسنيين والكروات ، على يد القوات الصربية ، إبان ما يعرف بفترة حرب البوسنة (من عام ١٩٩٢ - ١٩٩٥) ، وتسببت تلك الحرب ؛ بإبادة أكثر من ٣٠٠ ألف مسلم باعتراف الأمم المتحدة .



شكل رقم (٤١) توضح معاناة شعب البوسنة والهرسك

ب - الصومال:

أدت الحرب الأهلية التي اندلعت عام ١٩٩١م في الصومال إلى حدوث مأساة كبيرة فتكت بالشعب الصومالي والتي ترتبت عليها موجات من الجفاف والمجاعة اجتاحت البلاد و أودت بحياة أكثر من مليون نسمة .

ابحث عن دور منظمة التعاون الإسلامي (مؤتمر التعاون الإسلامي) .



شكل رقم (٤٢) تشرد آلاف السكان جراء الحرب الأهلية



شكل رقم (٤٣) انتشار الجوع والأمراض



شكل رقم (٤٤) مساعدات دولة الكويت الإنسانية للصومال

ارتفاع أعداد المشردين والنازحين في الصومال من جراء الأزمة التي اندلعت في البلاد .

تقدم دولة الكويت مساعداتها عبر عدة مراكز ومؤسسات خيرية من بينها جمعية الهلال الأحمر الكويتي .

نشاط (١)

شخصيات من بلادي

استعن بمحرك البحث Google لتكتب تقريراً عن نموذج من الشخصيات الكويتية التي بذلت العطاء في مساعدة الدول والمجتمعات التي تعرضت للكوارث والحروب .

شخصيات مقترحة

د . معالي العسكوسي

د . عبدالرحمن السميط

ج-دولة الكويت

خلفت الحرب على دولة الكويت الكثير من المآسي وأوجه الدمار الذي لامس المجتمع والبيئة الطبيعية لدولة الكويت .

نشاط (١)

الآثار البيئية:

- مما درست ، اذكر أنواع التلوث الذي أصاب بيئة دولة الكويت جراء حرق الآبار وتدمير المباني والمنشآت .
- من شارك في إطفاء الآبار



شكل رقم (٤٥) توضح فريق مكافحة الحرائق الكويتي في ٩ سبتمبر ١٩٩١م



سارة أكبر
شكل رقم (٤٦) توضح بطلة من أبطال إطفاء حرائق النفط الناجمة عن الغزو العراقي الغاشم

- ما هي النتائج المترتبة للتدمير وحرق الآبار على البيئة الطبيعية والكائنات الحية؟





شكل رقم (٤٧) توضح فريق الأطفاء أثناء بذله وجهوده وعطاءه في إطفاء حرائق الآبار



شكل رقم (٤٨) توضح ولي العهد الشيخ سعد العبدالله - رحمه الله - ووزير النفط الدكتور حمود الرقبة متفقدين حقول الآبار النفطية



شكل رقم (٥٠) توضح الشيخ جابر الأحمد الصباح - رحمه الله - والشيخ سعد العبدالله - رحمه الله - ولقطة احتفال بإطفاء آخر بئر



شكل رقم (٤٩) تكاتف جهود الفرق الكويتية والأجنبية في إطفاء آبار النفط

١- الغيوم السوداء

• كانت هناك تقارير تقول إنه إذا اشتعل أكثر من ١٠٠ بئر ، فانسوا شيئاً اسمه الكويت . والحقيقة إن عدد الآبار المشتعلة كانت حوالي ٧٣٧ بئراً .

• تنبأ ريد آرير ، وهو أحد أكبر خبراء مكافحة حرائق النفط في العالم بأن تمتد المدة المطلوبة لإخماد حرائق النفط إلى خمس سنوات ، كما توقع بعض مسؤولي الإطفاء الأمريكيين أن إخماد الحرائق النفطية سيستغرق حوالي ١٨ شهراً .

وجاءت المفاجأة التي خيبت كل التنبؤات ، وأمكن إطفاء الآبار جميعها ، والسيطرة عليها خلال ٢٤٠ يوماً تحت قيادة وتوجيهات رشيدة حيث بدأ العمل الفعلي في ١١ مارس ١٩٩١م ، و انتهى بإخماد آخر بئر نفطي في ٦ نوفمبر ١٩٩١م .

الحمد لله

٢- الولاء والمواطنة

سطر الشعب الكويتي إبان الحرب على أرض الكويت الحبيبة أعظم معاني التضحية والوفاء .

﴿ وَلَا تَحْسَبَنَّ الَّذِينَ قُتِلُوا فِي سَبِيلِ اللَّهِ أَمْوَاتًا بَلْ أَحْيَاءُ عِنْدَ رَبِّهِمْ يُرْزَقُونَ ﴾ آل عمران : ١٦٩



اكتب فقرة بحدود ثلاثة أسطر عن المقاومة الكويتية أثناء الاحتلال العراقي .

ابحث من خلال المصادر المتوفرة عن أسماء بعض شهداء بيت القرين .

.....

.....

.....

.....

.....

.....

.....

.....

الكويت 2/8/2013

تقرير

19 شاباً قدموا مثالا للوحدة الوطنية والدفاع عن ثرى الوطن

«شهداء القرين».. صفحة في قاموس المقاومة الكويتية

البلاد كما سيحوي الدخول بعض الشروح الخاصة بشكدة لستشهداء قللة المجموعة وأحد أفرادها في المنزل نفسه. ويحتوي المتحف على مجموعة من صور لشهداء ومجسمات والأسلحة التي استخدمت في المعركة، وقد قام المجلس الوطني للثقافة والفنون والآداب بإعادة ترميم المنزل وبعض المواقع التي تهدمت وقد توتر على سلامة المبنى، ليكون سجلا للمقاومة الكويتية تتناقله الأجيال عبر الزمن، ليطلعوا على صفحة من المقاومة الكويتية الباسلة في وجه الفنزرة الفاشم

إدانة متحف بيت القرين وإبنا تركز جهودنا لجعل جميع أجزاء البيت تتحدث عن الوقائع دون تدخل ساء. وتفسير أن الجهود مستمرة لإعادة افتتاح بيت القرين في سبتمبر المقبل، بعد أن تتم إعادة صياغته بالصورة التي تعبر عن حقيقة هذه اللزمة الوطنية. وحسب لحظة لجديدة التي سيظهر عليها متحف شهداء القرين سيكون الدخول الرئيسي للزوار من منزل الشهيد بدر ناصر العبدان، نظرا لتهرضه لقصف شتهد من مهابات لنظام لعراقي



الرابع والعشرين من فبراير 1991 حين أعلن الهجوم البري الصالح وهي من القلائد على

يقف (بيت شهداء القرين) بشموخ وغم ما فيه من جراح متأثرة، ليروي لأجيالنا أخرى قصة أولئك الشباب الذين قسموا أبلغ التضحيات من أجل الوطن. ومسا لاشك فيه أن هذا البيت يشعور بالزخم الأزلي، وهو يشاهد انتصار النظام العراقي البلاد ليسجل للأاريخ كيف ينتصم السحق في نهاية المطاف. وبيت القرين متحف يحكي قصة 19 شابا تمترسوا داخله لواجبها قوات النظام العراقي البائد في معركة تبنى غير متكافئة



٣- دور الجيش الكويتي في ٢ أغسطس ١٩٩٠

عندما اجتاحت جيوش الطاغية صدام حسين في ٢ أغسطس في عام ١٩٩٠ أراضي دولة الكويت الحبيبة تكبدت قواتهم خسائر فادحة من قبل الجيش الكويتي الباسل وذلك خلال عدة معارك متفرقة داخل البلاد ، وعلى حدودها ، وقامت قوات الجيش الكويتي بأروع البطولات . وكذلك قامت القوة الجوية الكويتية بالاسلة (صقور الجو) بتدمير عدد من دبابات النظام العراقي البائد وأكثر من ١٨ طائرة مقاتلة مما أدى إلى تأخير عملياتهم الهجومية .

وعندما شنت قوات التحالف حرب «عاصفة الصحراء» في ١٧ يناير ١٩٩١ على قوات النظام العراقي البائد ، كان من أوائل الأشاوس الذين أبدعوا في الدفاع عن وطنهم هم الجيش الكويتي الباسل في دحر المعتدي وإضعاف قوتهم وبعدها دخلت قوات التحالف والجيش الكويتي برياً للقضاء على الجيوش العراقية مما أثر ذلك هروبهم وخيبة أملهم التي راحت تجر ذيول الهزيمة النكراء . وتم تحرير دولة الكويت في ٢٦ فبراير ١٩٩١ م ، بعد ما دمروا وطننا الحبيب وأسروا منها الكثير من المواطنين والمواطنات الذين واجهوا الممارسات الوحشية من التعذيب اللاإنساني وفي النهاية قدم أبناء الكويت أرواحهم دفاعاً عن حبلهم لوطنهم ورزقهم الله بالشهادة .

دامت الكويت حرة أبية ، ورحم الله شهداءنا الأبرار



شكل رقم توضيح (٥١) إحدى العمليات العسكرية للجيش الكويتي

نشاط (١)

والآن لنقدم تحية لوطننا الحبيب وقواتنا البواسل ... قف، وانشد النشيد الوطني.

(انظر ملحق كتابك المدرسي صفحة ١٧٥)

وقفة تحدث



اشرح لمعلمك ولزملائك كيف كانت أروع البطولات العسكرية التي قام بها الجيش الكويتي لصد هجوم جيش الطاغية .



شكل رقم (٥٢) توضح انتصار الجيش الكويتي وفرحة التحرير

نشاط (٢)



في حديقة الشهيد (جدار الشهداء) يحتوي على أسماء وصور الشهداء. اكتب تقريراً عن أحد شهداء دولة الكويت وقدمه لمعلمك .

عظماء في ذاكرة التاريخ

نشاط (٣)

أكمل البطاقات التعريفية التالية بكتابة اسم وتاريخ الحدث لشهيد وأسير من دولة الكويت

بطاقة تعريفية

الاسم

تاريخ الأسر



الاسم

تاريخ الاستشهاد



أنا أختبر معلوماتي

تطبيق

-

٣

السؤال الأول : أكمل الفراغات في العبارات التالية :

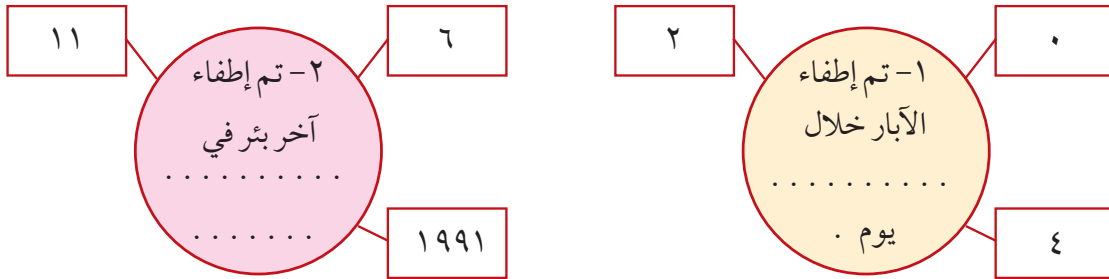
- ١- اندلعت الحرب الأهلية في الصومال عام
٢- تم إطفاء آبار النفط المشتعلة في عهد الشيخ

-




٣

السؤال الثاني : عدد نماذج لبعض الدول الإسلامية التي تعرضت للحرب والتدمير:

السؤال الثالث : استعن بالمعلومات التي أمامك لتكمل الجمل التالية :



قيم ذاتك

٠ - ٤ 	٥ - ٧ 	٨ - ١٠ 
اكتب عبارة تشجيع أو نصيحة إلى نفسك :		