


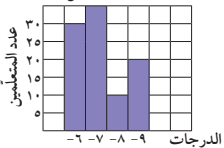


اختبار الوحدة السادسة

أولاً: في البنود (١ - ٤) ظلل (أ) كانت العبارة صحيحة ، وظلل (ب) إذا كانت العبارة غير صحيحة :

١	في مخطّط الساق والأوراق المقابل المنوال هو ٢٣	الأوراق	الساق	١	٢٣٤	٣	٢٢٤٥	أ	ب
٢	في التمثيل البياني المقابل : إذا كان الدخل الشهري للأسرة ٥٠٠ دينار فإن ما تدّخره الأسرة شهريًا ٥٠ دينارًا			أ	ب				
٣	إذا كانت  تمثل ٥٠٠ متعلّم في تمثيل بياني بالمصوّرات فإنّ  تمثل ٣٧٥ متعلّمًا			أ	ب				
٤	التمثيل البياني الموضّح بالرسم هو التمثيل البياني بالأعمدة			أ	ب				

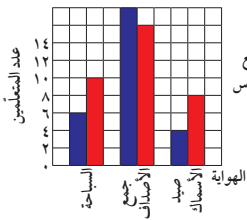
ثانياً: لكل بند من البنود التالية أربعة اختيارات ، واحد فقط منها صحيح ، ظلّل الدائرة الدالّة على الإجابة الصحيحة :

٥ أي ممّا يلي ليس متوسطاً حسابياً ولا وسيطاً ولا منوالاً لمجموعة البيانات التالية :

٠ ، ٢ ، ٤ ، ٤ ، ٦ ، ٦ ، ٧ ، ٧ ، ٧ ، ٧

أ) ٧ ب) ٥ ج) ٥٠ د) ٦

٦ من خلال التمثيل البياني المقابل فإن عدد متعلّمي الصفّ السادس الذين يفضّلون هواية صيد الأسماك يساوي :



أ) ٤ ب) ٦ ج) ٨ د) ١٠

٧ المدى لمجموعة البيانات التالية : ١٩ ، ٩٠ ، ٩٢ ، ٩٤ ، ٩٤ هو :

أ) ٩٢ ب) ٧٥ ج) ٩٤ د) ١١٣

٨ إذا كانت مجموعة البيانات مكوّنة من ٤ قيم ، والمتوسّط الحسابي لقيم بيانات هذه المجموعة هو ٢٨ فإنّ مجموع هذه القيم هو :

أ) ٧ ب) ٢٤ ج) ٣٢ د) ١١٢

٩ المتوسط الحسابي للأعداد ٦ ، ٧ ، ٥ ، ٩ ، ٥ ، ٤ هو :

أ) ٥ ب) ٥ ، ٥ ج) ٦ د) ٣٦

١٠ الوسيط لمجموعة البيانات التالية : ٤٤ ، ٤٧ ، ٤٩ ، ٤٦ ، ٤٤ هو :

أ) ٤٤ ب) ٤٦ ج) ٤٧ د) ٤٩

