

# مدرستي معكم خطوة بخطوة للنجاح والتفوق



مدرستي

الكويتية

حمل التطبيق



مدرستي



الكويتية



اضغط هنا

**السؤال الأول : موضوعي ويتكون من ( ا- ب )**

**( أ ) اختر الإجابة الصحيحة من بين البدائل التي تلي كل عبارة وضع تحتها خط :- ( ١ × ٦ = ٦ درجات )**

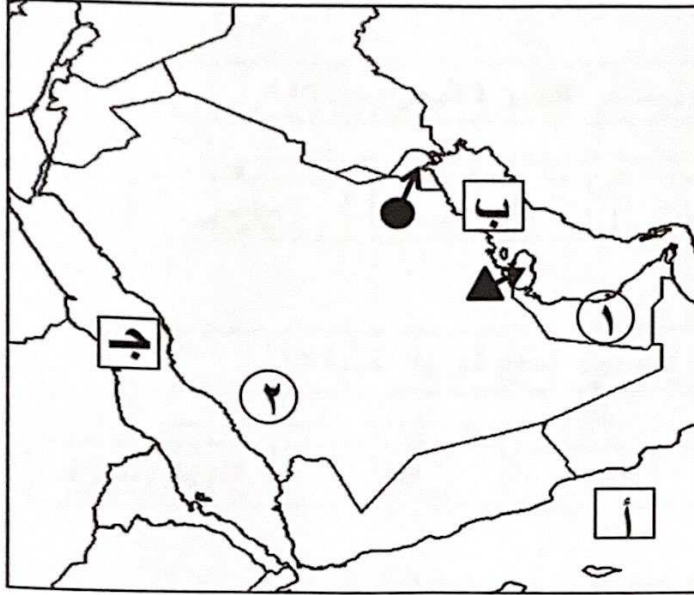
- ١- عدد الابار النفطية التي أحرقتها وفجرها النظام العراقي البائد : ص١٣٩  
{ ٥٣٧ - ٦٣٧ - ٧٣٧ - ٨٣٧ }
- ٢- مجموعة من العادات والتقاليد والقيم في مجتمع من المجتمعات : ص١١٨  
{ التاريخ - الدين - اللغة - الثقافة }
- ٣- الدولة الخليجية الرائدة في انتاج محصول القمح : ص٩٢  
{ البحرين - السعودية - الكويت - قطر }
- ٤- العام الذي تعرضت فيه دولة الكويت للغزو العراقي الغاشم : ص١٣٩  
{ ١٩٩٠م - ١٩٩٢ م - ١٩٩٤ م - ١٩٩٦ م }
- ٥- الحقل الذي اكتشف فيه كميات ضخمة من النفط في دولة الكويت : ص٨٧  
{ الخفجي - برقان - الزور - الوفرة }
- ٦- المدينة الخليجية التي تم فيها الاعلان عن قيام السوق الخليجية المشتركة : ص١٣٠  
{ المنامة - الرياض - الدوحة - مسقط }

**( ب ) أكمل العبارات التالية بما يناسبها :- ( ١ × ٦ = ٦ درجات )**

- ١- تم تصدير أول شحنة من النفط الكويتي في عام ١٩٤٦م ص٩٠
- ٢- القوة المشتركة التي تضم جميع دول مجلس التعاون الخليجي تسمى درع الجزيرة ص١٢٩
- ٣- أول حقل نفطي في دولة الكويت يسمى بحره ص٨٧
- ٤- نوع من التلوث يحدث نتيجة دخول مواد غريبة في التربة مما يلحق الضرر في خواصها ومكوناتها يسمى التلوث الارضي (التربة) ص١٣٤
- ٥- أصبحت منطقة الخليج العربي منطقة جذب سكاني بعد اكتشاف النفط ص١١٣
- ٦- اطلاق الملوثات الهوائية تؤثر على طبقة للغلاف الجوي تسمى الأوزون ص١٣٥

**السؤال الثاني : موضوعي ويتكون من ( أ- ب )**

**( أ ) أمامك خريطة شبة الجزيرة العربية الصماء أرسم وأكتب المدلولات التالية :- ( ١ × ٦ = ٦ درجات )**



- ١- منطقة العبدلي الزراعية تقع في الدولة التي يمثلها على الخريطة الرمز ..... ص ٩٢
- ٢- البحر الأحمر يمثل على الخريطة الحرف ..... ص ٩٢
- ٣- الامارات العربية المتحدة يمثلها على الخريطة الرقم ..... ص ٩٢
- ٤- الخليج العربي يمثل على الخريطة الحرف ..... ص ٩٢
- ٥- سهل تهامة يمثل على الخريطة الرقم ..... ص ٩٢
- ٦- حقل دخان يقع في الدولة التي يمثلها على الخريطة الرمز ..... ص ٩١

**( ب ) صنف الغاوين المناسبة حسب الصور التالية مستعيناً فيما بين القوسين :- ( ١ × ٦ = ٦ درجات )**

- { التلوث الهوائي - زراعة بدون تربة - عملية التنقيب عن النفط  
تصدير أول شحنة للنفط الخام الكويتي - الزراعة في بيوت بلاستيكية - التلوث الضوضائي }



( عملية التنقيب عن النفط ) ص ٨٧



( الزراعة في بيوت بلاستيكية ) ص ٩٤




( التلوث الهوائي ) ص ١٣٣



( التلوث الضوضائي ) ص ١٣٣



( تصدير أول شحنة للنفط الخام الكويتي ) ص ٩٠



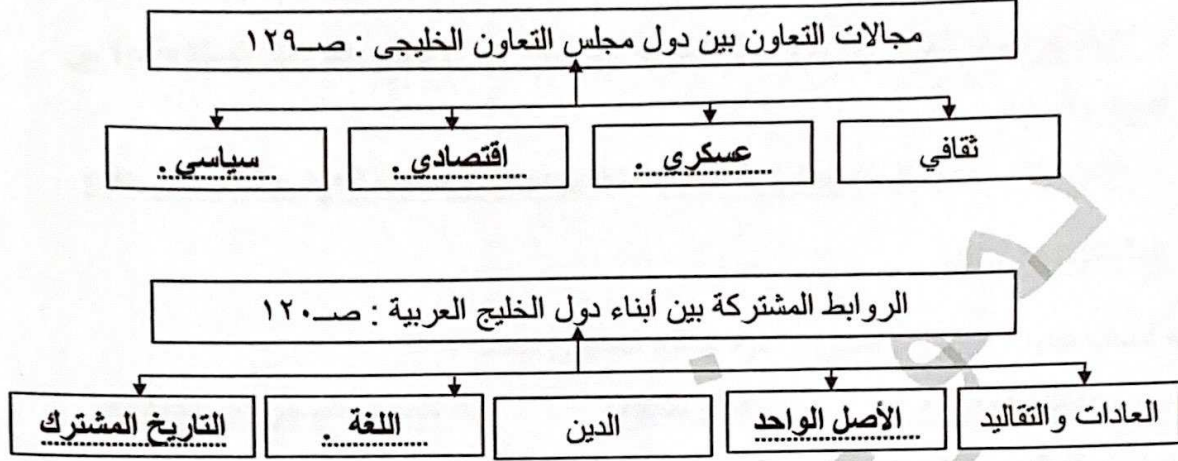
( الزراعة بدون تربة ) ص ٩٤





السؤال الثالث : موضوعي ويتكون من ( أ - ب )

( أ ) أكمل المخططات السهمية التالية بما يناسبها :- ( ١ × ٦ = ٦ درجات )



( ب ) اختر للمجموعة ( أ ) ما يناسبها من المجموعة ( ب ) بوضع الرقم المناسب :-  
( ١ × ٦ = ٦ درجات )

( أ )	الرقم المناسب	( ب )
١- النمو السكاني .	٢ .....	تحويل المواد الخام الى مواد يمكن الاستفادة منها تسمي . ص ٩٥
٢- الصناعة .	٦ .....	السلوك العدواني الموجه ضد الغير ، والذي يتسم بالتخريب والتدمير ، سواء كان ذلك السلوك أقوالاً أو أفعالاً . ص ١٤٤
٣- الزيادة الطبيعية.	١ .....	التغير الذي يحدث لعدد السكان نتيجة للزيادة الطبيعية وغير الطبيعية ص ١١١
٤- العمالة المنزلية	٥ .....	إعادة تصدير البضائع المستوردة . ص ٩٩
٥- الترانزيت .	٤ .....	مجموعة من الأفراد الذين يشاركون الأسرة في دور أو أكثر داخل المنزل أو خارجه من المربيّات والطباخين والسائقين والخدم. ص ١٤٢
٦- العنف .	٣ .....	( عدد المواليد - عدد الوفيات ) . ص ١١٠

السؤال الرابع : مقالى ويتكون من ( أ- ب - ج )

( أ ) اكتب فيما يلى :- (  $2 \times 3 = 6$  درجات )

١- حلوأ لعلاج مشكلة العنف : ص١٥٠

- الاهتمام الجاد بالقرآن الكريم والسنة النبوية الشريفة - الاهتمام بالقراءة والمطالعة بدلاً من  
أصدقاء السوء

- القدوة الحسنة من كل المحيطين بالشباب (المتعلمين) واتباع أساليب الحوار والتفاهم في علاج  
المشكلات والخلافات .

٢- أسباب التلوث البحري ( المائي ) لمياه الخليج العربي : صفحة ١٣٦

- مخلفات المصانع - النفط ومشتقاته - مياه الصرف الصحي غير المعالجة  
- مياه الصرف الزراعي - النفايات الخطرة - الامطار الحمضية

٣- عناصر البيئة الأساسية : صفحة ١٣٣

- هواء - ماء - تربة .

( ب ) علل لما يلى :- (  $2 \times 2 = 4$  درجات )

١- حاجة دول الخليج العربي الى اقامة العديد من الموانئ النفطية: صفحة ٩٠

- تزايد الانتاج النفطي لدول مجلس التعاون من الحقول البرية والبحرية .  
- تزايد الطلب العالمي على النفط كمصدر أساسي للطاقة .

٢- شهدت منطقة الخليج العربي بعد اكتشاف النفط نمو سكانياً فجائياً : صفحة ١١٠

- ارتفاع دخل الفرد

- توفر الرعاية الصحية - توفر فرص العمل

( ج ) عرف المفاهيم التالية :- (  $1 \times 2 = 2$  درجات )

الدخل القومي	مجموع الدخول التي تحصل عليها الدولة خلال عام تسمى . ص٩٥
التلوث	الضرر الذي يصيب عناصر البيئة الاساسية (هواء- ماء- تربة) فتتحول من عناصر مفيدة الى عناصر ضارة . ص١٣٣



السؤال الخامس : مقالى ويتكون من ( أ - ب - ج )

( أ ) فرق بين كل مما يلى :- ( ١ × ٤ = ٤ درجات )

احتياط النفط ص ٨٨	انتاج النفط ص ٨٨
كميات النفط المخزونة في باطن الارض	كميات النفط التي يتم استخراجها للاستفادة منها
الواردات ص ٩٩	الصادرات ص ٩٩
البضائع والسلع التي تشتريها دولنا من الخارج	السلع والمنتجات التي تبيعها دولنا في الخارج

( ب ) عدد اثنين لكل من :- ( ٢ × ٤ = ٨ درجات )

- ١- الأضرار الناتجة من تلوث التربة . ص ١٣٤  
- ضعف قدرتها على الانتاج الزراعي .  
- تلوث الانتاج الزراعي مما يؤثر على صحة الانسان .
- ٢- مظاهر التعاون الثقافي بين دول مجلس التعاون الخليجي . ص ١٣٠  
- توحيد المناهج التعليمية وتطويرها - انشاء مكتب التربية العربي ومقرة الرياض  
- اجتماع وزراء التربية والتعليم لدول الخليج العربية كل عامين لوضع السياسات التربوية .
- ٣- أهم الدول المستوردة للنفط الكويتي . ص ٩٠  
- الولايات المتحدة الامريكية  
- هولندا - اليابان
- ٤- الآثار المترتبة على حرق الابار النفطية لدولة الكويت . ص ١٣٩  
- سبب كميات كبيرة من الدخان محدثاً تلوثاً هوائياً هائلاً .  
- تساقط الرذاذ النفطي على التربة محدثاً تلوثاً أرضياً حيث تحول لونه من اللون الأصفر إلى اللون الأسود  
- الآثار الخطرة على صحة الانسان والكائنات الحية .

(( انتهت الأسئلة ))



السؤال الأول : موضوعي ويتكون من ( أ - ب )

( أ ) اختر الإجابة الصحيحة من بين البدائل التي تلي كل عبارة وضع تحتها خط :- ( ١ × ٦ = ٦ درجات )

١- الشيخ الذي أطلق اسمه على القمة السابعة والعشرين لمجلس التعاون لدول الخليج العربية : ص٤٧  
{ صباح الأحمد الصباح - عبدالله السالم الصباح - جابر الأحمد الصباح - سعد عبدالله الصباح }

٢- الدولة الخليجية التي قامت على أرضها حضارة دلمون : ص٤٨  
{ سلطنة عمان - قطر - الكويت - البحرين }

٣- يطلق على تاجر اللؤلؤ قديماً : ص٣٢  
{ الغواص - الطواش - النوخذة - النهام }

٤- المحصول التي نجحت المملكة العربية السعودية في انتاجه ولها تجربة رائدة فيه : ص٩٢  
{ القمح - التفاح - الغنم - الموز }

٥- أول حقل نفطي في دولة الكويت : ص٨٧  
{ برقان - بحره - الروضتين - الخفجي }

٦- العاصمة الخليجية التي أعلن فيها قيام السوق الخليجية المشتركة : ص١٣٠  
{ الرياض - أبوظبي - الدوحة - مسقط }

( ب ) أكمل العبارات التالية بما يناسبها :- ( ١ × ٦ = ٦ درجات )

١- الزيادة المستمرة في عدد السكان بسبب الهجرة تسمى الزيادة الغير طبيعية ص١١٠

٢- تعرضت دولة الكويت للغزو العراقي الغاشم في عام ١٩٩٠م ص١٣٩

٣- بداية موسم الغوص يسمى الدشة ص٣٢

٤- إعادة تصدير البضائع المستوردة يسمى الترانزيت ص٩٩

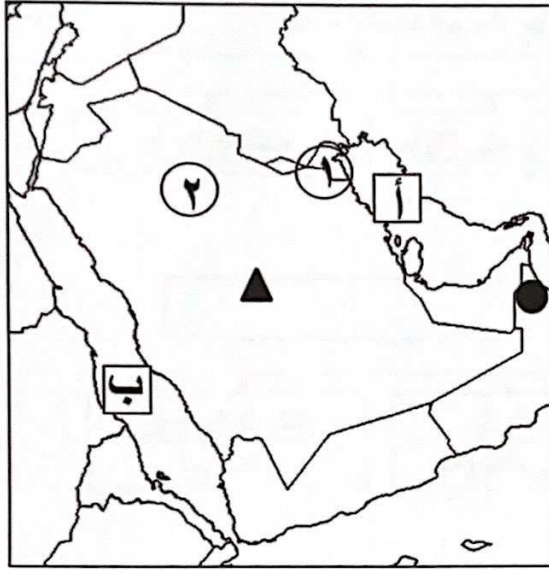
٥- أعلن قيام مجلس التعاون الخليجي في مدينة تسمى أبوظبي ص٧٠

٦- تقع منطقة الخليج العربية بالنسبة لقارة آسيا في الجهة الجنوبية الغربية ص١٩



**السؤال الثاني : موضوعي ويتكون من ( أ- ب )**

**( أ ) أمامك خريطة شبه الجزيرة العربية الصماء أرسم وأكتب المدلولات التالية :- ( ١ × ٥ = ٥ درجات )**



- ١- هضبة نجد يمثلها على الخريطة الرمز ..... ص ٢٣
- ٢- الخليج العربي يمثل على الخريطة الحرف ..... ص ٢٣
- ٣- حقل برقان يقع في الدولة التي يمثلها على الخريطة الرقم ..... ص ٩١
- ٤- صحراء النفود يمثلها على الخريطة الرقم ٢ ..... ص ٢٣
- ٥- الجبل الاخضر يمثل على الخريطة الرمز ..... ص ٢٣

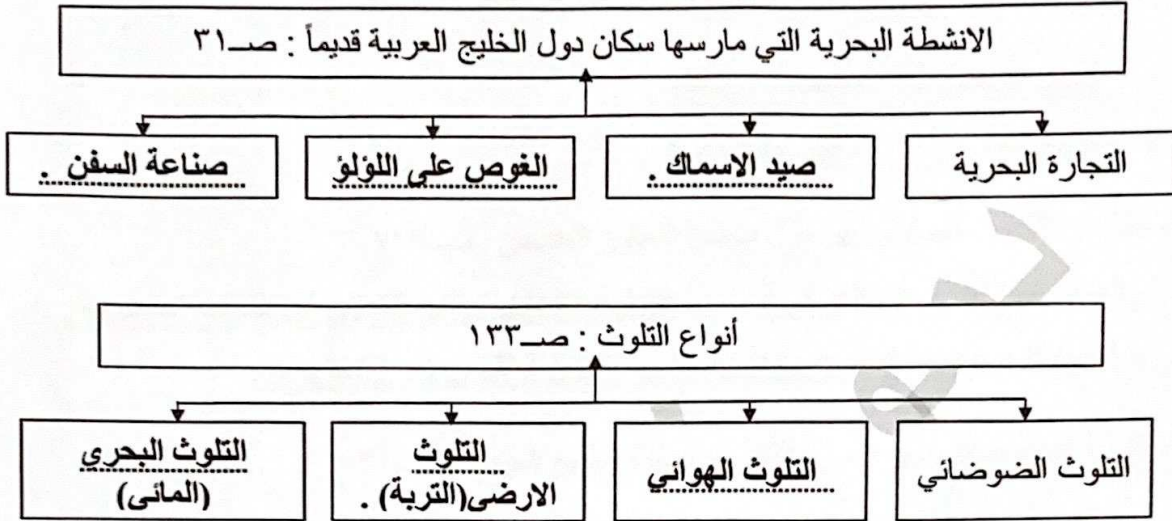
**( ب ) ظلل الحرف ( أ ) اذا كانت العبارة صحيحة وظلل الحرف ( ب ) اذا كانت العبارة خاطئة فيما يلي :- ( ١ × ٧ = ٧ درجات )**

م	العبارة	أ	ب
١	أهم الدول المستوردة للنفط الكويتي هي الولايات المتحدة الأمريكية . ص ٩٠		
٢	أصبحت منطقة الخليج العربي منطقة جذب سكاني بعد اكتشاف النفط . ص ١١٣		
٣	عدد الآبار النفطية التي أحرقها النظام العراقي البائد ٧٤٥ بئراً . ص ١٣٩		
٤	عرف الخليج العربي قديماً باسم البحر الأدنى . ص ٤٧		
٥	أول دولة استعمارية أوربية دخلت منطقة الخليج العربي هي البرتغال . ص ٦٠		
٦	تم تصدير أول شحنة من النفط الكويتي في عهد الشيخ عبدالله السالم الصباح . ص ٩٠		
٧	الرياح الجنوبية الشرقية التي تهب على منطقة الخليج العربي تسمى الكوس . ص ٢٥		



**السؤال الثالث : موضوعي ويتكون من ( أ - ب )**

**( أ ) أكمل المخططات السهمية التالية بما يناسبها :- ( ١ × ٦ = ٦ درجات )**



**( ب ) اختر للمجموعة ( أ ) ما يناسبها من المجموعة ( ب ) بوضع الرقم المناسب :- ( ١ × ٦ = ٦ درجات )**

( أ )	الرقم المناسب	( ب )
١- النمو السكاني.	٢	السلوك العدواني الموجه ضد الغير ، والذي يتسم بالتخريب والتدمير ، سواء كان ذلك السلوك أقوالاً أو أفعالاً . ص ١٤٤
٢- العنف .	٦	نزاع مائي لبحر العرب يمتد من خليج عمان جنوباً حتى شط العرب شمالاً . ص ١٩
٣- خطوط الطول .	١	التغيير الذي يحدث لعدد السكان نتيجة للزيادة الطبيعية وغير الطبيعية ص ١١١
٤- التلوث .	٥	هو أن تسيطر دولة قوية على دولة ضعيفة بهدف استغلال موقعها ومواردها (خيراتها) . ص ٦١
٥- الاستعمار .	٤	الضرر الذي يصيب عناصر البيئة الأساسية (هواء- ماء- تربة) فتتحول من عناصر مفيدة الى عناصر ضارة . ص ١٣٣
٦- الخليج العربي	٣	عبارة عن خطوط وهمية أي غير موجودة على سطح الأرض ترسم على الكرة الأرضية ، وتقسم الكرة الأرضية الى قسمين شرقي وغربي . ص ٢١



السؤال الرابع : مقالي ويتكون من ( أ- ب )

( أ ) أكتب فيما يلي :- ( ٢ × ٣ = ٦ درجات )

١- الروابط المشتركة بين أبناء دول الخليج العربية : ص ١٢٠

- الأصل الواحد . - العادات والتقاليد .

- الدين واللغة . - التاريخ المشترك .

٢- مظاهر التعاون العسكري بين دول مجلس التعاون الخليجي . ص ١٢٩

- المناورات (التدريبات) العسكرية - قبول أبناء دول مجلس التعاون في الكليات العسكرية .

- انشاء قوه مشتركة تضم جميع دول مجلس التعاون الخليجي (درع الجزيرة) .

٣- الدول التي وصلت إليها التجارة البحرية لمنطقة الخليج العربي . ص ٣٤

- الهند .

- اليمن . - سواحل شرق أفريقيا .

( ب ) علل لما يلي :- ( ٢ × ٣ = ٦ درجات )

١- سفينة البغلة أفضل أنواع السفن المستعملة في رحلة السفر : صفحة ٣٤

- متانتها وقدرتها على نقل الحمولة الكبيرة .

- قلة تعرضها للأخطار البحرية .

٢- أهمية موقع منطقة الخليج العربي : صفحة ١٩

- تقع في وسط العالم .

- تتحكم بأهم طرق التجارة العالمية .

٣- شهدت منطقة الخليج العربي بعد اكتشاف النفط نمو سكانيًا فجائيًا : صفحة ١١٠

- ارتفاع دخل الفرد .

- توفر الرعاية الصحية . - توفر فرص العمل .





السؤال الخامس : مقالى ويتكون من ( أ - ب - ج )

( أ ) فرق بين كل مما يلى :- ( ١ × ٤ = ٤ درجات )

الموقع النسبي ص ٢٠	الموقع الفلكي ص ٢٠
الموقع بالنسبة للماء واليابس	الموقع بالنسبة لخطوط الطول ودوائر العرض
الواردات ص ٩٩	الصادرات ص ٩٩
البضائع والسلع التى تشتريها دولنا من الخارج	السلع والمنتجات التى تبيعها دولنا فى الخارج

( ب ) اذكر اثنين لكل من :- ( ٢ × ٣ = ٦ درجات )

١- أسباب التلوث البحري ( المائي ) لمياه الخليج العربي : صفحة ١٣٦

- مخلفات المصانع .
- النفط ومشتقاته .
- مياه الصرف الصحي غير المعالجة .
- مياه الصرف الزراعي .
- النفايات الخطرة .
- الامطار الحمضية .

٢- الحيوانات المستأنسة فى منطقة الخليج العربي . ص ٢٦

- الأبل .
- الأغنام .
- الماعز .

٣- أشكال سطح الأرض . ص ٢٣

- الجبال .
- الهضاب .
- السهول .

( ج ) عرف المفاهيم التالية :- ( ١ × ٢ = ٢ درجات )

الصناعة	تحويل المواد الخام الى مواد يمكن الاستفادة منها ص ٩٥
المناخ	حالة الجو فى مكان ما خلال فترات زمنية طويلة ص ٢٥

(( انتهت الأسئلة ))