

دول الخليج العربية تنمو سكانياً وتتشابه ثقافياً

أ - السكان في المنطقة العربية

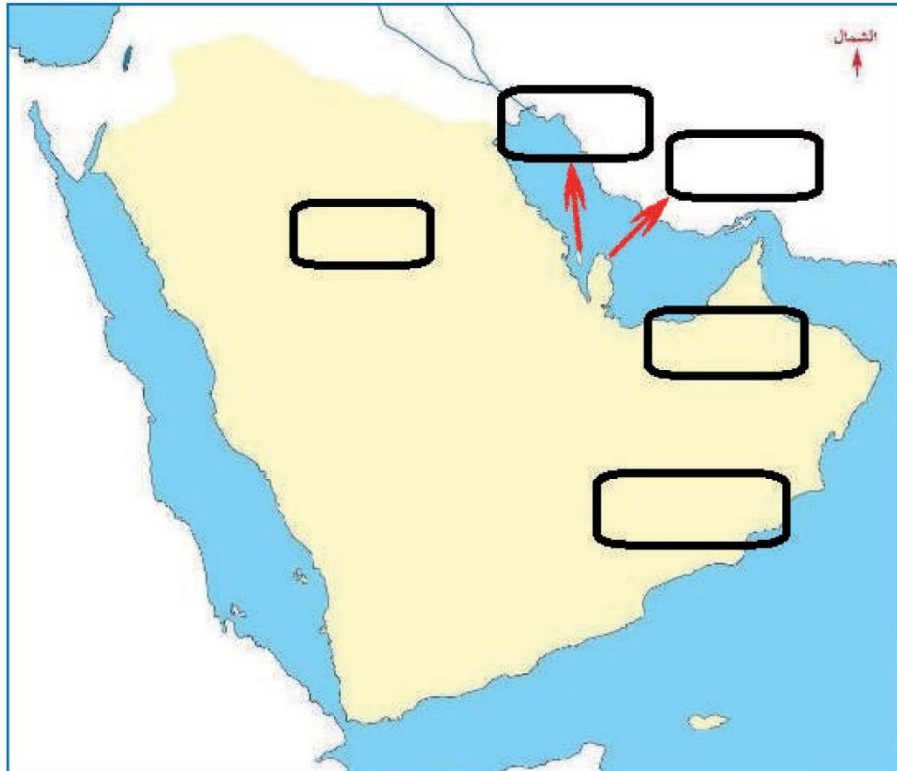
الأصول السكانية :

أضف إلى معلوماتك عزيزي المتعلم :

ترجع أصول السلالات السكانية في منطقة الخليج العربية إلى جنس البحر المتوسط وشرق أفريقيا وهم السكان الذين ورد ذكر حضارتهم وآثارها المتشابهة في كل من (دلمون البحرين-هيلي الإمارات -أم النار قطر- ودبا عُمان -وتاروت في السعودية) والتي كشفت عنها البعثة الدانمركية في منطقة الخليج العربية ، وتشابه هذه الآثار الحضارية يدل على وجود اتصال وتقارب بين سكان منطقة الخليج العربية .

نشاط ١ //

- حدد على الخريطة التالية : منطقة الخليج العربية مواقع الحضارات الموجودة في الفقرة السابقة .





نشاط ٢ /

ابحث في مكتبة المدرسة عن تقسيمات أصول الجنس العربي .

ج - صنف المناطق التاريخية من الشمال إلى الجنوب .
 ...السعودية (تاروت) - البحرين (دلمون) - قطر (أم النار) - الإمارات
 (هيلي) - عمان (دبا)

هل

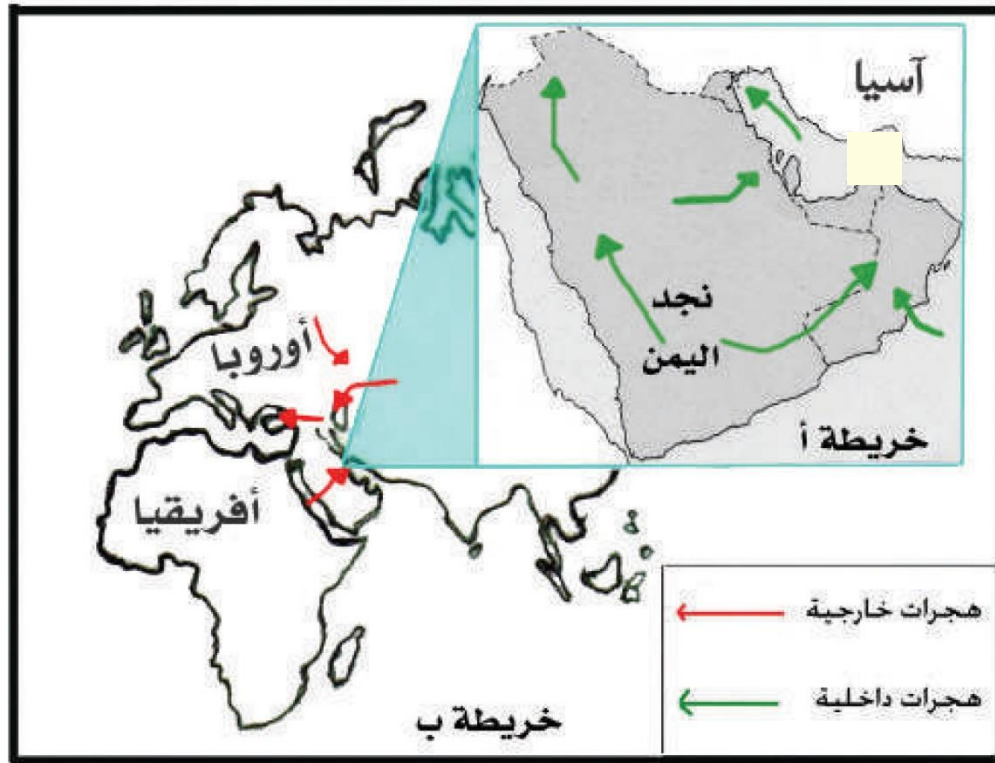
تعلم أن

السلالة : مجموعة من الناس تشترك فيما بينها في الصفات الجسدية
 الرئيسة كلون الجلد وشكل الأنف وشكل الشعر وطول
 القامة وما إليها وتختلف عن غيرها من السلالات في هذه
 الصفات .

الهجرات :

اقرأ وتعلم :

تُعَدُّ شبه الجزيرة العربية ملتقى الهجرات الخارجية القادمة من آسيا و أفريقيا .
ونتيجة للظروف الطبيعية القاسية استقر السكان في أطراف شبه الجزيرة العربية
ومنطقة الخليج العربي ، والتي تمثلت بالهجرات الداخلية .



شكل (٣٠) خريطة توضح ملتقى الهجرات الخارجية والداخلية لشبه الجزيرة العربية .

نشاط

على الخريطة ب :

- ١- حدد موقع حوض الخليج العربي بوضع الرمز ○ عليه .

٢- يربط حوض الخليج العربي بين قارات العالم القديم وهي قارة :
..... **آسيا** و..... **إفريقيا**

٣- استخرج من مفتاح الخريطة أنواع الهجرات :
١ - .. **هجرات داخلية** .. ٢ - .. **هجرات خارجية** ..

اقرأ وتعلم :

استقبلت منطقة الخليج العربية موجات سكانية من كل المناطق المجاورة بحكم موقعه الجغرافي المهم بين قارات العالم القديم ، والجدير بالذكر أن تحركات الهجرات بدأت منذ أن سادت ظروف الجفاف الصحراوي ، حيث خرجت الهجرات العربية في أزمنة مختلفة من قلب الجزيرة العربية إلى الساحل الغربي للخليج العربي ، ومن هذه الهجرات ، هجرة (آل الصباح وآل خليفة) إلى الكويت والبحرين ، وهجرة (المعاضيد) إلى قطر ، وهجرة (آل بو سعيد واليعاربة) إلى عُمان ، وهجرة (القواسم) إلى رأس الخيمة ، وهجرة (بني ياس) إلى أبو ظبي .

نشاط

أولاً : من خلال الفقرة السابقة استخرج ما يلي :

- ١ - عامل جذب لمنطقة الخليج العربية .
..... **انتقلت الهجرات من نجد واليمن إلى الأطراف في جهة الشرق والشمال**
- ٢- عامل طرد للسكان من شبه الجزيرة العربية .
..... **ملتقى الهجرات الداخلية والخارجية لشبه الجزيرة العربية**



ثانيًا : وزع الجماعات الواردة في الفقرة السابقة في أماكن استقرارها على الخريطة .

ثالثًا : ضع عنوانًا للخريطة . . توزيع الجماعات على الخريطة

رابعًا : ارسم اتجاه الشمال على الخريطة في المكان المناسب .



النمو السكاني :

شهدت منطقة الخليج العربية بعد اكتشاف النفط نموًا سكانيًا مضطربًا (فجائيًا) نتيجة لأسباب عدة أهمها (ارتفاع دخل الفرد - توفر الرعاية الصحية - توفر فرص العمل) مما شجع على استقطاب الهجرات الداخلية والخارجية .

تذكر أن :

عدد السكان في دولة الكويت ودول الخليج العربية في تزايد مستمر بسبب الزيادة الطبيعية (عدد المواليد - عدد الوفيات) والزيادة غير الطبيعية (بسبب الهجرة) .

نشاط ١ /

استخرج الفكرة الرئيسية من الفقرة .

.....

نشاط ٢ /

يشاهد فلما عن الرعاية الصحية في دولة الكويت وناقش مع زملاءه اثر ذلك على الزيادة الطبيعية .

نشاط ٣ /

اكتب رسالة تعبر فيها عن شكرك لما تقدمه دولتك الحبيبة الكويت من رعاية صحية .

.....

.....

.....

النمو السكاني هو التغيير الذي يحدث لعدد السكان نتيجة للزيادة الطبيعية وغير الطبيعية .

هل
تعلم أن

نشاط ٤

استعن بالمعلومات الموجودة داخل المربع في كتابة تعليق مناسب أسفل الصور :

السماح للوافدين باصطحاب عائلاتهم

ارتفاع الأجور

الأمن والأمان

زيادة عدد المواليد

توفر الرعاية الصحية

توفر فرص العمل



ارتفاع الاجور



توفر فرص العمل



السماح للوافدين باصطحاب عائلاتهم



توفر الرعاية الصحية



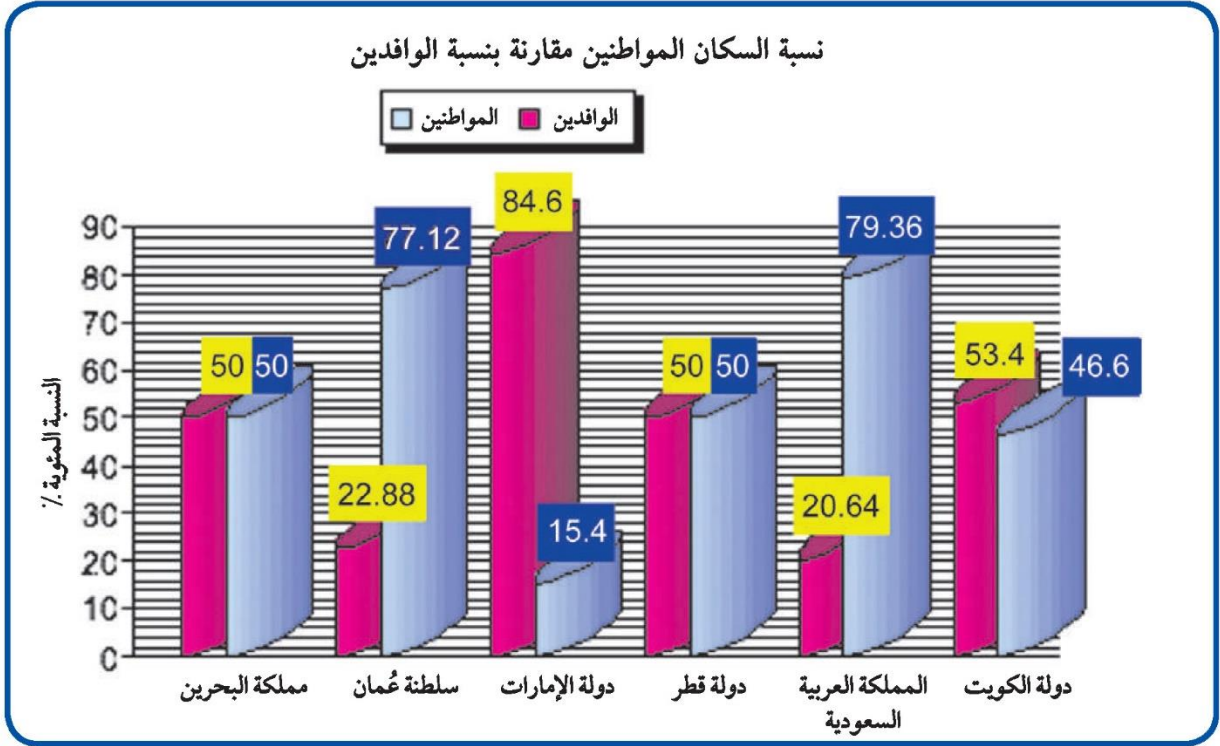
الأمن والأمان



زيادة عدد المواليد

نشاط ٥ /

لاحظ الرسم البياني التالي ثم أجب عما يلي :



شكل (٣١) توزيع السكان في دول الخليج العربية وفقاً لإحصاء (٢٠٠٦) تقريباً

١- ماذا يمثل هذا الرسم؟ **نسبة السكان المواطنين مقارنة بنسبة السكان الوافدين**

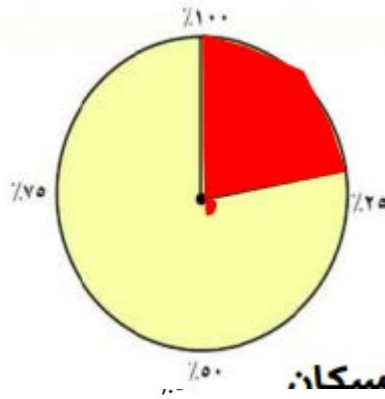
٢- صحح ما تحته خط :

أعلى دولة خليجية في نسبة المواطنين هي دولة الكويت (..... **السعودية**) .

- أقل دولة خليجية في نسبة المواطنين تمثله دولة قطر (..... **الإمارات**) .

٣- رتب الدول ترتيباً تنازلياً حسب نسبة الوافدين فيها .

الإمارات



٤- استعن بالدائرة البيانية ثم ظلل نسبة الوافدين في عُمان

٥- استخرج حقيقة من الرسم البياني السابق .

نسبة المواطنين مقارنة بنسبة الوافدين السكان

نشاط ٦ //

قم بتحويل الرسم البياني إلى جدول حسب البيانات الموضحة عليه :

الوافدين	المواطنين	الدولة
٢٠,٦٤	٧٩,٣٦	السعودية
٢٢,٨٨	٧٧,١٢	عمان
٥٠	٥٠	البحرين
٥٠	٥٠	قطر
٥٣,٤	٤٦,٦	الكويت
٨٤,٦	٢٥,٤	الامارات

أضف لمعلوماتك :

الكثافة السكانية تبدو منخفضة في منطقة الخليج العربية وليس هذا غريباً في إقليم صحراوي ظل طوال القرون الماضية في فقر شديد ، ولم يصبح منطقة جذب سكاني إلا بعد اكتشاف النفط ، وساهم الموقع الجغرافي في ازدهار نمو صناعة النفط وتسويقه مما ساعد على النمو السكاني في الوقت الحاضر .

الكثافة السكانية هي : عدد السكان في الكيلو متر المربع ، وتقاس بقسمة عدد السكان على مساحة الدولة ، أي أن :

$$\frac{\text{عدد السكان}}{\text{مساحة الدولة}} = \text{الكثافة السكانية}$$

نشاط ٧ /

من خلال الجدول التالي أجب على الأنشطة المرفقة :

اسم الدولة	المساحة ١٠٠٠ كم ^٢	عدد السكان ١٠٠٠ (نسمة)	الكثافة السكانية فرد / كم ^٢	معدل النمو السكاني %
دولة الكويت	١٧,٨١٨	٢,٤١٨,٣٩٣	١٣٤	٣,٣٨
المملكة العربية السعودية	٢,٢٤٠,٠٠٠	٢٧,٠١٩,٧٣١	١٢	٣,٢٧
مملكة البحرين	,٧٠٧	٦٩٨,٥٨٥	٩٨٨	١,٧٣
دولة قطر	١١,٤٢٧	١,٠٤١,٧٣٣	؟؟؟	٣,١٨
دولة الإمارات	٨٣,٦٠٠	٥,٦٣١,١٣٥	٦٧	١,٥٩
سلطنة عُمان	٣٠٩,٥٠٠	٢,٦٢٢,١٩٨	٨	٣,٤٣

احسب الكثافة السكانية لدولة قطر : $\frac{\text{عدد السكان}}{\text{المساحة}} = \text{الكثافة السكانية}$:
 $\frac{1,041,733}{11,427} = \dots\dots\dots$



١- رتب الدول الخليجية من حيث عدد السكان ترتيبًا تنازليًا .

السعودية والإمارات وعمان والكويت وقطر والبحرين

٢- أكمل ما يلي :

- دولة خليجية تحتل المركز الأول في عدد السكان هي **السعودية**

- دولة خليجية تحتل المركز السادس في عدد السكان هي **البحرين**

٣- صح أم خطأ :

- أكثر دولة خليجية في الكثافة السكانية هي دولة الكويت وأقلها البحرين (**خطأ**)

٤ - لاحظ الكثافة السكانية في كل من مملكة البحرين والمملكة العربية السعودية

ماذا تستنتج ؟ **الكثافة السكانية في البحرين عالية أما السعودية قليلة جداً على الرغم من أن مساحة البحرين قليلة جداً إلا أنها عالية الكثافة**

٥ - ماذا تلاحظ على معدل النمو السكاني في دولة الكويت ؟

..... **تحتل الكويت المركز الثاني في عدد السكان**

نشاط ٨

- ارسم خريطة ذهنية وضح فيها الآتي :

١- تعريف مصطلح التركيبة السكانية

٢- أسباب الخلل في التركيبة السكانية

٣- حلول مقترحة لمعالجة الخلل في التركيبة السكانية .