

المراجعة النهائية (ج)

المراجعة النهائية (ج)

أولاً:

1. يوضح التمثيل البياني بالأعمدة المواد الدراسية المفضلة لمتعلمي الصف الخامس.

استخدم التمثيل البياني، وأجب عن الأسئلة التالية:

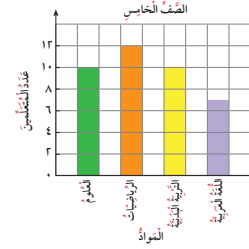
1. أي المواد الدراسية أكثر تفضيلاً؟ الرياضيات

2. أي المواد الدراسية يفضلها العدد نفسه من المتعلمين؟ العلوم والتربية البدنية

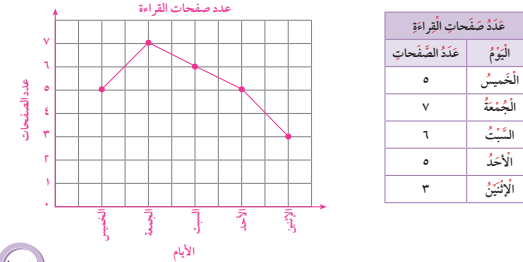
3. كم متعلماً يفضل مادة اللغة العربية؟ 7 متعلمين

4. رتب المواد الدراسية تنازلياً بحسب عدد المتعلمين.

الرياضيات، العلوم والتربية البدنية، اللغة العربية



2. يوضح الجدول التالي عدد الصفحات التي قرأها هناء خلال خمسة أيام من كتاب على شبكة الإنترنت، لعمل تقرير ما. اصنع تمثيلاً بيانياً بالخطوط لوصف هذه البيانات.



3. لمجموعة القيم 17، 22، 13، 28، 10، أوجد:

1. المدى: $28 - 10 = 18$
2. المتوسط: 17
3. المتوسّط الحسابي: $5 \div (10 + 28 + 13 + 22 + 17) = 17$

4. استخدم مخطط كارول المقابل، وأجب عن الأسئلة التالية:

1. ما عدد من يستعمل نظارة طبية وليسوا في الصف الخامس؟

| استعمال بعض المتعلمين نظارة طبية | استعمال نظارة | لا يستعمل نظارة |
|----------------------------------|---------------|-----------------|
| في الصف الخامس | 12 | 63 |
| ليس في الصف الخامس | 25 | 275 |

2. ما عدد من لا يستعمل نظارة طبية؟

$275 + 63 = 338$

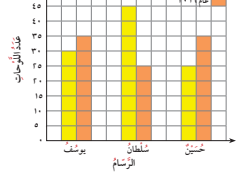
3. ما عدد متعلمي الصف الخامس؟

$12 + 63 = 75$

4. ما البيانات التي يمثلها 275 في المخطط؟ عدد المتعلمين الذين لا يستعملون نظارة وليسوا في الصف الخامس.

5. استخدم التمثيل البياني بالأعمدة المزدوجة، وأجب عن الأسئلة التالية:

1. في أي عام رسم يوسف لوحات فنية أقل؟ 2015



2. ما عدد اللوحات الفنية التي رسمها حسن في عام 2016؟

30

3. أي من الرسامين قام برسم عدد أكبر من اللوحات الفنية خلال العامين؟ سلطان

6. صنف البيانات التالية في مخطط فن المقابل:

4، 6، 9، 15، 8

