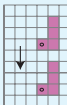




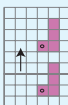
Translate Shapes

تَعَلَّمْ

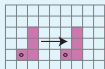
فِي أَيِّ اتِّجَاهٍ تَحَرَّكَ الشَّكْلُ؟



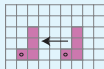
حَرَكَةٌ جَنُوبًا



حَرَكَةٌ شِمَالًا



حَرَكَةٌ شَرْقًا



حَرَكَةٌ غَرْبًا

كَمْ دَارَ عَقْرَبُ السَّاعَةِ؟



دَوْرَانِ دَوْرَةٍ كَامِلَةٍ



دَوْرَانِ نِصْفِ دَوْرَةٍ



دَوْرَانِ رُبْعِ دَوْرَةٍ

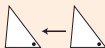
حَوِّطِ الْكَلِمَةَ الْمُنَاسِبَةَ لِحَرَكَةِ الشَّكْلِ.

لَا حِظْ



ب

دَوْرَةٍ كَامِلَةٍ نِصْفُ دَوْرَةٍ رُبْعُ دَوْرَةٍ



ا

شِمَالًا شَرْقًا غَرْبًا



د

دَوْرَةٍ كَامِلَةٍ نِصْفُ دَوْرَةٍ رُبْعُ دَوْرَةٍ

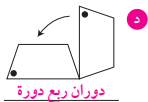
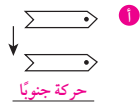
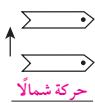
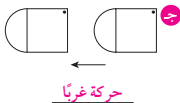


ج

شِمَالًا غَرْبًا جَنُوبًا



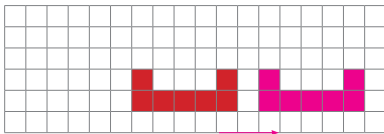
١ اكتب الكلمة المناسبة لحركة الشكل.



٢ حوِّط الصورة التي تبين أن العقرب دار نصف دورة.



٣ ارسم الشكل بعد أن تحرك شرقاً.



٤ احك قصة عن رحلة قمت بها مع أسرتك في السيارة. يمكنك الاستعانة بالكلمات:

شمالاً، غرباً، شرقاً، جنوباً، ربع دورة، نصف دورة، دورة كاملة.

تختلف إجابات المتعلمين.