



# إيجاد ناتج الضرب باستخدام خط الأعداد

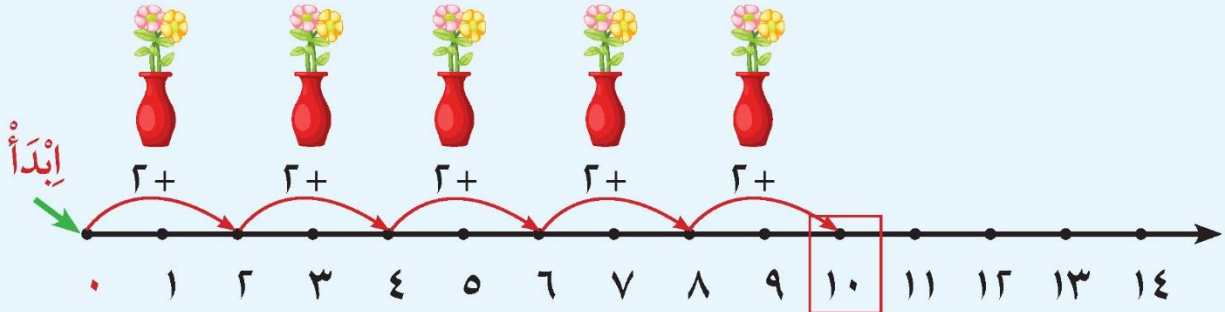
## Multiplying Using Number Line

تَعَلَّم



ابداً العد من الصفر.

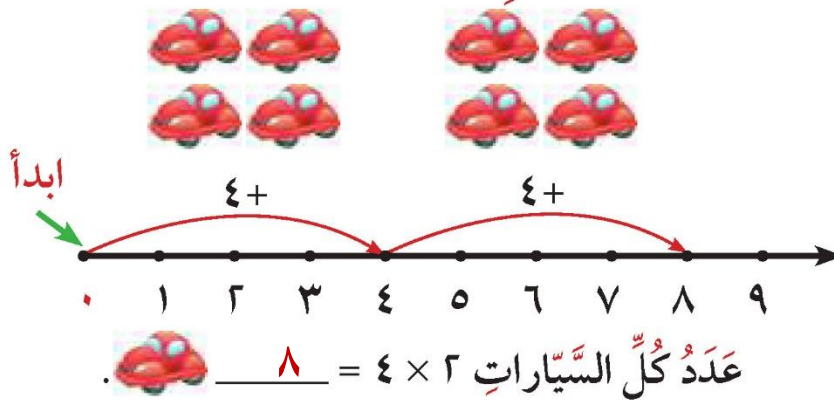
سارة تحب تزيين منزلها بالأزهار،  
فذهبت إلى محل الأزهار في الجمعية  
التعاونية، واشترت ٥ زهريات في كل  
منها ٢ زهرة. ما عدد كل الأزهار؟



بإمكانك العد تجاوزياً بالاثنتين على خط الأعداد ٥ مرات لإيجاد ناتج  $٢ \times ٥$   
عدد كل الأزهار  $٢ \times ٥ = ١٠$  أزهار


تَمَرَّن

استخدم خط الأعداد لإيجاد الناتج.



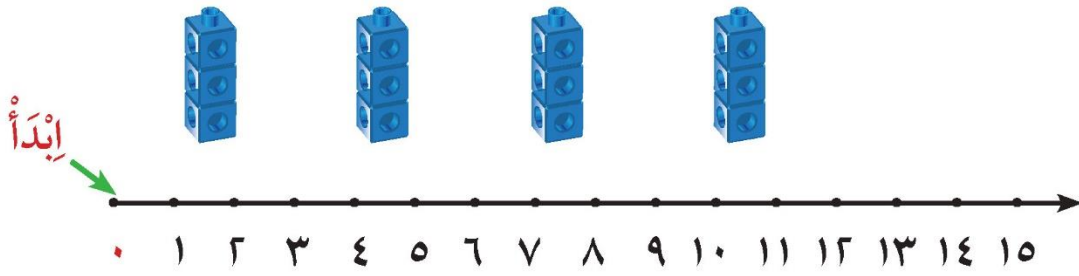
٢ أكْمِلْ بِاسْتِخْدَامِ خَطِّ الأَعْدَادِ.

أ



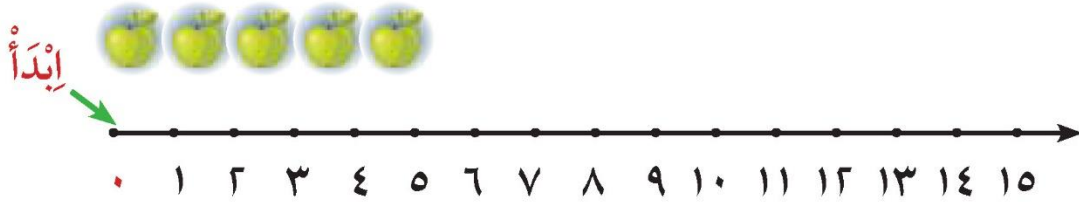
$$\underline{10} = 5 \times 2$$

ب



$$\underline{12} = 3 \times 4$$

ج



$$\underline{5} = 1 \times 5$$

إِلَى الأَهْلِ: يَتَعَلَّمُ الْمُتَعَلِّمُ طَرِيقَةَ اسْتِخْدَامِ خَطِّ الأَعْدَادِ فِي الضَّرْبِ، مِثَال ٢ × ٣ حَيْثُ يَبْدَأُ مِنَ الصِّفْرِ وَيَعُدُّ تَجَاوِزِيًّا عَلَى خَطِّ الأَعْدَادِ: ٢، ٤، ٦، إِذَنْ ٢ × ٣ = ٦.

نَشَاطٌ فِي المَنْزِلِ: يُطَلَّبُ مِنَ الْمُتَعَلِّمِ اسْتِخْدَامِ خَطِّ الأَعْدَادِ لِإِيجَادِ نَاتِجِ الضَّرْبِ.

