


إِسْتِخْدَامُ قَوَاعِدِ الْجَمْعِ وَالطَّرْحِ


Using Addition and Subtraction Rules

تَعَلَّمْ

٣ أولاد يتجولون بالدراجات في شارع الخليج العربي.
أرادوا الانضمام إلى عدد من أصدقائهم في أحد الأماكن التالية:



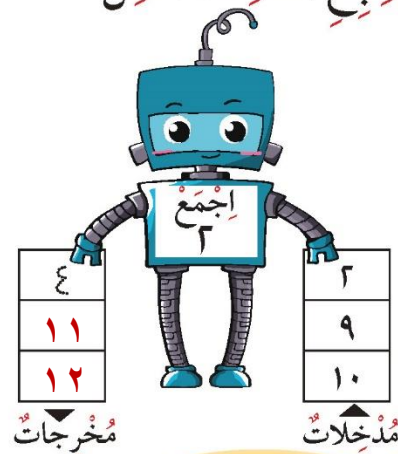
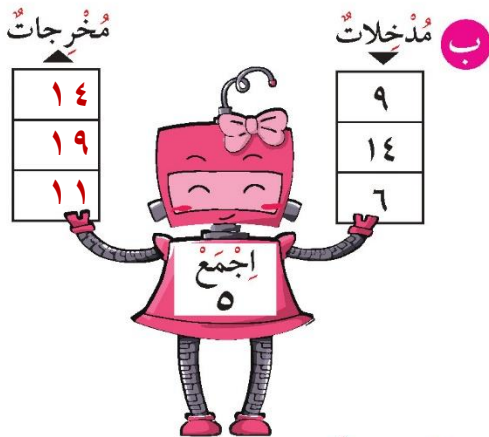
سَوْفَ أَجْمَعُ
فِي كُلِّ مَرَّةٍ ٣. تِلْكَ هِيَ
القَاعِدَةُ.



كَمْ عَدَدُ كُلِّ الْأَوْلَادِ فِي كُلِّ مَكَانٍ انْضَمَّ الْأَصْدِقَاءُ الثَّلَاثَةُ إِلَى الْمَجْمُوعَةِ؟ (انْظُرْ لِلرَّجُلِ الْآلِيِّ)

تَمَرَّنْ

١ اتَّبِعِ الْقَاعِدَةَ. اكْمِلْ.



ماذا تلاحظُ عِنْدَمَا تَتَّبِعُ الْقَاعِدَةَ فِي الْجَمْعِ؟

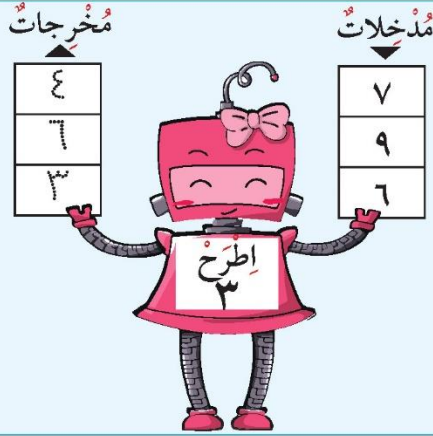
تَعْبِيرُ شَفَهِي

اتَّبِعِ الْقَاعِدَةَ لِتُكْمِلَ الْجَدْوَلَ.

$$4 = 3 - 7$$

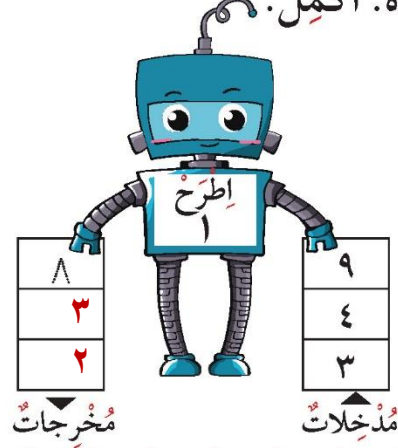
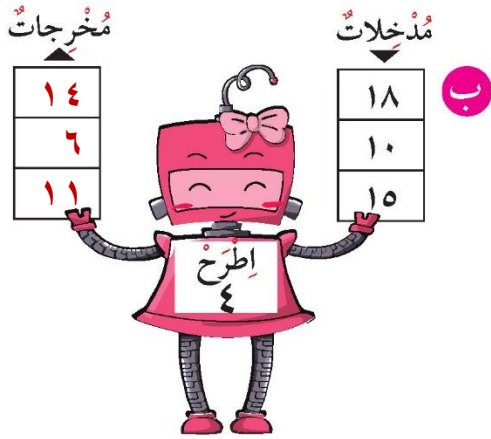
$$6 = 3 - 9$$

$$3 = 3 - 6$$




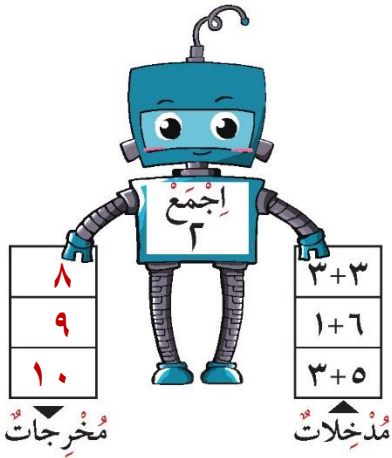
تَمَرَّنْ

٢ اتَّبِعِ الْقَاعِدَةَ. اكْمِلْ.



٣ اِجْمَعْ الْعَدَدَيْنِ فِي الْعَمُودِ الْأَوَّلِ.


ثُمَّ اتَّبِعِ الْقَاعِدَةَ.



ماذا تلاحظ؟

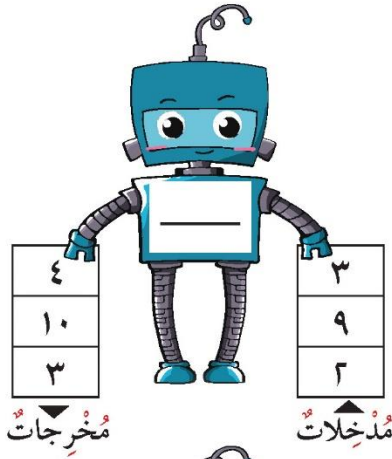


لَقَدْ وَجَدْتُهَا. نَحْنُ نَجْمَعُ ٢ فِي كُلِّ مَرَّةٍ. تِلْكَ هِيَ الْقَاعِدَةُ!

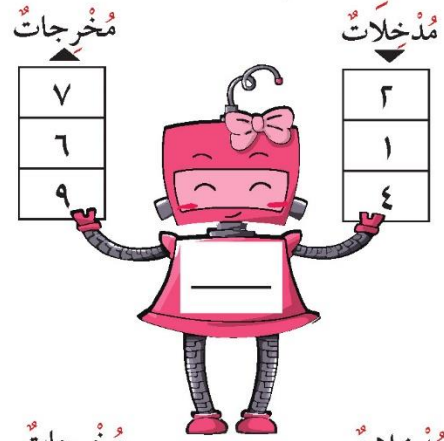


تَمَرِّنْ

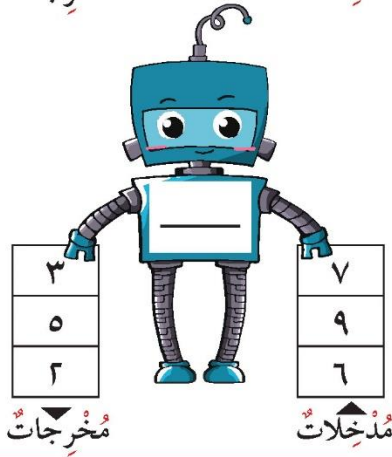
٤ اكتب القاعدة.



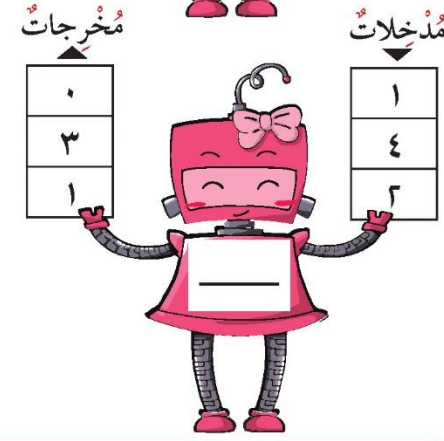
ب



أ



د



ج

إلى الأهل: لقد استخدم المتعلم القاعدة، ليكمل جداول الجمع والطرح ووجد القاعدة المتبعة. نشاط في المنزل: يطلب من المتعلم أن يفسر كيف أتبع القاعدة ليكمل الجدول، وكيف أوجد القاعدة في التمارين السابقة.

