

مراجعة الوحدة الثانية

الدرس

١٠-٢



١ اكتب رمز العدد.

أ

١ وحدة و ٩ عشرات

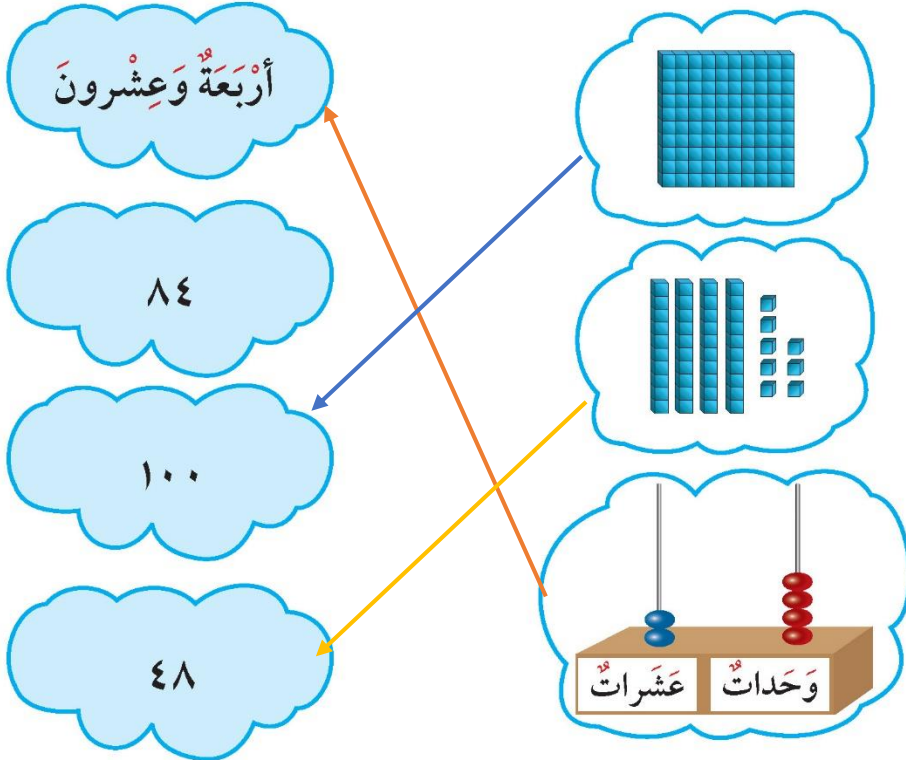
٩١

ب

٥٠ + ٦

٥٦


٢ صل.



٣ حوّل التقدير المناسب لعدد ثمار المانجو المرسومة تقريباً.

أكثر من ٧٠

أقل من ٧٠




٥٠

٤ حوِّط:

أ العَدَدُ الأَكْبَرُ.



ب العَدَدُ الأَصْغَرُ.



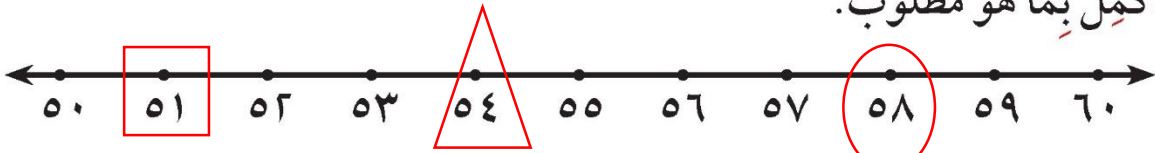
ج العَدَدُ الزَّوْجِيّ.



د العَدَدُ الفَرْدِيّ.



٥ اكْمِلْ بِمَا هُوَ مَطْلُوبٌ.



أ وَضَعْ \triangle عَلَى الْعَدَدِ الَّذِي يَأْتِي مُبَاشَرَةً بَعْدَ الْعَدَدِ ٥٣.

ب وَضَعْ \bigcirc عَلَى الْعَدَدِ الَّذِي يَأْتِي مُبَاشَرَةً قَبْلَ الْعَدَدِ ٥٩.

ج وَضَعْ \square عَلَى الْعَدَدِ الَّذِي يَأْتِي بَيْنَ الْعَدَدَيْنِ ٥٠، ٥٢.

٦ اِخْتَرِ الإِجَابَةَ الصَّحِيحَةَ بَوَضْعِ ✓.

أ القيمة المكانية للرقم ٧ في العدد ٧٣ هي:

٣
☐

٧٠
☒

٧
☐

ب ٥٦ > ____

٣٦
☐

٨٠
☒

٢٥
☐

ج العدد الناقص ليكمل الترتيب: ٧٦ ٧٧ ____ هو:

٧٨
☒

٥٧
☐

٦٩
☐

د العشرة الأقرب إلى العدد ٤٩ هي ____ (إلى أقرب عشرة).



٣٠
☐

٤٠
☐

٥٠
☒