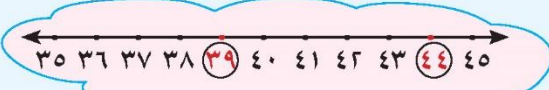
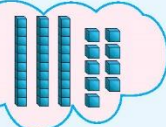
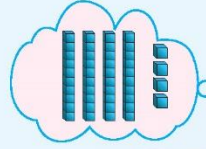




Comparing Numbers

تَعَلَّمْ

أيُّهُمَا أَكْبَرُ: ٣٩ أم ٤٤؟

أَنَا أَفَكِّرُ فِي مَوْقِعِ العَدَدَيْنِ
عَلَى خَطِّ الأَعْدَادِ.أَنَا أَفَكِّرُ فِي
تَمَثِيلِ العَدَدَيْنِ.

العَدَدُ ٣٩ أَصْغَرُ مِنَ العَدَدِ ٤٤.

العَدَدُ ٤٤ أَكْبَرُ مِنَ العَدَدِ ٣٩.

تَمَرِّنْ



٢ حَوِّطِ العَدَدَ الأَصْغَرَ فِي كُلِّ مِمَّا يَلِي:

١٧

٥٢ أ

٨٨

٤٤ ب

١ حَوِّطِ العَدَدَ الأَكْبَرَ فِي كُلِّ مِمَّا يَلِي:

٣٦

٤٣ أ

٧٦

٦ ب

تَعْبِيرُ شَفْهِِي




كَيْفَ تُحَدِّدُ العَدَدَ الأَكْبَرَ وَالْعَدَدَ الأَصْغَرَ؟



٤٠

العدد الأكبر هو العدد الذي أحاده أكبر
العدد الأصغر هو العدد الذي أحاده أصغر




٥ عَشْرَاتٍ



٤ وَحَدَاتٍ وَ

٥٤



٤ عَشْرَاتٍ



٥ وَحَدَاتٍ وَ

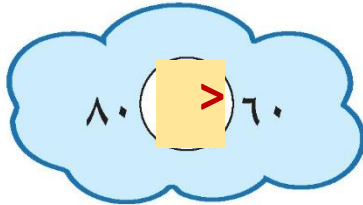
٤٥

>

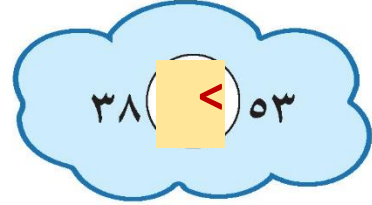
تَمَرَّنْ



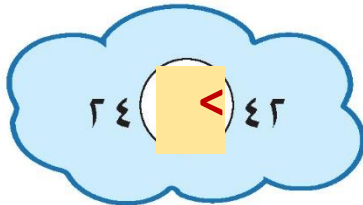
٣ قَارِنْ. ضَعْ رَمَزَ الْعَلَاقَةِ (< أَوْ > أَوْ =). بِإِمْكَانِكَ اسْتَخْدِمْ الْعُنَاصِرَ.



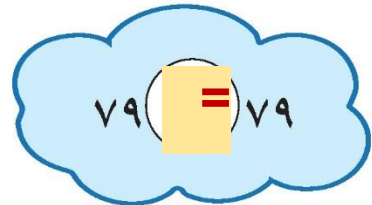
ب



أ



د



ج

٤ اَكْتُبْ رَمَزَ عَدَدَيْنِ، ثُمَّ حَدِّدِ الْعَلَاقَةَ بَيْنَهُمَا مُسْتَخْدِماً > أَوْ < أَوْ =.

٤١

>

١٤

إِلَى الْأَهْلِ: قَارِنْ الْمُتَعَلِّمَ بَيْنَ الْأَعْدَادِ مُسْتَخْدِماً الْقِيَمَةَ الْمَكَانِيَّةَ.

نَشَاطٌ فِي الْمَنْزِلِ: يُطَلَّبُ مِنَ الْمُتَعَلِّمِ أَنْ يَذْكُرَ عَدَدَيْنِ بَيْنَ ١٠ وَ ١٠٠، وَأَنْ يُخْبِرَ أَيُّهُمَا الْأَكْبَرُ وَأَيُّهُمَا الْأَصْغَرُ.

