










مُراجَعَةُ الوَحْدَةِ الأولى




٢ لَوْنُ مَضْرِبِ التَّنْسِ بِـ وَالكُرَاتِ بِـ



٣ من خلال التمثيل البياني بالصُّور، اختر الإجابة الصحيحة بوضع (✓).

الألعاب التي نحبها	
	
	
	
	

كلُّ  يمثل
١ مُتَعَلِّم (مُتَعَلِّمًا وَاحِدًا)


أ ما اللعبة التي يحبها معظم المتعلمين؟



ب كم عدد المتعلمين الذين يحبون؟

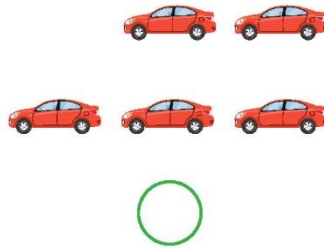
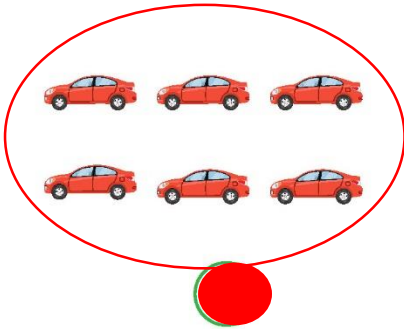
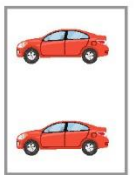
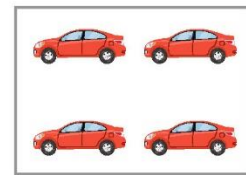
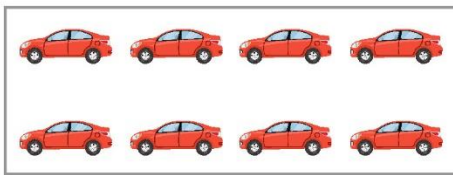


٤ حَوِّطْ لِإِكْمَالِ النَّمَطِ التَّالِي:




٥ اِخْتَرِ الْإِجَابَةَ الصَّحِيحَةَ بَوَضْعِ ✓.

أ الشَّكْلُ الَّذِي يُكْمِلُ النَّمَطَ التَّالِي:



ب العَدَدُ الَّذِي يُكْمِلُ النَّمَطَ:



٦٠

٤٠

٣٠



٢٨