

اِحْكِ قِصَّةَ حَوْلَ مَا تُشَاهِدُهُ فِي الصُّورَةِ. اُكْتُبِ عَدَدَ الْكُلِّ.

عَدَدُ الْكُلِّ

٧

١٠


٦

٨

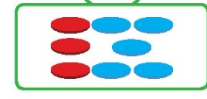
تَمَرِّنْ

أَكْمِلْ.

أ




٠ وَ ٣ يَكُونَانِ ٨



ب



٢ وَ ٣ يَكُونَانِ ٥



٢ لَاحِظْ. أَكْمِلْ.

أ



٧ وَ ٣

$$10 = 3 + 7$$

١٠

ب

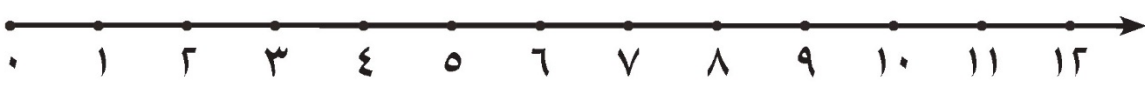


٣ وَ ٣

$$6 = 3 + 3$$

٦

٣ اسْتَخْدِمْ خَطَّ الأَعْدَادِ. اِجْمَعْ.



أ  $7 = 3 + 4$  | ب  $12 = 3 + 9$  | ج  $11 = 3 + 8$

إِلَى الْأَهْلِ: جَمَعَ الْمُتَعَلِّمُ الأَعْدَادَ مِنْ ٠ إِلَى ٩ بِالْعَدَدِ ٣ بِنَاتِجٍ لَا يَزِيدُ عَلَى ١٢.

نَشَاطٌ فِي الْمَنْزِلِ: يُطَلَّبُ مِنَ الْمُتَعَلِّمِ أَنْ يَحْكِيَ قِصَّةً رِیَاضِيَّةً عَنِ الْجَمْعِ بِالْعَدَدِ ٣.

