



عبر عما تشاهده في الصورة.



تمرّن

١ اكمل مُستعينًا بالصورة أعلاه.

					٦	٦


٢ لون ٦ لتكوّن نمطًا مُستخدِمًا لونين فقط.




٣ أكمل.



٤ استكمل رسم العناصر بحسب العدد الموضح رمزه.

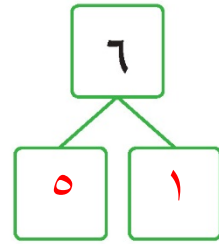
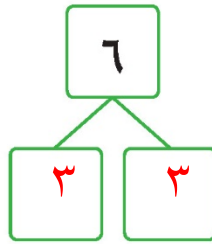
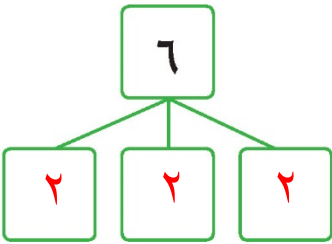


٦



٦

٥ استخدم لايجاد طرق مختلفة لتكوين العدد ٦.



إلى الأهل: تعرّف المتعلم على مفهوم العدد ٦ ورمزه وكوّن العدد ٦.

نشاط في المنزل: يطلب من المتعلم أن يعد مجموعة أشياء مكونة من ٦ عناصر، ويذكر طريقة من طرق تكوين العدد ٦.

