

مراجعة شاملة

الأسم :-.....

الصف :-.....

للفص الرابع الابتدائي

كمية دروس اختبار الوحدة الثالثة :-

دروس كتاب المنهج المساند (الكتاب الأبيض) ص9-

ص 34

السؤال الأول : ضع علامة (✓) أمام العبارة الصحيحة وعلامة (X) أمام العبارة

الخاطئة :

1. تبدأ دورة حياة النبات الزهري بالبادرة ()
2. يستخدم النبات غاز الأكسجين ليصنع السكر ()
3. تتكاثر الحيوانات اللافقارية عن طريق البيض. ()
4. البتلة جزء في الزهرة لونه أخضر ()
5. صغير الفراشة يشبه والديه ()
6. تتكون دورة حياة الجراد من 4 مراحل. ()
7. حيوانات أكلة الأعشاب لها أنياب ومخالب حادة ()
8. مصدر الطاقة في السلسلة الغذائية هو النبات ()
9. تتشكل الحيوانات الفقارية معظم حيوانات المنتشرة في الأنظمة البيئية ()

السؤال الثاني : اختاري الإجابة الصحيحة :

1. جزء في النبات يثبت النبات بالتربة ويمتص الماء و المعادن :
الأوراق ☐ الزهرة ☐ الساق ☐ الجذور ☐
2. صغير الضفدع يسمى :
يرقة ☐ خادرة ☐ شرغوف ☐ حورية ☐
3. كائنات منتجة هي :
البومة ☐ النباتات الخضراء ☐ الخروف ☐ جربوع ☐
4. من الحيوانات اللافقارية :
الخطبوط ☐ القطة ☐ الصقر ☐ السمك ☐
5. جزء في النبات يساعد على التكاثر وإنتاج البذور :
الساق ☐ الجذور ☐ الزهرة ☐ الأوراق ☐

السؤال الثالث : اجيبي عما يلي :

أهمية الساق بالنسبة للنبات ؟

لماذا تبدأ السلسلة الغذائية بكائن منتج ؟

أعطي مثالا لسلسلة غذائية؟!

ما الأشياء التي يحتاجها النبات لكي ينمو ويعيش

هل ممكن للبذرة أن تنبت من غير ضوء الشمس ؟ وضحى إجابتك؟

يصنف كل من الدلفين والحويت ضمن الحيوانات اللبونة على الرغم من أنهما يعيشان في الماء ... اشرحي العبارة السابقة

النمل من ضمن مجموعة الحيوانات اللافقارية اشرحي العبارة السابقة

أكتبي الخصائص العامة للحشرات ؟

ما الأشياء التي تميز الحيوانات المفترسة عن الحيوانات أكلة الاعشاب ؟

ما سبب عدم نمو أشجار الصنوبر في صحراء الكويت ؟

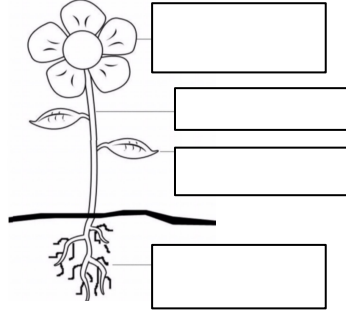
السؤال الرابع :- اكتبي المصطلح العلمي :

1. كائن حي يأكل مما **ينتج** (.....)
2. كائن حي يأكل ولا **ينتج** (.....)
3. الطريقة التي ينتقل بها الطعام من كائن حي إلى آخر (.....)
4. حيوان صغير تشبه الحشرة المكتملة ولكن من غير أجنحة (.....)
5. الحيوانات الوحيدة التي تتكاثر بالولادة وترضع صغارها اللبن (.....)

السؤال الخامس قارني بين الحيوانات الفقارية من حيث غطاء الجسم والتكاثر :

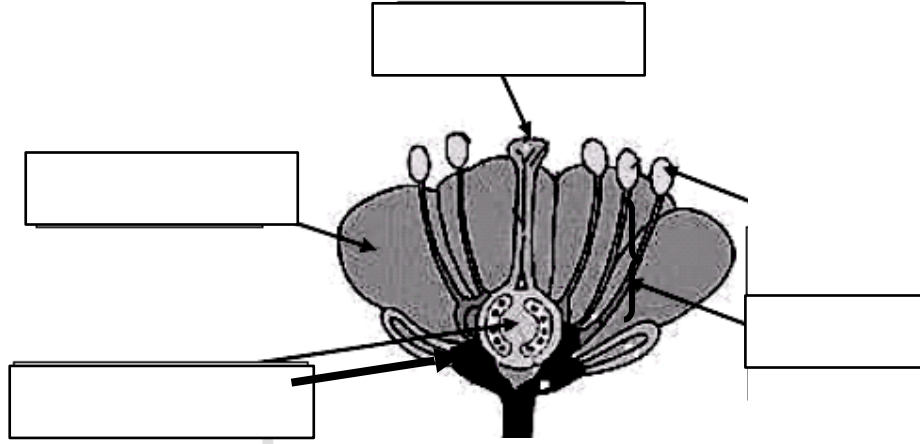
الطيور	الثدييات	الأسماك	
			غطاء الجسم
			التكاثر

السؤال السادس :- ضعبي البيانات على رسم أجزاء النبات واكتبي كل جزء ووظيفته :




1. وظيفة جزء رقم (1)
2. وظيفة جزء رقم (2)
3. وظيفة جزء رقم (3)
4. وظيفة جزء رقم (4)

السؤال السابع :- ضعبي البيانات على رسم أجزاء الزهرة :



يمثل دورة حياة
عدد المراحل



* دورة حياة الفراشة
عدد المراحل

1. البيضة



-4

3- الخادرة

1. رتبي مراحل دورة حياة حيوان لبون 4 مراحل :

رضيع يعتمد في غذائه على أمة	جنين	حيوان مكتمل النمو	صغير يحصل على غذائه
()	()	()	()

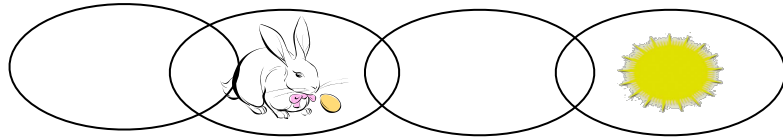
2. رتبي مراحل دورة حياة الضفدع 4 مراحل :

شرغوف أبو ذنبيه صغير	بيض	ضفدع مكتمل النمو	شرغوف أبو ذنبيه كبير
()	()	()	()

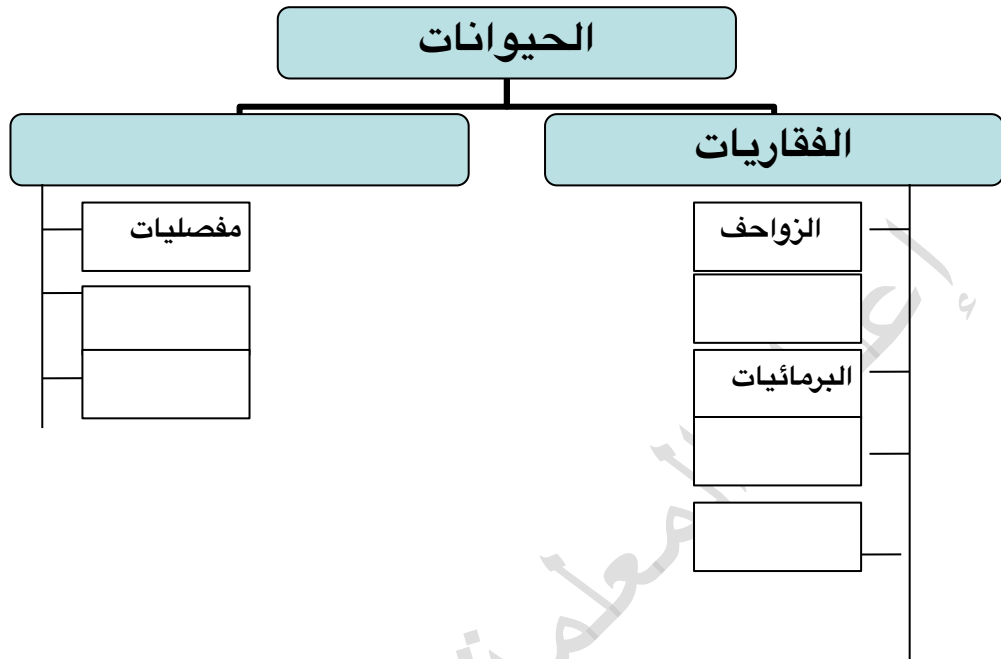
- صلي النبات المزهر بالبيئة التي يعيش فيها:

النبات المزهرة	البيئة المعيشية
النخل	المحميات
الذرة	الصحاري
الفراولة	الحقول و المزارع

- اكمل بيانات السلسلة الغذائية التالية ؟!



أكملي المخطط السهمي التالي :-



انتهت الأسئلة
مع تمنياتي لكن بالتوفيق

مديرة المدرسة:-
أفراح الدريعي

رئيسة القسم:-
نورة الظفيري

إعداد المعلمة:-
فجر السعيد