





## السؤال الأول ( الموضوعي ) ويتكون من ( أ - ب - ج - د - هـ - و - ز ) :

أ) اختر البديل المناسب من بين البدائل التي تلي كل عبارة وضع تحته خط :- : (درجة لكل إجابة = ٥)

١- الجهة التي تقع فيها منطقة الخليج العربية بالنسبة لقارة آسيا هي :

أ- الشمالية الشرقية      ب- الشمالية الغربية      ج- الجنوبية الشرقية      د- الجنوبية الغربية ص ١٩

٢- الدولة الخليجية التي قامت على أرضها حضارة دلمون تسمى :

أ- الإمارات      ب- قطر      ج- البحرين      د- عمان ص ٤٨

٣- العام الذي تم فيه انطلاق السوق الخليجي المشترك هو :

أ- ٢٠٠٧ م      ب- ٢٠٠٨ م      ج- ٢٠٠٩ م      د- ٢٠١٠ م ص ٧٧

٤- القمة السابعة والعشرين لمجلس التعاون لدول الخليج العربية اطلق عليها اسم الشيخ : ص ٧٤

أ- صباح السالم الصباح      ب- جابر الأحمد الصباح      ج- سعد العبدالله الصباح      د- صباح الأحمد الصباح

٥- الاسم الذي يطلق على الصبية الذين يعملون على ظهر السفينة لاكتساب الخبرة : ص ٣٢

أ- التباية      ب- الطواويش      ج- الغواصين      د- النواخذة

ب) صنف أسماء النباتات الطبيعية التالية حسب مكانها المناسب في الجدول :- : ( درجة لكل إجابة = ٤ )

( الخبيزة - الصبار - العرفج - الحويذان ) ص ٢٦

النباتات الحولية	النباتات المعمرة
الخبيزة	الصبار
الحويذان	العرفج

ج) اكتب العنوان المناسب اسفل كل صورة لكل مما يلي : ( درجة لكل إجابة = ٣ )

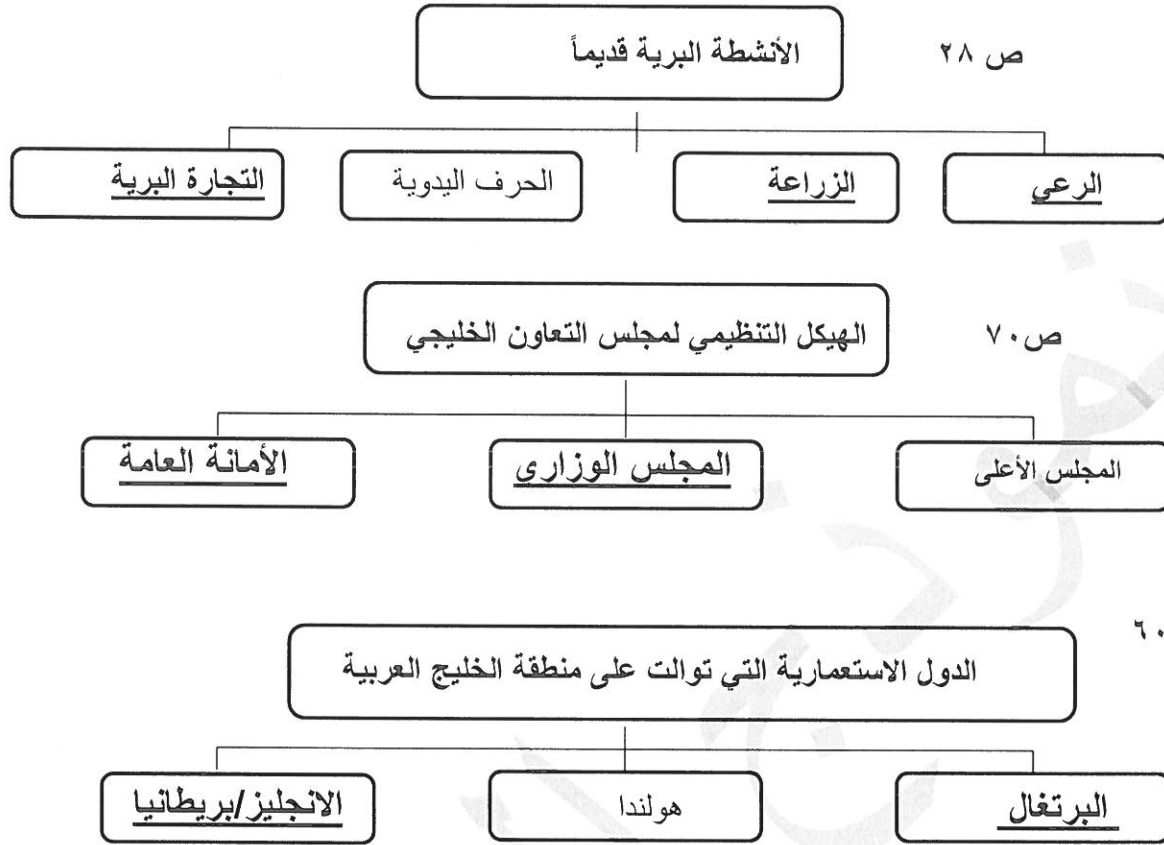
( خياطة البشوت - سفينة البغلة - صناعة الخوص )

		
- البغلة ص ٣٣	- صناعة الخوص ص ٢٩	- خياطة البشوت ص ٢٩

د) أكمل العبارات التالية بما يناسبها مما درست : ( درجة لكل إجابة = ٧ )

- ١- الموقع بالنسبة لخطوط الطول ودوائر العرض يعرف باسم ....الموقع الفلكي... ص ٢٠
- ٢- الدولة الخليجية التي يقع فيها الجبل الأخضر تسمى...عمان ..... ص ٢٣
- ٣- يطلق على ربان السفينة في الكويت قديماً اسم ...النوخذة... ص ٣٢
- ٤- الدولة الخليجية العربية الوحيدة التي لم تتعرض للاستعمار تسمى...المملكة العربية السعودية... ص ٦٥
- ٥- المدينة التي اتخذت مقراً دائماً لمنظمة مجلس التعاون الخليجي تسمى ...الرياض... ص ٧٠
- ٦- عرف الخليج العربي قديماً باسم..البحر الأدنى / بحر شروق الشمس.. ص ٤٧
- ٧- العام الذي أعلن فيه قيام مجلس التعاون لدول الخليج العربية هو ...١٩٨١م .. ص ٧٠

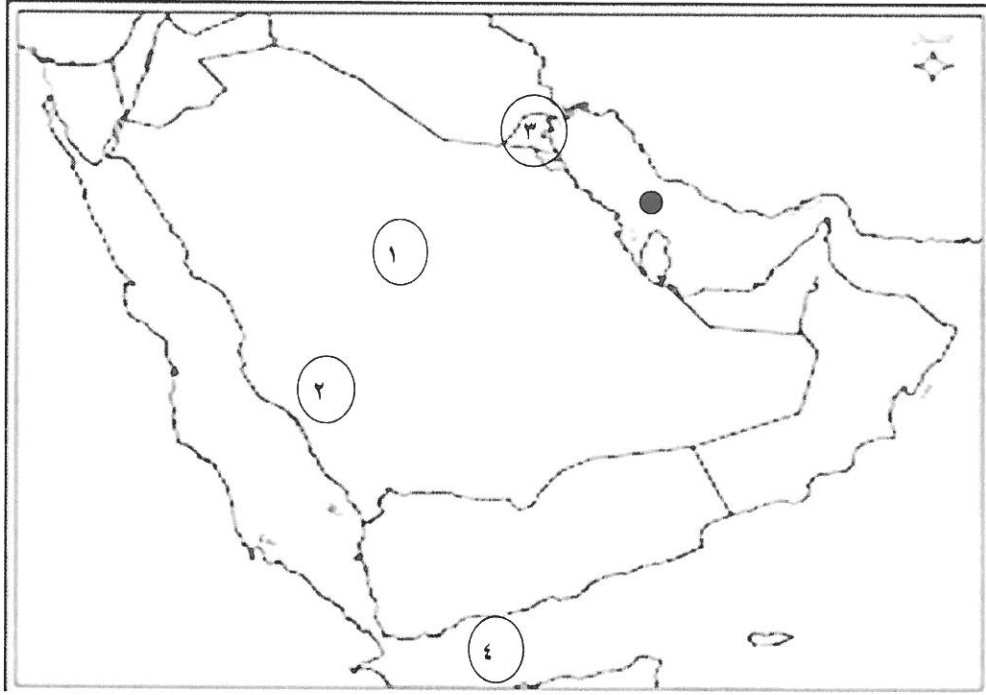
**هـ) أكمل المخططات السهمية التالية : ( درجة لكل إجابة = ٧ )**



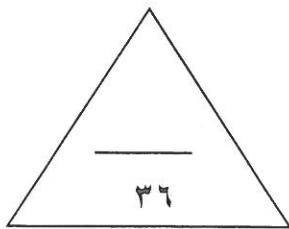
**و- أكتب المفهوم أو المصطلح الدال على العبارات التالية : ( درجة لكل إجابة = ٥ )**

المفهوم	التعريف
١-الخليج العربي ص ١٩	ذراع مائي لبحر العرب يمتد من خليج عمان جنوباً حتى شط العرب شمالاً .
٢-الفواص ص ٣٢	الشخص الذي يغوص في أعماق البحر بحثاً عن اللؤلؤ .
٣-الواحه ص ٢٩	منطقة تقع في الصحراء بها مياه عذبة صالحة للزراعة .
٤- نبات حولي ص ٢٦	نباتات يرتبط وجودها بموسم سقوط المطر .
٥-الاستقلال ص ٦٣	تحرر الدولة من المستعمر الأجنبي وقيامها بمسؤولية إدارة شؤونها الداخلية والخارجية

ز) لاحظ خريطة دول الخليج العربية ثم أجب عن الأسئلة التي تليها : (درجة لكل إجابة = ٥)



- هضبة نجد يمثلها على الخريطة الرقم ١
- جبال عسير يمثلها على الخريطة الرقم ٢
- الدولة الخليجية التي ظهرت بها الحضارة الهلنستية يمثلها على الخريطة الرقم ٣
- خليج عدن يمثلها على الخريطة الرقم ٤
- الشكل ( ● ) على الخريطة يرمز إلى مسطح مائي اسمه الخليج العربي



## السؤال الثاني : يتكون من : [ أ ، ب ]

أ) علل لما يلي: ( أذكر السبب ) : ( درجة لكل إجابة = ٣ )

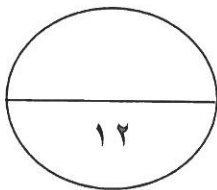
- ١- انصرف سكان منطقة الخليج العربية عن حرفة الغوص على اللؤلؤ . ص ٣١ (يكتفى بنقطتين)
  - ظهور اللؤلؤ الصناعي
  - اكتشاف النفط
- ٢- أهمية الموقع الجغرافي لمنطقة الخليج العربية . ص ١٩ (يكتفى بنقطة واحدة)
  - تقع وسط العالم
  - تتحكم بأهم طرق التجارة العالمية

ب) عرف المفاهيم والمصطلحات التالية : ( درجة لكل إجابة = ٣ )

- ١-الموقع النسبي : الموقع بالنسبة للماء واليابس. ص ٢٠
- ٢- المناخ : حالة الجو في مكان ما خلال فترات زمنية طويلة . ص ٢٥
- ٣- الاستعمار : هو أن تسيطر دولة قوية على دولة ضعيفة بهدف استغلال موقعها ومواردها (خيراتها) ص ٦١

السؤال الثالث : عدد لكل مما يلي : (درجة لكل إجابة = ٦)

- ١-وسائل صيد الأسماك قديما . ص ٣١ (يكتفى بنقطتين)
  - الميدار - الحضرة - القرقور.
- ٢-أشكال سطح الأرض ( التضاريس). ص ٢٣ (يكتفى بنقطتين)
  - الجبال - الهضاب - السهول - التلال - الأودية .
- ٣-الصفات المشتركة بين دول الخليج العربية . ص ٧٠ (يكتفى بنقطتين)
  - وحدة التراث -الانتماء - الدين - اللغة - المصالح المشتركة .



**السؤال الثالث : ويتكون من ( أ - ب )**

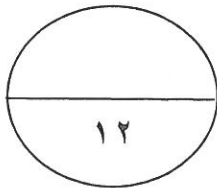
**أ) قارن بين (معاهدة الحماية والاستقلال) لدولة الكويت مع بريطانيا حسب الجدول التالي :**

**(درجة لكل إجابة = ٤)**

أوجه المقارنة	معاهدة الحماية	معاهدة الاستقلال
العام	١٨٩٩ م ص ٦٢	١٩٦١ م ص ٦٣
اسم الحاكم	الشيخ مبارك الصباح	الشيخ عبدالله السالم الصباح

**ب) اكتب فيما يلي مما درست : (درجة لكل إجابة = ٦)**

- ١- أنواع الرياح التي تهب على منطقة الخليج العربية . ص ٢٥ (يكتفى بنقطتين)
  - الرياح الشمالية
  - الرياح الجنوبية الشرقية / الكوس
  - الزوابع / العواصف الترابية.
- ٢- أهم الأنشطة البحرية في منطقة الخليج العربية قديماً . ص ٣١ - ص ٣٣ ص ٣٤ (يكتفى بنقطتين)
  - صيد الأسماك - الغوص على اللؤلؤ - صناعة السفن - التجارة البحرية .
- ٣- أهداف مجلس التعاون لدول الخليج العربية . ص ٧٦ (يكتفى بنقطتين)
  - تحقيق التعاون بين الدول الأعضاء في جميع المجالات.
  - تحقيق الترابط والصلات بين دول مجلس التعاون.
  - العمل على تقدم دول مجلس التعاون في المجال العلمي.
- ٤- تعتبر سفينة البغلة من أفضل أنواع السفن المستعملة في السفر قديماً في منطقة الخليج العربية. ص ٣٤
  - لمتانتها - قدرتها على نقل الحمولة الكبيرة
  - تمتاز بقلّة تعرضها للأخطار البحرية



انتهت الأسئلة