

منطقة العاصمة التعليمية

# الاجابة النموذجية



وزارة التربية

الإدارة العامة لمنطقة العاصمة التعليمية  
التوجيه الفني للاجتماعيات

العام الدراسي : ٢٠٢٣ / ٢٠٢٤ م  
الزمن : ( ساعة وخمس وأربعون دقيقة )  
عدد الأوراق : ( ٦ )

( نموذج الإجابة )

امتحان نهاية الفترة الدراسية الأولى  
لمقرر الكويت والعالم - للصف التاسع

**السؤال الأول ( موضوعي ) يتكون من ( أ - ب - ج - د - هـ ) :**

**( أ ) أكمل العبارات التالية بما يناسبها فيما درست :**

- ١- منظمة الدول المصدرة للنفط تسمى الأوبك ص ١٠٢
- ٢- الغاز الرئيسي المسبب للاحتباس الحراري الميثان وغاز يسمى ثاني أكسيد الكربون ص ٨٠
- ٣- خط الأساس لخطوط الطول يسمى جرينتش ص ١٨
- ٤- وحدة قياس ضغط الصوت تسمى الديسيبل ص ٦٩
- ٥- أحد أنواع التلوث من أضراره الشعور بالإرهاق والتعب وعدم القدرة على بذل مجهود كبير يسمى تلوث الهواء ص ٦٣
- ٦- كل مرتفع من الأرض وله قمة لا يقل ارتفاعها عن ١٠٠٠ متر يسمى الجبال ص ٢٤
- ٧- منظمة الأمم المتحدة للتربية والعلوم والثقافة تسمى اليونسكو ص ١٠٦

**( ب ) صوب ما تحته خط في العبارات التالية :**

م	العبارة	التصويب
١	الاعتناء بالحيوانات الداجنة وتوليدها يسمى <u>الجمع والالتقاط</u> .	استئناس الحيوانات ص ٤٦
٢	تبلغ نسبة الهضاب من مساحة القارات <u>٣٥٪</u> .	٣٣٪ ص ٢٤
٣	أول رياضي عربي تسلق قمة إفريست اسمه <u>عبدالرحمن السميح</u> .	زيد السيد الرفاعي ص ٢٥
٤	كافة التفاعلات الدولية وحركات الشعوب وتبادل السلع والأفكار تسمى <u>السياسة الدولية</u> .	العلاقات الدولية ص ٩١
٥	تقع دولة الكويت بالنسبة للخليج العربي في جهة <u>الجنوب الغربي</u> .	الشمال الغربي ص ٢٠
٦	العلاقة بين أضلاع مثلث الحياة (الإنسان - البيئة - الموارد الطبيعية) علاقة <u>عكسية</u> .	تبادلية / اعتمادية ص ١٥
٧	المرحلة التي بدأ فيها الإنسان باستخدام قدراته الخلقية والعقلية في دراسة حركات الحيوانات اليومية والموسمية تسمى <u>التصنيع</u> .	الصيد والقنص ص ٤٦



## تابع السؤال الأول ( موضوعي ) :

( ج ) ضع خطأ تحت الخيار الصحيح من بين الخيارات التي تلي كل عبارة : (  $٧ \times ١ = ٧$  درجات )

١- الأقاليم المناخية الواقعة بين دائرتي عرض  $٣٠^\circ$  -  $٤٠^\circ$  شمالاً وجنوباً : ص ٢٧

الحارة	المعتدلة الباردة	<u>المعتدلة الدفينة</u>	الباردة
--------	------------------	-------------------------	---------

٢- مصدر من المصادر الميكانيكية لتلوث التربة : ص ٦٧

<u>الرعي الجائر</u>	المبيدات الحشرية	آفات زراعية	الأسمدة الكيماوية
---------------------	------------------	-------------	-------------------

٣- إرسال حكومة الكويت لرسائل التهئة والتعزية للدول المختلفة شكل من أشكال العلاقات : ص ١٠٤

السياسية	<u>الاجتماعية</u>	الاقتصادية	الثقافية
----------	-------------------	------------	----------

٤- أحد المشكلات التي تواجهها الدول المتقدمة : ص ٩٧

البطالة	عدم توفر رأس المال	ندرة الموارد النفطية	<u>قلة الأيدي العاملة</u>
---------	--------------------	----------------------	---------------------------

٥- أحد مصادر المياه التقليدية : ص ٧٧

تحلية مياه البحر	الأمطار الصناعية	<u>المياه الجوفية</u>	معالجة مياه الصرف
------------------	------------------	-----------------------	-------------------

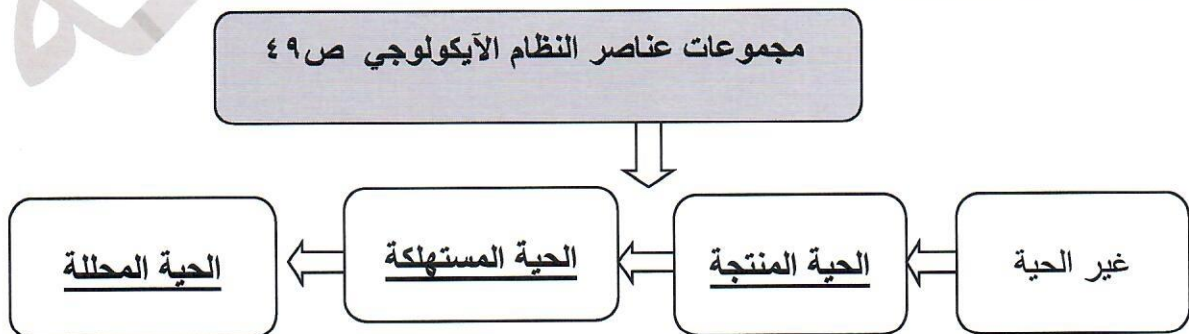
٦- مساعدات تتمثل في تقديم الدعم المباشر للمشروعات الوطنية بالاستعانة بالجهات الخارجية من أجل تطوير وتحسين خدمات الدولة : ص ١٠٥

<u>فنية</u>	طارئة	اقتصادية	مالية
-------------	-------	----------	-------

٧- عقد المؤتمر الدولي للأرض في مدينة ( ريودي جانيرو ) في البرازيل عام : ص ٨١

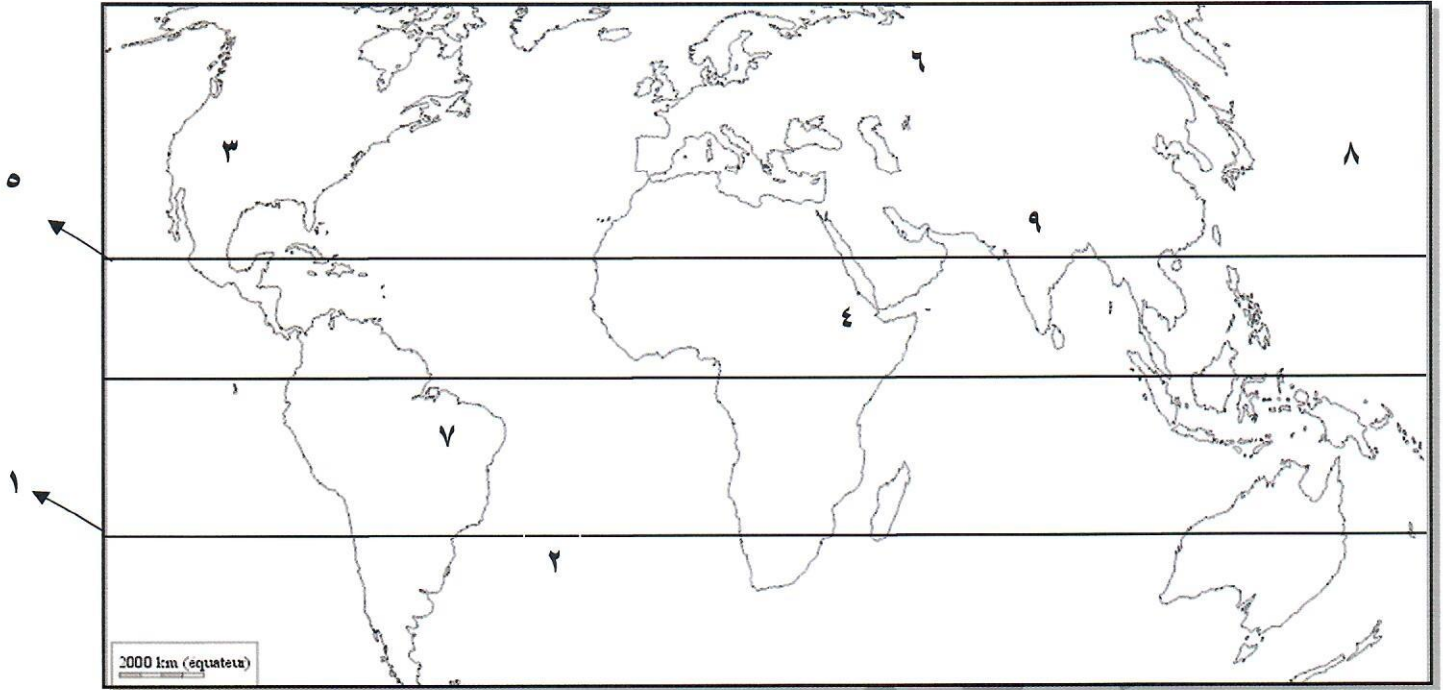
١٩٩١م	<u>١٩٩٢م</u>	١٩٩٣م	١٩٩٤م
-------	--------------	-------	-------

( د ) أكمل المخطط السهمي التالي : (  $٣ \times ١ = ٣$  درجات )

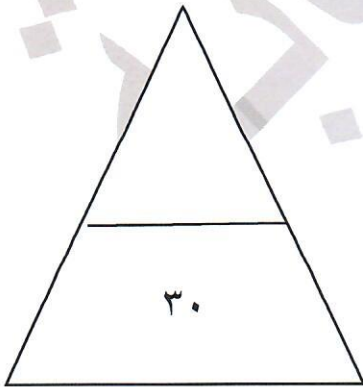


**تابع السؤال الأول ( موضوعي ) :**

**( هـ ) أمامك خريطة العالم الصماء اكتب مدلولات الأرقام الدالة على العبارات التالية : ( ٦ × ١ = ٦ درجات )**



- سهول سيبيريا تحمل الرقم ( ٦ ) ص ٢٥
- مدار الجدي يحمل الرقم ( ١ ) ص ١٩
- هضبة أثيوبيا تحمل الرقم ( ٤ ) ص ٢٥
- المحيط الأطلنطي يحمل الرقم ( ٢ ) ص ٢٠
- جبال الهملايا تحمل الرقم ( ٩ ) ص ٢٥
- جبال الروكي تحمل الرقم ( ٣ ) ص ٢٥



مجموع درجات السؤال الأول بالحروف : .....



## السؤال الثاني (مقالى) يتكون من ( أ - ب - ج ) :

( أ ) عرف ما يلى : ( درجتان لكل نقطة درجة )

١- الاقتصاد البيئي : التوزيع الأمثل للموارد الطبيعية التي توفرها البيئة لعملية التنمية المستدامة . ص ٤٣

٢- التضاريس : الملامح الرئيسية لشكل سطح الأرض من مرتفعات ومنخفضات وأودية وسهول . ص ٢٣

( ب ) فرق بين كل مما يلى :

مفهوم البيئة الحضرية المتقدمة ص ٤٤	مفهوم البيئة النامية حضارياً ص ٤٤
يملك فيها الإنسان قدرات علمية وتكنولوجية كبيرة تمكنه من استغلال مواردها حسب رغباته . ( درجة )	يكون فيها الإنسان صاحب قدرات علمية محدودة لا تمكنه من استغلال موارد البيئة . ( درجة )
أسباب الاحتباس الحراري الطبيعية ص ٨٠	أسباب الاحتباس الحراري غير طبيعية (البشرية) ص ٨٠
- التغيرات التي تحدث لمدار الأرض حول الشمس وما ينتج عنها من تغير في كمية الإشعاع الشمسي الذي يصل إلى الأرض . - الانفجارات البركانية - التغير في نسب مكونات الغلاف الجوي . ( درجة - ويكتفى بنقطة )	- إزالة الغابات بمساحات كبيرة . - استعمال الوقود الأحفوري ( نفط ، فحم ، غاز ) ساهم في زيادة تركيز غاز ثاني أكسيد الكربون في الجو ، ونجم عنه زيادة درجة حرارة الجو . ( درجة - ويكتفى بنقطة )

( ج ) أجب عما يلى :

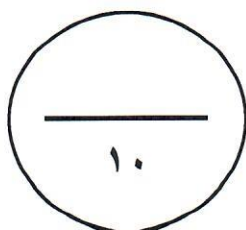
١- دلل على صحة العبارة : (للتلوث الضوضائي أضرار عديدة) . ص ٧٠ ( درجتان لكل نقطة درجة - يكتفى بنقطتين )

- ضعف السمع .
- الإصابة بالصمم .
- ارتفاع ضغط الدم .
- الشعور بالصداع والطنين في الأذن .

٢- علل - نشأة الحركة التجارية الدولية . ص ٩٩ ( درجتان لكل نقطة درجة - يكتفى بنقطتين )

- حاجة الدول المنتجة إلى أسواق لتصريف منتجاتها ليعود بالنفع عليها وعلي سكانها.
- حاجة الدول المستهلكة لاستيراد السلع والخدمات وموارد الخام التي لا تتوفر في أرضها .

مجموع درجات السؤال الثاني بالحروف : .....



### السؤال الثالث ( مقال ) ويتكون من ( أ - ب - ج ) :

( أ ) اقرأ الفقرة التالية ثم أجب عما يليها من أسئلة : ص ٧٢

" تُعد مشكلة التصحر من الظواهر المهمة ، وأصبحت آثارها السلبية لا تقتصر على منطقة محددة ، دائماً تشكل مساحة كبيرة وفي معظم القارات ولا سيما في قارة أفريقيا مما أدى إلى قلة إنتاج المحاصيل ، والذي ينعكس على تغذية الإنسان والحيوان فالتصحر هو تناقص في قدرة الإنتاج البيولوجي للأرض أو تدهور خصوبة الأراضي المنتجة ، وله عدة أسباب منها الطبيعية كقلة الأمطار وتعرية التربة وزحف الكثبان الرملية وأخرى بشرية كالرعي الجائر والري غير المتقن " .

١- عرف ما تحته خط . ( درجة - ويكتفى بنقطة ) ص ٧٢

التصحر : هو تناقص في قدرة الإنتاج البيولوجي للأرض / أو تدهور خصوبة الأراضي المنتجة بالمعدل الذي يكسبها ظروف تشبه الأحوال المناخية الصحراوية .

٢- استخرج من الفقرة الأسباب الطبيعية لمشكلة التصحر. ( درجتان - لكل نقطة درجة - يكتفى بنقطتين ) ص ٧٢



- قلة الأمطار .

- ارتفاع نسبة التبخر .

- زحف الكثبان الرملية .

- تعرية التربة .

٣- أمامك خريطة دولة الكويت الصماء ، حدد عليها المحميات الطبيعية

في دولة الكويت باستخدام الرمز ++++ ص ٧٤

( تحديد واحد للمحمية يحسب للمتعلم - درجة )

### (ب) اذكر نقطتين لكل مما يلي :

١- أدوات تنفيذ السياسة الخارجية . ص ٩٥

- الدبلوماسية .

- استخدام القوة السياسية .

- استخدام وسائل الإعلام في شرح وجهة نظر الدولة وسياساتها .

- المعونات الخارجية / المقاطعة الاقتصادية .

- توقيع المعاهدات والاتفاقيات .

٢- أسباب ندرة المياه بدول مجلس التعاون الخليجية . ص ٧٨ ( درجتان - لكل نقطة درجة )

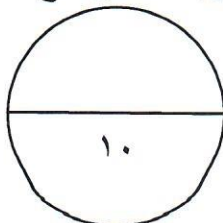
- النمو السكاني / التوسع العمراني والتنموي / الموقع الجغرافي ذو المناخ الصحراوي / عدم وجود أنهار دائمة .

- قلة سقوط الأمطار / ارتفاع نسبة الملوحة بالمياه الجوفية .

( ج ) عرف ما يلي : ( درجتان - لكل تعريف درجة )

١- نظام GPS : نظام تحديد المواقع العالمي مبني على الأقمار الصناعية . ص ١٠٠

٢- البيئة : الإطار الذي يعيش فيه الإنسان ويحصل فيه على مقومات حياته ويتفاعل فيها مع عناصر البيئة الأخرى . ص ١٥



مجموع درجات السؤال الثالث بالحروف .....



## السؤال الرابع ( مقال ) ويتكون من ( أ - ب - ج ) :

### ( أ ) دلل على صحة العبارات التالية :

- ١- السهول أفضل مناطق للاستقرار البشري . ص ٢٤  
- تعتبر موانئ طبيعية / سهولة بناء المساكن عليها / تركيز السكان فيها لسهولة التنقل .
- ٢- التربة هي الأساس للمستقبل المستدام لكوكب الأرض. ص ٦٨  
- التربة الصحية هي مصدر غذاء العالم .  
- التربة مثل النفط أو الغاز الطبيعي من الموارد المحدودة .  
- الاستثمار في الإدارة المستدامة للتربة يحقق بعداً اقتصادياً وبيئياً .

تم التحميل من شبكة ياكويت التعليمية

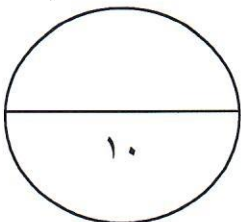
### ( ب ) عدد المطلوب لكل مما يلي :

- ١- عناصر المناخ . ص ٢٧ ( درجتان - لكل نقطة درجة - ويكتفى بنقطتين )  
- الرياح .  
- درجة الحرارة .  
- الرطوبة .  
- الضغط الجوي .  
- الأمطار .
- ٢- العوامل المؤثرة على العلاقات السياسية بين الدول . ص ٩٤ ( درجتان - لكل نقطة درجة - ويكتفى بنقطتين )  
- العوامل الجغرافية . / - العوامل الداخلية .  
- العوامل الخارجية . / - العوامل البيئية .  
- العوامل الصناعية . / - العوامل الاقتصادية . / - العوامل العسكرية .

### ( ج ) فرق بين كل مما يلي من حيث ( التعريف ) :

ندرة المياه المادية ص ٧٦	ندرة المياه المعنوية ص ٧٦
تتمثل في عجز الموارد عن تلبية كمية الطلبات للسكان .	تتمثل في امتلاك البلد للموارد المائية التي تلبي جميع الاحتياجات ولكن تقع أمام إشكالية الإدارة .
( درجة )	( درجة )
الموقع الفلكي ص ١٨	الموقع النسبي ص ٢٠
موقع الدولة بالنسبة لخطوط الطول ودوائر العرض .	موقع الدولة بالنسبة لليابس والماء .
( درجة )	( درجة )

مجموع درجات السؤال الرابع بالحروف .....



انتهت الأسئلة