



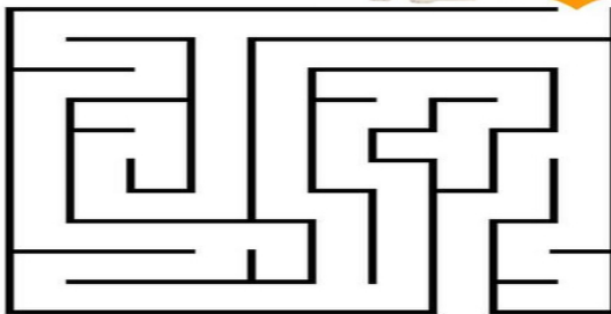
مراجعة للصف الثاني الابتدائي في مادة العلوم للاختبار (٣)
العام الدراسي ٢٠٢٣ / ٢٠٢٤ م

الكفاية العامة: البحث عن الظواهر والطرق والتغيير في الكائنات الحية والأشياء غير الحية باستخدام الأدوات المناسبة والنماذج والمحاكاة والعروض .

الكفاية الخاصة: التمييز بين الحيوانات من خلال تصنيفها بناء على طريقة الحركة ونوع التكاثر ونوع الغذاء ووجود الهيكل العظمي أو جميع الطرق السابقة .

عنوان الدرس: ماذا تأكل الحيوانات؟

السؤال الأول: صل الحيوان مع غذائه:



السؤال الثاني: لاحظ ثم ارسم:

أكمل الناقص برسم نوع الغذاء في الجدول.

السؤال الثالث: صل بين كل حيوان والطعام الذي يأكله :



الكفاية العامة: البحث عن الظواهر والطرق والتغيير في الكائنات الحية والأشياء غير الحية باستخدام الأدوات المناسبة والنماذج والمحاكاة والعروض .

الكفاية الخاصة: التمييز بين الحيوانات من خلال تصنيفها بناء على طريقة الحركة ونوع التكاثر ونوع الغذاء ووجود الهيكل العظمي أو جميع الطرق السابقة .

عنوان الدرس: كيف تتكاثر الحيوانات ؟


السؤال الأول: ضع علامة v أمام العبارة الصحيحة و علامة x امام العبارة الغير صحيحة:

-تتكاثر القطة بالبويض. ()


-تتكاثر الحيوانات بالولادة والبويض. ()

-تتكاثر الطيور بالبويض. ()

السؤال الثاني: صل الحيوان بصغيره :



السؤال الثالث: ضع علامة v أمام الحيوانات التي تبيض :



السؤال الرابع: اكتب طريقة تكاثر الحيوانات أسفل الصورة :

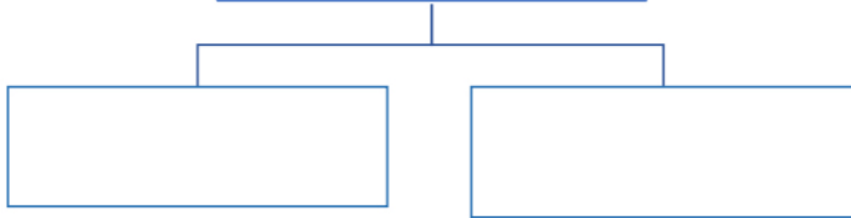


السؤال الخامس: حوِّط على الخطأ في الصورة:



السؤال السادس: أكمل المخطط السهمي:

تكاثر الحيوانات



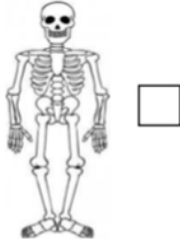
الكفاية العامة: البحث عن الظواهر والطرق والتغيير في الكائنات الحية والأشياء غير الحية باستخدام الأدوات المناسبة والنماذج والمحاكاة والعروض .

الكفاية الخاصة: التمييز بين الحيوانات من خلال تصنيفها بناء على طريقة الحركة ونوع التكاثر ونوع الغذاء ووجود الهيكل العظمي أو جميع الطرق السابقة .

عنوان الدرس: ما وظيفة العظام؟

السؤال الأول: اختر الإجابة الصحيحة علمياً لكل من العبارات التالية بوضع علامة ✓

- أحد الصور التالية يمثل الهيكل العظمي للإنسان:

☐☐☐☐

- مشروب الذي يقوي عظامنا:

☐☐☐☐

السؤال الثاني: توضح الصورة التالية الى :

.....













السؤال الثالث: عبر باستخدام الوجه المناسب:



الكفاية الخاصة: التمييز بين الحيوانات من خلال تصنيفها بناء على طريقة الحركة ونوع التكاثر ونوع الغذاء ووجود الهيكل العظمي أو جميع الطرق السابقة .

السؤال الأول: اختر الكلمة بين القوسين وضعها في الفراغ المناسب: (لها عظام - ليس لها عظام)

<p>.....</p>		<p>.....</p>	
			
			

ليس لها عظام	لها عظام	مثال
		
		

لها عظام

ليس لها عظام



الكفاية العامة: البحث عن الظواهر والطرق والتغيير في الكائنات الحية والأشياء غير الحية باستخدام الأدوات المناسبة والنماذج والمحاكاة والعروض .


الكفاية الخاصة: التمييز بين الحيوانات من خلال تصنيفها بناء على طريقة الحركة ونوع التكاثر ونوع الغذاء ووجود الهيكل العظمي أو جميع الطرق السابقة .

عنوان الدرس : ما السلسلة الغذائية ؟

السؤال الأول: رتب السلسلة الغذائية أسفل المربع:

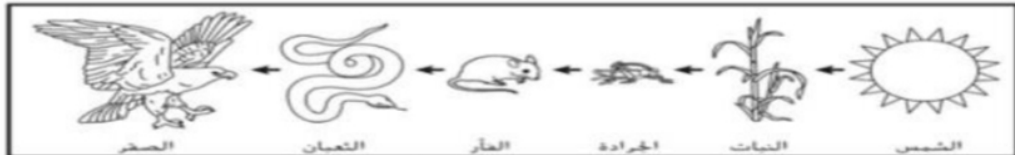


السؤال الثاني: أكمل السلسلة الغذائية:



السؤال الثالث: أختار الإجابة الصحيحة:

-ماذا يأكل الثعبان في السلسلة الغذائية التالية:-



النبات ☐

الصقر ☐

الجرادة ☐

الفأر ☐

