

8

مدرسة التميز النموذجية
(ابتدائي - متوسط - ثانوي)

بنك الأسئلة

الاجتماعيات
الصف الثامن



2024 / 2023

الفصل الدراسي الأول



الإجتماعيات

**السؤال الأول : صحح ما تحته خط بكتابة الاجابة الصحيحة بين القوسين فيما يلي :**

- (١) القصر الذي يعتبر نموذجاً مميزاً للعمارة الإسلامية ويقع في الأندلس قصر الرصافة (.....)
- (٢) العالم المسلم الذي يرجع له الفضل في تطوير فكرة الكاميرا هو البيروني (.....)
- (٣) العالم المسلم الذي ألف كتاب الحيوان هو البكري (.....)
- (٤) صاحب كتاب نزهة المشتاق في اختراق الآفاق هو الكندي (.....)
- (٥) تقع الهضبة الإيرانية في دولة ألبانيا (.....)
- (٦) من أشهر السهول في دولة الكويت سهل الروضتين والبقاع (.....)
- (٧) الدولة التي تحتل المركز الأول في إنتاج الذهب هي السودان (.....)
- (٨) نسبة العاملين بالزراعة من سكان العالم الاسلامي حوالي ٨٠ % (.....)
- (٩) الدولة الاسلامية التي تحتل المركز الثاني عالمياً في الإنتاج البحري هي تركيا (.....)
- (١٠) أشهر مؤلفات البيروني كتاب الحاوي (.....)
- (١١) يبلغ إجمالي احتياط النفط الخام في دول العالم الاسلامي حوالي ٥٩ % (.....)

السؤال الثاني : أكمل العبارات التالية بما يناسبها مما درست :

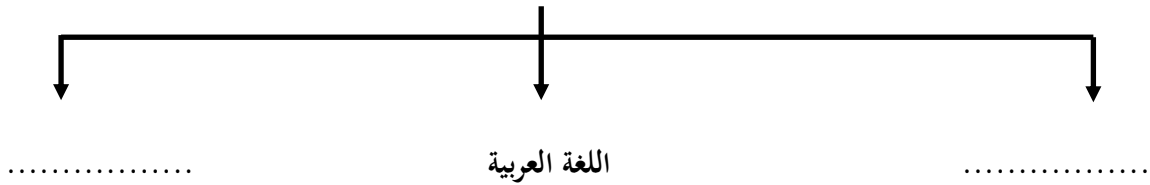
١. انطلقت الحضارة الإسلامية في شبه الجزيرة العربية من مدينة تسمى
٢. العالم المسلم الذي ألف في الرياضيات والفلك قدرت مؤلفاته ١٨٠ مؤلفاً
٣. أمير الكويت الذي أختير قائداً للعمل الإنساني الشيخ
٤. توفي الرسول صلى الله عليه وسلم عام
٥. ركن من أركان الإسلام يخرجها المسلمون الأغنياء للمستحقين من الفقراء والمساكين تسمى
٦. الهيئة المسؤولة حالياً عن الوقف في دولة الكويت
٧. مظاهر إهتمام الحضارة الإسلامية بالزراعة إنشاء ديوان الماء في مدينة تسمى
٨. افتتح المسجد الكبير بالكويت في عهد الشيخ
٩. المدينة التي يوجد بها المسجد الأموي تسمى
١٠. جامع عمرو بن العاص والجامع الأزهر يقع في مدينة
١١. القصر الذي بناه الخليفة الأموي معاوية بن أبي سفيان في دمشق يسمى قصر
١٢. القصر الذي بناه الخليفة الأموي يزيد بن الوليد في الأردن يسمى قصر
١٣. القصر الذي بناه الخليفة هشام بن عبد الملك في سوريا يسمى قصر
١٤. العالم والفيلسوف الذي ينسب الى قبيلة كندة اليمانية يسمى
١٥. تبلغ مساحة العالم الإسلامي حوالي مليون كم
١٦. أكبر الدول الإسلامية من حيث المساحة دولة تسمى



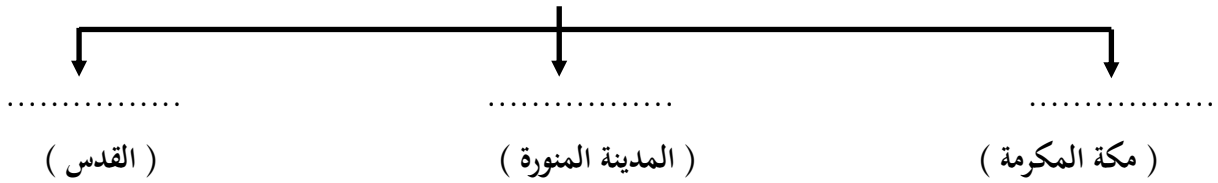
١٧. أصغر الدول الإسلامية من حيث المساحة دولة تسمى
١٨. تمثل مساحة الدول الإسلامية من جملة مساحة العالم حوالي
١٩. تم إدخال اللغة العربية ضمن اللغات الرسمية في الأمم المتحدة عام
٢٠. لقب الشيخ صباح الأحمد بقائد العمل الانساني في ٩ سبتمبر عام
٢١. تم الكشف في دولة الكويت عن محطة لإستراحة قوافل الحجاج تسمى
٢٢. استفادت الحضارة الأوربية من شبكة موارد المياه الجوفية التي أقامها المسلمون في مدينة

السؤال الثالث : أكمل المخططات السهمية التالية بالإجابات الصحيحة :

١- أسس الحضارة الإسلامية



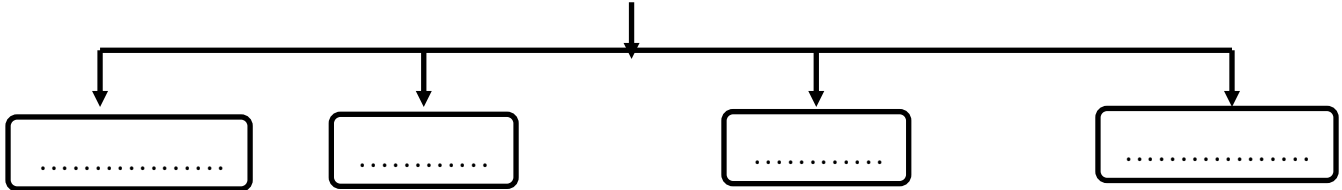
٢- المساجد الثلاثة الرئيسية



٣- مصادر الإنتاج السمكي في العالم الإسلامي

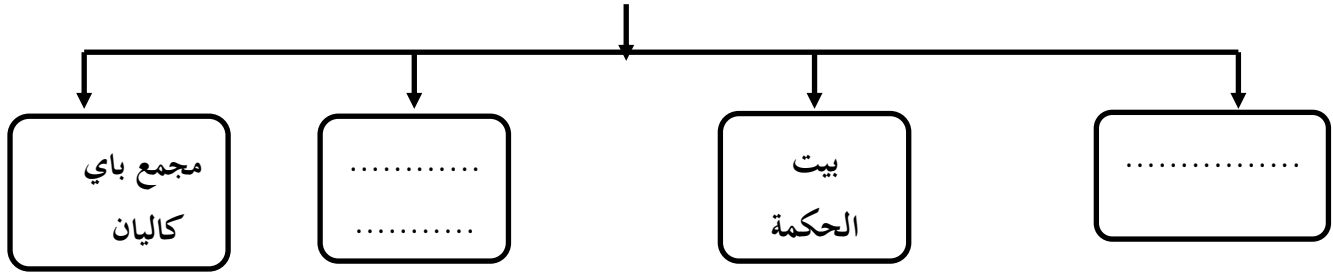


٤- القارات التي يمتد فيها العالم الاسلامي

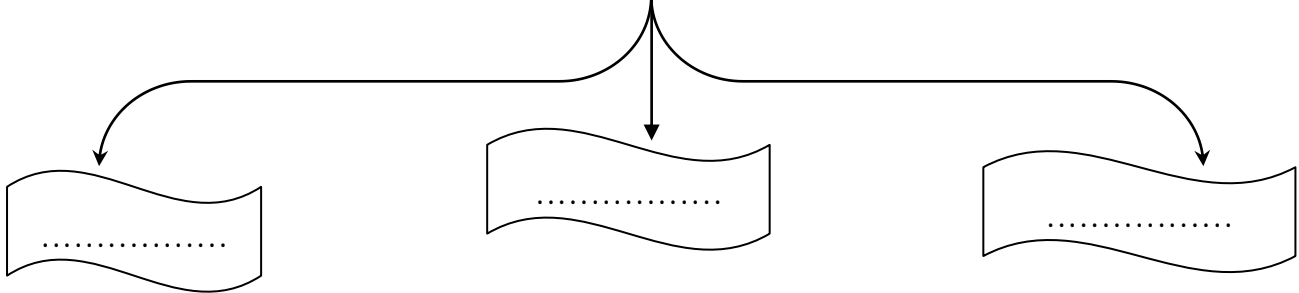




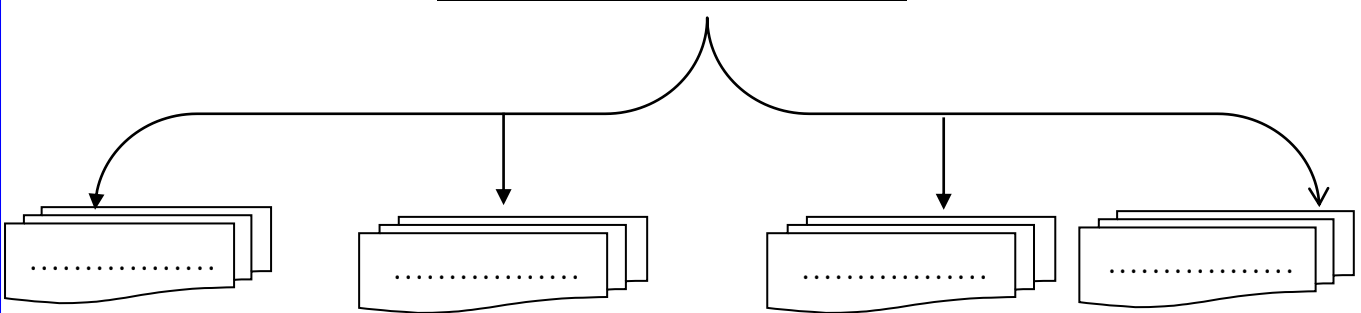
٥ - أهم المراكز العلمية في الحضارة الإسلامية



٦ - مراكز إشعاع الحضارة الإسلامية الى أوروبا



٧ - المناصب الإدارية في الدولة الإسلامية

السؤال الرابع : اختر الإجابة الصحيحة من بين الخيارات التي تلي كل عبارة فيما يلي وضع خطأ تحتها :

- ١ - أول الخلفاء الراشدين هو (عثمان بن عفان - علي بن ابي طالب - عمر بن الخطاب - أبو بكر الصديق)
- ٢ - الخليفة الذي استحدث وظيفة المحتسب (عثمان بن عفان - علي بن ابي طالب - عمر بن الخطاب - أبو بكر الصديق)
- ٣ - تم افتتاح المسجد الكبير بالكويت في عام (١٩٨٥م - ١٩٨٦م - ١٩٨٧م - ١٩٨٨م)
- ٤ - المدينة التي يوجد بها جامع الزيتونة (الجزائر - مصر - تونس - ليبيا)



- ٥ - قصر عمرة الذي بناه يزيد بن الوليد يقع في (سوريا - الأردن - لبنان - فلسطين)
- ٦ - قصر الرصافة يقع في دولة (الأردن - اليمن - سوريا - الكويت)
- ٧ - أشهر علماء الجبر الذي ألف كتاب الجبر والمقابلة (البيروني - الخوارزمي - الحسن بن الهيثم - بن سينا)
- ٨ - عدد الدول الإسلامية في قارة آسيا (٢٥ - ٢٦ - ٢٧ - ٢٨)
- ٩ - عدد الدول الإسلامية في قارة أفريقيا (٢٥ - ٢٦ - ٢٧ - ٢٨)
- ١٠ - عدد الدول الإسلامية في قارة أوروبا (١ - ٢ - ٣ - ٤)
- ١١ - عدد الدول الإسلامية في قارة أمريكا الجنوبية (١ - ٢ - ٣ - ٤)
- ١٢ - تقع هضبة نجد في دولة (الكويت - البحرين - قطر - السعودية)
- ١٣ - ينتج العالم الإسلامي من النفط الخام حوالي (٤٥,٥% - ٤٤,٥% - ٤٣,٥% - ٤١,٥%)
- ١٤ - ينتج العالم الإسلامي من الغاز الطبيعي حوالي (٣٥% - ٣٦% - ٣٧% - ٣٨%)
- ١٥ - أولى دول العالم الإسلامي إنتاجاً لليورانيوم (كازاخستان - أوزبكستان - النيجر - باكستان)
- ١٦ - يبلغ إنتاج العالم الإسلامي من الحبوب حوالي (١٤% - ١٥% - ١٦% - ١٧%)
- ١٧ - تجب الزكاة في الأموال النقدية بنسبة (١,٥% - ٢,٥% - ٣,٥% - ٤,٥%)
- ١٨ - أقامت مدينة مرو ديواناً يسمى (ديوان الجند - ديوان الخراج - ديوان الماء - ديوان الزكاة)

السؤال الخامس : اكتب المفهوم الدال على العبارات الآتية :

- ١ - (.....) هي المحاصيل التي تزرع من أجل التصدير
- ٢ - (.....) هي دار المرضى أو المستشفى ومراكز الصيدلة والتحليل وصناعة الأدوية
- ٣ - (.....) ركن من أركان الإسلام يخرجها المسلمون الأغنياء للمستحقين من الفقراء
- ٤ - (.....) مبلغ مالي يدفعه الرجال غير المسلمين من أهل الذمة
- ٥ - (.....) اشتقت من الدمقس وهو نوع من الحرير الذي اشتهرت به تلك المدينة قبل الاسلام
- ٦ - (.....) هو نبات ينمو في المناطق الاستوائية والموسمية يصنع من أغصانه الحبال والأحذية والحقائب
- ٧ - (.....) هي كل ما يطرأ على المجتمع من تقدم وتطور ورقي سواء في الجانب المادي أو الروحي
- ٨ - (.....) صدقة جارية يوقفها المرء في حياته لوجوه الخير والبر
- ٩ - (.....) هي مقر الحاكم والمكان الذي يضم المؤسسات الإدارية كالدواوين والوزارة
- ١٠ - (.....) هي أشكال سطح الأرض
- ١١ - (.....) أجزاء فسيحة من سطح الأرض تتميز باستوائها وقلة ارتفاعها
- ١٢ - (.....) أرض مرتفعة سطحها مستوي ومساحتها واسعة
- ١٣ - (.....) حوض أو منخفض طبيعي على سطح الأرض



- ١٤ - (.....) كل قمة لا يقل ارتفاعها عن ١٠٠٠ متر تقريبا
- ١٥ - (.....) يشبه الجبل لكنه أقل من ١٠٠٠ متر
- ١٦ - (.....) هو كمية النفط المخزونة في باطن الأرض ولم تستخرج بعد.

السؤال السادس : علل ما يلي :

١. ظهور منصب الخليفة بعد وفاة الرسول صلى الله عليه وسلم ؟

..... *

٢. تسمية الزكاة بهذا الاسم ؟

..... *

٣. اهتمام الحضارة الإسلامية بالصناعة ؟

..... *

٤. تسمية صناعة الأرابيسك بهذا الاسم ؟

..... *

٥. لقيت التجارة تشجيعاً كبيراً في الحضارة الإسلامية ؟

..... *

٦. تسمية مرتفعات الحجاز بهذا الاسم ؟

..... *

٧. تعد الثروة الزراعية في العالم الإسلامي المصدر الرئيسي لإنتاج الغذاء

..... *

السؤال السابع: اكتب فيما يلي مما درست :

١. العوامل التي ساعدت على زيادة الإنتاج الزراعي في دول العالم الإسلامي.

أ -

ب -

ج -

د -

٢. خصائص الحضارة الإسلامية

أ -

ب -

ج -

د -

٣. أهم مصادر بيت مال المسلمين



أ - ب - ج - د -

٤. فضائل الوقف الاسلامي

- أ -
ب -
ج -

٥- جهود المسلمين في الاهتمام بالزراعة

- أ -
ب -
ج -

٦- عدد الصناعات عند المسلمين

- أ - ب - ج - د -

٧- العوامل التي أدت الى ازدهار العلم وظهور العلماء

- أ -
ب -
ج -
د -

٨- العوامل التي أدت الى نقل الحضارة الإسلامية إلى أوروبا

- أ -
ب -

٩- أهمية السهول.

- أ -
ب -
ج -

١٠ - عوامل تنوع المناخ في دول العالم الإسلامي.

- أ -
ب -
ج -
د -

**السؤال الثامن : عرف المفاهيم الآتية :**

- ١ - (التل)
- ٢ - (الوادي)
- ٣ - (الزكاة)
- ٤ - (الغلات النقدية)
- ٥ - (الوقف الاسلامي)
- ٦ - (الجوت)
- ٧ - (الجبل)
- ٨ - (الهضبة)
- ٩ - (البيمارستانات)
- ١٠ - (السهول)
- ١١ - (الحضارة)
- ١٢ - (القصور)
- ١٣ - (الجزية)
- ١٤ - (احتياط النفط)
- ١٥ - (التضاريس)
- ١٦ - (دمشق)
- ١٧ - (الفسيفساء)
- ١٨ - (أهل الذمة)

السؤال التاسع : (أ) صنف مايلى حسب الجدول :

١ - (الخيول العربية - اللبان - الاخشاب - التوابل - الذهب - التمور - الفواكه)

الواردات	الصادرات
.....

٢ - (الأحجار - مرة - زاجروس - الحجاز)

.....
السعودية	الجزائر	السودان	إيران



٣ - (القاهرة - اسطنبول - الأندلس - تونس - السعودية - دمشق)

المدينة	المسجد
.....	المسجد الأموي
.....	عمرو بن العاص - الازهر الشريف
.....	الزيتونة
.....	قرطبة
.....	السلطان حسن
.....	عمر بن الخطاب

٤ - أكمل الناقص في الجدول التالي :

الدولة	القارة	الجبل
.....	آسيا	الجبل الأخضر
إيران	زاجروس
.....	آسيا	الحجاز
مصر والسودان	جبال البحر الأحمر
.....	افريقيا	جبل مرة
ليبيا	الجبل الأخضر
.....	افريقيا	مرتفعات الاحجار
البنانيا	جبال الألب الدينارية
.....	امريكا الجنوبية	جوليانا توب

السؤال العاشر : أكتب مذكرات تاريخية عن :

١ - الجاحظ /

.....

٢ - العالم الشريف الإدريسي /

.....

٣ - البيروني /

.....




٤ - قصر الحمراء /

.....

السؤال الحادي عشر : فرق بين :

الطقس	المناخ
.....
.....

السؤال الثاني عشر : أكتب مدلول الصور الآتية أسفل كل صورة فيما يلي :



..... - ٢

..... - ١



..... - ٤

..... - ٣



..... - ٦



..... - ٥




..... - ٨



..... ٧



..... - ١٠



..... - ٩



..... ١٢ -



..... ١١ -



..... ١٤ -



..... ١٣ -



..... ١٥ -




السؤال الثالث عشر : أكمل الجدول التالي حسب ما هو موضح :

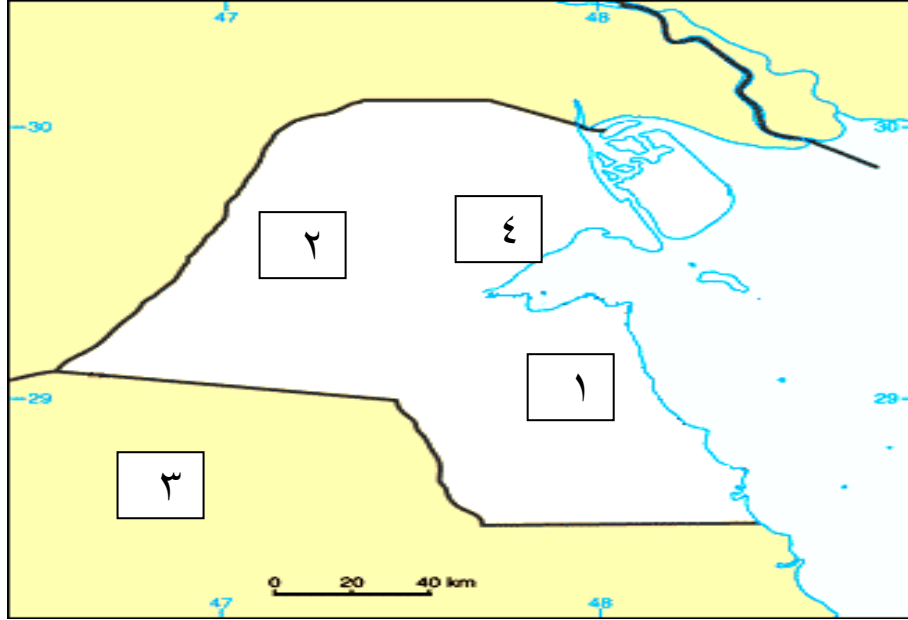
الصورة	اسم العالم	أهم مؤلفاته



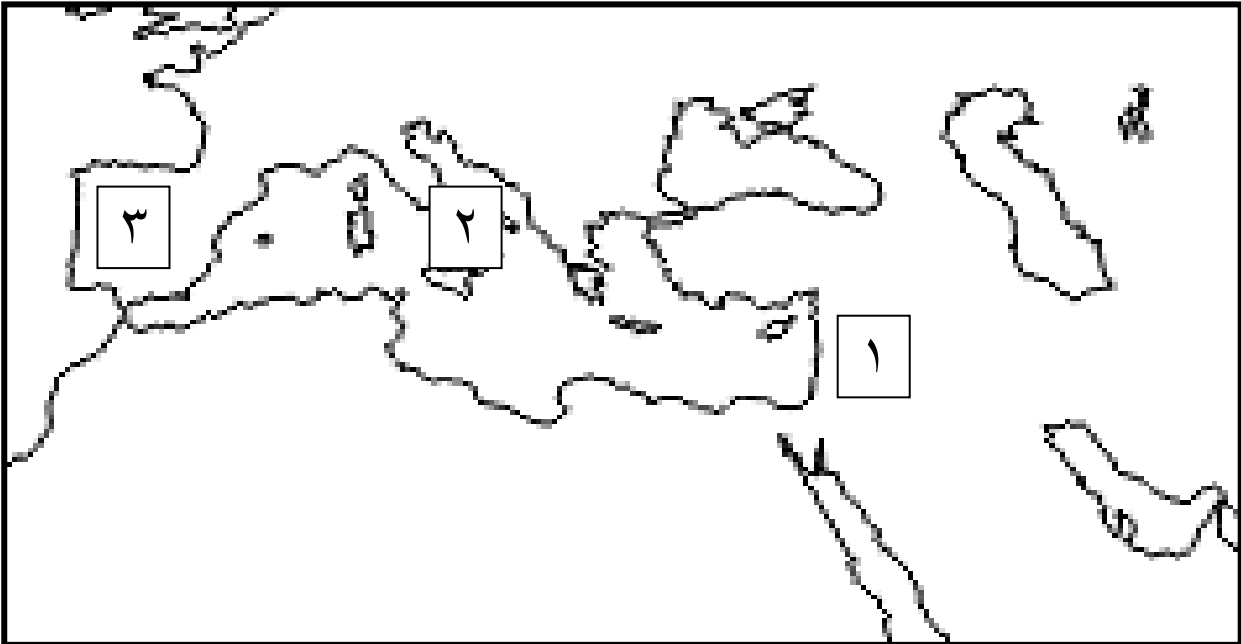



السؤال الرابع عشر : (أ) لاحظ خريطة دولة الكويت الصماء ثم أجب عن الأسئلة التي تليها :

- ١ - تلال جال الزور على الخريطة يمثلها الرقم (.....)
٢ - تلال اللياح على الخريطة يمثلها الرقم (.....)
٣ - تلال وارة على الخريطة يمثلها الرقم (.....)
٤ - حدد الخليج العربي بوضع الرمز 



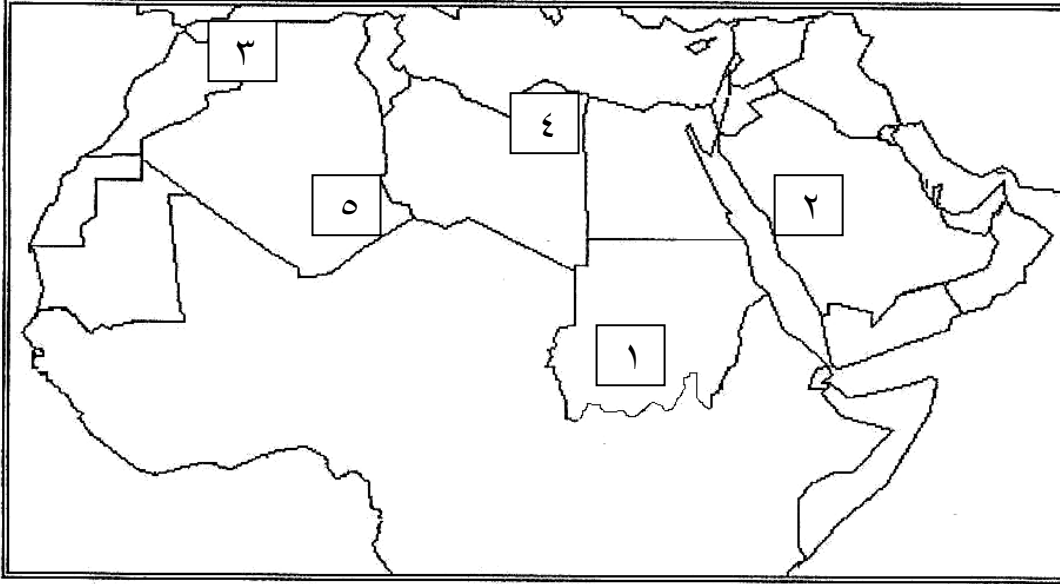
(ب) - لاحظ خريطة مراكز إشعاع الحضارة الإسلامية الى أوروبا ثم اجب عما يليها من أسئلة :



- ١ - بلاد الاندلس على الخريطة يمثلها الرقم (.....)
٢ - بلاد الشام على الخريطة يمثلها الرقم (.....)
٣ - جزيرة صقلية على الخريطة يمثلها الرقم (.....)



(ب) - لاحظ الخريطة التالية ثم اجب عما يليها من أسئلة :-



- ١ - جبل مرة على الخريطة يمثل الرقم (.....)
- ٢ - مرتفعات الاحجار على الخريطة يمثلها الرقم (.....)
- ٣ - جبال الحجاز على الخريطة يمثلها الرقم (.....)
- ٤ - الجبل الأخضر على الخريطة يمثلها الرقم (.....)
- ٥ - جبال أطلس على الخريطة يمثلها الرقم (.....)



(ج) - لاحظ خريطة العالم التالية ثم اجب عما يليها من أسئلة :



١ - قارة آسيا على الخريطة يمثلها الرقم (.....)

٢ - الصحراء الكبرى الأفريقية على الخريطة يمثلها الرقم (.....)

٣ - دولة سورينام على الخريطة يمثلها الرقم (.....)

٤ - هضبة نجد على الخريطة يمثلها الرقم (.....)

٥ - دولة البانيا على الخريطة يمثلها الرقم (.....)

٦ - المحيط الهندي على الخريطة يمثلها الرقم (.....)

**إجابة الإجتماعيات**

السؤال الأول : صحح ما تحته خط بكتابة الاجابة الصحيحة بين القوسين فيما يلي :

١. (الحمراء)
٢. (الحسن بن الهيثم)
٣. (الجاحظ)
٤. (الادريسي)
٥. (إيران)
٦. (برقان)
٧. (أوزباكستان)
٨. (٧٠ %)
٩. (أندونيسيا)
١٠. (الصيدلة في الطب)
١١. (٥٨,٥ %)

السؤال الثاني : أكمل العبارات التالية بما يناسبها مما درست :

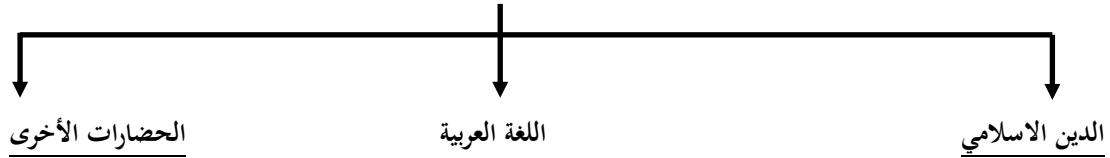
- ١ - المدينة المنورة
- ٢ - البیروني
- ٣ - الشيخ صباح الأحمد
- ٤ - ١١ هجريا
- ٥ - الزكاة
- ٦ - وزارة الأوقاف والشؤون الإسلامية
- ٧ - مرو
- ٨ - الشيخ جابر الأحمد الصباح
- ٩ - دمشق
- ١٠ - القاهرة (الفسطاط)
- ١١ - الخضراء
- ١٢ - عمرة
- ١٣ - الرصافة
- ١٤ - الكندي
- ١٥ - ٣٢ مليون كم
- ١٦ - كازاخستان
- ١٧ - جمهورية المالديف



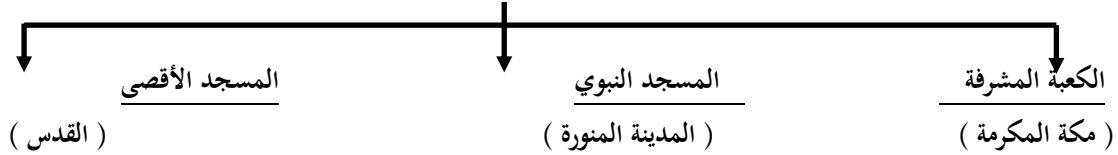
١٨	- ٢٢,٢ %
١٩	- ١٩٧٣ م
٢٠	- ٢٠١٤ م
٢١	- الشحي
٢٢	- مجريط

السؤال الثالث : أكمل المخططات السهمية التالية بالإجابات الصحيحة :

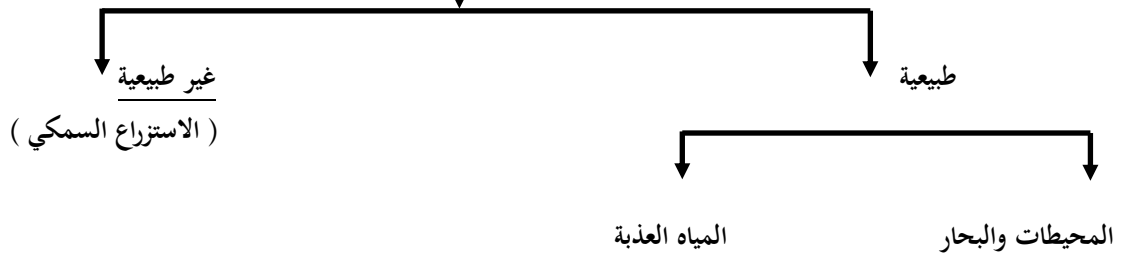
١- أسس الحضارة الاسلامية



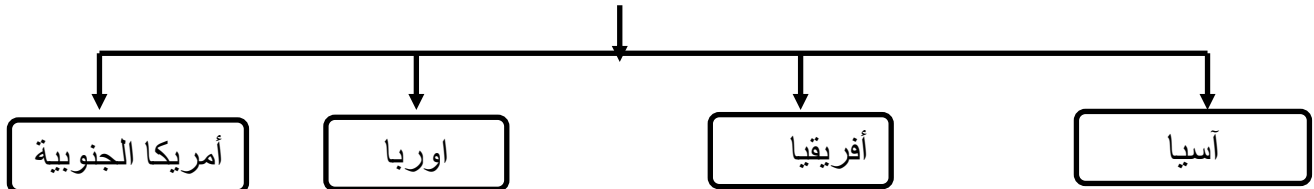
٢- المساجد الثلاثة الرئيسية



٣- مصادر الانتاج السمكي في العالم الاسلامي

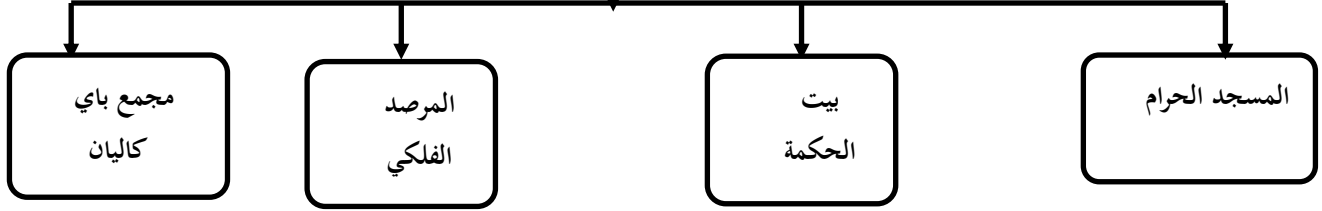


٤- القارات التي يمتد فيها العالم الاسلامي

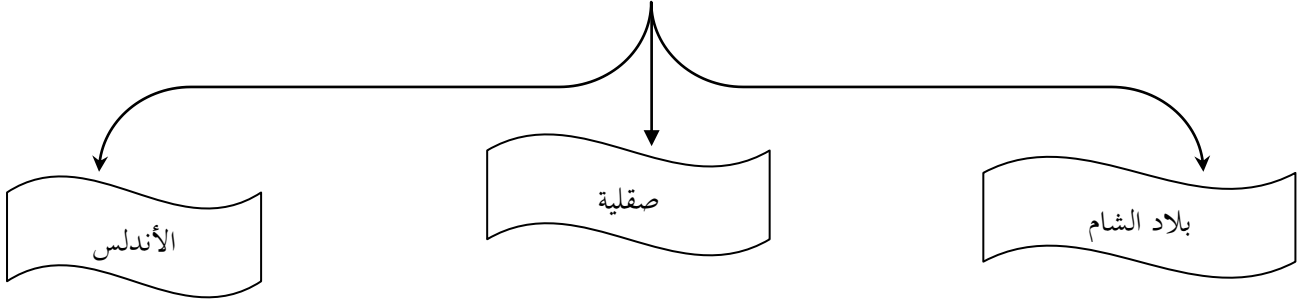




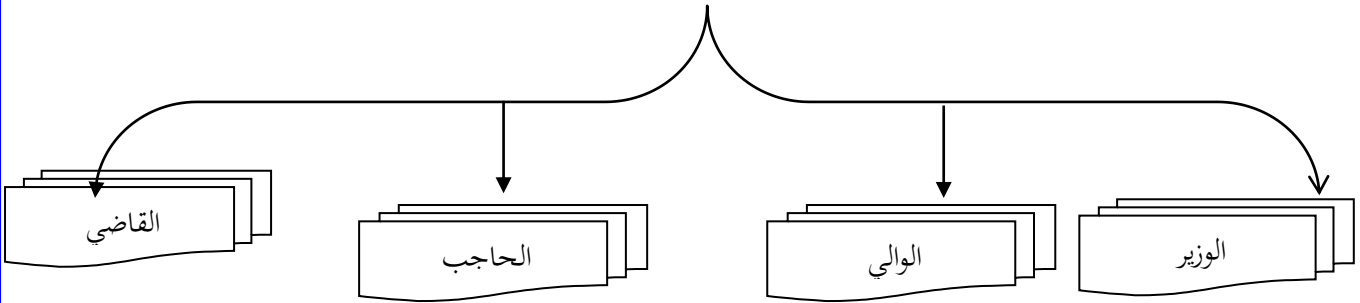
٥ - أهم المراكز العلمية في الحضارة الاسلامية



٦ - مراكز إشعاع الحضارة الاسلامية الى أوروبا



٧ - المناصب الادارية في الدولة الاسلامية



السؤال الرابع : اختر الاجابة الصحيحة من بين الخيارات التي تلى كل عبارة فيما يلي وضع خطأ تحتها :

- ١ - (أبو بكر الصديق)
- ٢ - (عمر بن الخطاب)
- ٣ - (١٩٨٦ م)
- ٤ - (تونس)
- ٥ - (الأردن)
- ٦ - (سوريا)



٧ - (الخوارزمي)

٨ - (٢٧)

٩ - (٢٦)

١٠ - (٢)

١١ - (١)

١٢ - (السعودية)

١٣ - (١٥,٥ %)

١٤ - (٣٦ %)

١٥ - (كازاخستان)

١٦ - (١٤ %)

١٧ - (٢,٥ %)

١٨ - (ديوان الماء)

السؤال الخامس : اكتب المفهوم الدال على العبارات الآتية :

١ - (الغلات النقدية)

٢ - (البيمارستانات)

٣ - (الزكاة)

٤ - (الجزية)

٥ - (دمشق)

٦ - (الجوت)

٧ - (الحضارة)

٨ - (الوقف الاسلامي)

٩ - (القصور)

١٠ - (التضاريس)

١١ - (السهول)

١٢ - (الهضبة)

١٣ - (الوادي)

١٤ - (الجبل)

١٥ - (التل)



١٦ - (احتياط النفط)

السؤال السادس : علل ما يلي :

١. لحاجة الدولة الاسلامية لمن يخلف الرسول صلى الله عليه وسلم وحماية وقيادة الأمة الاسلامية
٢. لما فيها من تزكية للنفس وتطهيرها
٣. من أجل استغلال الموارد الطبيعية المتوفرة
٤. نسبة للعرب
٥. لدورها الكبير في التبادل التجاري مع المناطق المجاورة ونشر الدين الاسلامي
٦. لأنها تحجز سهل تهامة في الغرب عن هضبة نجد في الشرق
٧. لأنها تمثل الدخل الرئيسي لمعظم دوله ومادة خام في كثير من الصناعات

السؤال السابع: اكتب فيما يلي مما درست :

١. العوامل التي ساعدت على زيادة الانتاج الزراعي في دول العالم الاسلامي

أ - المناخ

ب - التربة الخصبة

ج - الأمطار

د - كثرة السكان والأيدي العاملة

٢. خصائص الحضارة الاسلامية

أ - حضارة إنسانية

ب - حضارة إيمان وعمل

ج - حضارة عالمية

د - حضارة شمولية

٣. أهم مصادر بيت مال المسلمين

أ - الزكاة ب- الخراج ج- الجزية د - الوقف الإسلامي

٤. فضائل الوقف الاسلامي

أ - سد حاجات الفقراء والمساكين والمرضى

ب - نشر العلم النافع

ج - بناء المدارس ودور الأيتام

٥- جهود المسلمين في الاهتمام بالزراعة

أ - شق القنوات المائية والترع

ب - إقامة السدود



ج - تنظيم وسائل الري

٦- عدد الصناعات عند المسلمين

أ - السفن ب - الأسلحة ج - الورق د - الأدوية

٧- العوامل التي أدت الى ازدهار العلم وظهور العلماء

أ - تشجيع الخلفاء والملوك للعلم والعلماء

ب - التنافس العلمي بين الدول الاسلامية

ج - حركة التعريب والترجمة

د - الرخاء الاقتصادي

٨- العوامل التي أدت الى نقل الحضارة الاسلامية إلى أوروبا

أ - حركة الترجمة

ب - العلاقات التجارية

٩- أهمية السهول

أ - استخدامها كموانئ طبيعية

ب - تشييد المدن

ج - تركيز السكان فيها

١٠ - عوامل تنوع المناخ في دول العالم الاسلامي

أ - امتداد دول العالم الاسلامي

ب - الموقع بالنسبة لدوائر العرض

ج - المسطحات المائية

د - تنوع التضاريس

السؤال الثامن : عرف المفاهيم الآتية :

١ - (التل) يشبه الجبل لكنه أقل من ١٠٠٠ متر

٢ - (الوادي) حوض أو منخفض طبيعي على سطح الأرض

٣ - (الزكاة) ركن من أركان الاسلام يخرجها المسلمون الأغنياء للمستحقين من الفقراء والمساكين

٤ - (الغلات النقدية) هي المحاصيل التي تزرع من أجل التصدير

٥ - (الوقف الاسلامي) صدقة جارية يوقفها المرء في حياته لوجوه الخير والبر

٦ - (الجوت) هو نبات ينمو في المناطق الاستوائية والموسمية

٧ - (الجبل) كل قمة لا يقل ارتفاعها عن ١٠٠٠ متر تقريبا

٨ - (الهضبة) أرض مرتفعة سطحها مستوي ومساحتها واسعة



- ٩ - (البيمارستانات) هي دار المرضى أو المستشفى ومراكز الصيدلة والتحليل وصناعة الأدوية
- ١٠ - (السهول) أجزاء فسيحة من سطح الأرض تتميز باستوائها وقلة ارتفاعها
- ١١ - (الحضارة) هي كل ما يطرأ على المجتمع من تقدم وتطور ورقي سواء في الجانب المادي أو الروحي
- ١٢ - (القصور) هي مقر الحاكم والمكان الذي يضم المؤسسات الادارية كالداوين والوزارة
- ١٣ - (الجزية) مبلغ مالي يدفعه الرجال غير المسلمين من أهل الذمة
- ١٤ - (احتياط النفط) هو كمية النفط المخزونة في باطن الأرض ولم تستخرج بعد.
- ١٥ - (التضاريس) هي أشكال سطح الأرض
- ١٦ - (دمشق) اشتقت من الدمقس وهو نوع من الحرير الذي اشتهرت به تلك المدينة قبل الاسلام
- ١٧ - (الفسيفساء) مجموعة من مكعبات الزجاج الملون والشفاف وقطع من الحجر الابيض والأسود
- ١٨ - (أهل الذمة) هم اليهود والنصارى الذين ظلوا على دينهم مع دفع الجزية .

السؤال التاسع : (أ) صنف مايلي حسب الجدول :

- ١ - (الخيول العربية - اللبان - الاخشاب - التوابل - الذهب - التمر - الفواكه)

الواردات	الصادرات
الذهب - التوابل - الذهب	التمور - الفواكه - الخيول العربية - اللبان

- ٢ - (الأحجار - مرة - زاجروس - الحجاز)

زاجروس	مرة	الأحجار	الحجاز
إيران	السودان	الجزائر	السعودية

- ٣ - (القاهرة - اسطنبول - الأندلس - تونس - السعودية - دمشق)

المسجد	المدينة
المسجد الأموي	دمشق
عمرو بن العاص - الازهر الشريف	الفسطاط (القاهرة)
الزيتونة	تونس
قرطبة	الأندلس (إسبانيا)
السلطان حسن	اسطنبول
عمر بن الخطاب	السعودية



٤ - أكمل الناقص في الجدول التالي :

الدولة	القارة	الجبل
<u>عمان</u>	آسيا	الجبل الأخضر
<u>إيران</u>	آسيا	زاجروس
<u>السعودية</u>	آسيا	الحجاز
مصر والسودان	<u>أفريقيا</u>	جبال البحر الأحمر
<u>السودان</u>	أفريقيا	جبل مرة
<u>ليبيا</u>	<u>أفريقيا</u>	الجبل الأخضر
<u>الجزائر</u>	أفريقيا	مرتفعات الاحجار
<u>البنانيا</u>	<u>أوربا</u>	جبال الألب الدينارية
<u>سورينام</u>	امريكا الجنوبية	جوليانا توب

السؤال العاشر : أكتب مذكرات تاريخية عن :

١ - الجاحظ / عالم مسلم ألف ٣٥٠ كتابا أهمها كتاب الحيوان كان يراقب سلوك الحيوانات عن طريق التجارب ويدرس أعضائها الداخلية .

٢ - العالم الشريف الإدريسي / اشتغل بتأليف الجغرافيا وألف كتابه المشهور (نزهة المشتاق في اختراق الآفاق) الذي أعجب به الاوربيون وكان الادريسي يؤمن بكروية الأرض ورسم خريطة تمثلها .

٣ - البيروني / من العلماء المسلمين المتميزين ألف ١٨٠ مؤلف شملت الرياضيات والفلك والتاريخ والجغرافيا ومن أشهر مؤلفاته كتاب الصيدلة في الطب واكتشف معادلة نصف قطر الأرض وسميت باسمه معادلة (البيروني) .


٤ - قصر الحمراء / يعتبر نموذجا مميزا للعمارة الاسلامية ويقع في مدينة غرناطة بالأندلس إسبانيا حاليا ويتميز القصر بالجدران والسقوف المزخرفة ومن أجمل أجزائه ساحة الأسود مع نافورته .

السؤال الحادي عشر : فرق بين :

الطقس	المناخ
حالة الجو في مكان لمدة قصيرة تتراوح بين يوم أو عدة أيام	حالة الجو خلال فترة زمنية طويلة



السؤال الثاني عشر : أكتب مدلول الصور الآتية أسفل كل صورة فيما يلي :



٢ - الأرابيسك




١ - الصناعات عند المسلمين



٤ - المسجد النبوي بالمدينة المنورة



٣ - المسجد الكبير بالكويت



٦ - المسجد الأقصى (١)




٥ - المسجد الحرام (الكعبة المشرفة بمكة)




٨ - المسجد الأموي في دمشق



٧ - المسجد الأقصى



١٠ - مسجد عمر بن الخطاب (السعودية)



٩ - مسجد السلطان أحمد (الجامع الأزرق اسطنبول)



١٢ - قصر عمرة (الأردن)



١١ - قصر الخضراء (دمشق)



١٤ - إنتاج الغاز



١٣ - قصر الرصافة (سوريا)




١٥ - إنتاج النفط

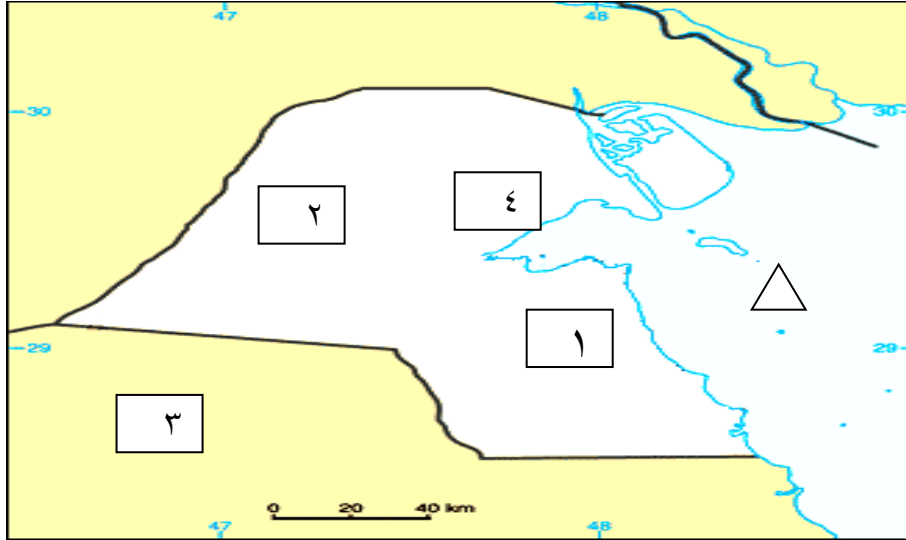
السؤال الثالث عشر : أكمل الجدول التالي حسب ما هو موضح :

الصورة	اسم العالم	أهم مؤلفاته
	الحسن بن الهيثم	يرجع له الفضل في تطوير فكرة الكاميرا (مؤلف كتاب المناظر)
	الخوارزمي	أشهر علماء الجبر ألف كتاب (الجبر والمقابلة)
	الجاحظ	ألف كتاب (الحيوان)

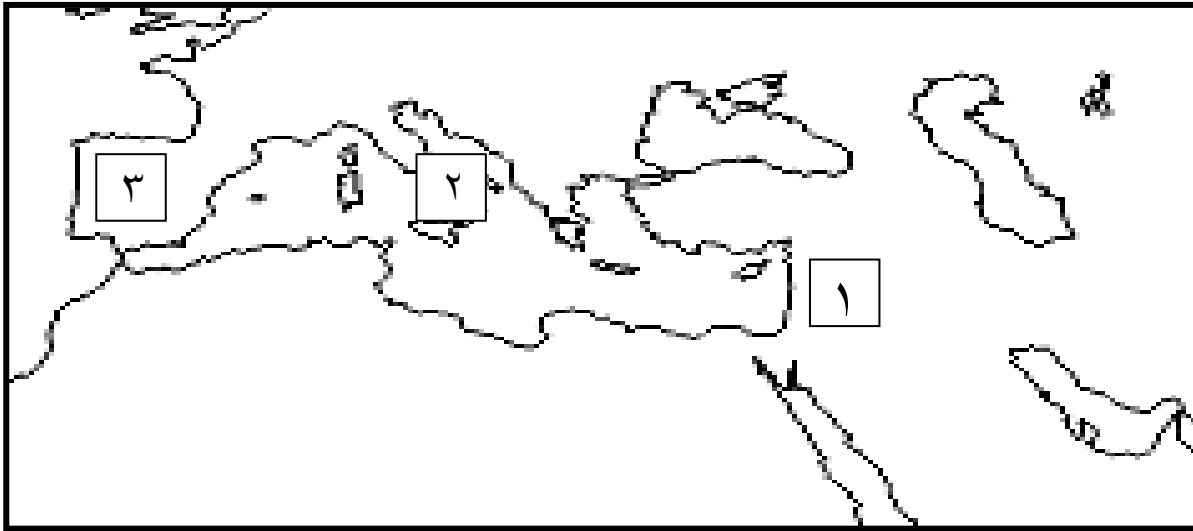


السؤال الرابع عشر : (أ) لاحظ خريطة دولة الكويت الصماء ثم أجب عن الأسئلة التي تليها :

- ١ - تلال جال الزور على الخريطة يمثلها الرقم (٤)
 ٢ - تلال اللياح على الخريطة يمثلها الرقم (٢)
 ٣ - تلال وارة على الخريطة يمثلها الرقم (١)
 ٤ - حدد الخليج العربي بوضع الرمز 



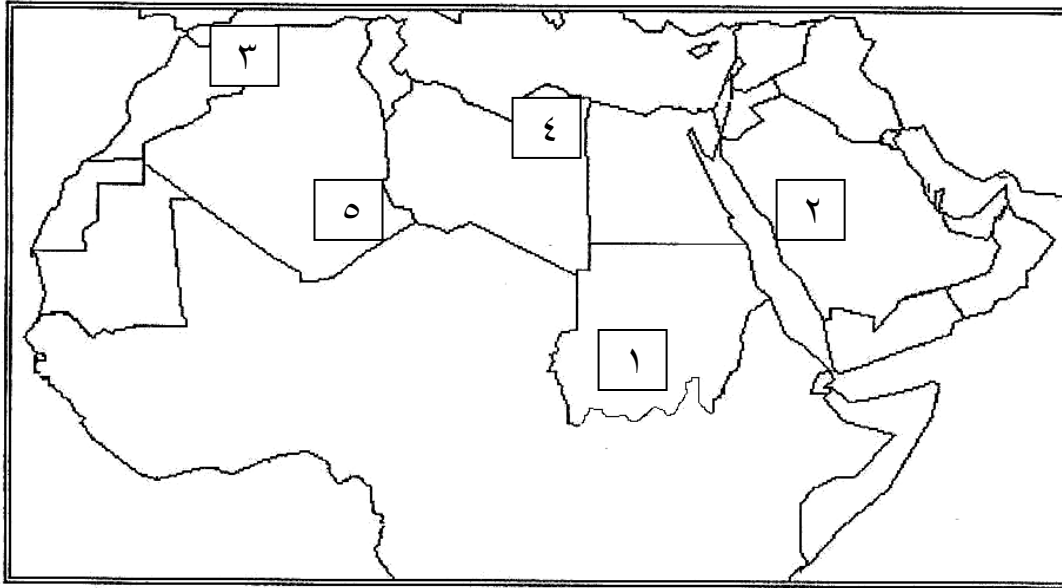
(ب) - لاحظ خريطة مراكز إشعاع الحضارة الإسلامية الى أوروبا ثم اجب عما يليها من أسئلة :



- ١ - بلاد الاندلس على الخريطة يمثلها الرقم (٣)
 ٢ - بلاد الشام على الخريطة يمثلها الرقم (١)
 ٣ - جزيرة صقلية على الخريطة يمثلها الرقم (٢)



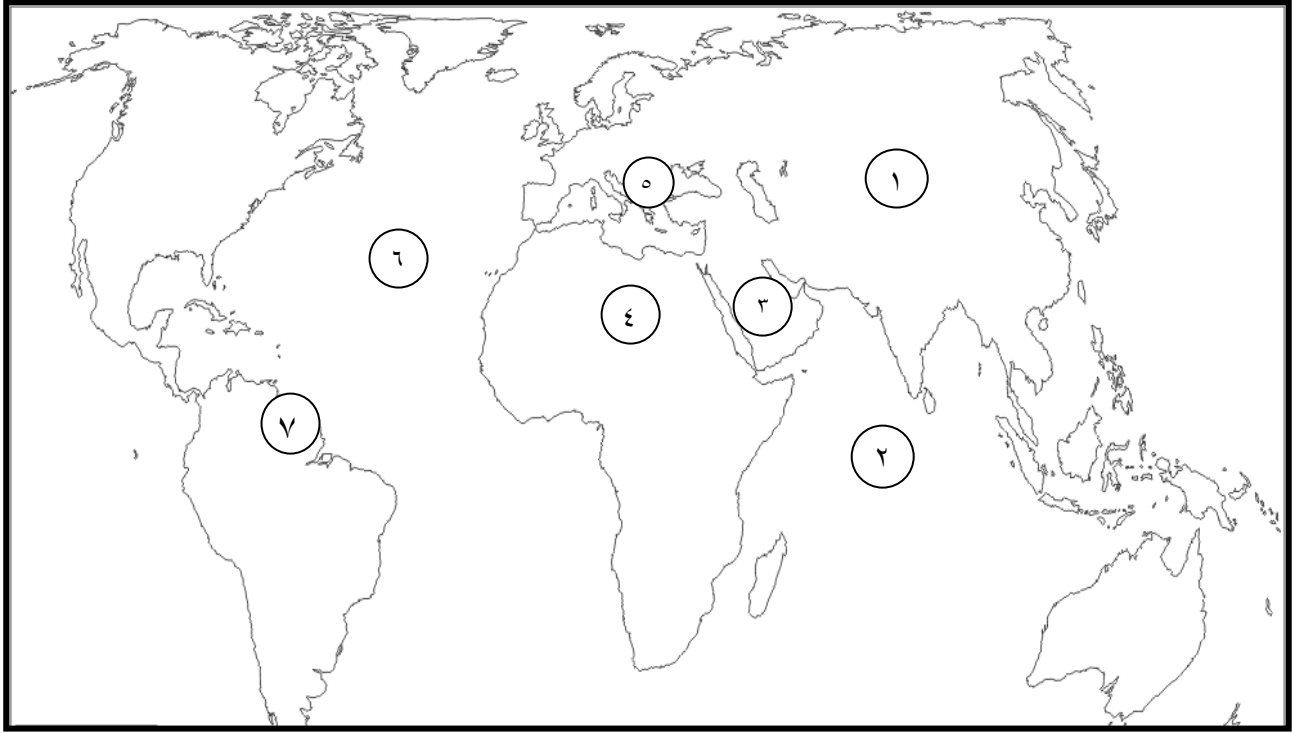
(ج) - لاحظ الخريطة التالية ثم اجب عما يليها من أسئلة :-



- ١ - جبل مرة على الخريطة يمثل الرقم (١)
- ٢ - مرتفعات الاحجار على الخريطة يمثلها الرقم (٥)
- ٣ - جبال الحجاز على الخريطة يمثلها الرقم (٢)
- ٤ - الجبل الأخضر على الخريطة يمثل الرقم (٤)
- ٥ - جبال أطلس على الخريطة يمثلها الرقم (٣)



(ج) - لاحظ خريطة العالم التالية ثم اجب عما يليها من أسئلة :



١ - قارة آسيا على الخريطة يمثلها الرقم (١)

٢ - الصحراء الكبرى الأفريقية على الخريطة يمثلها الرقم (٤)

٣ - دولة سورينام على الخريطة يمثلها الرقم (٧)

٤ - هضبة نجد على الخريطة يمثلها الرقم (٣)

٥ - دولة البانيا على الخريطة يمثلها الرقم (٥)

٦ - المحيط الهندي على الخريطة يمثلها الرقم (٢)



مدرسة التميز النموذجية
(ابتدائي - متوسط - ثانوي)
الجهاز الفني التربوي

منصات التميز التعليمية

لزيارة منصة التميز التعليمية في اليوتيوب امسح الباركود التالي :



لزيارة منصة التميز التعليمية في تليجرام امسح الباركود الخاص بقناة كل فصل مما يلي :



الصف الرابع



الصف الثالث



الصف الثاني



الصف الأول



الصف التاسع



الصف الثامن



الصف السابع



الصف السادس



الصف الخامس



الصف الثاني عشر
أدبي



الصف الثاني عشر
علمي



الصف الحادي عشر
علمي



الصف الحادي عشر
أدبي



الصف العاشر



لزيارة صفحتنا في تويتر

لزيارة صفحتنا في الإنستغرام