

السؤال الأول:

أوجد ناتج مايلي :

$$= ٠,٨ \div ٢٦,٠٨$$

٤



السؤال الثاني:

ظل ( أ ) إذا كانت العبارة صحيحة و ( ب ) إذا كانت العبارة خاطئة:



٢

ب	أ	الزاويتان المتجاورتان على مُستقيم واحد مجموع قياسهما = ٩٠°
---	---	--

ظل الدائرة الدالة على الإجابة الصحيحة:




ب	أ	المثلث المجاور حاد الزوايا
---	---	----------------------------



تم شرح الاختبارات بالفيديو عبر تطبيق ومنصة سما

[www.samakw.net](http://www.samakw.net)



السؤال الأول:

أوجد ناتج مايلي :

٤

$$= ٤,٥ \div ٩٦,٧٥$$



السؤال الثاني:


ظل ( أ ) إذا كانت العبارة صحيحة و ( ب ) إذا كانت العبارة خاطئة:

٢

ب	أ	إذا كانت أ ، ب مُتَكَامِلَتَيْنِ وَقِيَاسُ (أ) هُوَ ٥٠° ، قِيَاسُ (ب) = ١٣٠°
---	---	--

ظل الدائرة الدالة على الإجابة الصحيحة:

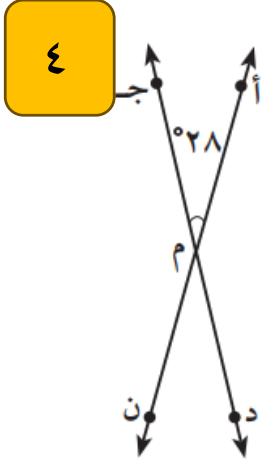
ب	أ	 <p>المثلث متطابق الأضلاع وحاد الزوايا</p>
---	---	---



تم شرح الاختبارات بالفيديو عبر تطبيق ومنصة سما

[www.samakw.net](http://www.samakw.net)

السؤال الأول:



في الشكل المقابل إذا كان قياس (أ م ج) = ٢٨° ، أكمل ما يلي:

قياس (د م ن) = ..... السبب: .....

قياس (أ م د) = ..... السبب: .....

قياس (ج م ن) = ..... السبب: .....

السؤال الثاني:


٢

ظل ( أ ) إذا كانت العبارة صحيحة و ( ب ) إذا كانت العبارة خاطئة:

ب	أ	$(0, 2) = (0, 8)$
---	---	-------------------

ظل الدائرة الدالة على الإجابة الصحيحة:

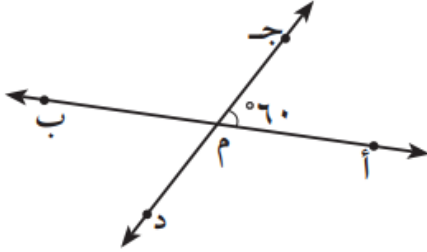
$3, 48 \div 0, 3 =$	
أ $3 \div 483$	ب $3 \div 4830$
ج $3 \div 4, 83$	د $3 \div 0, 483$



السؤال الأول:

٤

في الشكل المُستقيمان أ ب ، ج د مُتقاطعان في النُّقطة م أوجد:



قياس ( ج م ب ) = .....

السَّبَب: .....

قياس ( ب م د ) = .....

السَّبَب: .....

السؤال الثاني:

٢

ظل ( أ ) إذا كانت العبارة صحيحة و ( ب ) إذا كانت العبارة خاطئة:



ب	أ	$7 = 0, 4 \div 2, 8$
---	---	----------------------

ظل الدائرة الدالة على الإجابة الصحيحة:



$= 10 \times 10 \times 10$		
		أ

تم شرح الاختبارات بالفيديو عبر تطبيق ومنصة سما

[www.samakw.net](http://www.samakw.net)



**السؤال الأول:**

استخدم الشكل المقابل لإيجاد ما يلي:

ق (س ب ك) =

السبب:

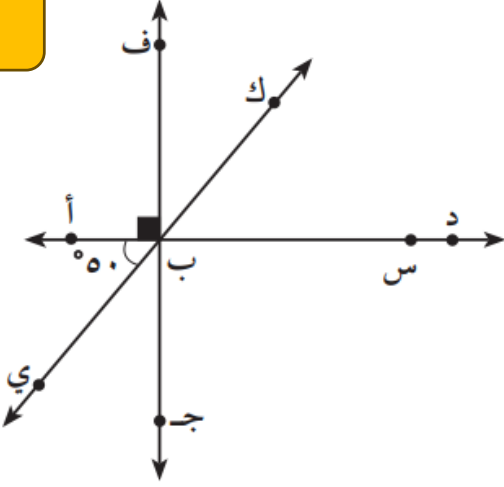
ق (أ ب ج) =

السبب:

ق (ج ب ي) =

السبب:

٤



**السؤال الثاني:**

ظل ( أ ) إذا كانت العبارة صحيحة و ( ب ) إذا كانت العبارة خاطئة:

٢

ب	أ	
---	---	--

ظل الدائرة الدالة على الإجابة الصحيحة:

الشكل الذي يمثل مثلث متطابق الأضلاع هو:	

