
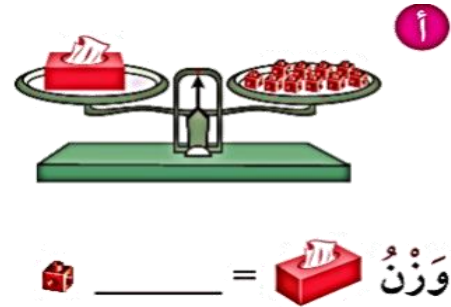


## السؤال الأول: اِطْرَحْ.

$$\begin{array}{r} \square \\ 564 \\ + 217 \\ \hline \end{array}$$

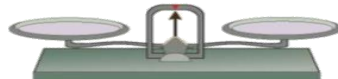
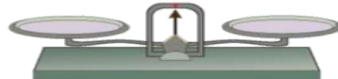
آحاد	عشرات	مئات
٩	٩	٩
٠ -	٠	٦

## السؤال الثاني: أكمل .



دينار \_\_\_\_\_

## السؤال الرابع أ ( حَوِّطِ الأداة المناسبة للقياس .



ب ( اختر الإجابة الصحيحة .

( ١٠ ، ٢٠ ، ٣٠ ) ( ١ ) ١٣٠ =  + ١٠٠

( ١٣٠ ، ١٣١ ، ١٣٤ ) ( ٢ ) ١٣٩ - ٨ = .....