

• وسائل الوحدة (١٤)

للصف الثاني



• قياس الطول بوحدات غير مقننة

بند (۱۴-۱)



قس طول الأشياء مستخدما وحدتي قياس مختلفين ثم أكمل الجدول

[illegible]

أكمل




طول السيف




شبر

أكمل



طول السيف



ذراع

أكمل

وَحْدَةٌ



طول القلم



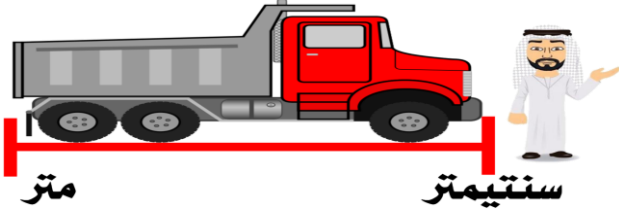
وحدات

• قياس الطول بوحدات مقننة (السنتيمتر - المتر)

بند (١٤ - ٢)



حوظ وحدة القياس المناسبة .



متر

سنتيمتر



متر

سنتيمتر



٤٠ أمتار

٤ أمتار

متر



سنتيمتر

قدر طول الأشياء ، ثم قس باستخدام

(المسطرة - المسطرة المترية)

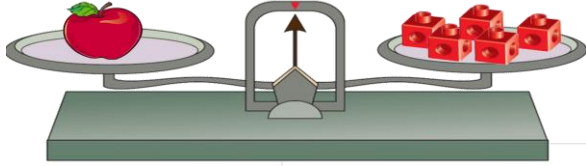
القياس	التقدير	الأشياء
تقريباً _____ سنتيمتراً	تقريباً _____ سنتيمتراً	
تقريباً _____ متر	تقريباً _____ متر	

• قياس الوزن بوحدات غير مقننة

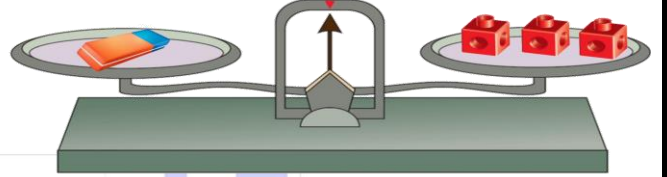
بند (١٤-٣)



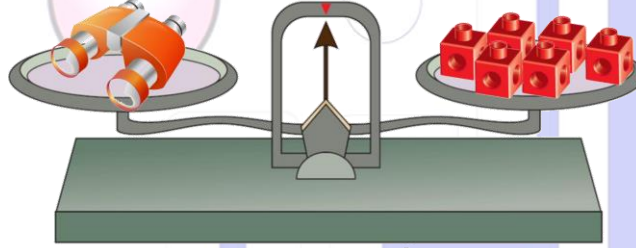
أكمل الفراغ



وزن = _____



وزن = _____



وزن = _____

قدر . قس مستخدماً و

الأشياء	التقدير	القياس
	تقريباً _____	تقريباً _____
	تقريباً _____	تقريباً _____

• قياس الوزن بوحدات مقننة (الكيلو جرام)

بند (٤-٤)



حوظ العبارة المناسبة

أخف من ١ كيلو جرام

تقريباً ١ كيلو جرام

أثقل من ١ كيلو جرام



أخف من ١ كيلو جرام

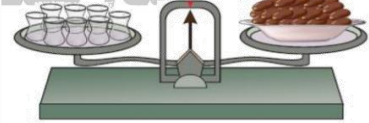

تقريباً ١ كيلو جرام

أثقل من ١ كيلو جرام



قدر. قس مستخدماً و كجم

الأشياء	قدر	قس
	تقريباً — كيلو جرام	تقريباً — كيلو جرام
	تقريباً — كيلو جرام	تقريباً — كيلو جرام



٣ صل.

- ٢ •
- أكثر •
- ٨ •
- أقل •

- ١ وزن يساوي وزن •
- ب وزن يساوي كيلو جرام •
- ج وزن من ٢ كيلو جرام •
- د وزن من ٨ •




كم كوباً تسع إذا ملأتها بالماء ؟

اكتب العدد المناسب




كم كوباً تسع إذا ملأتها بالماء ؟

اكتب العدد المناسب



كم كوباً تسع إذا ملأتها بالماء ؟

اكتب العدد المناسب



كم كوباً تسع إذا ملأتها بالماء ؟

اكتب العدد المناسب



كم يسع كل إناء ؟ حوط التقدير المعقول



تقريباً ٤



تقريباً ٤٠



كم كوباً تسع إذا ملأتها بالماء ؟

اكتب العدد المناسب





حوط الإجابة الصحيحة



إذا كان: ١ ليتر



أكثر من ١ ليتر
يساوي ١ ليتر
أقل من ١ ليتر

يسع



حوط الإجابة الصحيحة



إذا كان: ١ ليتر



أكثر من ١ ليتر
يساوي ١ ليتر
أقل من ١ ليتر

يسع



يشرب طفل ٥ أكواب من الحليب كل يوم .

هل تستطيع أن تحدد بالليتر كم ليترًا يشرب كل يوم

أكثر من ١ ليتر
يساوي ١ ليتر
أقل من ١ ليتر



• النقود المعدنية

بند (١٤-٧)



عد النقود ، ثم اكتب قيمة الكل .

_____ فلساً



عد النقود ، ثم اكتب قيمة الكل .

_____ فلساً



عد النقود ، ثم اكتب قيمة الكل .

_____ فلس



عد النقود ، ثم اكتب قيمة الكل .

_____ فلساً



عد النقود و اكتب قيمة الكل ، ثم حوّل اللعبة التي يمكن أن تشتريها



_____ فلساً



ب



اختر مجموعة أشياء لتشتريها من متجر الألعاب

Item	Price (Dinars)
Yellow bus	10
Walkie-talkie	25
Red backpack	13
Books	5
Blue teddy bear	3
Girl doll	2
Superman figure	4

سَجِّلْ مُشْتَرِيَاتِكَ.

أكمل

خالد

سالم

لدى سالم _____ دينار و _____ فلساً

أكمل



خالد



سالم

لدى خالد _____ دينار و _____ فلساً

أكمل




خالد



سالم

_____ لديه أكثر من _____

أكمل



مجموع ما لديهما هو _____ دينار و _____ فلساً

أكمل



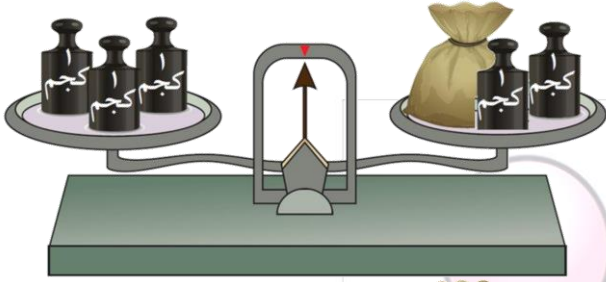
سالم لديه _____ دينار و _____ فلساً أكثر من خالد

• إيجاد العدد المجهول

بند (٩-١٤)

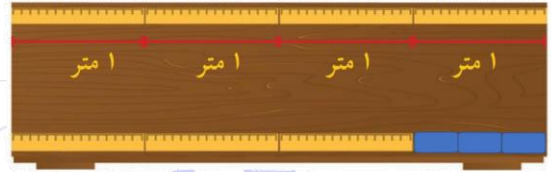


أكمل



فإن وزن  يساوي — كيلو جرام

أكمل



إذا كان

فإن طول  يساوي — متر

حل المسألة

قيمة ما داخل الكيس ١٠ دنانير ،

فكم سعر الدمية ؟




سعر  — دنانير

أكمل



يسع ١٠ لترات و



إذا كان

فإن سعة  يساوي — لترات.