




ليش ليلة الاختبار ما يخرج منها الامتحان؟



سوينالك مذكرة شامله جميع اسئلة الامتحانات السابقه
والاسئلة المهمه و المتوقعه للاختبار اللي تساعدك في
تحصيل الفل مارك

بالاضافة الى جزء اختبر نفسك اللي بيساعدك تتحقق من
نتائج مذاكرتك



في حالة وجود اي تغيير بالمنهج او تعليق جزء
منه يمكنك مسح رمز ال **Qr** للتأكد من المقرر



اذا احتجت لشيء لا تتردد و تواصل معنا
من خلال الواتساب 24765631
او من خلال مسح ال **Qr**

@ el.maystro_q8_books

24722852

24765631

24711939



الفهرس

الوحدة الأولى: البيئة الطبيعية ٤

أولاً: مفهوم البيئة الطبيعية ٤

ثانياً: عناصر البيئة الطبيعية ٥

(الموقع – التضاريس- المناخ) ٥

ثالثاً: أنواع البيئة الطبيعية ٨

الوحدة الثانية: الإنسان والبيئة الطبيعية ١١

أولاً: أثر البيئة على الإنسان ١١

١- أثر البيئة على الناحية الاقتصادية في العالم ١١

٢- أثر البيئة على الناحية الاجتماعية في

العالم..... ١١

ثانياً: أثر الإنسان على البيئة ١٢

أ- مراحل تطور علاقة الإنسان بالبيئة..... ١٢

ب- مكونات النظام البيئي / الأيكولوجية ١٤

ج- أهمية التشجير لكوكب الأرض ١٥

الوحدة الثالثة: مشكلات البيئة الطبيعية ١٧

أولاً: التلوث البيئي ١٧

(الهوائي – المائي – التربة – الضوضاء) ١٧

أ) التلوث الهوائي..... ١٧

ب) التلوث المائي

..... ١٨

ج) تلوث التربة..... ١٨

د) التلوث الضوضائي..... ١٩

ثانياً: التصحر..... ١٩

ثالثاً: ندرة المياه..... ٢٠

رابعاً: الاحتباس الحراري..... ٢٢

الوحدة الرابعة: مفهوم العلاقات الدولية ٢٤



٢٤	العلاقات الدولية
٢٥	أشكال العلاقات الدولية
٢٦	ثانيًا: العلاقات الاقتصادية
٢٧	ثالثًا: العلاقات الاجتماعية
٢٧	رابعًا: العلاقات الثقافية
٢٨	أنتم الآن مع نماذج الاختبارات
٤٧	الأنشطة والتقويم الواردة بالكتاب المدرسي



البيئة الطبيعية

أولاً: مفهوم البيئة الطبيعية

► عرف ما يأتي:

- ١- **البيئة:** هي الإطار الذي يعيش فيه الإنسان ويحصل فيه على مقومات حياته ويتفاعل فيها مع عناصر البيئة الأخرى.
- ٢- **البيئة غير الحية:** التربة والماء والضوء والحرارة والرطوبة والرياح حيث تساعد هذه القوى الجسم على التكيف.
- ٣- **البيئة الحية:** تمثل الكائنات الحية التي تعيش في تلك البيئة.
- ٤- **البيئة الطبيعية:** كل ما يحيط بالإنسان من ظاهرات حية وغير حية ليس للإنسان أي دخل في وجودها وتتمثل في بنية الأرض والتضاريس، والمناخ، والنبات الطبيعي، والحيوانات.
- ٥- **التوازن البيئي:** هو التفاعل المستمر بين مكونات البيئة الذي يحفظ استقرارها النسبي في زمن محدد دون أن يتأثر أي مكون على المكونات الأخرى.
- ٦- **أقاليم مناخية:** مساحة من الأرض ذات خصائص مناخية متشابهة ومتميزة عن غيرها.

► ضع علامة (✓) أمام العبارة الصحيحة وعلامة (x) أمام العبارة الخاطئة:

- ١- يتكون النظام البيئي من مجموعة من العلاقات بين الكائنات الحية وبيئتها والتي تشكلت في مرحلة زمنية معينة (✓)
- ٢- يتحكم في نظام البيئة قانون التطور العام (✓)
- ٣- تتكون البيئة من بيئة غير حية فقط (x)

► عدد ما يلي؟

- ١- اقسام البيئة؟
البيئة الحية - البيئة غير الحية
- ٢- خصائص الكائنات الحية؟
التكاثر - الحركة - الاستجابة - النمو - الإخراج - الأيض - التغذية
- ٣- اضلاع مثلث الحياة؟
الإنسان - البيئة - الموارد الطبيعية
- ٤- ميزات البيئة الطبيعية؟
التوازن البيئي - العلاقة التبادلية بين عناصر البيئة الطبيعية - توفر موارد طبيعية عديدة - وحدات بيئية كاملة ضمن حدود جغرافية



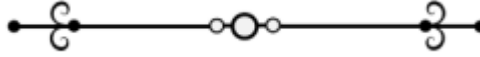
أجب عما يأتي:

١- من أول من استخدم مصطلح (علم البيئة الطبيعية)؟

عالم الطبيعة (هنري ديفيد)

٢- اذكر مثال على عدم التوازن البيئي؟

التصحر - التلوث - قطع الشجار بطريقة غير منظمة



ثانياً: عناصر البيئة الطبيعية

(الموقع - التضاريس - المناخ)

عرف ما يأتي:

١- **الموقع الفلكي:** هو موقع الدولة بالنسبة لخطوط الطول ودوائر العرض.

٢- **الموقع المكاني:** هو موقع الدولة في مكان معين.

٣- **الموقع النسبي:** هو موقع الدولة بالنسبة للياس والماء.

٤- **التضاريس:** هي الملامح الرئيسية لشكل سطح الأرض من مرتفعات ومنخفضات وأودية وسهول، وتنقسم إلى (جبال - هضاب - سهول - وديان)

٥- **الجبال:** هي كل مرتفع من الأرض وله قمة لا يقل ارتفاعها عن ١٠٠٠ متر، يمثل ١٢٪ من القارات.

٦- **الهضاب:** أرض مرتفعة وسطها مستو، تمتد على مساحة كبيرة وتمثل ٣٣٪ من القارات، وتنقسم إلى سهول ساحلية، سهول فيضية (نهرية)

٧- **السهول:** هي مساحة كبيرة من سطح الأرض تتميز باستوائها وقلة ارتفاعها تمثل ٤١٪ من القارات.

٨- **التعرية:** هي عملية نحت وتشكيل سطح الأرض.

٩- **المناخ:** هو حالة الجو لفترة زمنية طويلة.

١٠- **الطقس:** هو حالة الجو لفترة زمنية قصيرة.

١١- **الأقاليم المناخية:** هي الأقاليم الواقعة بين خط الاستواء ودائرة عرض ٣٠ شمالاً وجنوباً ومنها المناخ الاستوائي وأهم ما تتميز به ارتفاع درجة الحرارة والأمطار طوال العام في المناخ الاستوائي

١٢- **الأقاليم المناخية المعتدلة الدفيئة:** هي الأقاليم الواقعة بين دائرتي عرض ٣٠-٤٠ شمالاً وجنوباً ومن أمثلتها مناخ البحر المتوسط ويمتاز الاعتدال مع الميل إلى ارتفاع درجة الحرارة صيفاً والدفء شتاءً.

١٣- **الأقاليم المناخية المعتدلة الباردة:** هي الأقاليم الواقعة بين دائرتي عرض ٤٠-٦٠ شمالاً وجنوباً ومن أمثلتها مناخ غرب أوروبا ويمتاز بالاعتدال مع الميل للبرودة وخاصة في أشهر الشتاء.

١٤- **الأقاليم المناخية الباردة:** هي الأقاليم الواقعة فيما بين دائرتي عرض ٦٠-٩٠ شمالاً وجنوباً ومن أمثلتها مناخ التندرا (الصحاري الباردة) وتمتاز هذه الأقاليم بانخفاض درجة الحرارة إلى ما دون الصفر معظم أشهر السنة.



عدد كل ما يلي:

- ١- أقسام الموقع؟
الموقع الفلكي - الموقع المكاني - الموقع النسبي
- ٢- أشكال سطح الأرض؟
الجبال - الهضاب - السهول
- ٣- العوامل المؤثرة في التضاريس؟
الرياح - الأمطار - الحرارة - النباتات - الإنسان
- ٤- أنواع السهول؟
الساحلية - الفيضية (النهرية)
- ٥- عددي عناصر المناخ؟
الرياح - درجة الحرارة - الرطوبة - الضغط الجوي - الأمطار
- ٦- الأقاليم المناخية؟
الأقاليم المناخية الحارة - الأقاليم المناخية المعتدلة الدفيئة - الأقاليم المناخية المعتدلة الباردة - الأقاليم المناخية الباردة

أجب عن التالي:

- ١- ما هي خطوط الطول ودوائر العرض؟
هي مجموعة من الخطوط الوهمية المتقاطعة، وباستخدام هذه الخطوط يمكن تحديد كثير من المواقع المختلفة على سطح الكرة الأرضية وبشكل دقيق.
- ٢- أين تقع دولة الكويت؟
في الجهة الجنوبية الغربية بالنسبة لقارة آسيا، وفي جهة الشمال الشرقي بالنسبة لشبه الجزيرة العربية وفي الشمال الغربي بالنسبة للخليج العربي.
- ٣- كم تبلغ مساحة الكويت؟
حوالي ١٧,٨١٨ كم
- ٤- ما هي أكبر دول العالم من حيث المساحة وأصغرهم مساحة؟
روسيا أكبر دول العالم مساحة ١٧,٠٩٨,٢٤٢ كم
الفاتيكان أصغر دول العالم مساحة ٠,٤٤ كم، تقع في قلب روما.
- ٥- اذكر الموقع النسبي لبلدك الكويت؟
من جهة الشمال والشمال الغربي لجمهورية العراق.
من جهة الجنوب والجنوب الغربي للمملكة العربية السعودية
من جهة الشرق المسطح المائي: الخليج العربي
- ٦- ما هي العوامل المؤثرة في التضاريس؟
الرياح - الأمطار - الحرارة - النباتات - الإنسان



٧- ما أهمية السهول؟

تعتبر موانئ طبيعية - سهولة بناء المساكن عليها - تركيز السكان فيها لسهولة التنقل

٨- ما هي عناصر المناخ؟

الرياح - درجة الحرارة - الرطوبة - الضغط الجوي - الأمطار

٩- حدد الإقليم المناخي لدولة الكويت؟

المناخ الصحراوي الحار

١٠- الإقليم المناخي الأكثر انتشاراً في العالم؟

الإقليم الصحراوي الحار

١١- الإقليم المناخي الذي تفضل العيش فيه؟ ولماذا؟

مناخ البحر المتوسط، لأنه معتدل دافئ يصل إلى ارتفاع درجة الحرارة صيفاً والدفع شتاء.

► **قارن بين كل من:**

أوجه المقارنة	خطوط الطول	خطوط العرض
خط الأساس	خط جرينتش ورقمه صفر	خط الاستواء ورقمه صفر
الأهمية	يقسم الكرة الأرضية إلى نصفين شرقي وغربي تعيين الزمن	يقسم الكرة الأرضية إلى قسمين شمالي وجنوبي

► **ضع علامة (✓) أمام العبارة الصحيحة وعلامة (x) أمام العبارة الخاطئة:**

- ١- تلقت جميع مناطق التوقيت في العالم في القطبين الشمالي والجنوبي (✓)
- ٢- يقسم خط جرينتش العالم إلى نصفين شمالي وجنوبي. (x)
- ٣- تساعدنا دوائر العرض على تقسيم الكرة الأرضية إلى أقاليم مناخية. (✓)
- ٤- تقع دولة الكويت في الجهة الجنوبية الغربية بالنسبة لقارة آسيا. (✓)

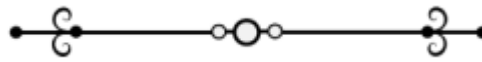
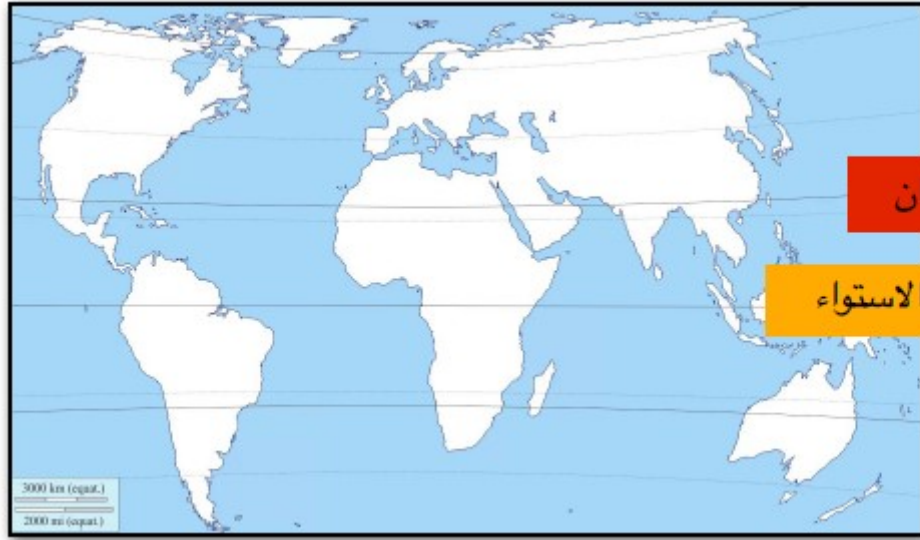
► **أكمل ما يأتي:**

- ١- تقع دولة الكويت ما بين دائرتي عرض ٢٨,٤٥ ، ٣٠,٥ شمال خط الاستواء
- ٢- تقع دولة الكويت ضمن المناخ الصحراوي
- ٣- خط طول ٨٠ يسمى خط التاريخ الدولي ومنه يبدأ اليوم
- ٤- يبلغ عدد خطوط الطول ٣٦٠ خط طول
- ٥- يبلغ عدد دوائر العرض ١٨٠ دائرة عرض
- ٦- أكبر دول العالم من حيث المساحة هي روسيا وأصغر دول العالم من حيث المساحة هي الفاتيكان وتقع في قلب العامة الإيطالية روما.
- ٧- تقع دولة الكويت بالنسبة لشبه الجزيرة العربية في جهة الشمال الشرقي.
- ٨- تقع دولة الكويت بالنسبة للخليج العربي في جهة الشمال الغربي.
- ٩- تمثل الجبال ١٢٪ و الهضاب ٣٣٪ والسهول ٤١٪ من مساحة القارات.

١٠- السنة التي تعرضت فيها الكويت لأمطار غزيرة عام ١٩٣٤ أدت إلى هدم الكثير من البيوت المبنية من الطين وتضرر حوالي ١٨,٠٠٠ شخص تسمى سنة الهدامة الأولى.

► لاحظ الخريطة ثم حدد ما يلي:

- خط الاستواء مدار السرطان



ثالثاً: أنواع البيئة الطبيعية

► أجب عن الأسئلة التالية:

- ١- ما أنواع البيئة الطبيعية؟
بيئة صحراوية – بيئة جبلية – بيئة سهلية – بيئة بحرية
- ٢- ما مميزات البيئة البحرية؟
الحفاظ على التوازن البيئي للكرة الأرضية.
توفير الثروات المعدنية والنباتية والسلمية المختلفة للإنسان.
توفير طرق المواصلات ومجال للترفيه والسياحة.
تغطي البحار والمحيطات حوالي ٧١٪ من مساحة الكرة الأرضية.
- ٣- ما هي مميزات البيئة الجبلية؟
تخزين المياه الطبيعية والثروات المعدنية المهمة.
تعتبر بيئة طبيعية للحياة البرية.
بيئة للسياحة.
- ٤- ما هي أقسام البيئة المناخية؟
حارة – معتدلة – متجمدة
- ٥- ما أفضل البيئات على وجه الكرة الأرضية؟
البيئة المعتدلة



٦- ما هي مميزات البيئة المعتدلة؟

ممارسة العديد من الأنشطة.

تتنوع الحياة النباتية والحيوانية أكثر من البيئات الأخرى.

ازدياد البناء والاستقرار عن غيرها من البيئات.

إمكانية إقامة النشاط الزراعي والصناعي فيها.

► **عرف:** البيئة البحرية: تغطي البحار والمحيطات حوالي ٧١٪ من مساحة الكرة الأرضية.

► **علل:** تعتمد بعض حيوانات إقليم التندرا إلى تغيير لون كسائها من البني إلى الأبيض؟

لكي تختبئ أثناء تساقط الثلوج.

► **أكمل المخططات السهمية التالية:**

