



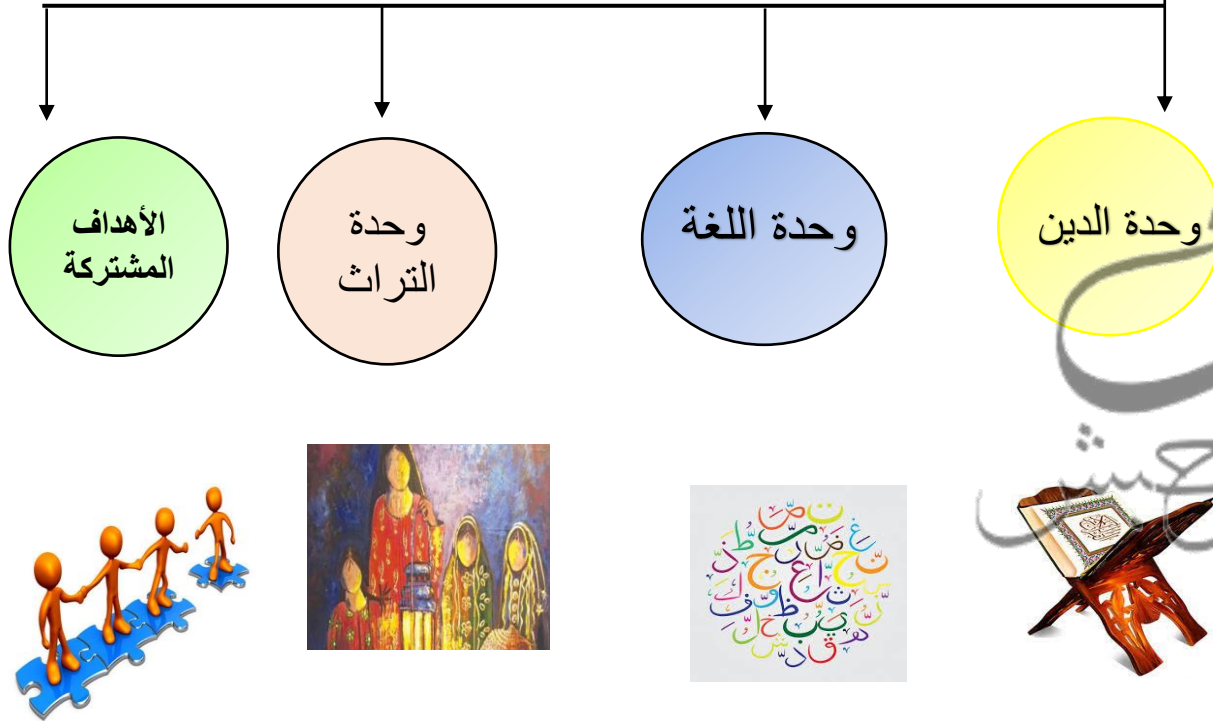
انفوجرافيك – للصف السابع  
الفصل الدراسي الأول – مدرسة القبلية م. بنات  
قسم الاجتماعيات

اعداد المعلمة : نواف حبش  
الموجهة الفنية : مريم المطيري  
مديرة المدرسة : نادية الكندري  
رئيسة القسم : وضحه الهاجري

اعداد: نواف حبش

هذه المخططات لا تغني عن الكتاب المدرسي

## مقومات الهوية العربية



الوطن العربي : مجموعة الدول العربية التي يجمعها عدد من السمات المشتركة ( الدين واللغة ) ويمتد ضمن قارتين من أكبر قارات العالم

المساحة (١٣.٥٠٠ مليون كم)



نسبة مساحة  
الوطن العربي  
من جلة  
مساحة العالم



البحر الذي يفصل  
الجناح الآسيوي عن  
الجناح الأفريقي البحر  
الأحمر



جمهورية جزر القمر  
\* تقع خارج نطاق الوطن العربي  
\* تتكون من اتحاد أربع جزر مستقلة .  
\* تقع شمال جزيرة مدغشقر عاصمتها موروني  
\* انضمت الى جامعة الدول العربية عام ١٩٩٣

• يقع الوطن العربي في سطر العالم  
• يمتد وطننا العربي في قارتي آسيا وأفريقيا



• أكبر دولة عربية في قارة آسيا السعودية



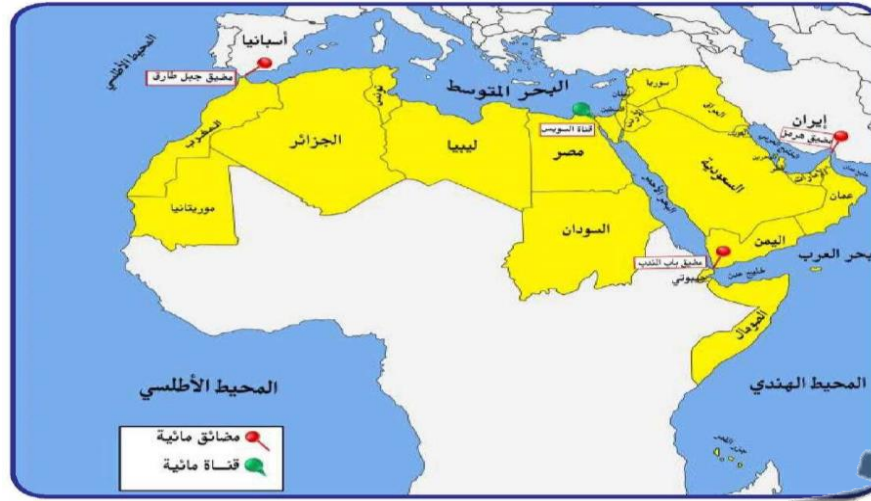
• أصغر دولة عربية في قارة آسيا البحرين



• أكبر دولة عربية في قارة أفريقيا الجزائر



• أصغر دولة عربية في قارة أفريقيا جزر القمر



مضيق هرمز  
يصل بين الخليج العربي  
وخليج عمان



مضيق باب المندب  
يصل بين خليج عدن  
والبحر الأحمر



مضيق جبل طارق  
يصل بين البحر المتوسط  
والمحيط الأطلسي



قناة السويس  
هذه القناة تصل بين البحر  
الأحمر والبحر المتوسط

المسطحات المائية في الوطن العربي

بحار	خلجان	محيطات
البحر الأحمر البحر الأبيض المتوسط بحر العرب	الخليج العربي خليج عمان خليج عدن	المحيط الأطلسي المحيط الهندي

المسطحات المائية

جميع أشكال المياه على  
سطح الأرض مثل  
البحار والخلجان  
والمحيطات

القناة

مجرى مائي صناعي  
ضيق يشق لأغراض  
الري والنقل

المضيق

ممر مائي ضيق يصل  
بين بحرين أو محيطين  
أو أي مساحتين كبيرتين

الموقع الاستراتيجي : أي موقع ذي مكانة مهمة بين دول العالم .

الصفات الأساسية التي يتمتع بها موقع الوطن العربي

- يقع في وسط العالم
- يشرف على العديد من المضائق .
- يطل على عدة مسطحات مائية .

☀️ يمتد القسم الأكبر من الوطن العربي في قارة أفريقيا



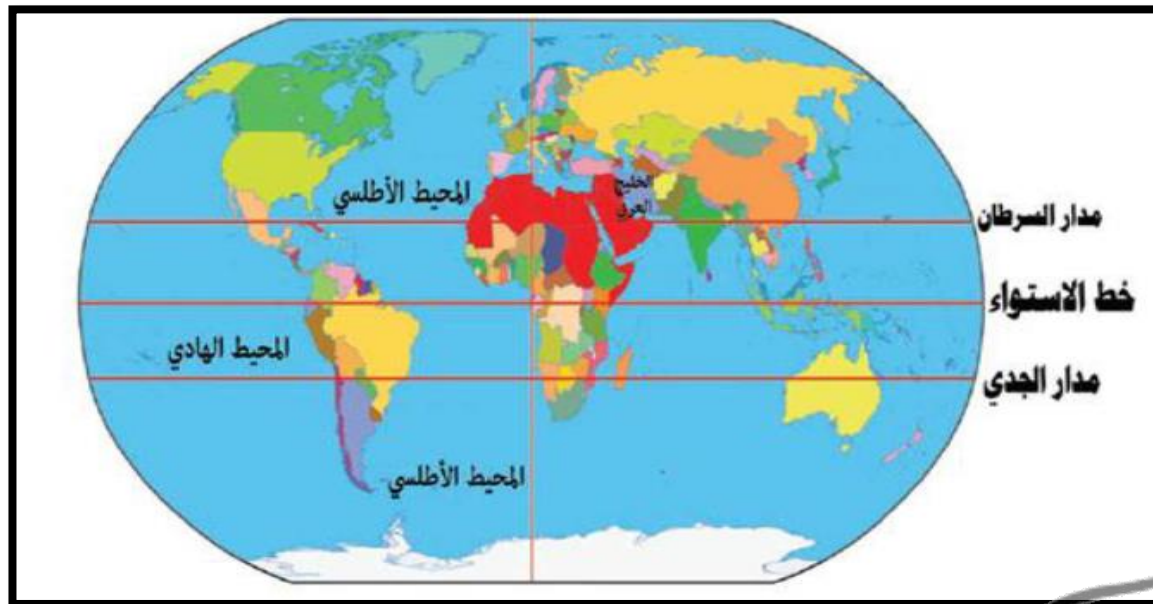
## الموقع الفلكي للوطن العربي

### قارني بين الموقع الفلكي والموقع النسبي

وجه المقارنة	الموقع الفلكي	الموقع النسبي
التعريف	موقع الدولة بالنسبة لخطوط الطول ودوائر العرض	موقع الدولة بالنسبة لليابس والماء

### قارني بين خطوط الطول ودوائر العرض

وجه المقارنة	خطوط الطول	دوائر العرض
التعريف	خطوط وهمية تقسم العالم الى قسمين شرقي وغربي	خطوط وهمية تقسم العالم الى قسمين شمالي وجنوبي
العدد	٣٦٠ خط	١٨٠ دائرة
الخط الرئيسي	خط جرينتش	خط الاستواء
مميزاته	تحديد الوقت	تحديد المناخ



💡 الدولة التي يمر بها خط الاستواء الصومال

💡 الدولة التي يمر بها خط جرينتش الجزائر

القارة المجاورة للوطن العربي من جهة الشمال هي قارة أوروبا

المسطح المائي الذي يحده الوطن العربي من جهة الغرب المحيط الأطلسي

💡 يقع الوطن العربي جنوب غرب آسيا وشمال أفريقيا

للوطن العربي حدود برية وبحرية يحده من :

الشمال ← البحر المتوسط - تركيا  
الشرق ← ايران - الخليج العربي  
الغرب ← المحيط الأطلسي

## ملاحح السطح في الوطن العربي

وديان	سهول	هضاب	جبال
			

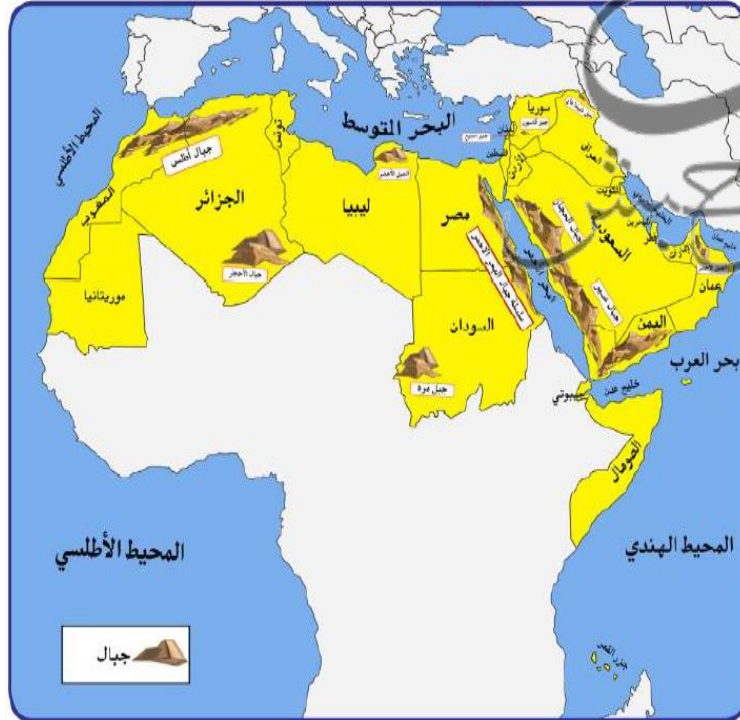
الجبل: كل ما ارتفع من الأرض وله قمة لا يقل ارتفاعه عن ١٠٠٠ متر

### الجبال في الجناح الآسيوي

اسم الجبل	الدولة التي بها الجبل
الحجاز	السعودية
الجبل الأخضر	عمان
قاسيون	سوريا

### الجبال في الجناح الأفريقي

اسم الجبل	الدولة التي بها الجبل
جبل مره	السودان
جبال أطلس	المغرب - الجزائر
جبال الأحجار	الجزائر



## أهمية موقع الوطن العربي

- يتمتع بموقع استراتيجي مهم .
- يشغل مكانا وسطا بين قارات العالم الثلاث.
- يطل على مسطحات مائية واسعة ذات أهمية للملاحة والتجارة العالمية .



- عبور لحركة الملاحة والتجارة العالمية
- الجسر الذي يربط بين قارات العالم الثلاث بمواردها الضخمة الهائلة
- ظهور النفط بكميات كبيرة .



- قامت على أرضه العديد من الحضارات
- هبطت على أرضه العديد من الديانات السماوية التي انتشرت في العالم





**السهول:** مساحة كبيرة من سطح الأرض تتميز بإستوائها وقلة إرتفاعها

تنقسم سهول الوطن العربي

**السهول الساحلية**  
الأراضي المنبسطة التي  
تجاور سواحل البحار  
والمحيطات



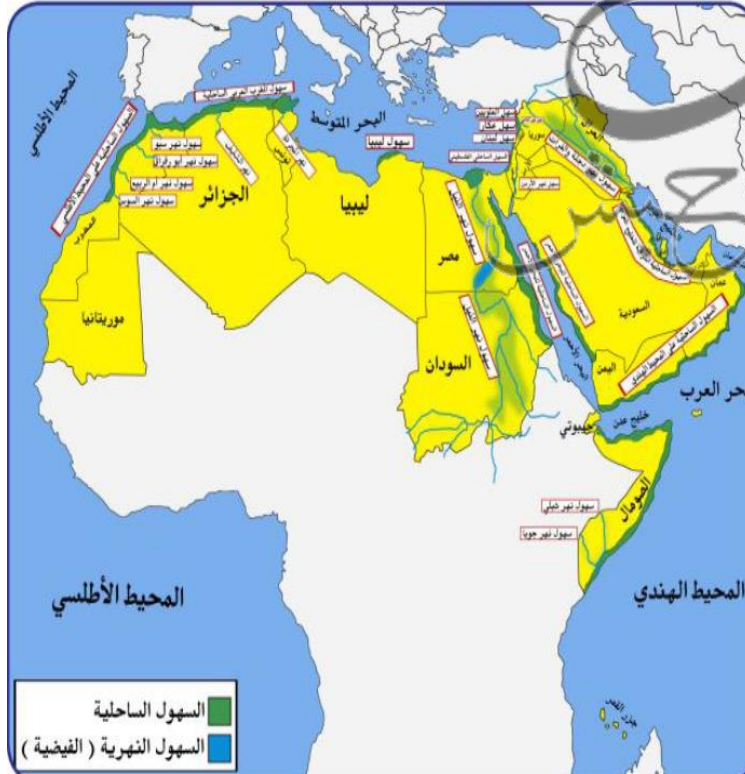
**السهول الفيضية النهرية**  
الأراضي المنخفضة التي  
تكونت من التربة التي  
حملتها مياه الأنهار

السهول في الجناح الآسيوي

اسم السهل/نوعه	الدولة التي يقع فيها السهل
الخليج العربي ساحلي	الكويت السعودية - البحرين - قطر - الامارات
دجلة والفرات نهري	سوريا - العراق

السهول في الجناح الأفريقي

اسم السهل/ نوعه	الدولة التي تقع فيها السهل
النيل نهري	مصر - السودان
سهول المغرب العربي ساحلي	تونس - الجزائر - المغرب



**تعد الهضاب أكثر المظاهر التضاريسية انتشاراً في الوطن العربي**

**الهضبة:** أرض مرتفعة سطحها مستوي تمتد على مساحة كبيرة

تنقسم هضاب الوطن العربي

**هضبة أفريقيا الشمالية (الصحراء الكبرى)**



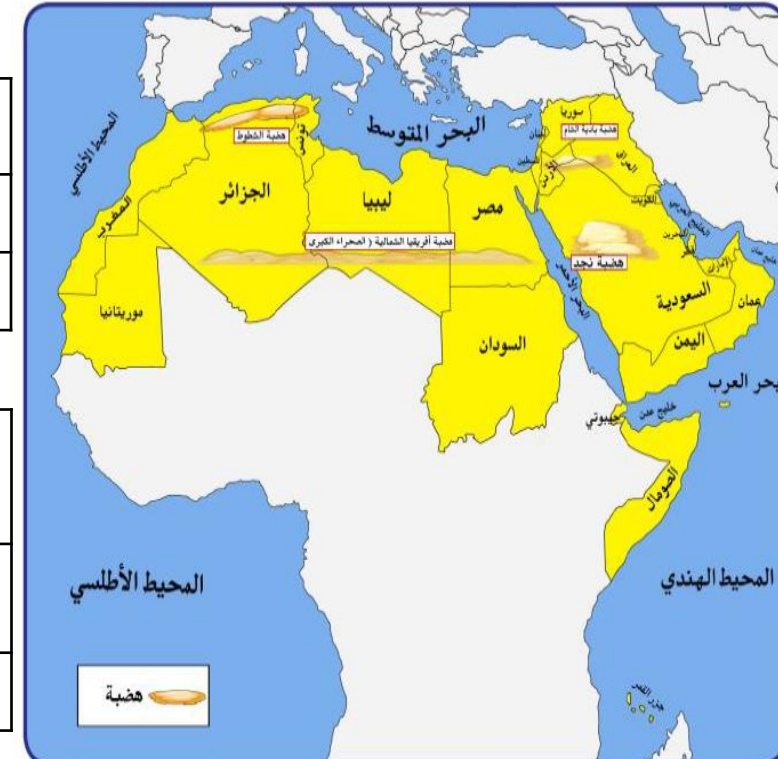
**هضبة شبه الجزيرة العربية وبلاد الشام**

الهضاب في الجناح الآسيوي

اسم الهضبة	الدولة التي تقع فيها الهضبة
نجد	السعودية
بادية الشام	سوريا - الأردن

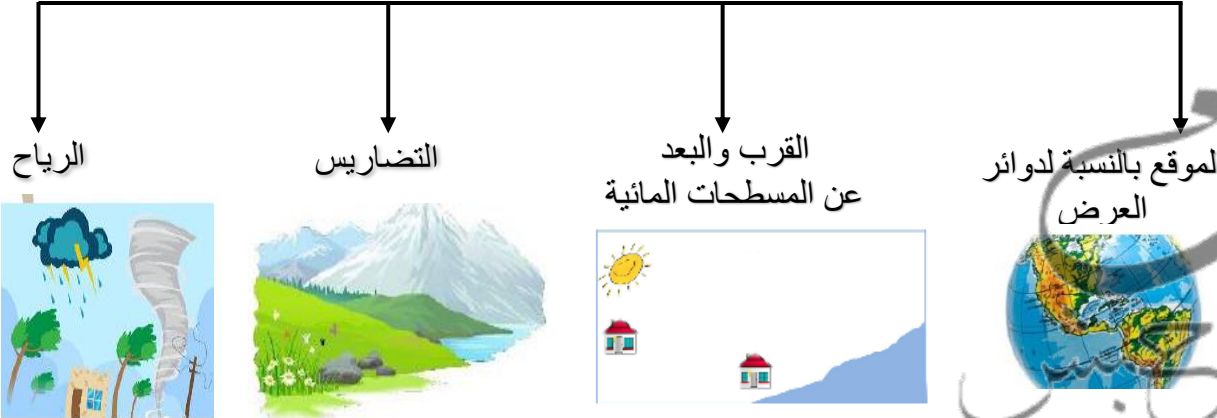
الهضاب في الجناح الأفريقي

اسم الهضبة	الدولة التي تقع فيها الهضبة
الصحراء الكبرى	مصر - ليبيا
الشطوط	تونس - الجزائر



الإقليم منطقة أو مكان  
مثال (إقليم صحراوي - إقليم صناعي)

## العوامل التي تؤثر في مناخ الوطن العربي

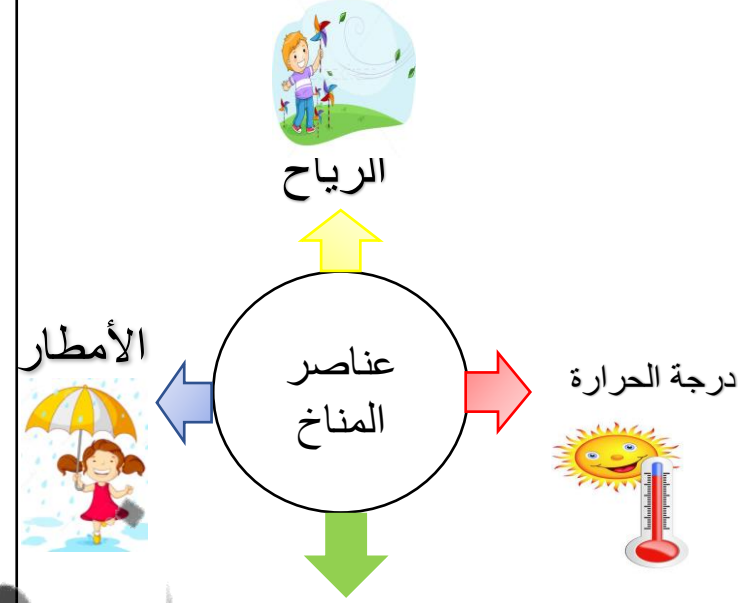


إذا مرت الرياح على  
بحار محملة ببخار  
الماء فقد تسبب سقوط  
المطر أو ارتفاع نسبة  
الرطوبة وإذا كانت  
تهب من منطقة جافة  
فإنها لا تسقط مطر  
(علل)  
بسبب توفر الرطوبة  
اللازمة لسقوط المطر

تؤثر التضاريس  
بصورة مباشرة  
من ناحية درجة  
الحرارة وتوزيع  
كمية الأمطار

المدن الساحلية أكثر  
اعتدالاً في المناخ  
صيفاً وأدفاً شتاءً  
(علل)  
لأن البحر يلطف  
من درجة حرارتها

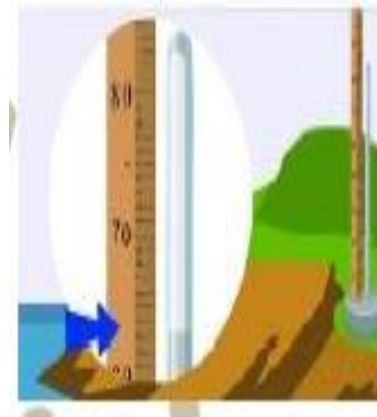
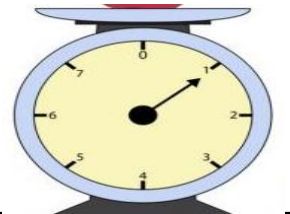
الأماكن القريبة  
من خط الاستواء  
تتميز بارتفاع  
في درجات  
الحرارة



**الطقس** حالة الجو في مكان لمدة  
زمنية قصيرة تتراوح بين يوم  
أو عدة أيام من حيث درجة  
الحرارة الرطوبة والأمطار  
والرياح والضغط الجوي

**المناخ** حالة الجو في مكان  
لمدة زمنية طويلة من حيث  
درجة الحرارة الرطوبة  
والأمطار والرياح

**الضغط الجوي**  
وزن الهواء فوق أي مكان



## مناخ الوطن العربي في فصل الصيف والشتاء



### فصل الصيف



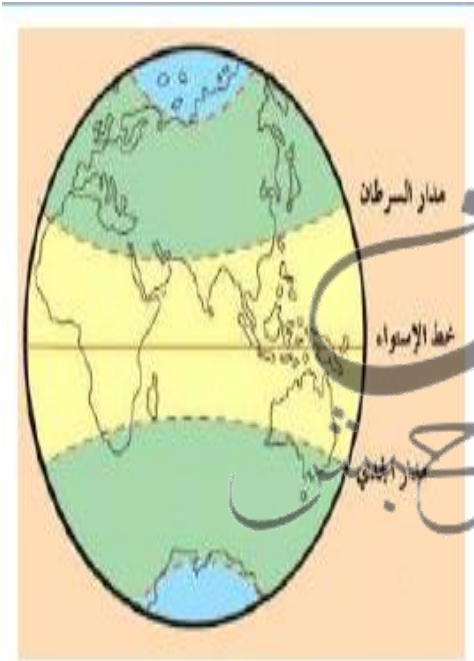
تكون الشمس عمودية على المنطقة الواقعة بين خط الاستواء ومدار السرطان وترتفع الحرارة أكثر في وسط الوطن العربي



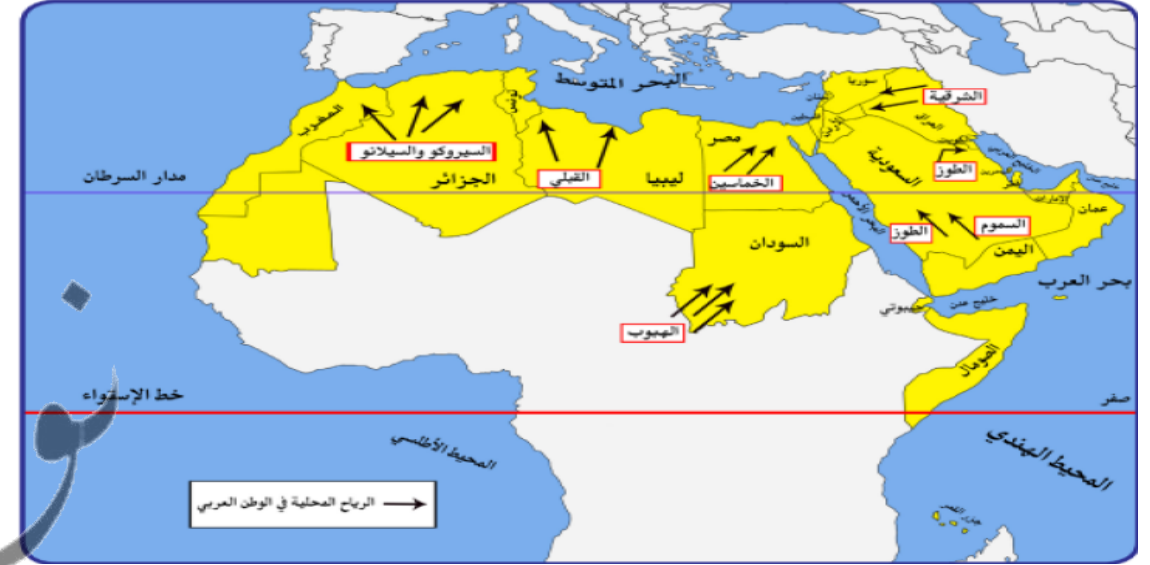
### فصل الشتاء



تكون الشمس عمودية على المنطقة الواقعة بين خط الاستواء ومدار الجدي وترتفع الحرارة في جنوب الوطن العربي



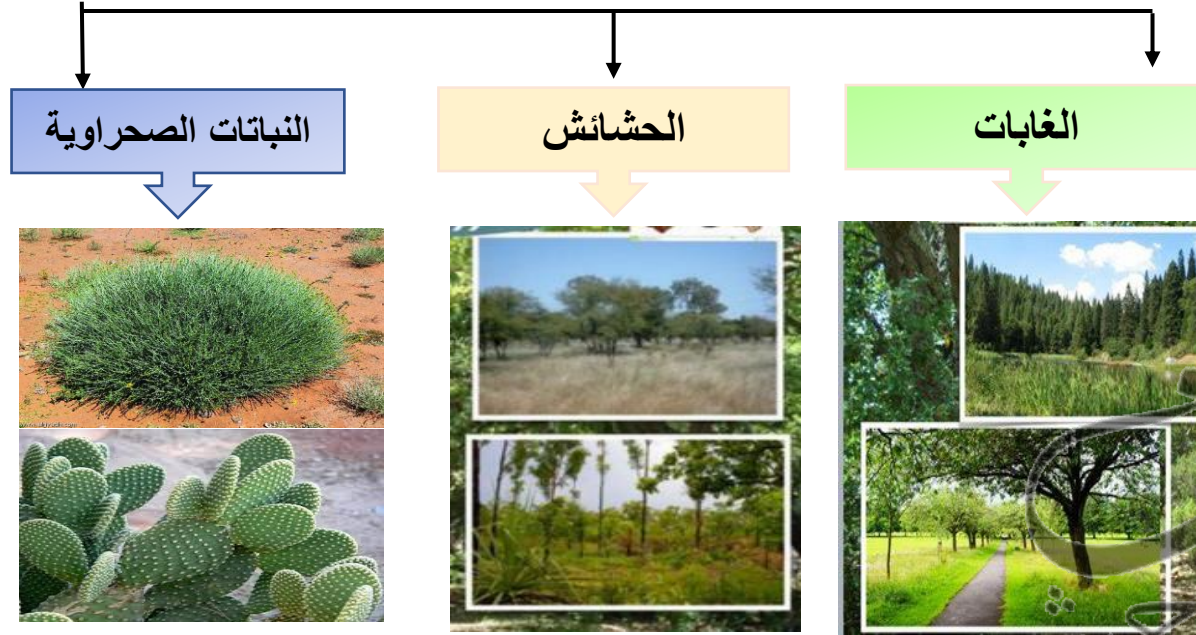
## أسماء الرياح التي تهب في الوطن العربي



اسم الرياح المحلية	الدولة
الطوز	الكويت – السعودية
الشريفة	العراق
الخماسين	مصر
الهبوب	السودان
القبلي	ليبيا
السيركو – السيلاو	الجزائر




## الحياة النباتية في الوطن العربي




التوزيع الجغرافي (أين ينتشر )	نوع
جنوب السودان – الصومال	الغابات المدارية (الحارة )
الجزء الشمالي للوطن العربي – حوض البحر المتوسط	الغابات المعتدلة
جنوب السودان والصومال – جنوب شرق وغرب شبه الجزيرة العربية	الحشائش الحارة (السافانا)
حوض الخليج العربي والعراق والشام وشمال الوطن العربي	الحشائش المعتدلة (الاستبس )
الأجزاء الوسطى من الوطن العربي	نباتات صحراوية


## النبات الطبيعي في الوطن العربي

النبات الطبيعي : هو النبات الذي ينمو تلقائياً بعد سقوط المطر دون تدخل الإنسان 

العوامل المؤثرة في تنوع النبات الطبيعي



## أهم الحيوانات السائدة في المنطقة الصحراوية



وجه المقارنة	الغابات المدارية الحارة	الغابات المعتدلة
الخصائص	ضخامة أشجارها متشابكة الأغصان ارتفاعها الكبير أوراق عريضة	عدم كثافتها دائمة الخضرة يتساقط بعضها في الشتاء
أهم الأشجار	الساج التاك الابنوس السدر الاثل السنط الماهو جني	أرز العرعر الصنوبر البلوط - سنديان - الزيتون حمضيات فواكه - التفاح
الاستخدامات	تستخدم في البناء وصناعة الأثاث	صناعة الفلين

وجه المقارنة	حشائش السافانا	حشائش الاستبس
التعريف	حشائش طويلة يختلف نوعها حسب كمية الأمطار تقسم الى طويلة متوسطة - قصيرة	حشائش قصيرة نوعا ما وتنمو في الشتاء خلال سقوط الأمطار وتعرف في بلاد المغرب باسم الحلفا
الاستخدامات	تربى عليها الماشية	صناعة الورق - الحبال الحصر وتربى عليها الأغنام والابل والخيول والحمير

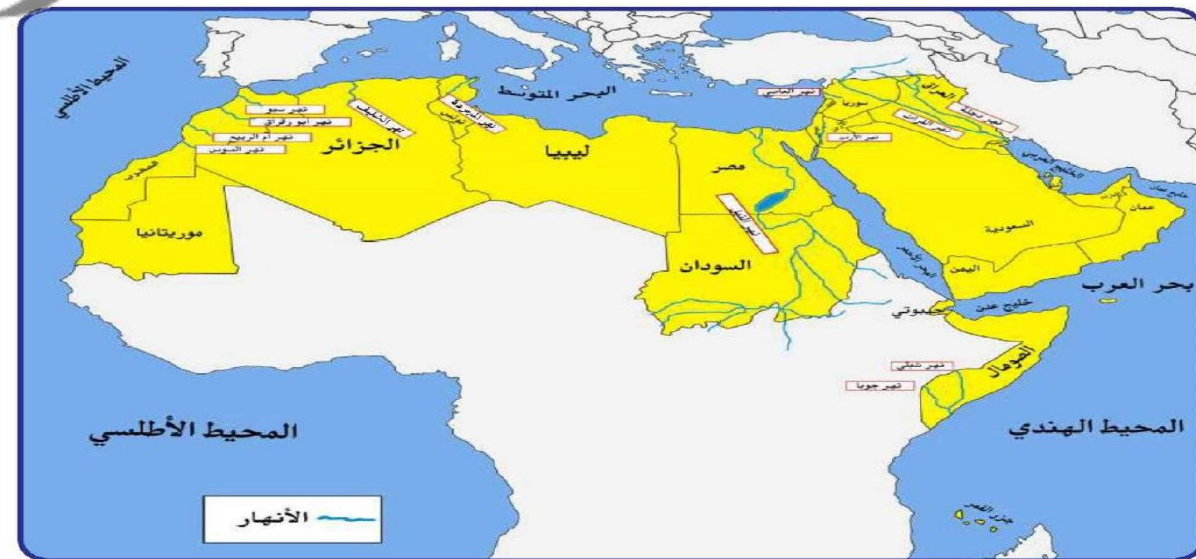


أهم خصائص النباتات الصحراوية  
١- يحمي نفسه بلحاء سميك ٢- القدرة على تخزين الماء ٣- جذور طويلة

## مصادر المياه في الوطن العربي



النهر : مجرى مائي عذب ينحدر على الدوام لينتهي إلى بحر أو إلى نهر آخر أو ينتهي تدريجياً في الصحراء



شكل ( ٢٠ ) خريطة توضح أهم الأنهار في الوطن العربي

## الأنهار في الجناح الأفريقي

اسم النهر	الدولة العربية التي يمر بها
النيل	مصر - السودان
شبلي	الصومال
جوبا	الصومال
المجرية	تونس
الشليف	الجزائر
سيو	المغرب
أم الربيع - السوس	

## الأنهار في الجناح الآسيوي

اسم النهر	الدولة العربية التي يمر بها
دجلة والفرات	سوريا - العراق
الأردن	الأردن
العاصي	لبنان

🌟صب نهر دجلة والفرات في سوريا والعراق  
🌟يمر نهر النيل في دولتين عربيتين تسمى السودان - مصر

## صفات الأمطار في الوطن العربي

- \* تذبذب كمية الأمطار بين عام وآخر .
- \* تقتصر الأمطار في الوطن العربي على الأطراف الشمالية والأطراف الجنوبية .
- تتصف الأمطار بأنها قليلة بصفه عامة ماعدا المناطق التي تقع خلفها الجبال مثل سواحل المغرب ولبنان .

الأمطار	المياه الجوفية
الماء الجاري هو مجرى صغير مائي في الأرض	المياه التي توجد في جوف الأرض (باطن الأرض)

## أهم مصادر المياه الجوفية

الآبار - الأفلاج - العيون - الينابيع .

## البحيرات

مسطح مائي تحيط به اليابسة من جميع الاتجاهات .



## الثروة المائية في الوطن العربي



### مياه البحار

تتم الاستفادة من مياه البحار بعد تحليتها هذه  
الطريقة تتبعها الدول التي تقل فيها مصادر المياه  
العذبة مثل :  
دول الخليج العربية  
بعض الدول العربية مثل : ليبيا

### محطات التحلية

قطر	السعودية	الكويت
رأس عبود - فنتاس	منطقة الإحساء	الشويخ (١٩٥٣) محطة الدوحة

### ترشيد استخدام المياه

كيف نحافظ على ثروة المياه ونخفف من المشكلة؟



- ١- ترشيد استخدام المياه والحد من التبذير في المنزل .
- ٢- تطوير استعمال مياه الصرف الصحي المعالجة في الزراعة .
- ٣- إقامة البحيرات والسدود لتجميع مياه الأمطار والسيول .
- ٤- توقيع اتفاقيات مع الدول المشاركة ودول المنبع لتحقيق مصالح الدول العربية المعنية .
- ٥- تنظيم عمليات الاستفادة من المياه الجوفية ومنع تسرب الأملاح الملوثة .