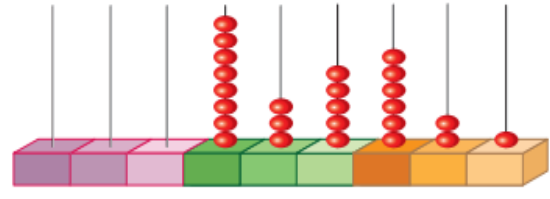
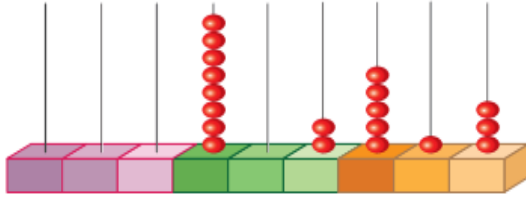




مراجعة الاختبار التقويمي الاول (الوحدة الاولى)

للفص الرابع الابتدائي

اكتب رمز العدد



..... خمسمئة وواحد وسبعون ألف وثمانية عشر

..... اربعمئة ألف و خمسة

..... اثنان وتسعون ألف وثمانمئة

..... ستة آلاف وسبعمئة وواحد وأربعون

..... $٧ + ٨٠٠ + ٢٠٠٠٠$

..... $٩ + ٥٠٠ + ٤٠٠٠ + ٦٠٠٠٠ + ١٠٠٠٠٠$

..... $٥٠٠ + ٦٠٠٠٠٠$

..... $٢٠٠٠٠٠ + ٣٠٠ + ٩٠$

اكتب الاسم المطول :

..... ٧١٠٠٠٥

..... ٦٤١٠





اكتب الاسم اللفظي :

٦٤٠ ٨٠٠

٩ ١٠١

٤٠ ٠٠٠ + ٢ ٠٠٠ + ٥

اكتب القيمة المكانية للرقم الذي تحته خط :

٦١ ٩٣٠

٤٠٠ ٧٦٣

٣٠٢ ٥٦٧

قارن بوضع رمز العلاقة المناسب (> أو < أو =) :

٢٠ ٤٧٠ ○ ٧٢ ٤٠٠

٧٢ ٩٠٠ ○ ٨ ٩٨٦

١٣ ٥٢٠ ○ ١٣ ٥٠٢

٢ ١٩٤ ○ ٢١ ٩٤٠

٢٣١ ٨١٤ ○ ٢٣١ ٨١٤

٨٧ ٠١٣ ○ ٧٨ ٠١٣


رتب الاعداد التالية من الاصغر الى الاكبر (تصاعدي) :

٣١٤ ٨٦٢ ، ٩٠١ ٥٢٣ ، ١٤ ٧٦٣ ، ٩٠٣ ٣١٢

_____ ، _____ ، _____ ، _____

١ ٧٢٤ ، ٨٦٥ ، ٦٧٠٠

_____ ، _____ ، _____



اعداد المعلمة / دينا حمدي



رتب الاعداد التالية من الاكبر الى الاصغر (تنازليا) :

٣ ٧٢٤ ، ٨ ٦٩٠ ، ٦ ٤٣١

_____ ، _____ ، _____

٧١٠ ٨٦٢ ، ١ ٠٠٠ ٠٠٠ ، ١٦٤ ٧٦٣ ، ٨٠١ ٣١٢

_____ ، _____ ، _____ ، _____

قرب الاعداد التالية الى اقرب عشرة :

..... \approx ١ ٣٨٢ \approx ٤٧٦ \approx ٣٥

قرب الاعداد التالية الى اقرب مئة :

..... \approx ٩٧ ٣٨١ \approx ١ ٢٣١ \approx ٥٦٨

قرب الاعداد التالية الى اقرب ألف :

..... \approx ٤٠٢ ١٥٣ \approx ١٩ ٥٣٧ \approx ٤ ٧٦٣

