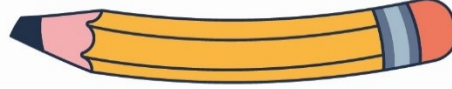




## ليش ليلة الاختبار ما يخرج منها الامتحان؟



سوينالك مذكرة شامله جميع اسئلة الامتحانات السابقه  
والاسئلة المهمه و المتوقعه للاختبار اللي تساعدك في  
تحصيل الفل مارك

بالاضافة الى جزء اختبر نفسك اللي بيساعدك تتحقق من  
نتائج مذاكرتك



في حالة وجود اي تغيير بالمنهج او تعليق جزء  
منه يمكنك مسح رمز ال **Qr** للتأكد من المقرر



إذا احتجت لشيء لا تتردد و تواصل معانا  
من خلال الواتساب 24765631

او من خلال مسح ال **Qr**

@ el.maystro\_q8\_books

24722852

24765631

24711939



## الفهرس

الوحدة الأولى - بلادي الكويت	٣
الوحدة الثانية - نشأة بلادي الكويت	٦
الوحدة الثالثة - تراث بلادي الكويت	١١
أنتم الآن مع نماذج الاختبارات	١٤
الاختبار الأول	١٥
اختبر نفسك	١٦

## الوحدة الأولى - بلادي الكويت

### \* عرف المفاهيم والمصطلحات التالية:

- الدولة: مجموعة من الأفراد يعيشون على قطعة أرض محددة وتنظمهم سلطة.
- ضع خطاً تحت الخيار الصحيح من بين الخيارات التي تلي كل عبارة
  - عدد أعضاء مجلس الأمة الحالي هو:
    - أ- ٥٠ عضو
    - ب- ٥٥ عضو
    - ج- ٦٠ عضو
    - د- ٦٥ عضو
  - يتم انتخاب أعضاء مجلس الأمة لدولة الكويت خلال مدة زمنية تقدر بـ:
    - أ- سنتان
    - ب- ثلاث سنوات
    - ج- أربع سنوات
    - د- خمس سنوات
- عدد ما يلي:

عناصر الدولة: الأرض - السلطة - الشعب

### \* أكمل المخططات السهمية التالية:



### \* عرف المفاهيم والمصطلحات التالية:

- الخور: لسان بحري ممتد داخل الأرض.
- الخيران: هي جمع كلمة خور وتعني لسان من الماء يمتد داخل الأرض.
- ضع خطاً تحت الخيار الصحيح من بين الخيارات التي تلي كل عبارة
  - الجهة الواقعة بين جهة الشمال وجهة الغرب هي:
    - أ- الجنوب الغربي
    - ب- الشمال الغربي
    - ج- الشمال الشرقي
    - د- الجنوب الشرقي
  - تشرق الشمس من جهة:
    - أ- الشرق
    - ب- الغرب
    - ج- الشمال
    - د- الجنوب
  - الدولة التي تحد دولة الكويت من جهة الشمال والشمال الغربي:
    - أ- البحرين
    - ب- العراق
    - ج- السعودية
    - د- قطر
  - الدولة التي تحد دولة الكويت من جهة الجنوب والجنوب الغربي:
    - أ- البحرين
    - ب- العراق
    - ج- السعودية
    - د - قطر
  - تبلغ مساحة دولة الكويت: ..... ص ٢٢
    - أ- ١٥.٨١٨ كم<sup>٢</sup>
    - ب- ١٦.٨١٨ كم<sup>٢</sup>
    - ج- ١٧.٨١٨ كم<sup>٢</sup>
    - د- ١٨.٨١٨ كم<sup>٢</sup>
  - المسطح المائي الذي يحد دولة الكويت من جهة الشرق يسمى:
    - أ- بحر العرب
    - ب- الخليج العربي
    - ج- البحر الأحمر
    - د- خليج عمان

### \* ضع علامة (✓) أمام العبارة الصحيحة علامة (×) أمام العبارة الخاطئة

- سطح دولة الكويت ينحدر تدريجاً من الشرق إلى الغرب. (×)

✳ عدد ما يلي:

- الاتجاهات الأصلية الأربعة: (الشمال - الشرق - الغرب - الجنوب)
- عناصر الخريطة: عنوان الخريطة - مقياس الخريطة - اتجاه الشمال - مفتاح الخريطة

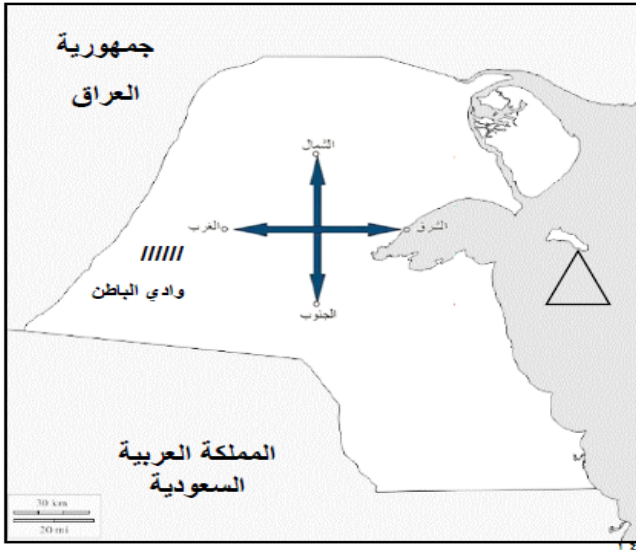
✳ لاحظ الخريطة ثم أجب عن ما يليها من أسئلة:

- مسطح مائي يحده دولة الكويت من جهة الشرق يسمى الخليج العربي
- دولة تقع في جهة الشمال والشمال الغربي لدولة الكويت العراق
- دولة تقع في جهة الجنوب والجنوب الغربي لدولة الكويت المملكة العربية السعودية

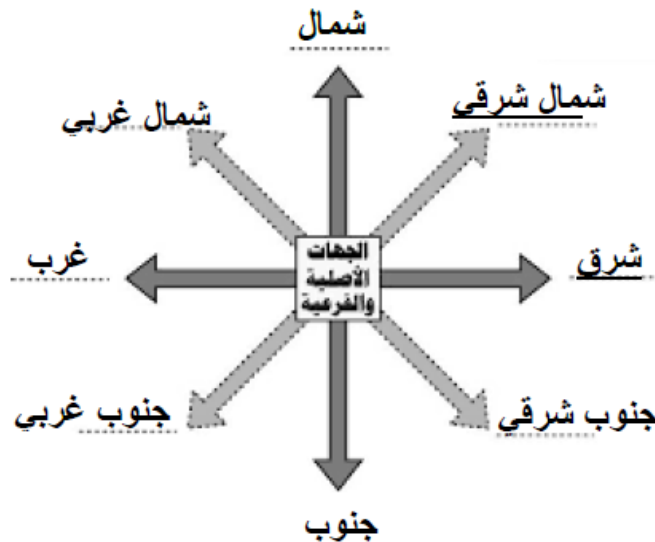


✳ أمامك خريطة دولة الكويت أكتب عليها ما يلي:

- الاتجاهات الرئيسية الأربع على وطنك الكويت
- ضع علامة  $\Delta$  على مياه الخليج العربي
- اكتب أسماء الدول المجاورة لدولة الكويت على الخريطة .
- ضع على الخريطة باستخدام الرمز /// وادي الباطن



✳ لاحظ الشكل المقابل ثم أكمل المطلوب





✱ أكتب فيما يلي:

- مميزات سطح بلادي الكويت.
- سطح مستوي
- يتكون سطحها من سهول رملية يتخللها بعض التلال.
- ساحل رملي منبسّط قليل التعاريج. - ينحدر السطح تدريجياً من الغرب إلى الشرق.

✱ علل / أذكر السبب

- أهمية موقع دولة الكويت.
- تحتل موقع متوسط بالنسبة للعالم - تمثل المعبر التجاري بين خطوط المالحة البرية والبحرية قديماً
- تقع بالجزء الشرقي للوطن العربي - تقع في الطرف الشمالي الغربي للخليج العربي - المنفذ الشمالي الشرقي لشبه الجزيرة العربية

✱ عرف المفاهيم والمصطلحات التالية

- شبه الجزيرة: مساحة من اليابس يحيط بها الماء من ثلاث جهات.
- الجزيرة: قطعة من اليابس تحيط بها المياه من جميع الاتجاهات.
- الرأس: لسان من اليابس يمتد داخل الماء.
- التضاريس: أشكال سطح الأرض من مرتفعات ومنخفضات.
- السهل: أرض مستوية المساحة وواسعة.
- الوادي: منخفض طولي بين منطقتين مرتفعتين.
- التل: أرض مرتفعة قليلاً عن مستوى الأراضي المحيطة بها.
- الطقس: حالة الجو خلال فترة قصيرة من يوم إلى سبوع.
- المناخ: حالة الجو خلال فترة زمنية طويلة لا تقل عن ثلاثين عام.

✱ ضع خطاً تحت الخيار الصحيح من بين الخيارات التي تلي كل عبارة

- يبلغ عدد جزر دولة الكويت:.....
- أ- ٦ جزر      ب- ٧ جزر      ج- ٨ جزر      د- ٩ جزر
- الجزيرة الكويتية التي تقع داخل جون الكويت:.....ص ٨
- أ- أم النمل      ب- فيلكا      ج- بويان      د- قاروه

✱ ضع علامة (✓) أمام العبارة الصحيحة علامة (×) أمام العبارة الخاطئة

جزيرة فيلكا كانت مأهولة بالسكان (✓)

✱ أكمل العبارات التالية بما يناسبها فيما درست

- أكبر الجزر الكويتية مساحة هي جزيرة بويان.
- عدد الجزر الكويتية ٩ جزر.
- الجزيرة الكويتية التي تقع داخل الجون هي جزيرة أم النمل
- سهل يقع في جهة الغرب من دولة الكويت يسمى سهل الدبدبة.
- مناخ دولة الكويت مناخ صحراوي.

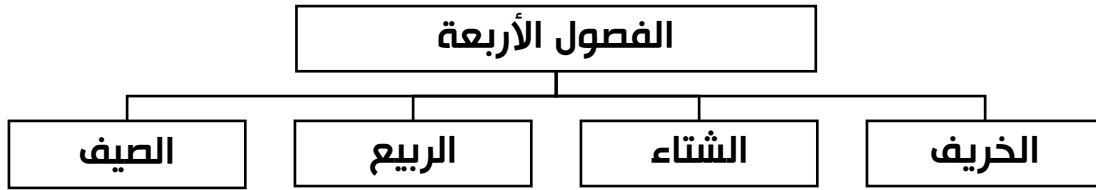


✱ فرق بين كل مما يلي:

الرأس	الخور
لسان من اليابس داخل الماء.	لسان بحري ممتد داخل الأرض.

المناخ	الطقس
حالة الجو خلال فترة زمنية طويلة ال تقل عن ثلاثين عاما.	حالة الجو خلال فترة قصيرة من يوم الى أسبوع.

✱ أكمل المخطط السهمي التالي:



### الوحدة الثانية - نشأة بلادي الكويت

✱ عرف المفاهيم والمصطلحات التالية

- الكويت: الحصن الصغير الذي يستخدم لتخزين الأسلحة والمؤن.
- القرين: اسم دولة الكويت قديما والذي يعني تصغير القرن.
- الاستقلال: مسؤولية الدولة بصورة مباشرة عن إدارة شؤونها الداخلية والخارجية.
- الزيادة طبيعية: عدد المواليد - عدد الوفيات.
- الزيادة الغير طبيعية: الزيادة الناتجة الهجرة.
- الكثافة سكانية: هي عدد السكان ÷ مساحة الدولة.

✱ ضع خطا تحت الخيار الصحيح من بين الخيارات التي تلي كل عبارة

- الاسم الذي كان يطلق على دولة الكويت قديما:.....
- أ- القرين      ب- الحصن      ج- الجهراء      د- الشامية
- المدرسة التي افتتحت في عهد الشيخ مبارك الصباح عام ١٩١١م هي: ص ٤٥
- أ- الأحمدية      ب- الشرقية      ج- المباركية      د- القبلية
- تحررت دولة الكويت في عهد الشيخ جابر الأحمد الصباح في عام: .....
- أ- ١٩٩٠ م      ب- ١٩٩١ م      ج- ١٩٩٢ م      د- ١٩٩٣ م
- تحررت دولة الكويت في عهد الشيخ: .....
- أ- جابر الأحمد الصباح      ب- صباح الأحمد الصباح
- ج- سعد العبد لله الصباح      د- نواف الأحمد الصباح
- أمير دولة الكويت الذي تم اختياره من قبل الأمم المتحدة قائد للعمل الإنساني عام ٢٠١٤م الشيخ: ...
- أ- صباح السالم      ب- صباح الأحمد الصباح
- ج- جابر الأحمد الصباح      د- عبد الله السالم



- أمير دولة الكويت الذي لقب بأمر القلوب الشيخ:.....
  - أ- جابر الأحمد الصباح
  - ب- نواف الأحمد الصباح
  - ج- صباح الأحمد الصباح
  - د- عبد الله السالم
- افتتحت المدرسة الأحمدية في عهد الشيخ:.....
  - أ- صباح السالم
  - ب- أحمد الجابر الصباح
  - ج- عبد الله السالم
  - د- صباح الأحمد
- بدأ استخدام النشيد الوطني الحالي لدولة الكويت في عهده الشيخ: .....
  - أ- جابر الأحمد الصباح
  - ب- صباح الأحمد الصباح
  - ج- عبد الله السالم الصباح
  - د- صباح السالم الصباح
- العام الذي رفعه فيه العلم الحالي لدولة الكويت: .....
  - أ- ١٩٦٠
  - ب- ١٩٦١
  - ج- ١٩٦٢
  - د- ١٩٦٣
- مؤلف النشيد الوطني هو الشاعر: .....
  - أ- أحمد العدواني
  - ب- إبراهيم الصوله
  - ج- فهد العسكر
  - د- بدر بورسلي
- التعداد السكاني في دولة الكويت يتم كل: .....
  - أ- ٣ سنوات
  - ب- ٤ سنوات
  - ج- ٥ سنوات
  - د- ٦ سنوات
- أول تعداد سكاني تم إجراؤه في دولة الكويت عام: .....
  - أ- ١٩٥٤
  - ب- ١٩٥٥
  - ج- ١٩٥٦
  - د- ١٩٥٧
- أكبر محافظات دولة الكويت من حيث المساحة محافظة: .....
  - أ- الجهراء
  - ب- حولي
  - ج- مبارك الكبير
  - د- الأحمدية
- أصغر المحافظات مساحة في دولة الكويت: .....
  - أ- الجهراء
  - ب- حولي
  - ج- مبارك الكبير
  - د - العاصمة
- أكثر المحافظات كثافة في دولة الكويت: .....
  - أ- الجهراء
  - ب- حولي
  - ج- الفروانية
  - د - العاصمة
- محافظة يتركز بها الكويتيون: .....
  - أ- الجهراء
  - ب- حولي
  - ج- مبارك الكبير
  - د- العاصمة
- تتبع الجزر الكويتية إداريا محافظة: .....
  - أ- الجهراء
  - ب- حولي
  - ج- مبارك الكبير
  - د- العاصمة

✳ ضع علامة (✓) أمام العبارة الصحيحة علامة (×) أمام العبارة الخاطئة

- حاكم الكويت الأول هو الشيخ عبد الله بن صباح. (×)
- أول تعداد سكاني لدولة الكويت في عام ١٩٥٧. (✓)
- أحدث المحافظات تأسيساً هي محافظة حولي. (×)
- اسم الكويت قديماً القرين . (✓)
- سكنت أسرة الصباح قصر صباحا في منطقة الاحساء. (×)
- شيد سور الكويت الثالث في عام ١٩١١م. (×)
- القصر الأحمر يقع في محافظة الجهراء (✓)
- الشيخ صباح السالم الحاكم ١٢ لدولة الكويت. (✓)



- لقب الشيخ جابر الأحمد الصباح بأمر القلوب. (✓)
- تم توقيع اتفاقية الحماية مع بريطانيا في عهد الشيخ أحمد الجابر. (×)
- انضمت الكويت الى جامعة الدول العربية بعد الاستقلال. (✓)
- استخدم النشيد الوطني في ٢٥ فبراير. (✓)
- أول عملة سكّت في عهد الشيخ عبد الله بن صباح (✓)
- تم تصدير النفط في عام ١٩٣٦. (✓)

#### ✳ أكتب فيما يلي:

- بنود اتفاقية الحماية البريطانية لدولة الكويت.
- التزام بريطانيا بحماية الكويت.
- عدم تنازل الشيخ مبارك وورثته عن بيع أو إيجار أو رهن أي جزء من إقليمه دون موافقة الحكومة البريطانية.

#### ✳ أكمل العبارات التالية بما يناسبها فيما درست

- الفترة الزمنية التي استقر بها آل صباح في شبة جزيرة قطر 50 عام
- انتقل آل الصباح من منطقة الهدار إلى شبة جزيرة قطر بواسطة الجمال
- انتقل آل الصباح من شبة جزيرة قطر إلى الكويت بواسطة السفن
- دارت معركة الجهراء عام ١٩٢٠ م في القصر الأحمر.
- شيد سور الكويت الثالث في عام 1920 م
- المعركة البحرية التي حدثت في عهد الشيخ عبد الله بن صباح الرقعة
- الشيخ الذي حدث في عهد معركة الجهراء هو سالم المبارك
- تم توقيع اتفاقية الحماية لدولة الكويت مع بريطانيا عام 1899 م
- الشيخ الذي استقلت دولة الكويت في عهده هو عبد الله السالم.
- الاتفاقية التي حصلت بموجبها دولة الكويت على استقلالها الصداقة والتشاور
- العملة الكويتية التي أصدرت في عهد الشيخ عبد الله السالم هي الدينار.
- حياكة السدو وصناعة منتجات الألبان من حرف أهل البادية الخاصة بالنساء.
- رعي الأغنام من حرف أهل البادية الخاصة بالرجال.
- اعتمد المزارعون قديماً في ري مزارعهم على الآبار.

#### ✳ عدد ما يلي:

- الألقاب التي حصل عليها الشيخ مبارك الصباح.
- مبارك الكبير – إسد الجزيرة
- المحافظات الكويتية.
- العاصمة – جولي – الفروانية – مبارك الكبير – الجهراء – الأحمد

#### ✳ علل / أذكر السبب

- هجرة العتوب من منطقة الهدار.
- بسبب الحفاف والقحط
- اختيار الشيخ صباح بن جابر أول حاكم لدولة الكويت.
- لأنه يتمتع بصفات قيادية





### يمتاز بالحكمة والنظرة الثاقبة

- لقب الشيخ عبد الله السالم بـ (أبو الاستقلال).

لأن في عهده حصلت الكويت على الاستقلال

✳ من أنا؟

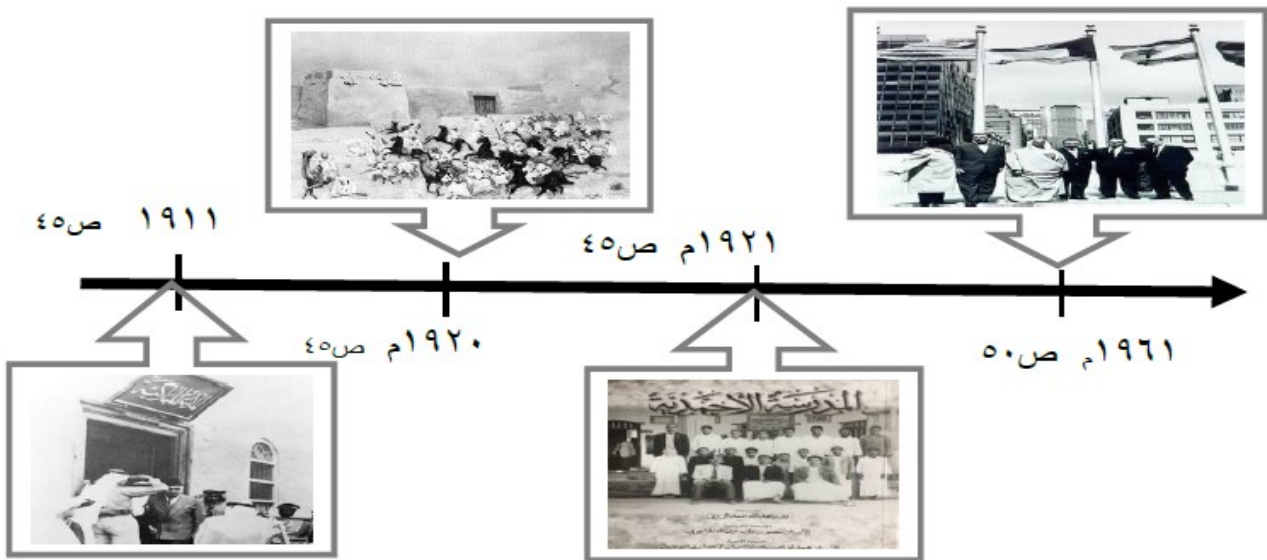
- تقلدت حكم البلاد وأصبحت الحاكم الحادي عشر وحققت عدداً من الإنجازات الداخلية منها بناء مستشفى الصباح وصدقت على الدستور؟

الشيخ عبد الله السالم الصباح

- أصبحت الحاكم السابع للبلاد وتطورت الكويت في عهدي ووقعت اتفاقية الحماية في عام ١٨٩٩م لصد الأعداء حتى لقبت بأسد الجزيرة؟

الشيخ مبارك الصباح

✳ أكمل المخطط الزمني التالي:







✳ صف العبارات التالية إلى مكانها المناسب في الجدول الذي يليها

( التصديق على الدستور – انضمام دولة الكويت لجامعة الدول العربية – انشاء ثانوية شويخ – انضمام دولة الكويت لهيئة الأمم المتحدة )

الأعمال الخارجية	الأعمال الداخلية
انضمام دولة الكويت لجامعة الدول العربية - انضمام دولة الكويت لهيئة الأمم المتحدة	التصديق على الدستور انشاء ثانوية شويخ

✱ اختر من المجموعة (ب) ما يرتبط بالمجموعة (أ) بوضع الرقم

م	المجموعة (أ)	الرقم المناسب	المجموعة (ب)
١	الشعار الأول لدولة الكويت	٢	
٢	الشعار الثاني لدولة الكويت	١	
٣	الشعار الثالث لدولة الكويت		
		٣	

✱ أكتب أبرز الأحداث في عهد كل حاكم في الجدول الذي يليه



١. تحرير دولة الكويت ١٩٩١م



٢. قائد العمل الإنساني ٢٠١٤م



٣. اتفاقية مع بريطانيا ١٨٩٩م



٤. استقلال الكويت ١٩٦١م

✱ أكتب أسماء العملات المتداولة في دولة الكويت منذ النشأة في الجدول الذي يليه

1/ الروبية الهندية – ٢/ البيزة - ٣/ أول عملة كويتية الدينار – ١٤/ إصدار السادس للدينار ص ٥٤



٣	١	٤	٢
---	---	---	---

✱ فرق بين كل مما يلي:

الزيادة الغير طبيعية	الزيادة الطبيعية
الزيادة الناتجة عن الهجرة	عدد المواليد – عدد الوفيات

### الوحدة الثالثة – تراث بلادي الكويت

✱ عرف المفاهيم والمصطلحات التالية

- الحرف القديمة: هي عمل يحتاج الى مهارة وصناعة يدوية.
- القلاف: هو صانع السفن الصغيرة والكبيرة مثل اليوم والسنيوك وغيرها من السفن.
- النقعة: هو مكان صناعة وإصلاح السفن.
- الصايغ: صانع المجوهرات والحلي.
- النكاس: مصلح الرحى التي تطحن القمح.
- الخراز: صانع المشغولات الجلدية.
- الفواص: هو الشخص الذي يستخرج اللؤلؤ من أعماق البحار.
- الطواش: هو تاجر اللؤلؤ قديما.
- الفرضة: سوق الخضار.
- المخيول: دمية توضع في المزارع لإبعاد الطيور عن المحاصيل الزراعية.
- القنص: الصيد البري.
- الأمثال: هو كلام موزون واضح المعنى موجز اللفظ يتناوله الناس ليعبر عن حادث ما.

✱ ضع خطا تحت الخيار الصحيح من بين الخيارات التي تلي كل عبارة

- الفصل الذي يرتدي فيه الرجل الكويتي دشداشة لونها فاتح هو :.....

أ- الصيف      ب- الشتاء      ج- الخريف      د- الربيع

- صانع السفن الصغيرة والكبيرة في دولة الكويت قديما هو:

أ- الصايغ      ب- القلاف      ج- الخراز      د- الطواش



صانع المجوهرات والحلي في دولة الكويت قديماً هو:

أ - الصايغ      ب - القلاف      ج - الخراز      د - الغواص

✳ ضع علامة (✓) أمام العبارة الصحيحة علامة (×) أمام العبارة الخاطئة

- (×) تخرج سفن الغوص إلى البحر في بداية فصل الربيع.
- (✓) اعتمد قديماً في ري المزروعات على الآبار.
- (✓) شجرة النخيل ذات فوائد كثيرة.
- (✓) ساعدت الظروف المناخية على انتشار هواية القنص قديماً
- (✓) الصقر من الأدوات التي تساعد على ممارسة هواية القنص
- (×) من أنواع الحيوانات التي تعيش في بيئة الكويت الصحراوية الثعبان والفيل.

✳ أكتب المثال المناسب لكل من العبارات التالية:

- يقال لحث الإنسان على الاعتماد على نفسه ← ما يعينك إلا يمينك
- يقال للترحيب بالضيف القادم بعد غياب ← الجمعة معزة
- يقال بعدم الحزن والرضا بقضاء الله وقدره ← حبل الكذب قصير

✳ أكمل العبارات التالية بما يناسبها فيما درست

- حياكة السدو وصناعة منتجات الألبان من حرف أهل البادية الخاصة بالنساء
- رعي الأغنام من حرف أهل البادية الخاصة بالرجال
- اعتمد المزارعون قديماً في ري مزروعا تهم على الآبار.

✳ فرق بين كل مما يلي:

القلاف	الطواش
صانع السفن الصغيرة والكبيرة مثل البوم والسنبوك في النقعة.	تاجر اللؤلؤ قديماً وله أدوات خاصة به مثل الطوس والميزان

✳ صف العبارات التالية إلى مكانها المناسب في الجدول الذي يليها

( الطوس – الفطام – الديين – الميزان )


أدوات الغوص	أدوات الطواش
الفطام - الديين	الطوس - الميزان

✳ صف العبارات التالية إلى مكانها المناسب في الجدول الذي يليها

( البشت – العباية – العقال – الدراعة – الدشداشة – البخنف )

الملابس الرجالية	الملابس النسائية
البشت - العقال - الدشداشة	العباية - الدراعة - البخنف

✱ أكتب طرق الصيد البري قديماً:



الفخ



السالبة



الصلابة

✱ لاحظ الصور المقابلة ثم أجب على الأسئلة التالية

- ماذا تتضمن الصورة؟ اللؤلؤ
- في أي فصل تخرج سفن الغوص؟ الصيف
- عدد أدوات الغوص:
- الغطام / الدين / الحجر الرصاص
- أذكر طاقم العمل على السفينة:
- النوخذه / المجدمي / السيب / الطواش

✱ أكتب العامل المشترك لمداولات الصور التالية في المكان المناسب

ألعاب شعبية



حرف شعبية



حيوانات بلادي



✱ صف الكلمات التالية إلى مكانها المناسب في الجدول الذي يليها بوضع الرقم فقط



عماكور



لعبة الذيب والغنم



لعبة الحجلة



لعبة الدراحة

✱ من أنا؟

- أمارس هذه الحرفة قديما وأصنع المشغولات الجلدية؟ الخرار
- أمارس هذه الحرفة قديما وكنت خير معين في إصلاح الرحى التي تستخدم في طحن الحبوب؟ النكاس

تم بحمد الله

**أنتم الآن مع نماذج الاختبارات**



## الاختبار الأول

**أولاً : أكمل العبارات التالية مما دارست :**

- ١- تبلغ مساحة دولة الكويت **١٧.٨١٨ كم**
- ٢- الدول المجاورة دولة الكويت هي **العراق و المملكة العربية السعودية**
- ٣- تقع دولة الكويت في وسط **العالم**
- ٤- البيئة البحرية علي الخريطة يمثلها اللون **الأزرق** و البيئة البرية يمثلها اللون **الأصفر**
- ٥- عدد الجزر الكويتية **تسع جزر**
- ٦- اكبر جزيرة كويتية تسمى **بوبيان** \* جزيرة كويتية كانت مأهولة بالسكان قديماً تسمى **فيلكا**
- ٧- ترتفع درجة الحرارة في دولة الكويت في فصل **الصيف**
- ٨- مناخ دولة الكويت مناخ **صحراوي حار**
- ٩- تدور الارض حول الشمس مرة كل **سنة**
- ١٠- أول حكام دولة الكويت هو الشيخ **صباح بن جابر** \*
- ١١- وسيلة انتقال آل صباح من منطقة الهدار الي قطر هي **الجمال**
- ١٢- وسيلة انتقال آل صباح من قطر الى الكويت هي **السفينة**
- ١٣- حدثت معركة الجهراء داخل **القصر الاحمر**
- ١٤- الأمير الذي لقب بأمر القلوب يسمى الشيخ **جابر الأحمد**
- ١٥- المدرسة التي افتتحت في عهد الشيخ مبارك الصباح تسمى المدرسة **المباركية** \*
- ١٦- أطراف اتفاقية الحماية عام ١٨٩٩م الكويت و **بريطانيا**
- ١٧- أرض مرتفعة قليلاً عن مستوي سطح الأرض المحيطة بها تسمى **التل**
- ١٨- لسان من اليايس يمتد داخل الماء يسمى **الرأس**
- ١٩- حالة الجو خلال فترة زمنية طويلة تسمى **المناخ**
- ٢٠- مساحة من اليايس يحيط بها الماء من ثلاث جهات فقط تسمى **شبه الجزيرة**

**ثانياً : اكتب فيما يلي :**

القاب الشيخ مبارك الصباح	تسمية آل الصباح بالعتوب	عناصر الدولة	السلطات في دولة الكويت	هجرة آل صباح من منطقة الهدار	استخدامات الكويت قديماً
*أسد الجزيرة *مبارك الكبير	بسبب كثرة الترحال	الأرض - الشعب السلطة	السلطة التشريعية --- مجلس الأمة السلطة التنفيذية --- الحكومة السلطة القضائية --- المحاكم	بسبب الجفاف و القحط	تخزين الأسلحة و المؤن

**ثالثاً : اكتب التعليق المناسب تحت الصور التالية :-**



معركة الرقة البحرية  
سنة ١٧٨٣م



معركة الجهراء  
سنة ١٩٢٠



الشيخ نواف الأحمد الصباح  
( حاكم دولة الكويت الحالي )



قائد الإنسانية  
عام ٢٠١٤م



الشيخ مبارك الصباح  
( أسد الجزيرة )



## لمعرفة الحل



## اختبر نفسك

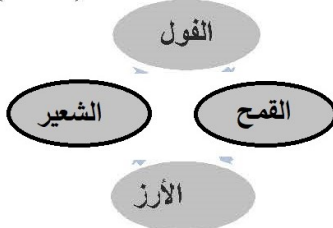
### السؤال الأول :

- (أ) - اختر الإكمال المناسب للمعبارات التالية من بين الخيارات التي تلي كل منها وضع حـ — .
- صانع السفينة قديماً يسمى ( القلاف - الطواش - الغواص )
  - بدأ استخدام النشيد الوطني في عهد سمو الشيخ ( جابر الأحمد - صباح الأحمد - سعد العبدالله )
  - كانت حرفة حياكة السدو قاصرة على ( الرجال - النساء - الاطفال )
  - لعبة يلعبها الأولاد قديماً بعجلات الدراجات المستهلكة ( الحيلة - عماكور - الدريache )
  - صانع المشغولات الجلدية هو ( النجار - الخزاز - الصايغ )
  - يتركز السكان الكويتيون في محافظة ( الفروانية - الأحمدى - الجهراء )
- ( ب ) - ضع علامة ( √ ) امام العبارة الصحيحة او علامة ( × ) امام العبارة غير الصحيحة:

- استخدمت الكويت قبل الاستقلال العملة الصينية . ( )
- تخرج سفن الغوص الى الخليج العربي في بداية فصل الشتاء . ( )
- يرتدي الرجل الكويتي دشداشة لونها فاتح في فصل الصيف . ( )
- الألعاب الشعبية القديمة كانت تجلب المتعة والفائدة . ( )
- ما يعينك الا يمينك مثل يضرب للإعتزاز بالماضي أساس المستقبل . ( )
- كان لون العلم الكويتي القديم هو الأحمر . ( )

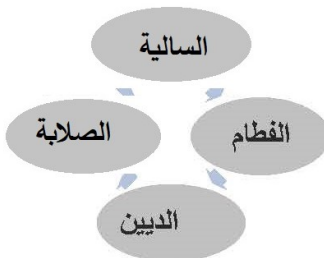
### السؤال الثاني :

- ( أ ) - ظلل فالشكل التالي كما هو مطلوب منك :



- ١ - اثنين من الحبوب التي كان يزرعها الكويتيون :

- ٢ - اثنين من ادوات صيد الطيور :



### ( ب ) - اجب عما يلي :

- ١ - صنف اسباب الزيادة السكانية في الجدول :-

(زيادة ناتجة عن المواليد - زيادة ناتجة عن الهجرة )

زيادة طبيعية	زيادة غير طبيعية

- ٢ - اذكر اثنين من الانجازات الداخلية للشيخ عبد الله السالم . ( يكتفي بنقطتين )