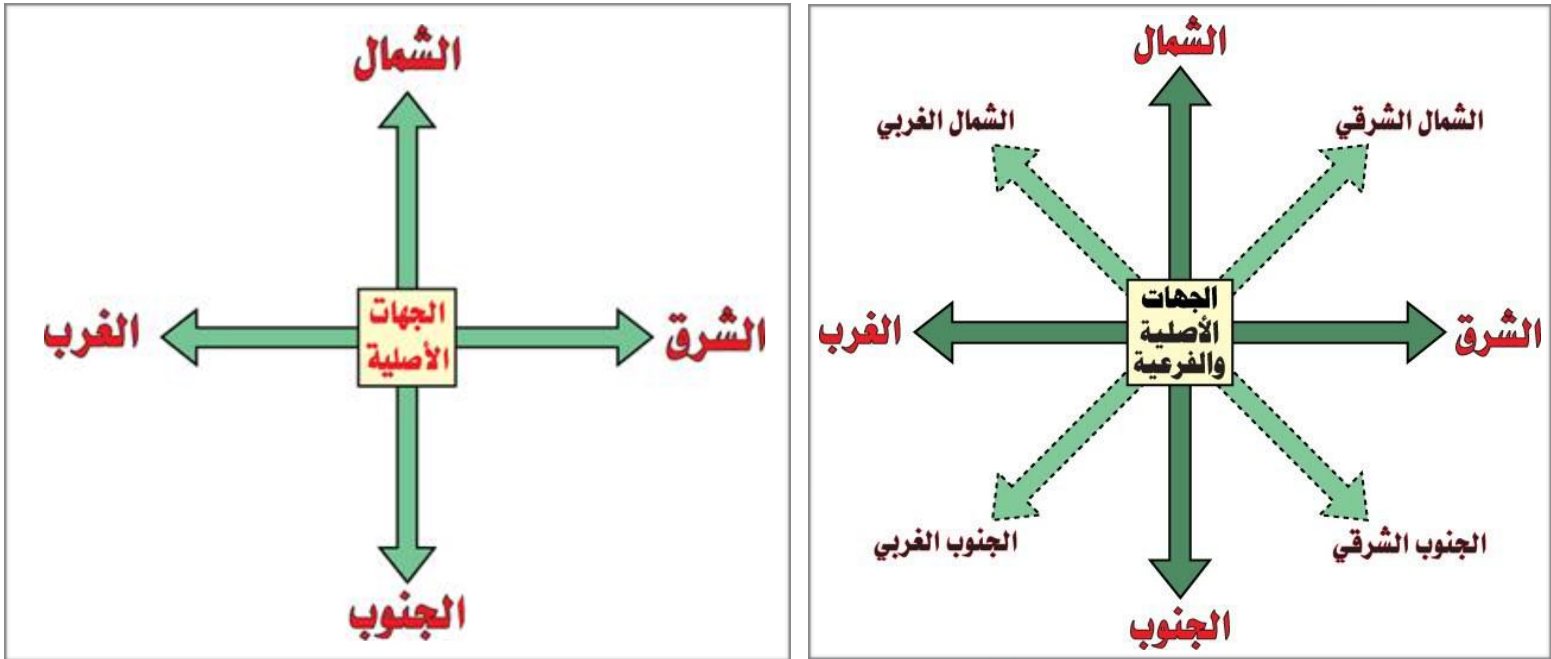
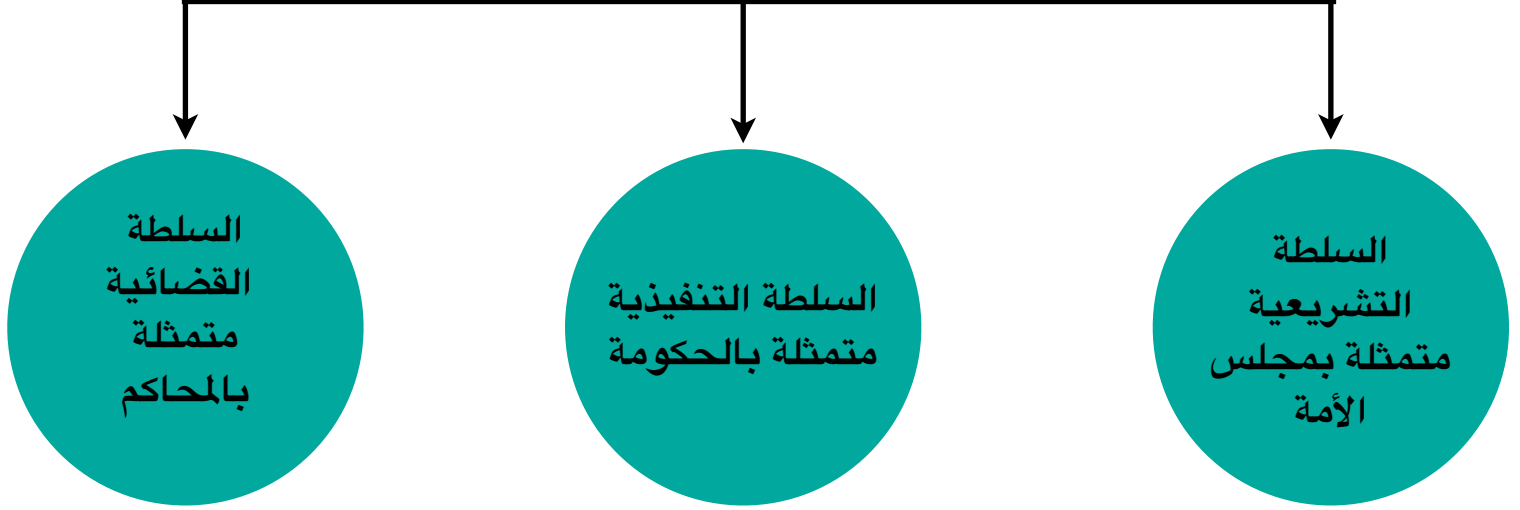


مراجعة شاملة للصف الرابع لمادة بلادي الكويت  
للاختبار الأول الفصل الدراسي الأول

سؤال وجواب :

- من مكونات الدولة : السلطة - الأرض - الشعب

يعتبر الأمير هو الرئيس الأعلى للدولة وتدرج تحته ٣ سلطات هي



ملاحظة يُرجى حفظ الجهات جميعها والحرص على التفريق بين الجهات الأصلية والفرعية

## عناصر الخريطة


عزيزي المتعلم حتى تستطيع قراءة الخريطة وتحليلها يجب عليك أن تتعرف إلى عناصرها:



تقع بلادي الكويت  
في موقع متوسط  
بالنسبة للعالم.



جزر بلادي الكويت ٩  
جزر وهي : بوبيان ،  
وربة ، فيلكا ، مسكان ،  
عوهه ، أم النمل ، كبر ،  
قاروه ، أم النمل



الجزيرة تعني قطعة من اليابس  
تحيط بها المياه من جميع.. الجهات

- لاحظي الخريطة التالية مع حفظ مواقع تضاريس بلادني :



- الخليج العربي
- جزيرة فيلكا
- جزيرة بوبيان
- وادي الباطن
- سهل الدبدبة
- جبال الزور

الرجاء الحرص على حفظ مواقع  
التضاريس مهمة جداً

-

- عددي الفصول الأربعة :



فصل الخريف



فصل الصيف



فصل الربيع



فصل الشتاء

عللي مايلي :

- اختيار الشيخ صباح بن جابر الصباح حاكم لدولة الكويت ؟
- لأنه يتمتع بصفات قيادية و حكمته ونظرته الثاقبة



المناخ :

حالة الجو لفترة طويلة لا  
تقل عن ٣٠ عام



الطقس :

حالة الجو لفترة قصيرة  
يوم أو أسبوع وغير ثابت

مصطلحات علمية ومجموعة مفاهيم مهمة :

- ( الرأس ) لسان من اليابس يمتد داخل الماء
- ( الجزيرة ) قطعة من اليابس تحيط بها الماء من جميع الجهات
- ( سهل ) أرض مستوية واسعة المساحة
- ( تل ) أرض مرتفعة قليلاً عن مستوى الأراضي المحيطة بها



إعداد المعلمة : دلال الهاجري

