

# نماذج اختبارات قصيرة مادة تاريخ الكويت



الفصل الدراسي الأول 2023 – 2024 م

للمصف العاشر



إعداد  
قسم الاجتماعيات



**السؤال الأول: (أ) أكمل العبارات التالية بما يناسبها مما درست:**

- 1- السهل الذي يحتل مساحة كبيرة في غرب وجنوب دولة الكويت يسمى .....
- 2 - تم إجراء أول تعداد سكاني في دولة الكويت عام .....

**السؤال الثاني: (أ) علل ما يلي:**

- 1 - تُعدّ جزيرة فيلكا أهم الجزر الكويتية من حيث التاريخ

.....\*

(ب) عرف المفهوم التالي: -

..... وادي الباطن

**السؤال الثالث: اكتب فيما يلي مما درست:**


- 1 - ما الهدف من دراسة موقع أي دولة من الدول؟

.....\*

- 2 - المناطق الصالحة للزراعة قديماً بالكويت؟

.....\*

**السؤال الرابع: لاحظ خريطة دولة الكويت الصماء ثم أجب عما يليها من أسئلة: -**

أ - الرمز  على الخريطة يمثل تلال تسمى .....

ب - حدد اتجاه الرياح الشمالية الغربية على الخريطة باستخدام الرمز 



(انتهت الأسئلة)

قسم الاجتماعيات اختبار قصير نموذج (ب) لمادة تاريخ الكويت الفصل الأول الصف العاشر

**السؤال الأول: (أ) أكمل العبارات التالية بما يناسبها مما درست:**

- 1- رياح تهب في أواخر الربيع وأوائل الصيف فتثير الغبار مصحوبة عادة بعواصف رعدية تسمى .....
- 2 - تم إجراء أول تعداد سكاني في دولة الكويت في عهد الشيخ .....

**السؤال الثاني: (أ) علل ما يلي:**

- 1 - تُعدّ جزيرتا وربة وبوبيان من أهم الجزر الكويتية التي كانت تمثل مطعماً ومطلباً دائماً للعراق \*

(ب) عرف المفهوم التالي: -

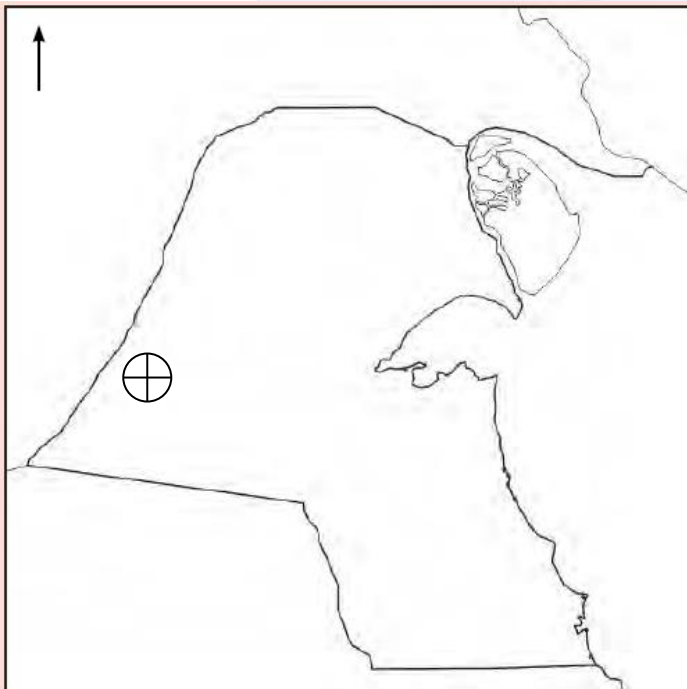
وادي الباطن

**السؤال الثالث: اكتب فيما يلي مما درست:**

- 1 - أهم المناطق التي تنحصر فيها المياه الصالحة للاستهلاك الآدمي في الكويت قديماً \*

- 2 - صف مناخ دولة الكويت صيفاً وشتاءً \*

**السؤال الرابع: لاحظ خريطة دولة الكويت الصماء ثم أجب عما يليها من أسئلة**



أ - الرمز ⊕ على الخريطة يمثل

سهل يسمى .....

ب - حدد جزيرة بوبيان على الخريطة

باستخدام الرمز ▲



# الإجابة

مدرسة التميز النموذجية

**السؤال الأول: (أ) أكمل العبارات التالية بما يناسبها مما درست:**

1- السهل الذي يحتل مساحة كبيرة في غرب وجنوب دولة الكويت يسمى الديديّة

2 – تم إجراء أول تعداد سكاني في دولة الكويت عام 1957 م

**السؤال الثاني: (أ) علل ما يلي:**

1 – تُعدّ جزيرة فيلكا أهم الجزر الكويتية من حيث التاريخ

\* لأنها تحتوي على بقايا وشواهد تاريخية وأثرية متعددة ودلائل أثرية ومعمارية قديمة

(ب) عرف المفهوم التالي: -

وادي الباطن / هو الحد الفاصل بين الحدود الكويتية العراقية بمسافة 150 كيلومتراً

**السؤال الثالث: اكتب فيما يلي مما درست:**


1 – ما الهدف من دراسة موقع أي دولة من الدول؟

\* إبراز القيمة الفعلية لها، والكيفية التي تكون عليها المصالح الحيوية لتلك الدولة

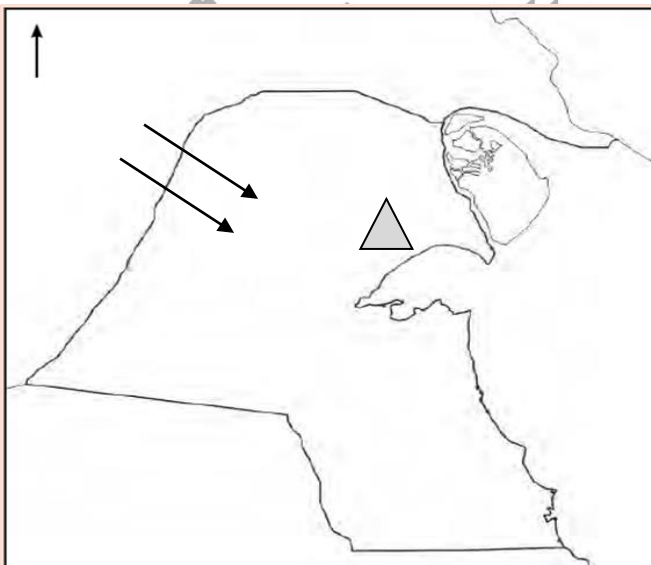
2 – المناطق الصالحة للزراعة قديماً بالكويت؟

\* الفحيحيل والمنقف والفتاس والوفرة والجھراء وأبو حليفة والعقيلة والشعيبة والدمنة

**السؤال الرابع: لاحظ خريطة دولة الكويت الصماء ثم أجب عما يليها من أسئلة: -**

أ – الرمز  على الخريطة يمثل تلال تسمى جال الزور

ب – حدد اتجاه الرياح الشمالية الغربية على الخريطة باستخدام الرمز 



(انتهت الأسئلة)

**السؤال الأول: (أ) أكمل العبارات التالية بما يناسبها مما درست:**

1- رياح تهب في أواخر الربيع وأوائل الصيف فتثير الغبار مصحوبة عادة بعواصف رعدية تسمى السرايات

2 - تم إجراء أول تعداد سكاني في دولة الكويت في عهد الشيخ عبد الله السالم الصباح

**السؤال الثاني: (أ) علل ما يلي:**

1 - تُعدّ جزيرتا وربة وبوبيان من أهم الجزر الكويتية التي كانت تمثل مطمعاً ومطلباً دائماً للعراق \* يُعدهما الجزيرتين الأهم اللتين ستمنحانه منفذاً بحرياً مناسباً له على الخليج العربي.

(ب) عرف المفهوم التالي: -

وادي الباطن هو الحد الفاصل بين الحدود الكويتية العراقية بمسافة 150 كيلومتراً

**السؤال الثالث: اكتب فيما يلي مما درست:**

1 - أهم المناطق التي تنحصر فيها المياه الصالحة للاستهلاك الآدمي في الكويت قديماً

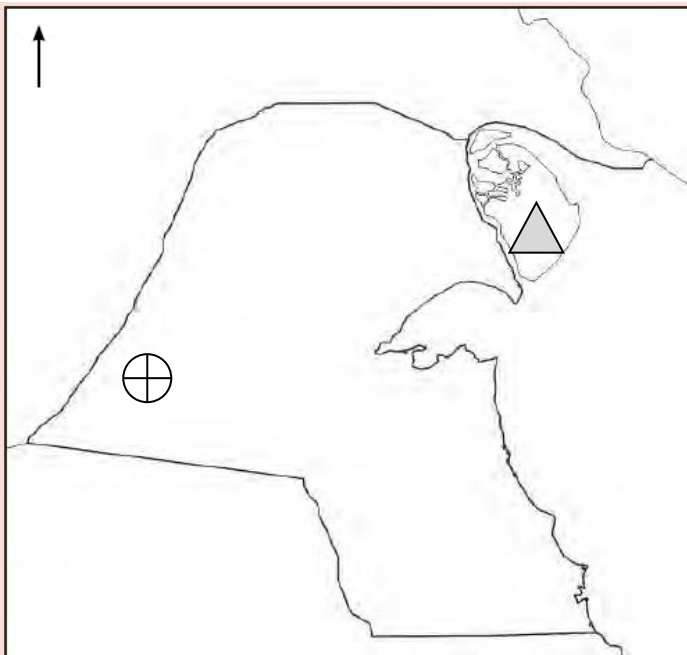
\* الروضتين وأم العيش والصليبية والعبلي والوفرة

2 - صف مناخ دولة الكويت صيفاً وشتاءً

\* الصيف طويل حار جاف والشتاء دافئ قصير ممطر أحياناً ترتفع درجات الحرارة صيفاً

فيتراوح متوسط درجاتها صيفاً بين 42 ° إلى 48 ° وفي الشتاء يصل معدل الحرارة

خلاله إلى 18° درجة مئوية وقد تنخفض الحرارة إلى الصفر المئوي في بعض الأحيان

**السؤال الرابع: لاحظ خريطة دولة الكويت الصماء ثم أجب عما يليها من أسئلة**

أ - الرمز ⊕ على الخريطة يمثل

سهل يسمى الدبدبة

ب - حدد جزيرة بوبيان على الخريطة

باستخدام الرمز △





مدرسة التميز النموذجية  
(ابتدائي - متوسط - ثانوي)  
الجهاز الفني التربوي

# منصات التميز التعليمية

لزيارة منصة التميز التعليمية في اليوتيوب امسح الباركود التالي :



لزيارة منصة التميز التعليمية في تليجرام امسح الباركود الخاص بقناة كل فصل مما يلي :



الصف الرابع



الصف الثالث



الصف الثاني



الصف الأول



الصف التاسع



الصف الثامن



الصف السابع



الصف السادس



الصف الخامس



الصف الثاني عشر  
أدبي



الصف الثاني عشر  
علمي



الصف الحادي عشر  
علمي



الصف الحادي عشر  
أدبي



الصف العاشر



لزيارة صفحتنا في تويتر

لزيارة صفحتنا في الإنستقرام

عنواننا : خيطان - ق ٤ - ش ١٠٠