



الصف العاشر

١٠

الفصل الدراسي الأول

٢٠٢٣ - ٢٠٢٤م

2024

# مراجعات الدلة في مادة

## تاريخ الكويت



تباع حصريا  
لدى جمعية  
الواحة  
التعاونية  
طباعة  
وتصوير  
مستندات



اضغط  
للدخول للقناة



موقع  
مكتبنا



اضغط  
للدخول للقناة



للدخول للقناة على التليغرام  
امسح الكود أو اكتب في البحث  
مراجعات الدلة

العنوان: الجهراء - الواحة - جمعية الواحة التعاونية - بجانب المخفر والمستوصف



99000162

90005903



WhatsApp

## جغرافية دولة الكويت

الموقع الجغرافي	تقع الكويت شمال شرق شبه الجزيرة العربية أقصى شمال غرب الخليج العربي
الموقع الفلكي	تقع بين دائرتي عرض ٢٨ - ٣٠ شمالاً , وخطي طول ٤٦ - ٤٨ شرقاً
الحدود	العراق من الشمال والشمال الغربي - السعودية من الجنوب والجنوب الغربي - الخليج العربي من الشرق .
المساحة	١٧,٨ ألف كم <sup>٢</sup>

### \* علل أهمية مميزات الموقع الجغرافي المتميز لدولة الكويت ؟

- ١- موقعها المميز للطريق الملاحي البحري والتجاري (طريق الهند والشرق الأقصى) .
- ٢- تمثل المدخل الشمالي الشرقي لشبه الجزيرة العربية.
- ٣- تعد مركزاً لتجارة السكان الوافدين عليها .
- ٤- منطقة (ترانزيت أي منطقة التجارة العبور قليلة الضرائب.
- ٥- أحد أهم الموانئ في شمال شرق الإحساء .
- ٦- تميز الكويتيين بالمهارة في نقل التجارة من مواني الخليج والهند والشرق الأفريقي.

### \* ما الهدف من دراسة موقع أي دولة من الدول ؟

- إبراز القيمة الفعلية للدولة والدور الذي يمكن أن تمارسه .



## التضاريس

### \* اذكر خصائص التضاريس في دولة الكويت ؟

- ١- انحدار السطح تدريجياً من الغرب إلى الشرق.
- ٢- لا يزيد أعلى ارتفاع عن ٣٠٠ متر.
- ٣- يتكون السطح من سهول رملية مستوية تتخللها بعض التلال قليلة الارتفاع (١٤٥ م) .

### مظاهر السطح في دولة الكويت



التلال	- شمالاً: تلال جافة (جال الزور (١٣٧ م) - كراع المرو (١٨٣ م) - اللياح . - جنوباً: تلال على شكل قباب في (برقان - وارة - القرين) جنوب الأحمدية .
الهضاب	- هضبة الأحمدية: تأخذ الشكل الطولي في اتجاه شمالي جنوبي لمسافة ٣٠ كم , وارتفاعها (١٣٧ م)
الأودية الجافة	- وادي الباطن: يسير مع الحدود الغربية ويفصل بين الحدود الكويتية العراقية بمسافة ١٥٠ كم.
السهول	١- سهل الدبدبة: يشغل مساحة كبيرة غرب وجنوب الكويت. ٢- سهل برقان: يمتد من جون الكويت باتجاه الجنوب موازياً لخط الساحل ومنسوب سطحه من (صفر-١٠٠ متر) . ٣- سهل الروضتين: يقع شمال الكويت وينحدر باتجاه الشرق والشمال الشرقي.
* علل زادت أهمية سهل برقان باكتشاف النفط ؟	
- لأنه يضم أكبر حقول النفط الكويتية وهو حقول برقان.	

### \* عدد أهم مناطق الزراعة في دولة الكويت قديما مع ذكر السبب ؟

- ( الفحيحيل - المنقف - الفنطاس - الوفرة - الجهراء - أبو حليفة - العقيلة - الشعبية - الدمنة ) .
- السبب : توافر المياه الجوفية في تلك المناطق .

### \* علل أهمية سطح الكويت الجيولوجية ؟

- تمثل جزء من الكتلة العربية حيث تفصل بين العراق والهضبة الصحراوية والتي تكون شبه الجزيرة العربية .
- يتكون سطح الكويت من سهول رملية منبسطة تتخللها بعض التلال قليلة الارتفاع وينحدر السطح نحو الشرق .

## جزر الكويت

### \* عدد أهم الجزر الكويتية ؟

- ( بوبيان - ورية - مسكان - عوهه - فيلكا - أم النمل - كبر - قاروه - أم المرادم - الشويخ ) .

### \* علل تعدد جزيرتا ورية وبوبيان من أهم الجزر الكويتية التي كانت تمثل مطمعا للعراق ؟

- كانا مطمعا ومطلبا للعراق ، ولأنهما الجزيرتين الأهم اللتين ستمنحانه منفذا بحريا مناسباً على الخليج العربي .

### \* علل تعدد فيلكا ( إيكاروس ) أهم الجزر الكويتية من حيث التاريخ ؟

- ١- لأنها تحوي على اشارات ودلائل أثرية قديمة.
- ٢- تعد الجزيرة الثانية من حيث المساحة.
- ٣- تحتوى على بقايا وشواهد تاريخية وأثرية متعددة .
- ٤- ذكرها الغربيون والمصادر اليونانية والرومانية القديمة .
- ٥- عملت فيها بعثات حديثة استكشافية للكشف عن آثارها .

### \* أهم الجزر الكويتية وخصائصها ومميزاتها ؟

99000162  
90005903

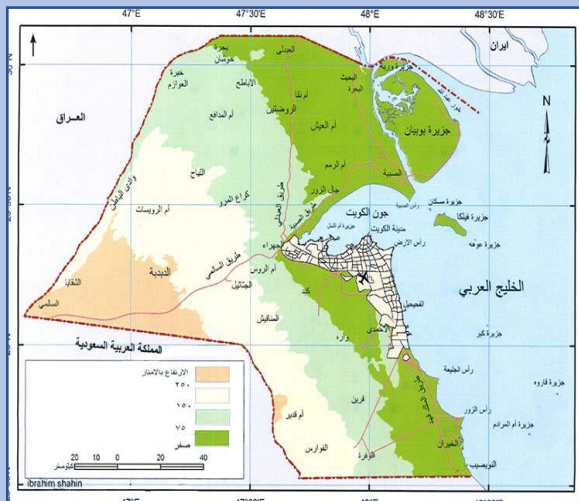
التميز شعارنا  
مذكرات ومراجعات

المرثية

- ١- **(بوبيان) :** أكبر الجزر الكويتية وتمثل ٥٪ من المساحة.
- ٢- **(الشويخ) :** الجزيرة التي تم ردم الجزء المحصور بينها وبين الساحل وأصبحت جزءاً من ميناء الشويخ .
- ٣- **(ورية) :** آخر الجزر التابعة لدولة الكويت من جهة الشمال.
- ٤- **(عوهه) :** جزيرة صغيرة المساحة تقع الى الجنوب الشرقي من فيلكا والمسافة بينهما ( ١٢ ) ميلا .
- ٥- **(كبر) :** جزيرة تقع جنوب فيلكا وتبعد عنها ( ١٩,٥ ) ميلا ومساحتها تقارب مساحة جزيرة عوهه.
- ٦- **(مسكان- قاروه) :** من أصغر الجزر الكويتية مساحة وتقعان في الجنوب.
- ٧- **(أم المرادم) :** آخر جزر الكويت من جهة الجنوب.

### \* أكمل :

- ١- الجزر الكويتية غير مؤهولة بالسكان ما عدا جزيرة **فيلكا**
- ٢- الجزيرة التي هجرها سكانها بعد العدوان العراقي على دولة الكويت عام ١٩٩٠ تسمى **فيلكا**



## المناخ في دولة الكويت



\* ما النتائج المترتبة على الموقع الفلكي لدولة الكويت؟ (المميزات المناخية لدولة الكويت)؟

- ١- مناخ قاري جاف وقاس.
- ٢- ارتفاع درجة الحرارة في معظم أيام السنة.
- ٣- وجود فصلين رئيسيين وهما ( الصيف - الشتاء ) وفصلين ثانويين (الربيع - الخريف).

### المميزات المناخية لدولة الكويت في الفصول الأربعة

الموقع الجغرافي	مميزات
الصيف	١- طويل حار وجاف وقد تصل حرارته من ( ٤٢ - ٤٨ ) مئوية وقد تصل الى (٥٠) مئوية . ٢- ارتفاع الرطوبة خلال شهرين (أغسطس وسبتمبر) . ٣- هبوب رياح مثيرة للغبار .
الشتاء	١- دافئ قصير ومعتدل , ممطر أحيانا . ٢- الحرارة ( ١٨ ) مئوية وقد تنخفض الى الصفر . ٣- أمطار قليلة وغير منتظمة .
الربيع	- قصير ومعتدل .
الخريف	- ترتفع فيه نسبة الرطوبة , وتقل فيه الحرارة عن الصيف .

\* علل لما يأتي :

### ١- يمتاز مناخ الكويت بالجفاف والرطوبة؟

- بسبب قلة الأمطار ونسبة التبخر العالية.

### ٢- يعاني سكان الكويت من القدم من مشكلة المياه؟

- لأن الموارد المائية شحيحة وعالية الملوحة .

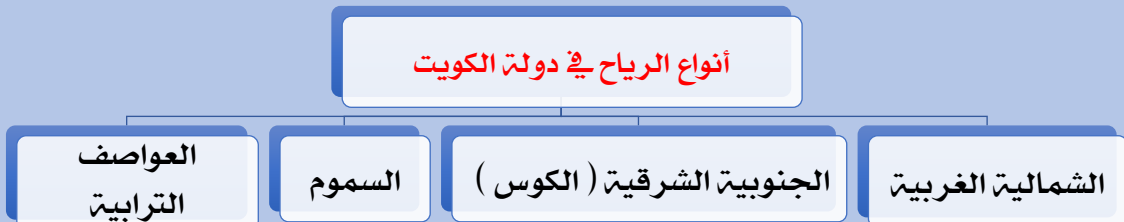
### ٣- ارتباط أصول السكان في الكويت ارتباطا بالتركيبة السكانية لشبه الجزيرة العربية بمفهومها التاريخي؟

- لأنها تقع ضمن الامتداد الجغرافي والسياسي للإقليم الذي يحتل المنطقة الغربية للخليج العربي ويعرف تاريخيا بإقليم البحرين .

### \* عدد أهم مناطق المياه الصالحة للاستهلاك الآدمي بالكويت ؟

- ( الروضتين - أم العيش - الصليبية - العبدلي - الوفرة ) .

### أنواع الرياح في دولة الكويت



\* عرف ما يأتي :

١- **الكوس** : رياح رطبة تهب على الكويت من الجنوب الشرقي ترفع الحرارة صيفا وممطرة شتاء .

٢- **السموم** : رياح جافة جدا تهب من الشمال أو الشمال الشرقي في فصل الصيف .

٣- **السرايات** : أمطار شديدة تسقط في أواخر الربيع وبداية الصيف .

\* **دليل على صحة العبارة التالية ( لم تكن الكويت منطقة مهجورة أو خالية من السكان ) ؟**

١- سكنها وعاش على أرضها جماعات سكانية وبشرية انتمت لعهود وفترات زمنية متعددة .

٢- جماعات عاشت ومارست حياتها الطبيعية حيث كانت موجودة حولها أو على مقربة منها .

الرياح	المميزات وأثرها المناخية
الشمالية الغربية	- تهب معظم أيام السنة وهي رياح جافة بفعل المرتفع السيليري المتمركز في شمال القارة الآسيوية ولها أثر واضح في خفض درجة الحرارة خاصة في فصل الصيف لكنه يصبح قارس البرودة في فصل الشتاء . * <b>علل تميز الرياح الشمالية الغربية بالجفاف ؟</b> - بسبب المرتفع السيليري المتمركز شمال القارة الآسيوية .
الجنوبية الشرقية ( الكوس )	- تمتاز بكونها رطبة دافئة تهب من الجنوب الشرقي تتأثر في المنخفض السوداني وتتسبب هذه الرياح في رفع درجة الحرارة وتزدي من نسبة الرطوبة في فصل الصيف لكن في فصل الشتاء يعتدل الجو بها وتحمل معها المطر . * <b>علل تميز الرياح الجنوبية الشرقية بأنها رطبة ودافئة ؟</b> - لأنها تهب من الجنوب الشرقي وتتأثر بالمنخفض السوداني .
السموم	١- جافة جدا تهب من الشمال أو الشمال الشرقي . ٢- تهب في الظهيرة حيث تنخفض معها الرطوبة النسبية . ٣- تعمل على رفع درجات الحرارة . ٤- عندما تكون نشطة فإنها تثير الأتربة والرمال .
العواصف الترابية ( السرايات )	١- تهب في أواخر الربيع وأوائل الصيف فتثير الغبار . ٢- يصاحبها عواصف رعدية يسقط بسببها المطر الشديد تسمى ( السرايات ) .



اضغط  
لللدخول للقناة



موقع  
مكتبتنا



اضغط  
لللدخول للقناة



لللدخول للقناة على التيلغرام  
امسح الكود أو اكتب في البحث  
مراجعات الدلة

العنوان : الجهراء - الواحة - جمعية الواحة التعاونية - بجانب المحفر والمستوصف



99000162

90005903



WhatsApp



## السكان في دولة الكويت



### \* ما المقصود بإقليم البحرين؟

- إقليم يمتد من جنوب البصرة شمالا حتى عمان جنوبا.

### \* علل لما يأتي :

#### ١- افتقدت الكويت لمفهوم الدولة قبل نزول العتوب بها ؟

- لأنها افتقدت لعنصرين من أهم عناصر البناء السياسي وهما (السلطة- الحدود السياسية) .

- السلطة: هي التي تغطي الطابع السياسي للمكان وتدير شؤونه وتحكمه .

- الحدود السياسية: هي التي تصنعها السلطة.

#### ٢- ارتباط أصول السكان في الكويت ارتباطا وثيقا بالتركيبة السكانية لشبه الجزيرة العربية بمفهومها التاريخي؟

- لأنها تقع ضمن الامتداد الجغرافي والسياسي للإقليم والذي يعرف تاريخيا بإقليم البحرين .

\* دلل على صحة العبارة التالية : ( يعود الوجود البشري في منطقة الكويت الى أكثر من أربعة آلاف ق.م )؟

- وجود بقايا الآثار الحضارية القديمة التي عثر عليها في جزيرة فيلكا ووراه وتلال القرين وبرقان (حضارة العبيد )

### \* أكمل :

١- أول تعداد رسمي للسكان عام ١٩٥٧م

٢- الأمير الذي أجري في عهده أول تعداد سكاني عام ١٩٥٧م يسمى الشيخ عبد الله السالم الصباح

٣- الجهة المسئولة عن اجراء التعداد السكاني تسمى دائرة الشؤون الاجتماعية

٤- بلغ عدد سكان الكويت عام ١٩٩٠م نحو ٢,١٤١,٦٥٠ نسمة .

٥- نسبة عدد السكان الوافدين بالنسبة لسكان الكويت نحو ٧٢٪

٦- الجزيرة الكويتية التي توجد بها دلائل أثرية ومعمارية قديمة هي فيلكا

### احصائية السكان عام ٢٠١٤م

الإجمالي	الوافدون	الكويتيون
٤,٠٠٠,٠٥٢	٢,٧٨٩,٣٠٠	١,٢١٠,٧٥٢

\* فند العبارة التالية : ( استمر وضع السكان في منطقة الكويت دون تغير عام ١٩٩٠م ) أو علل تعرض السكان في الكويت عام ١٩٩٠م

### لتغيرات كبيرة؟

١- بسبب العدوان العراقي الغاشم للكويت.

٢- هجرة عدد كبير من الوافدين إلى أوطانهم.

## الأنشطة الاقتصادية قديماً

\* برهن على صحة العبارة التالية : ( عرف المجتمع الكويتي قديماً وقبل اكتشاف النفط أنه مجتمع بسيط وهادئ يتميز بالتلاحم والعمل الجماعي ) ؟

- ١- مجتمع يعي أن مبدأ الشورى والحكم المشترك هو الضمان والأساس لوحدة.
- ٢- تقبل الهجرات والانفتاح على جميع الثقافات.
- ٣- له قدرة كبيرة على المواجهة والتحدى وقت الأزمات.
- ٤- استطاع النجاح والحفاظ على وجوده وكيانه.
- ٥- كان للتجار دور مهم في انفتاح الكويت والكويتيين على الشعوب والثقافات المختلفة.
- ٦- كان الغوص والرعي أساس قام عليه اقتصاد المجتمع البسيط.

\* اذكر العناصر التي أثرت في المجتمع الكويتي قبا اكتشاف النفط ؟

- ١- **النشاط البحري :** (الصيد - الغوص على اللؤلؤ - صناعة السفن) .
- ٢- **النشاط الرعوي :** (الرعي - الصيد اعمال البداوة) .
- ٣- **النشاط الزراعي :** خارج مدينة الكويت مثل قرية (الجهراء - الفحيحيل) .

\* دلل على صحة العبارة التالية : ( يشكل الخليج العربي حلقة وصل واتصال حضاري وإنساني لمختلف الشعوب )

أو علل واعتبار الخليج العربي أحد أهم الطرق التجارية القديمة ؟

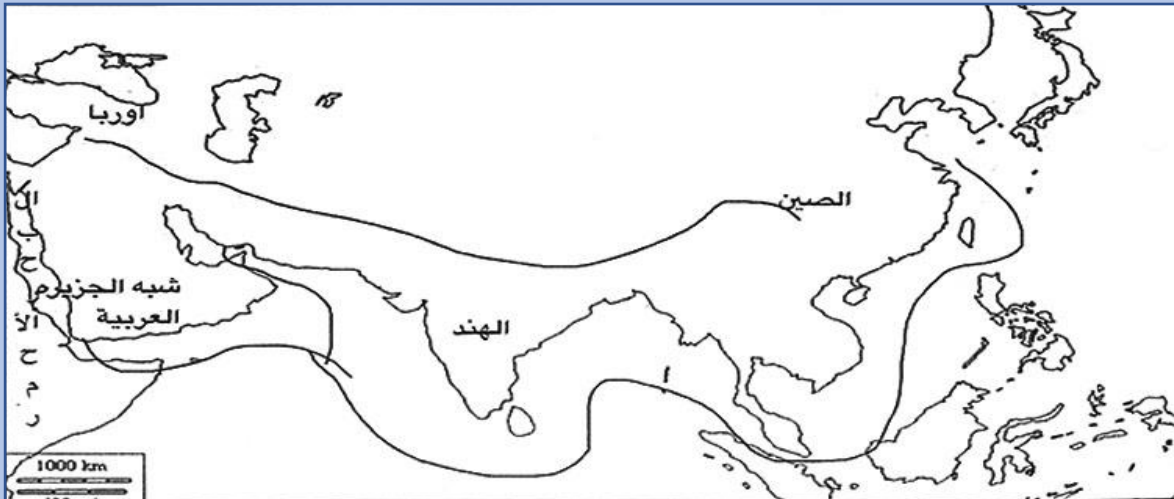
- ١- لأنه يقع في متوسط قارات العالم القديم.
- ٢- وجود مضيق هرمز الذي يربط خليج عمان بالخليج العربي .
- ٣- وسيلة نقل للموارد الطبيعية والبرية والبحرية (التمر - اللؤلؤ) .
- ٤- حلقة وصل ومحطة تبادل حضاري وإنساني لمختلف الشعوب التي عاشت بالقرب منه .

\* ما المقصود بـ ( طريق الحرير ) :

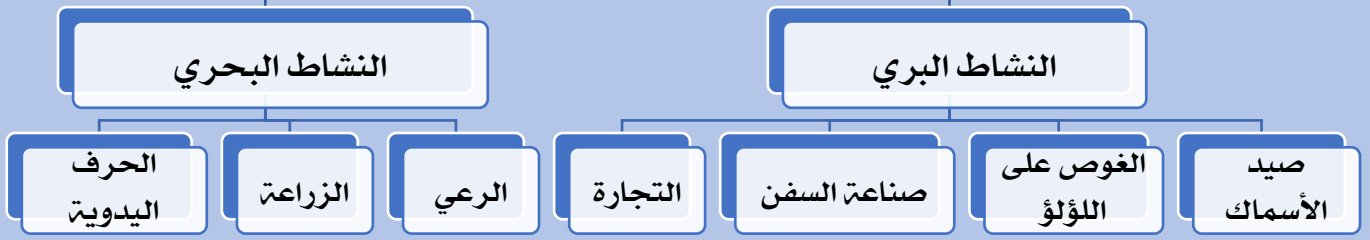
- أهم طريق تجاري في العالم القديم يربط بين الصين شرقاً وأوروبا وشمال أفريقيا غرباً .



طريق الحرير البري	طريق الحرير البحري
<b>يتجه شمالاً :</b> - يبدأ من الصين الى أوروبا.	<b>يتجه غرباً :</b> - يبدأ من ميناء (كانتون) بالصين ويلف حول سواحل الهند ليدخل البحار المحيطة بشبه الجزيرة العربية يتفرع الطريق البحري الى فرعين : <b>الأول شمالاً :</b> الى الخليج العربي <b>الثاني غرباً :</b> الى البحر الأحمر



## أنواع الأنشطة الاقتصادية في دولة الكويت



\* عل / كان النشاط البحري في الكويت هو النشاط السائد ؟

- الموقع الجغرافي على الخليج العربي.
- قلة المياه العذبة والمناخ القاس.
- طبيعة أرضها الرملية والتي لا يصلح أغلبها للزراعة.

\* عل / لعب المناخ دورا مهما في اتجاه معظم السكان الكويتيين قديما الى العمل البحري ؟

- لأن الكويت تقع في منطقة صحراوية قليلة الموارد والمياه وعدم صلاحية أراضيها للزراعة .

\* عدد أنواع النشاط البشري ؟

- (صيد الأسماك - صناعة السفن - الغوص على اللؤلؤ - التجارة ) .

\* عل كانت حرفة الصيد مصدرا من مصادر الدخل قبل النفط ؟

- ان كان السمك الغذاء الرئيسي لسكان الكويت.
- تعدد وتنوع الأسماك في مياه الخليج.

\* ما الدليل على انتعاش حرفة صيد الأسماك في الكويت قديما ؟

- وجود فائض من الأسماك كان يملح ويجفف ويصدر في الموانئ المجاورة .

أنواع الأسماك	طرق الصيد	أنواع السفن	أماكن الصيد
الزبيدي - الهامور - الصبور النقرور - البياح - السبيطي الربيان	الشباك - الحظور - القرقور - الميذار ( سنارة لوضع الطعم ) - الإضاءة	الشوعى الهورى الجالبوت	فيلكا - ورية - خور الزبير - مسكان - كاظمة - الصبيبة - رأس الزور - الجليعة

صيد  
الأسماك

أدوات الصيد قديما :- ( الشباك - القرقور )

\* اكتب ما تعرفه عن طريقة الصيد بالإضاءة ( القمبار ) ؟

- كان الصياد يحمل سراج حيث يتجمع السمك فيقوم بضربه بآلة حادة كالسيف أو العصا في نهايتها حربة.



اضغط  
للدخول للقناة



موقع  
مكتبنا



اضغط  
للدخول للقناة



للدخول للقناة على التيلغرام  
امسح الكود أو اكتب في البحث  
مراجعات الدلة

العنوان : الجهراء - الواحة - جمعية الواحة التعاونية - بجانب المخفر والمستوصف



99000162

90005903





## صناعة السفن

\* عدد العوامل التي ساعدت على ازدهار صناعة السفن؟

- ١- هبوب الرياح الموسمية لدفع السفن.
- ٢- توفر الأيدي العاملة لصناعة السفن.
- ٣- تمتع الكويت بوجهه بحرية طويلة.
- ٤- توفر مصادر المواد المستخدمة في صناعة السفن.
- ٥- براعة الأساتذة والقلاليف.

\* عرف العماثر الساحلية؟

- مخازن المواد المستخدمة في صناعة السفن.

\* فرق بين كلامهما يلي من حيث التعريف :

القلاليف	الأساتذ
الشخص الذي يقوم بعملية إعداد المواد اللازمة للصناعة ثم بناء السفن	الشخص الذي يقوم بتصميم السفينة

### أنواع السفن الكويتية



\* اذكر مظاهر اعتزاز الكويت بتراثها البحري؟

- ١- اتخاذ صور سفينة البوم الكويتي لتكون شعارا للدولة وكذلك للعملة الوطنية.
- ٢- غالبا ما تزين المؤسسات بصور ومشاهد تعبر عن عمق ارتباط الكويت بتراثها البحري.

## الغوص على اللؤلؤ

\* علل لعب البحر قديما دورا مهما في تشكيل طبيعة وشكل المجتمع الكويتي؟

- بسبب ما وفره من أنشطة معيشية مختلفة حيث ارتبطت حرفة استخراج اللؤلؤ بحياة الكويتيين ارتباطا وثيقا منذ التأسيس.

\* علل وتعتبر حرفة الغوص على اللؤلؤ أشهر حرفة مارسها أهل الكويت؟

- ١- لأنها بدأت منذ نشأة الكويت حتى بداية الخمسينات.
- ٢- حرفة موسمية يشارك فيها أغلب رجال الكويت وشبابها.

\* فرق بين الدشة والقفال من حيث التعريف؟

القفال	الدشة
انتهاء موسم الغوص في شهر (سبتمبر أو أكتوبر)	بداية موسم الغوص في شهر مايو

## \* عرف الهيرات ؟

- منابت المحار المحتوى على اللؤلؤ.

## \* من أهم مسميات اللؤلؤ ؟

- (دانه - قماشة) .

## \* علل كساد تجار اللؤلؤ عام ١٩٢٨م ؟

- بسبب ظهور اللؤلؤ الصناعي.

## \* قانون الغواصين ؟

- قانون صدر عام ١٩٤٠م ينظم علاقة العمل بين النوخذة والبحارة .

## \* أكمل :

- صدر قانون الغواصين عام ١٩٤٠م في عهد الشيخ أحمد الجابر الصباح

## \* ما مدى تأثير حرفة الغوص على أهل الكويت ؟

١- تقوية العلاقات بين السكان.

٢- الاحترام المتبادل وتكوين الأسرة الواحدة .

٣- التعاون .

٤- الالتزام والطاعة.

## العاملون في حرفة الغوص

الغواص

الغواص

الغواص

الغواص

الغواص

الغواص

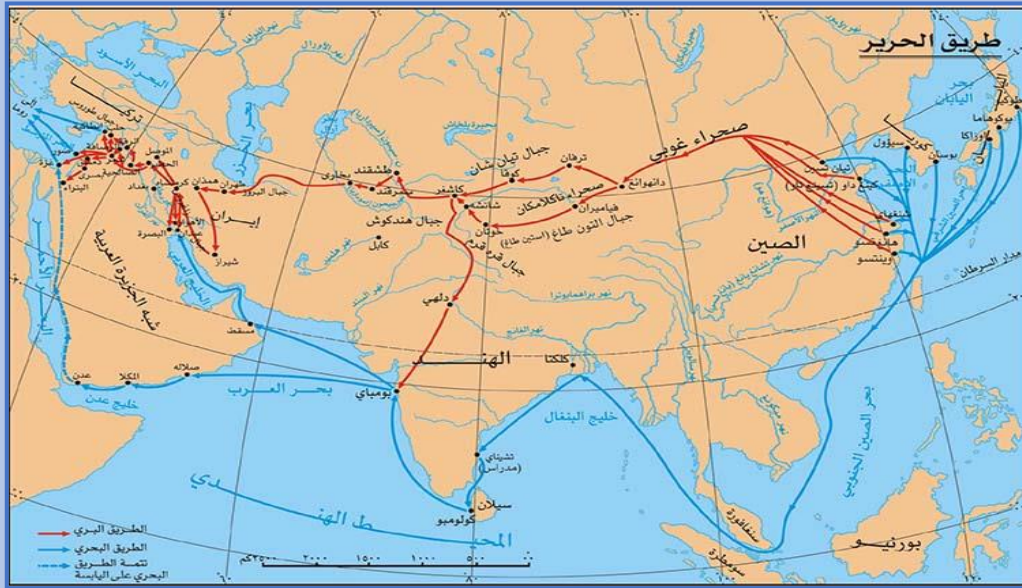
الغواص

الغواص

الغواص

الغواص

المهنة	وظائفه
النوخذة	قائد السفينة والمسؤول عنها وعن تحديد أماكن الغوص والبحث عن اللؤلؤ. * عدد الشروط الواجب توافرها في النوخذة؟ ١- القدرة على معرفة المسالك والطرق. ٢- الإلمام بالاتجاهات البحرية. ٣- اتخاذ جميع القرارات. ٤- له الحق في إعطاء إذن للبحارة بمغادرة السفينة . ٥- ضمان سلامة طاقمها .
المجدمي	رئيس البحار والمسؤول عن إدارة السفينة من الداخل .
الغوص	الشخص الذي يغوص في قاع البحر بحثا عن المحار .
السيب	الشخص الذي يصحب الغوص للسطح عند شد الغيص للحبل ( الأيد ) ومساعدته في فتح المحار .
النهام	الشخص الذي ينشد المواويل تشجيعا لطاقم السفينة في رحلتهم .
الرضيف	صغار السن الذين يقومون ببعض الأعمال الأقل من السيب .
الطواش	تاجر اللؤلؤ .



## أنواع الأنشطة الاقتصادية في دولة الكويت



# المراجعة كاملة

موجودة **حصريا** لدينا

في جمعية الواحة التعاونية

**مراجعات الدلة**

نتمنى لكم التوفيق والنجاح ،،،



اضغط  
للدخول للقناة



موقع  
مكتبنا



اضغط  
للدخول للقناة



للدخول للقناة على التليغرام  
امسح الكود أو اكتب في البحث  
مراجعات الدلة

العنوان : الجهراء - الواحة - جمعية الواحة التعاونية - بجانب المخفر والمستوصف



99000162

90005903

