

مراجعة الاختبار الاول لصف الثاني

اعداد :فاطمه السعيدى
رئيسة القسم : هيا العلاطى



عنوان الدرس : ما الكائنات الحية و الأشياء غير الحية

تحتاج الكائنات الحية الى

هواء ، ماء ، غذاء

صنف الكائنات الحية و الاشياء الغير حيه في الجدول التالي ...



4



3



2




1

الكائنات الحية	اشياء غير حية

عنوان الدرس : ما اجزاء النبات

يتكون النبات من أجزاء




عنوان الدرس : ما وظيفة الجذور

وظيفة الجذور



تمتص الماء من التربة و تثبت النبات



عنوان الدرس : ما وظيفة الساق

وظيفة الساق

١. ينقل الماء الى باقي اجزاء النبات

اتجاه انتقال الماء



٢. يحمل الاوراق و الأزهار على النبتة



عنوان الدرس : ما وظيفة الاوراق

وظيفة الأوراق

مصنع الغذاء في النبات



تحتاج الاوراق لصنع الغذاء الى



ماء



هواء




ضوء شمس

لتننتج المادة السكرية (الغذاء) و أكسجين




اختر الاجابة الصحيحة علميا لكل من العبارات التالية :-


الجزء الذي يثبت النبات هو




الجزء الذي يمتص الماء من التربة هو




الجزء الذي ينقل الماء الى باقي اجزاء النبات هو



الجزء الذي يحمل الاوراق و الازهار في النبات هو



مصنع الغذاء في النبات هو



اشرب () الى مصنع الغذاء في النبات

اشرب () الى الجزء الذي ينقل الماء الى باقي اجزاء النبات

اشرب () الى الجزء الذي يحمل الاوراق في النبات

اشرب () الجزء الذي يثبت النبات في التربه

اشرب () الى الجزء الذي يمتص الماء من التربه

