

# الاختبار التقويهي الثاني

## للمصف الثاني

الفصل الدراسي الأول 2023 / 2024

بنود الاختبار	توزيع درجات الاختبار		درجة الاختبار	مدة الاختبار	موعد الاختبار
(١-٢) (٢-٢) (٤-٢) (٦-٢) (٩-٢)	مقال	موضوعي	٥ درجات	لا تتجاوز ١٥ دقيقة من زمن الاختبار	الأسبوع ٥
	٣	٢			

إشراف الوجه الفني : أ. أسماء الفيلكاوي

اختبر نفسك

اضغط







نموذج ( ١ ) اختبار تقويمي ( ٢ )  
في مادة الرياضيات للصف الثاني  
الفصل الدراسي الأول للعام الدراسي ٢٠٢٣ / ٢٠٢٤ م



السؤال الأول :

رتب الأعداد التالية ( من الأصغر إلى الأكبر ) .



--	--	--

السؤال الثاني : لون الإجابة الصحيحة .

أ ( العدد الزوجي هو

٨١

٤٢

٣٥

.....



هو

ب ( رمز العدد

٣٢

٤٧

٢٣

انتهت الأسئلة،،،



إجابة نموذج ( ١ ) اختبار تقويمي ( ٢ )  
في مادة الرياضيات للصف الثاني  
الفصل الدراسي الأول للعام الدراسي ٢٠٢٣ / ٢٠٢٤ م



السؤال الأول :

رتب الأعداد التالية ( من الأصغر إلى الأكبر ) .



٧٢	٥٨	٣١
----	----	----

السؤال الثاني : لون الإجابة الصحيحة .

أ ( العدد الزوجي هو

٨١

٤٢

٣٥

.....

ب ( رمز العدد  
هو



٣٢

٤٧

٢٣

انتهت الأسئلة،،،

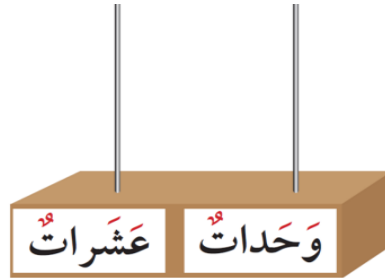


نموذج ( ٢ ) اختبار تقويمي ( ٢ )  
في مادة الرياضيات للصف الثاني  
الفصل الدراسي الأول للعام الدراسي ٢٠٢٣ / ٢٠٢٤ م



السؤال الأول :

مثل العدد فيما يأتي ، ثم أكمل .



$$\underline{\hspace{2cm}} + \underline{\hspace{2cm}} = ٤٢$$

السؤال الثاني : حوظ الإجابة الصحيحة .

أ ( القيمة المكانية للرقم ٦ في العدد ٦٣ هي

٦٠

٦

٣

.....

ب ( العدد الناقص ليكمل الترتيب 

	٣٦	٣٥	٣٤
--	----	----	----

 هو

٤٨

٣٧

٥٩

انتهت الأسئلة،،،

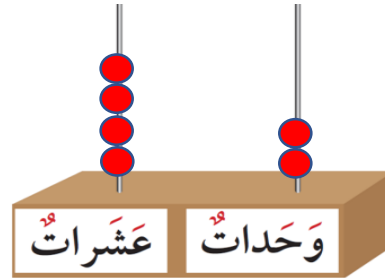


إجابة نموذج ( ٢ ) اختبار تقويمي ( ٢ )  
في مادة الرياضيات للصف الثاني  
الفصل الدراسي الأول للعام الدراسي ٢٠٢٣ / ٢٠٢٤ م



السؤال الأول :

مثل العدد فيما يأتي ، ثم أكمل .



$$\underline{\quad ٤٠ \quad} + \underline{\quad ٢ \quad} = ٤٢$$

السؤال الثاني : حوظ الإجابة الصحيحة .

أ) القيمة المكانية للرقم ٦ في العدد ٦٣ هي

٦٠

٦

٣

ب) العدد الناقص ليكمل الترتيب هو

٣٤ ٣٥ ٣٦

٤٨

٣٧

٥٩

انتهت الأسئلة،،،