


أوراق عمل مادة الاجتماعيات

الكويت و العالم الاسلامي



الفصل الدراسي الاول 2023 – 2024 م

للمصف الثامن



إعداد
قسم الاجتماعيات



ورقة العمل الحضارة الاسلامية

(1) أكتب المفهوم الدال على العبارات التالية :-

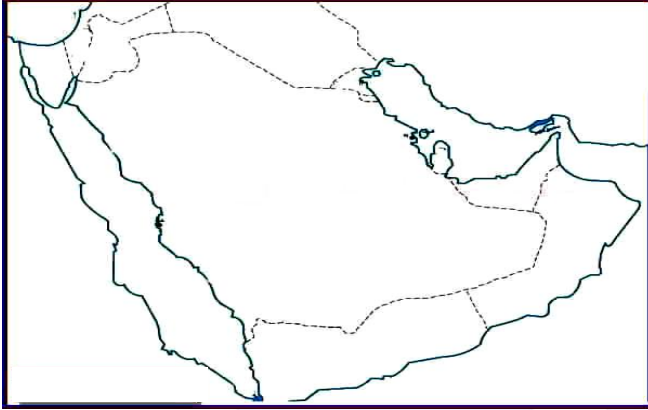
أ – (.....) هي كل ما يطرأ على المجتمع من تطور وتقدم ورقي .

(2) أكمل العبارات التالية بما يناسبها مما درست :-

أ – المكان الذي انطلقت منه الحضارة الإسلامية يسمى

ب – العالم المسلم الذي ألف في الرياضيات والفلك وله 180 مؤلفاً هو

3 – لاحظ خريطة شبه الجزيرة العربية ثم حدد عليها مايلي :-



*موقع المدينة المنورة باستخدام الرمز ☐

4 - أكمل المخطط السهمي التالي :-

أسس الحضارة الإسلامية

مدرسة التميز النموذجية

اللغة العربية

5- عدد خصائص الحضارة الإسلامية ؟

..... -2

..... -4

..... -1

..... -3

..... -5

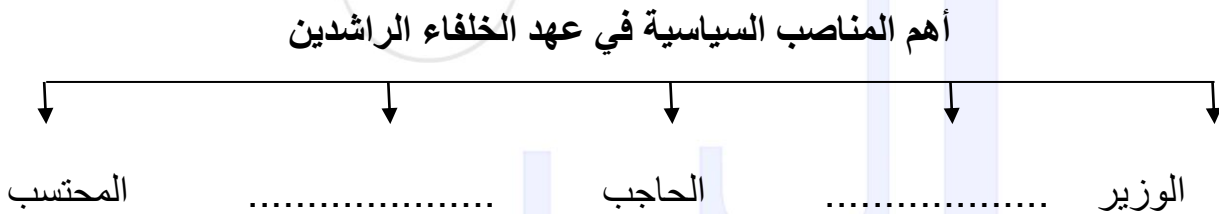
ورقة عمل المظاهر السياسية والإدارية

1- رتب أسماء الخلفاء الراشدين مبتدئاً من الأقدم الى الأحدث

1- عمر بن الخطاب 2- علي بن أبي طالب 3- عثمان بن عفان 4- أبو بكر الصديق.

--	--	--	--

2- أكمل المخطط السهمي التالي :-



3- صحح ما تحته خط بكتابة الإجابة الصحيحة بين القوسين فيما يلي :-

أ - توفي الرسول صلى الله عليه وسلم عام 12 هجريا (.....)

ب - ظهرت وظيفة المحتسب في عهد الخليفة علي بن أبي طالب (.....)

7 - أكتب اسم الداعية الإسلامي في الصورة المجاورة



.....

ورقة عمل المظاهر الاقتصادية

1 – عدد جهود المسلمين في الاهتمام بالزراعة

- أ -
- ب -

2 – علل ما يلي :-

أ – تسمية صناعة الأرابيسك بهذا الاسم ؟

.....

ب – اهتمام الدولة الإسلامية بالصناعة اهتمامًا كبيرًا ؟

.....

ج – لقيت التجارة تشجيعًا كبيرًا في الدولة الإسلامية

.....

3 – أكمل العبارات بما يناسبها مما درست :-

أ – من أهم المحطات التي كانت استراحة لقوافل الحجاج قديما بالكويت محطة تسمى

ب – تم رصد قريتين في جزيرة فيلكا تعودان للعصر الإسلامي هما و

4 – أكتب المفهوم الدال على العبارات الآتية

أ- (.....) هي ركن من أركان الإسلام يخرجها المسلمون الأغنياء للفقراء.

ب - (.....) هو ضريبة الأرض الزراعية التي تخرج مبلغا ماليا معيناً من ناتج المحصول الزراعي.

ج - (.....) مبلغ مالي يدفعه الرجال غير المسلمين من أهل الذمة.

د - (.....) صدقة جارية يقفها المرء في حياته لوجوه الخير والبر

5 – صنف ما يلي حسب الجدول :-

(الخيول العربية – اللبان – الأخشاب – التوابل - الذهب – التمر)

الواردات	الصادرات

ورقة العمل العمائر الدينية

1 - صح ما تحته خط بكتابة الإجابة الصحيحة بين القوسين فيما يلي :-

- أ - تم بناء المسجد الكبير بالكويت عام 1988م (.....)
- ب - بني المسجد الكبير بالكويت في عهد الشيخ صباح الأحمد (.....)
- ج - تظهر الفسيفساء واضحة في مسجدين هما مسجد قبة الصخرة ومسجد عمرو بن العاص (.....)

2 - عدد مميزات المظاهر العمرانية في الحضارة الإسلامية

- أ - ب -

3 - أكتب أسماء المساجد الثلاثة أسفل كل صورة فيما يلي :-



.....



.....



.....



4 – أكمل العبارات التالية بما يناسبها مما درست :-

- أ – المدينة التي يوجد بها المسجد الأقصى تسمى
- ب – الدولة التي يوجد بها جامع الزيتونة تسمى
- ج – جامع عمرو بن العاص يوجد بمدينة تسمى
- د – المسجد الذي يوجد بمدينة دمشق يسمى المسجد

5- أكتب أسماء المساجد التي تشير إليها الصور الآتية :-



.....

.....

.....

6 – أكتب أسماء القصور التالية حسب ما درست :-



مدرسة التميز النموذجية



.....

ورقة عمل مظاهر الإنجازات العلمية والثقافية.

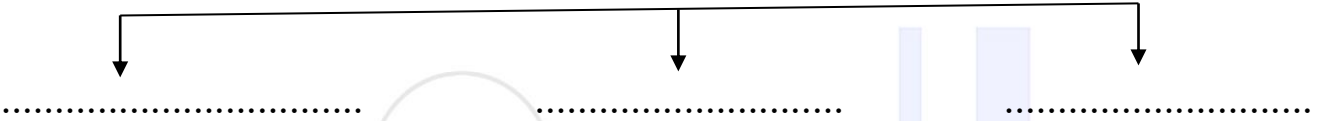
1 – عدد العوامل التي ساعدت على نقل الحضارة الإسلامية الى أوروبا

أ -

ب -

2 – أكمل المخطط السهمي التالي :-

معابر الحضارة الإسلامية الى أوروبا



3 – أكمل العبارات التالية بما يناسبها مما دست :-

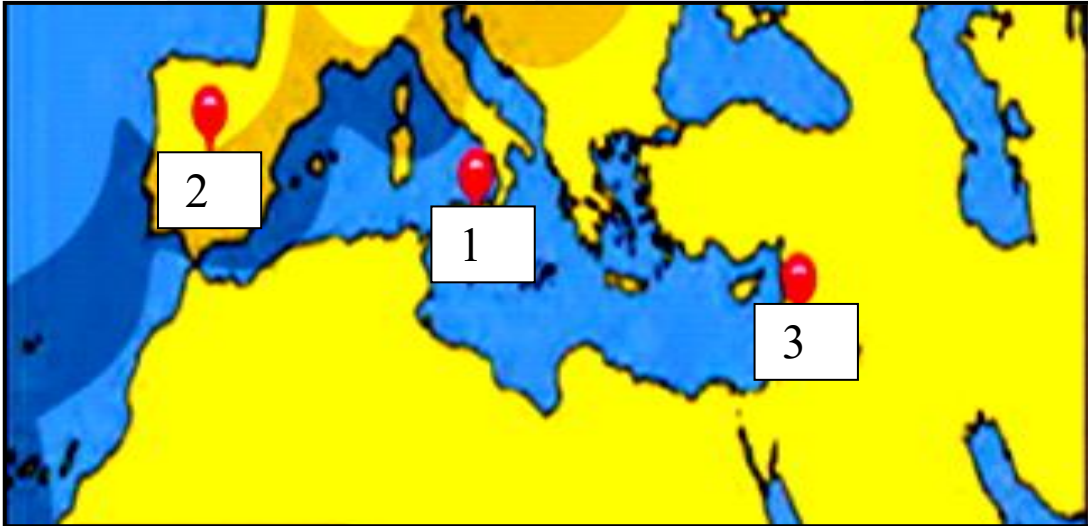
أ - صاحب كتاب نزهة المشتاق في اختراق الآفاق واثبت كروية الأرض هو

ب - الفيلسوف المسلم الذي ينسب الى قبيلة كندة اليمينية يسمى

ج- العالم الإنجليزي الذي تأثر بمؤلفات الكندي في الهندسة هو

د – استفادت الكثير من المدن الأوروبية بشبكة المياه التي وضعها المسلمون ومن أهمها مدينة

4 – لاحظ الخريطة التالية ثم أجب عما يليها من أسئلة :-



1 - بلاد الشام على الخريطة تحمل الرقم (.....)

2 – إيطاليا على الخريطة تحمل الرقم (.....)

3 – بلاد الأندلس على الخريطة تحمل الرقم (.....)

ورقة العمل الحضارة الاسلامية

(1) أكتب المفهوم الدال على العبارات التالية :-

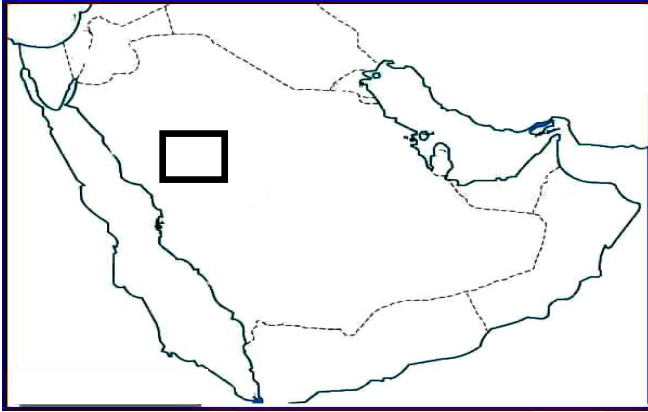
أ – (... الحضارة) هي كل ما يطرأ على المجتمع من تطور وتقدم ورقي .


(2) أكمل العبارات التالية بما يناسبها مما درست :-

أ – المكان الذي انطلقت منه الحضارة الإسلامية يسمى ... المدينة المنورة

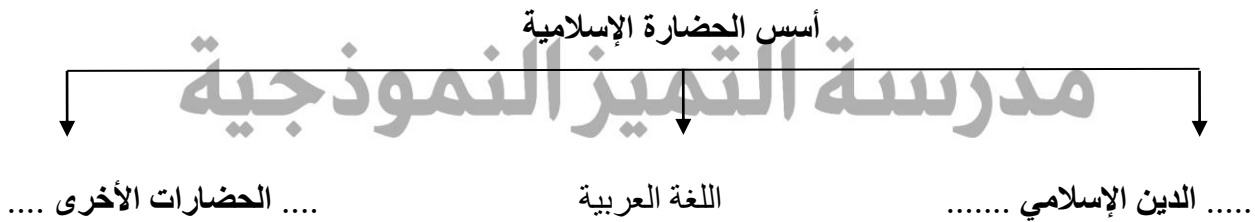
ب – العالم المسلم الذي ألف في الرياضيات والفلك وله 180 مؤلفاً هو البيروني

3 – لاحظ خريطة شبه الجزيرة العربية ثم حدد عليها مايلي :-



*موقع المدينة المنورة باستخدام الرمز 

4 - أكمل المخطط السهمي التالي :-



5- عدد خصائص الحضارة الإسلامية ؟

- 1- حضارة إنسانية
- 2- حضارة إيمان وعمل
- 3- حضارة تسامح
- 4- حضارة عالمية
- 5- حضارة شمولية

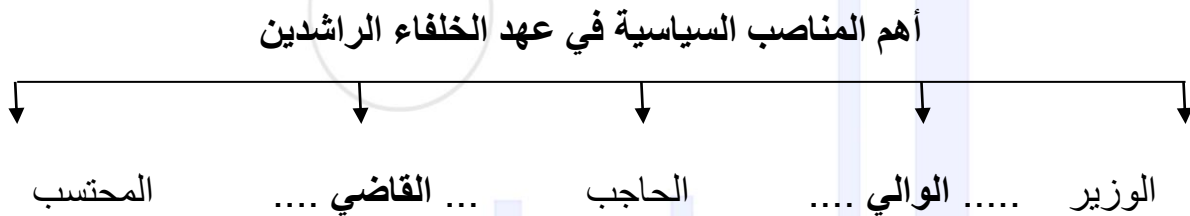
ورقة عمل المظاهر السياسية والإدارية

1- رتب أسماء الخلفاء الراشدين مبتدئاً من الأقدم الى الأحدث

1- عمر بن الخطاب 2- علي بن أبي طالب 3- عثمان بن عفان 4- أبو بكر الصديق.

أبو بكر الصديق	عمر بن الخطاب	عثمان بن عفان	علي بن أبي طالب
----------------	---------------	---------------	-----------------

2- أكمل المخطط السهمي التالي :-



3- صح ما تحته خط بكتابة الإجابة الصحيحة بين القوسين فيما يلي :-

أ - توفي الرسول صلى الله عليه وسلم عام 12 هجرياً (.... 11 هـ)

ب - ظهرت وظيفة المحتسب في عهد الخليفة علي بن أبي طالب (.. عمر بن الخطاب)

7 - أكتب اسم الداعية الإسلامي في الصورة المجاورة

..... الدكتور / عبد الرحمن السميط



ورقة عمل المظاهر الاقتصادية

1 – عدد جهود المسلمين في الاهتمام بالزراعة

- أ - شق القنوات.....
 ب - إقامة السدود.....
 ج - تنظيم وسائل الري.....

2 – علل ما يلي :-

- أ – تسمية صناعة الأرابيسك بهذا الاسم ؟
 نسبة للعرب
 ب – اهتمام الدولة الإسلامية بالصناعة اهتمامًا كبيرًا ؟
 من أجل استثمار الموارد الطبيعية المتوفرة
 ج – لقيت التجارة تشجيعًا كبيرًا في الدولة الإسلامية
 1 – دورها في نشر الإسلام
 2 – دورها في التبادل التجاري

3 – أكمل العبارات بما يناسبها مما درست :-

- أ – من أهم المحطات التي كانت استراحة لقوافل الحجاج قديما بالكويت محطة تسمى ... الشجي
 ب – تم رصد قريتين في جزيرة فيلكا تعودان للعصر الإسلامي هما . القرينية... و ... القصور

4 – أكتب المفهوم الدال على العبارات الآتية

- أ- (..... الزكاة) هي ركن من أركان الإسلام يخرجها المسلمون الأغنياء للفقراء.
 ب - (... الخراج) هو ضريبة الأرض الزراعية التي تخرج مبلغا ماليا معيناً من ناتج المحصول الزراعي.
 ج - (... الجزية...) مبلغ مالي يدفعه الرجال غير المسلمين من أهل الذمة.
 د - (.... الوقف الإسلامي) صدقة جارية يقفها المرء في حياته لوجوه الخير والبر

5 – صنف ما يلي حسب الجدول :-

(الخيول العربية – اللبان – الأخشاب – التوابل - الذهب – التمور)

الواردات	الصادرات
الأخشاب – التوابل - الذهب	الخيول العربية – اللبان – التمور

ورقة العمل العنصر الدينية

1 - صح ما تحته خط بكتابة الإجابة الصحيحة بين القوسين فيما يلي :-

أ - تم بناء المسجد الكبير بالكويت عام 1988م (..... 1986)

ب - بني المسجد الكبير بالكويت في عهد الشيخ صباح الأحمد (.. جابر الأحمد ..)

ج - تظهر الفسيفساء واضحة في مسجدين هما مسجد قبة الصخرة ومسجد عمرو بن العاص

(..... المسجد الكبير)

2 - عدد مميزات المظاهر العمرانية في الحضارة الإسلامية

أ - ... القباب ... ب - ... الزخرفة

3 - أكتب أسماء المساجد الثلاثة أسفل كل صورة فيما يلي :-



..... الكعبة المشرفة



..... المسجد النبوي



..... المسجد الأقصى



4 – أكمل العبارات التالية بما يناسبها مما درست :-

- أ – المدينة التي يوجد بها المسجد الأقصى تسمىالقدس.....
 ب – الدولة التي يوجد بها جامع الزيتونة تسمى تونس
 ج – جامع عمرو بن العاص يوجد بمدينة تسمى القاهرة
 د – المسجد الذي يوجد بمدينة دمشق يسمى المسجد الأموي

5- أكتب أسماء المساجد التي تشير إليها الصور الآتية :-



.... مسجد عمر بن الخطاب.....



... مسجد السلطان أحمد....



....الجامع الأموي

6 – أكتب أسماء القصور التالية حسب ما درست :-



..... قصر عمرة



..... قصر الخضراء



..... قصر الرصافة

ورقة عمل مظاهر الإنجازات العلمية والثقافية.

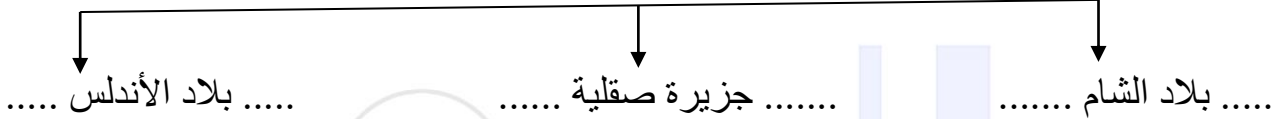
1 – عدد العوامل التي ساعدت على نقل الحضارة الإسلامية الى أوروبا

أ - التبادل التجاري

ب - حركة الترجمة

2 – أكمل المخطط السهمي التالي :-

معايير الحضارة الإسلامية الى أوروبا



3 – أكمل العبارات التالية بما يناسبها مما دست :-

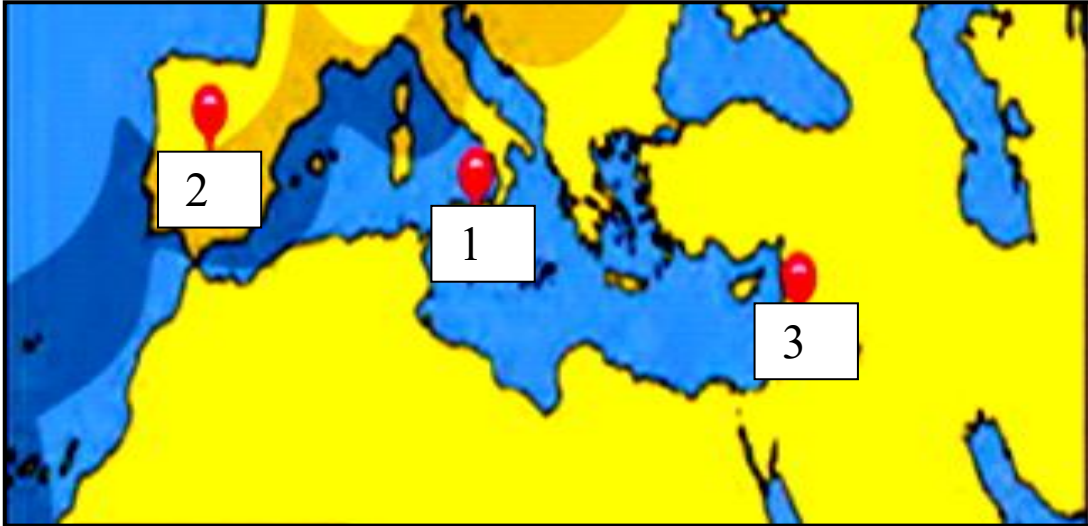
أ - صاحب كتاب نزهة المشتاق في اختراق الآفاق واثبت كروية الأرض هو .. الإدريسي

ب - الفيلسوف المسلم الذي ينسب الى قبيلة كندة اليمانية يسمى ... الكندي

ج- العالم الإنجليزي الذي تأثر بمؤلفات الكندي في الهندسة هو روجر بيكون

د – استفادت الكثير من المدن الأوربية بشبكة المياه التي وضعها المسلمون ومن أهمها مدينة ... مجريط ...

4 – لاحظ الخريطة التالية ثم أجب عما يليها من أسئلة :-



1 - بلاد الشام على الخريطة تحمل الرقم (... 3 ...)

2 – إيطاليا على الخريطة تحمل الرقم (... 1 ...)

3 – بلاد الأندلس على الخريطة تحمل الرقم (... 2 ...)



مدرسة التميز النموذجية

(ابتدائي - متوسط - ثانوي)

الجهاز الفني التربوي

منصات التميز التعليمية

لزيارة منصة التميز التعليمية في اليوتيوب امسح الباركود التالي :



لزيارة منصة التميز التعليمية في تليجرام امسح الباركود الخاص بقناة كل فصل مما يلي :



الصف الرابع



الصف الثالث



الصف الثاني



الصف الأول



الصف التاسع



الصف الثامن



الصف السابع



الصف السادس



الصف الخامس

الصف الثاني عشر
أدبيالصف الثاني عشر
علميالصف الحادي عشر
علميالصف الحادي عشر
أدبي

الصف العاشر



لزيارة صفحتنا في تويتر

لزيارة صفحتنا في الإنستغرام

عنواننا : خيطان - ق ٤ - ش ١٠٠