


أوراق عمل مادة الاجتماعيات



الفصل الدراسي الاول 2023 – 2024 م

مدرسة التميز النموذجية
للمصف الرابع



إعداد
قسم الاجتماعيات





الدرس الأول مفهوم الدولة ص 16

عرف الدولة

من مكونات الدولة

الشعب

كم يبلغ عدد أعضاء مجلس الامة
عضوا

أنواع السلطات التي بالدولة

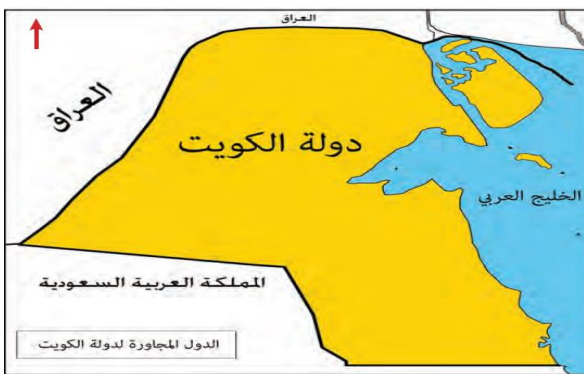
الدرس الثاني مساحة وحدود بلادي ص 20

عدد أهمية الاتجاهات

- 1
- 2

- 1- تبلغ مساحة دولة الكويتكم 2
- 2- ينحدر سطح دولة الكويت من الغرب الى
- 3- يحد الكويت شمالا دولة
- 4- يحد الكويت من الجنوب دولة

عرف الخور



الدرس الثالث / أهمية موقع بلادي الكويت ص 24

تحتل موقعا متوسطا بالنسبة للعالم

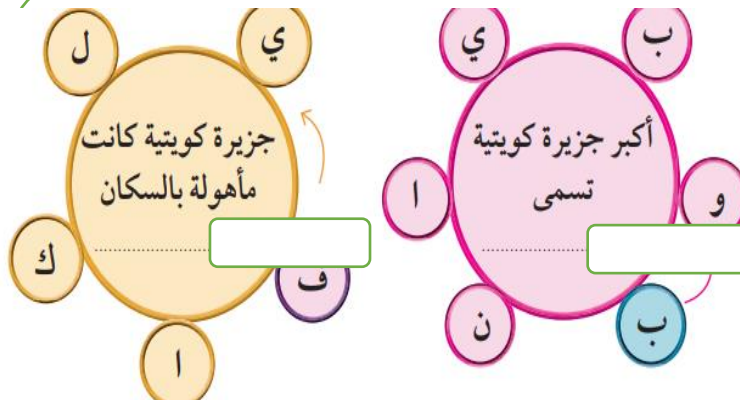
أهمية موقع بلادي
الكويتاكتب أسماء الدول المجاورة
للكويت
...../.....

الدرس الرابع بيئة بلادي الكويت ص 27

عرف الراس البحري

عرف شبة الجزيرة

عرف الجزيرة



يبلغ عدد الجزر بدولة الكويت جزر



تارع الدرس الرابع تضاريس بلاد الكويت ص 30



س / استخرج من الخريطة كلا من

- 1- اسم وادي ()
- 2- اسم تل ()
- 3- اسم سهل ()

س2 اكتب المصطلح العلمي

- 1- ارض مستوية المساحة وواسعة تسمى ()
- 2- منخفض طولي بين منطقتين مرتفعتين ()
- 3- ارض مرتفعة قليلا عن مستوى الأراضي المحيطة بها ()

المجموعة (ب)	الرقم المناسب	المجموعة (أ)
المظهر التضاريسي		الاسم
		١ - خور
		٢ - جزيرة
		٣ - تلال
		٤ - وادي

اختر من المجموعة (أ)
ما يناسبها من المجموعة (ب)

تابع الدرس الرابع / مناخ بلاد الكويت ص 33

هو حالة الجو لفترة زمنية طويلة لا تقل عن ثلاثين عام
يسمى ()

هو حالة الجو لفترة زمنية قصيرة من يوم الي أسبوع
يسمى ()

يتصف مناخ دولة الكويت بأنه مناخ ()

من نتائج دوران الأرض حول الشمس

الصيف

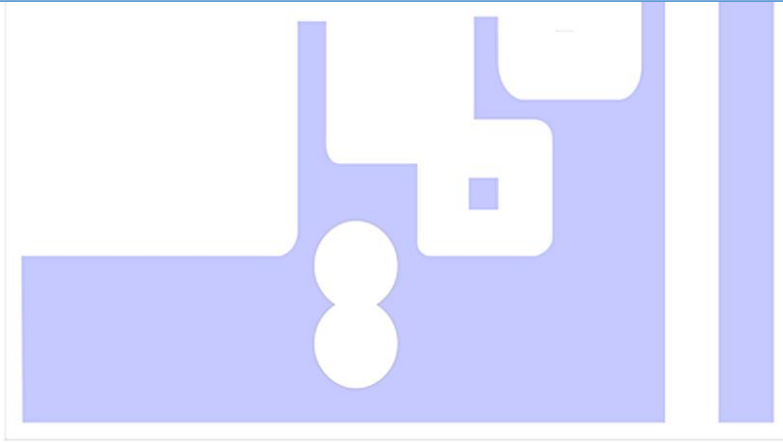


تنخفض درجة الحرارة
في دولة الكويت في فصل

ترتفع درجة الحرارة
في دولة الكويت في فصل



مادة الاجتماعيات
الصف الرابع
الفصل الدراسي الأول 2023-2024
حل أوراق عمل الوحدة الأولى



مدرسة التميز النموذجية



الدرس الأول مفهوم الدولة ص 16

عرف الدولة

مجموعة من الافراد يعيشون على قطعة ارض محددة وتنظمهم سلطة

من مكونات الدولة

سلطة حاكمة

الارض

الشعب

كم يبلغ عدد أعضاء مجلس الامة
50..... عضوا

أنواع السلطات التي بالدولة

القضائية

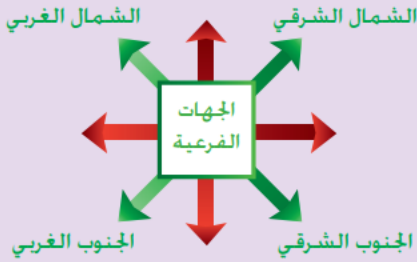
التنفيذية

التشريعية

الدرس الثاني مساحة وحدود بلادي ص 20

عدد أهمية الاتجاهات

- 1- معرفة موقع الدولة
- 2- تحديد القبلة للصلاة
- 2-



- 1- تبلغ مساحة دولة الكويت **17.818** كم 2
- 2- ينحدر سطح دولة الكويت من الغرب الى الشرق
- 3- يحد الكويت شمالا دولة **العراق**.
- 4- يحد الكويت من الجنوب دولة **السعودية**

عرف الخور

لسان بحري يمتد داخل الأرض



الدرس الثالث / أهمية موقع بلادي الكويت ص 24

تحتل موقعا متوسطا بالنسبة للعالم

المنفذ الشمالي الشرقي لشبة الجزيرة العربية

ممر لخطوط الملاحة البحرية والبرية

أهمية موقع بلادي
الكويت

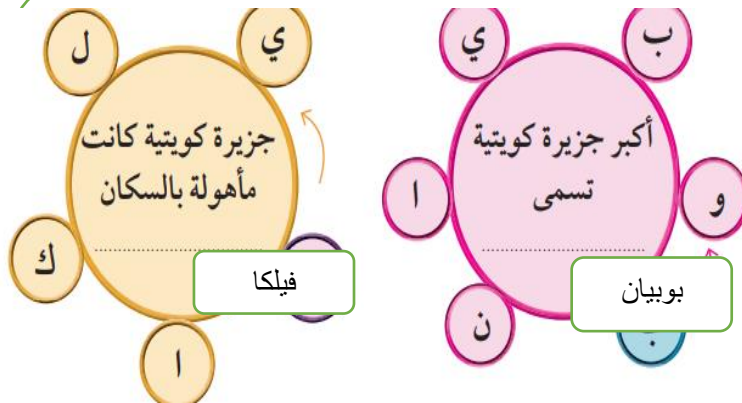
اكتب أسماء الدول المجاورة للكويت
العراق... / السعودية

الدرس الرابع بيئة بلادي الكويت ص 27

عرف الراس البحري
لسان من اليابس يمتد داخل الماء

عرف شبة الجزيرة
مساحة من اليابس يحيط بها الماء من ثلاث جهات

عرف الجزيرة
قطعة من اليابس تحيط
بها المياه من جميع
الجهات



يبلغ عدد الجزر بدولة الكويت ... تسعة جزر

تارح الدرس الرابع تضاريس بلادى الكويت ص 30



س / استخرج من الخريطة كلا من

- 1- اسم وادي (**الباطن**)
- 2- اسم تل (**جال الزور**)
- 3- اسم سهل (**الدبدبة**)

س2 اكتب المصطلح العلمى

- 1- ارض مستوية المساحة وواسعة تسمى (**السهل**)
- 2- منخفض طولى بين منطقتين مرتفعتين (**الوادي**)
- 3- ارض مرتفعة قليلا عن مستوى الاراضى المحيطة بها (**التل**)

المجموعة (ب)	الرقم المناسب	المجموعة (أ)
المظهر التضاريسى		الاسم
	4	١ - خور
	3	٢ - جزيرة
	2	٣ - تلال
	1	٤ - وادى

اختر من المجموعة (أ)
(ما يناسبها من
المجموعة (ب))

تابع الدرس الرابع / مناخ بلاد الكويت ص 33

هو حالة الجو لفترة زمنية طويلة لا تقل عن ثلاثين عام يسمى
(**المناخ**)

هو حالة الجو لفترة زمنية قصيرة من يوم الي
أسبوع يسمى
(**الطقس**)

يتصف مناخ دولة الكويت بأنه مناخ (صحراوي حار)

من نتائج دوران الأرض حول الشمس

الربيع

الشتاء

الصيف

الخريف



تنخفض درجة الحرارة
في دولة الكويت في فصل



ترتفع درجة الحرارة
في دولة الكويت في فصل



مدرسة التميز النموذجية
(ابتدائي - متوسط - ثانوي)
الجهاز الفني التربوي

منصات التميز التعليمية

لزيارة منصة التميز التعليمية في اليوتيوب امسح الباركود التالي :



لزيارة منصة التميز التعليمية في تليجرام امسح الباركود الخاص بقناة كل فصل مما يلي :



الصف الرابع



الصف الثالث



الصف الثاني



الصف الأول



الصف التاسع



الصف الثامن



الصف السابع



الصف السادس



الصف الخامس



الصف الثاني عشر
أدبي



الصف الثاني عشر
علمي



الصف الحادي عشر
علمي



الصف الحادي عشر
أدبي



الصف العاشر



لزيارة صفحتنا في تويتر

لزيارة صفحتنا في الإنستغرام

عنواننا : خيطان - ق ٤ - ش ١٠٠