

مذكرات

الإبلاغ

الاجتماعيات

٢٠٢٤-٢٠٢٣

للتوصيل

٦٦٨٩٨٤٨١

الصف الرابع

الفصل الدراسي الاول

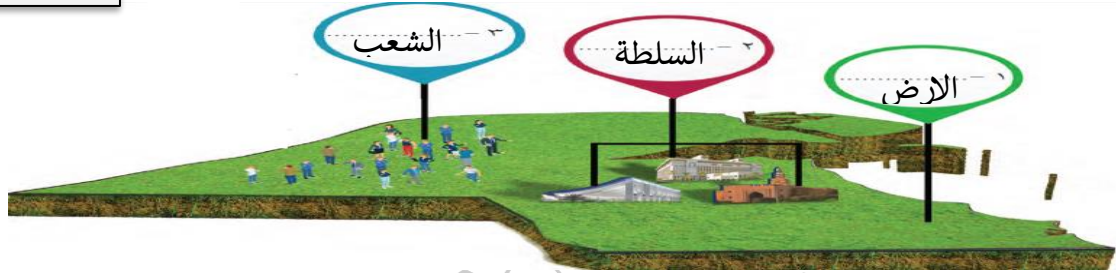


الوحدة الأولى: بلادي الكويت

الدرس الأول: مفهوم الدولة

فقرة إثرائية
عدد أعضاء
مجلس الأمة
٥٠ عضوا يتم
انتخابهم كل
رُبع سنوات

- تعريف الدولة: مجموعة من الأفراد يعيشون على قطعة أرض محددة، وتنظمهم سلطة
- العناصر المكونة للدولة



- صاحب السمو أمير البلاد هو الرئيس الأعلى للدولة، وهو رئيس السلطات الثلاث:



- ١- السلطة التشريعية ممثلة مجلس الأمة.
- ٢- السلطة التنفيذية ممثلة بالحكومة.
- ٣- السلطة القضائية ممثلة بالمحاكم

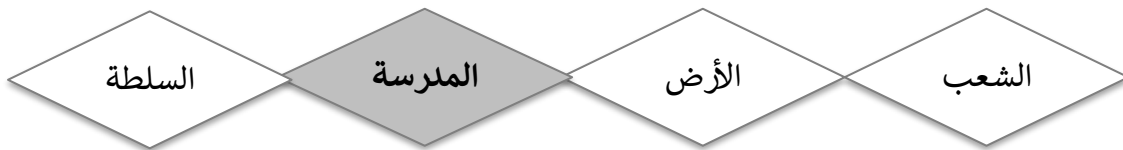
النشاط الثالث ص ١٧

- لاحظ الصور التالية، ثم ضع الاسم المناسب أمام الصورة مستعينا بما بين الأقواس:

(السلطة التشريعية – السلطة التنفيذية – السلطة القضائية)

	السلطة التشريعية
	السلطة التنفيذية
	السلطة القضائية

- ظل العنصر الذي لا ينتمي إلى عناصر الدولة: ص ١٩



- من صاحب السمو الأمير الحالي لدولة الكويت؟

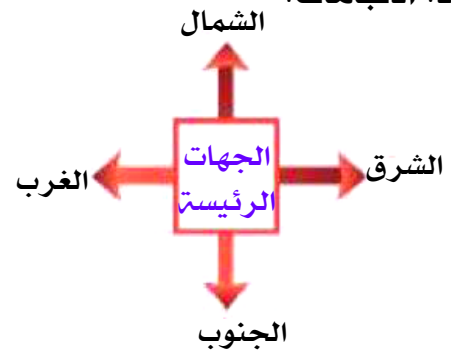
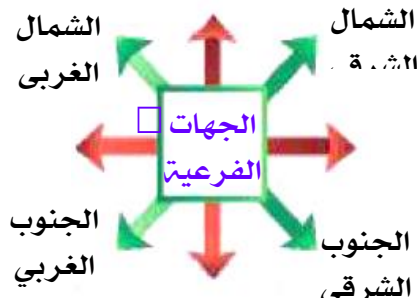
صاحب السمو الأمير نواف الأحمد الجابر الصباح حفظه الله ورعاه

ابحث في محرك البحث الإلكتروني عن:

١- تاريخ أول مجلس للأمة. ١٩٦٣ م

الدرس الثاني: مساحة وحدود بلادي الكويت

أولاً: الاتجاهات:



• علل أهمية الاتجاهات:

- ١- تفيد في التعرف على موقع بلادي
- ٢- معرفة اتجاه القبلة،
- ٣- التعرف على الدول التي تحيط بنا واتجاه الخليج العربي بالنسبة لبلادي

• عناصر الخريطة:



الأنشطة ص ٢١

• عدد عناصر الخريطة:

اتجاه الشمال

مفتاح الخريطة

مقياس الخريطة

عنوان الخريطة



١- على خريطة العالم نفذ المطلوب منك:

٢- يقع الدب القطبي في اتجاه الشمال.

٣- يقع البطريق في اتجاه الجنوب.

٤- تشرق الشمس من جهة الشرق.

٥- تغرب الشمس من جهة الغرب.



• هيا نلعب:

١. من أي جهة دخلت الجنوب.
٢. ومن أي جهة خرجت الشمال

ثانيا: المساحة والحدود:

• عرف ما يلي:

- **الخور:** لسان بحري ممتد داخل الأرض

• مميزات سطح بلادي الكويت:

١. سطح مستوي
٢. يتكون سطحها من سهول رملية يتخللها بعض التلال.
٣. ساحل رملي منبسط قليل التعاريج.
٤. ينحدر السطح تدريجيا من الغرب إلى الشرق

• أكمل العبارات الآتية: -

١. تبلغ مساحة دولة الكويت ١٧,٨١٨ كم
٢. ينحدر سطح دولة الكويت من الغرب إلى **الشرق**
٣. يحد دولة الكويت من ناحية الشمال والشمال الغربي دولة **العراق**.
٤. يحد دولة الكويت من ناحية الجنوب والجنوب الغربي دولة **السعودية**

• من خلال قراءتك للفقرة السابقة، استنتج: ص ٢٢



• من خلال ترتيب الكلمات استنتج معلومة صحيحة عن مساحة بلادك الكويت:

(سطح - يتميز - دولة الكويت - بالاستواء)

يتميز سطح دولة الكويت بالاستواء

الأنشطة ص ٢٣

• ظل المربع المقابل للعبارة الصحيحة

		ينحدر سطح بلاد الكويت من الغرب إلى الشرق.
		سطح بلاد الكويت غير مستو
		يتكون سطح بلاد من جبال كثيرة.

• اجمع المعادلة الحسابية لتستنجد مساحة دولة الكويت على أن تبدأ بالجهة اليسرى من الجدول:

٣	١	٢	٢	٠
٣	٠	٢	٣	٠
٢	٠	٤	٢	١
٨	١	٨	٧	١

مساحة دولة الكويت تبلغ ١٧,٨١٨ كم^٢

لمنزلها ☐

نبدأ ☐



• لاحظ خريطة دولة الكويت ونفذ المطلوب منك:

- حدد الاتجاهات الرئيسية الأربعة على وطنك الكويت.
- مسطح مائي يحد دولة الكويت من جهة الشرق يسمى الخليج العربي.
- دولة تقع في جهة الشمال والشمال الغربي لدولة الكويت العراق.
- دولة تقع في جهة الجنوب والجنوب الغربي لدولة الكويت المملكة العربية السعودية.

الدرس الثالث: أهمية موقع بلاد الكويت

• عرف ما يلي:

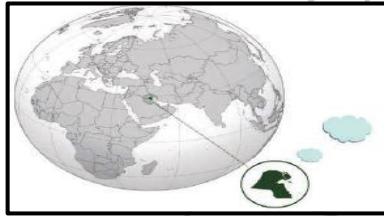
شبه جزيرة: مساحة من اليابس يحيط اليابس من ثلاث اتجاهات

ص ٢٤



• **عزيزي المتعلم لاحظ موقع وطنك الكويت بالنسبة للعالم، ثم أجب عما يأتي:**

- هل دولة الكويت كبيرة المساحة بالنسبة للعالم؟ لا...
- أين تقع دولة الكويت بالنسبة للعالم؟ تقع دولة الكويت في **وسط العالم**.



تقع بلادي الكويت في

الأنشطة

النشاط الأول

ص ٢٥

• **ضع خطا تحت الخيار الصحيح:**

- **من مميزات موقع وطنك الكويت:**

- مساحتها الكبيرة.
- المنفذ الشمالي الشرقي لشبه الجزيرة العربية.
- تقع في الجزء الشمالي للوطن العربي.

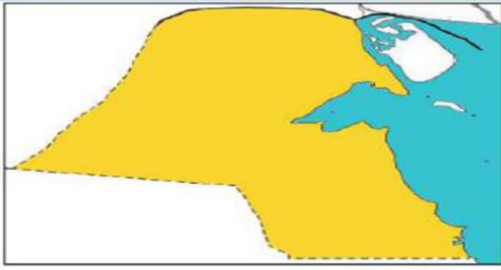
• **خريطة شبه الجزيرة العربية الصماء ونفذ المطلوب منك:**

- لون دولة الكويت باللون الأخضر
- لون شبه الجزيرة العربية باللون الأصفر.
- تقع دولة الكويت بالنسبة لشبه الجزيرة العربية في الجهة الشمال الشرقي.



• **بالاستعانة بمصادر التعلم، اكتب في سطرين عن الأهمية التجارية لدولة الكويت قديما: ص ٢٥**

- تميز دولة الكويت بالموقع الجغرافي الجيد بين دول العالم حيث أصبحت حلقة وصل.
- دولة الكويت معبر بين خطوط الملاحة البحرية والبرية.
- برعوا في تجارة العبور (الترانزيت) إعادة التصدير.
- امتلكوا اسطول تجاري كبير / بضائع مختلفة ومتنوعة.



• لاحظ خريطة دولة الكويت، ثم نفذ المطلوب ص ٢٦

- تتبع النقط وأكمل خريطة بلادك الكويت.

لون خريطة وطنك الكويت محددا عليها البيئة البحرية باللون الأزرق والبيئة البرية باللون الأصفر.

• على خريطة دولة الكويت نفذ المطلوب منك: ص ٢٦

ضع علامة (^) على مياه الخليج العربي:

- اكتب أسماء الدول المجاورة لدولة الكويت على الخريطة.
- ما الجهة التي تشرق منها الشمس الشرق.



الدرس الرابع: بيئة بلاد الكويت

أولاً: جزر بلاد الكويت

• عرف ما يلي:

- **الجزيرة:** قطعة من اليابسة تحيط بها المياه من جميع الجهات

- **الراس:** لسان من اليابس يمتد داخل الماء.

الأنشطة ص ٢٨

- شاهد هذه الصورة ثم أكمل:

الجزيرة تعني قطعة من اليابس تحيط بها المياه من جميع الجهات.

- اكتب ثلاثة أسطر عن جزيرة كويتية، مستعينا بالكلمات التالية:

(الموقع- المساحة- أهم المميزات).

- تقع جزيرة بوبيان في أقصى شمال غرب الخليج العربي، وهي من أكبر الجزر الكويتية مساحة

- ومن مميزات أنها ثاني أكبر جزيرة في الخليج العربي



تعتبر جزيرة أم النمل من الجزر التي تقع داخل جون الكويت وبالقرب من رأس عشرين