


أوراق عمل مادة تاريخ الكويت



الفصل الدراسي الأول 2023 – 2024 م

للمصف العاشر



إعداد
قسم الاجتماعيات





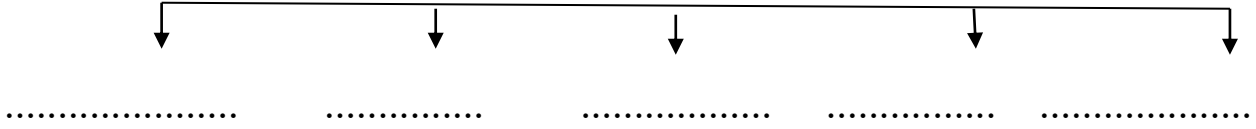
نشاط رقم (1)

ورقة عمل (الفصل الأول)
تاريخ الكويتقسم الاجتماعيات
الصف / العاشر**س1 أكمل العبارات التالية بما يناسب كلا منها:**

- 1- ينحدر سطح دولة الكويت تدريجيا من إلى
- 2- لا يزيد أعلى ارتفاع في المناطق الغربية للكويت عن متر فوق سطح البحر
- 3- تقع الكويت بالنسبة لشبه الجزيرة العربية في الجزء.....
- 4- تقع الكويت فلكيا بين دائرتي عرض 28,45 - شمالا
- 5- تقدر مساحة دولة الكويت بحوالي كم2.
- 6- أكبر الجزر الكويتية هي جزيرة
- 7- ترتفع نسبة الرطوبة في الكويت خلال شهري و.....
- 8- الرياح الجافة التي تهب معظم أيام السنة تسمى.....
- 9- الرياح الجنوبية الشرقية رياح رطبة ودافئة وتعرف باسم (.....)
- 10- يعود الوجود البشري في منطقة الكويت إلى أكثر من سنة قبل الميلاد.
- 11- العام الميلادي الذي أجري فيه أول تعداد سكاني في الكويت هو م.
- 12- المضيق المائي الذي يفصل الخليج العربي عن خليج عمان يسمى.....
- 13- الطريق الذي يعتبر الأكثر استخدام للتجارة الدولية في العالم القديم يسمى.....
- 14- الحضارة التي وقعت الكويت في فلكها في النصف الثاني من الألف الأول ق.م تسمى
- 15- أقدم آثار جزيرة فيلكه يرجع إلى الحضارة
- 16- الجزيرة التي عثر فيها القلعة الهلينستية وتل الخزنة وحجر إيكاروس هي.....
- 17- المعركة الإسلامية التي حدثت بين المسلمين والفرس 12 هـ تسمى

س2 أكمل المخطط السهمي التالي:

(أهم التلال في الكويت)



س3 أكمل العبارات التالية بما يناسبها مما درست :

- 1- تضم الكويت عدة أودية صحراوية جافة من أشهرها
- 2- الحد الفاصل بين الحدود الكويتية العراقية بمسافة 150 كم يسمى
- 3- السهل الذي يحتل مساحة كبيرة في غرب وجنوب الكويت يسمى
- 4- السهل الذي يمتد من جون الكويت باتجاه الجنوب موازيا لخط الساحل يسمى
- 5- السهل الذي يقع في الشمال وهي أرض منبسطة تتحدر نحو الشرق يسمى
- 6 - أكبر جزر دولة الكويت هي جزيرة
- 7 - الجزيرة التي هجرها سكانها بعد العدوان العراقي على دولة الكويت عام 1990م تسمى.....
- 8 - تمثل جزيرة بوبيان من المساحة الإجمالية للكويت حوالي
- 9 - تم إجراء أول تعداد سكاني في عهد الشيخ

مدرسة التميز النموذجية

نشاط رقم (2)

ورقة عمل (الفصل الأول)
تاريخ الكويت

قسم الاجتماعيات
الصف / العاشر

س1 / اكتب عن مميزات المناخ في دولة الكويت؟

.....

.....

س2 / أكمل الجدول التالي:

المميزات المناخية لدولة الكويت في فصل الشتاء والصيف	
الشتاء	الصيف

س3 / عرف ما يلي

- 1- السموم:
- 2- الإغلاق
- 3- الطواش:
- 4- السيب:
- 5- النهام:
- 6- الصفار:
- 7- المنز:
- 8- الرك:

س4 / عدد أنواع الرياح في دولة الكويت؟

- 1-
- 2-
- 3-
- 4-

مدرسة التميز النموذجية

س 5 / علل مايلي

1 - تميز النشاط الاقتصادي للمجتمع الكويتي القديم بالتنوع.

.....

2 - قلة عدد السكان الوافدين في الكويت بعد عام 1990م .

.....

3 - الخليج العربي يشكل حلقة وصل واتصال ومحطة تبادل حضاري وانساني لمختلف الشعوب.

.....

4 - النشاط البحري هو النشاط السائد لسكان دولة الكويت قديما.

.....

5 - نشأة وتطور صناعة السفن في دولة الكويت.

.....

6 - انقراض حرفة الغوص على اللؤلؤ في الخليج العربي.

.....

س 6 / قارن بين؟

الرياح الجنوبية الشرقية	الرياح الشمالية الغربية
مدرسة التميز النموذجية	

قسم الاجتماعيات
 الصف / العاشر
 ورقة عمل (الفصل الأول)
 تاريخ الكويت
 نشاط رقم (3)

س1 / علل: اتجاه معظم السكان الكويتيين قديما إلى العمل في النشاط البحري؟

.....

س2 / عدد أنواع الأسماك الموجودة في مياه الخليج العربي؟

.....

س3 / اذكر طرق الصيد المختلفة التي كان يستخدمها سكان الكويت قديما؟

.....

س4 / اذكر العوامل التي ساعدت على ازدهار صناعة السفن؟

..... -1

..... -2

..... -3

..... -4

س5 / فرق بين كلا من الأستاذ والقلاف؟

القلاف	الأستاذ

س6 / دلل على اعتزاز دولة الكويت بتراثها البحري؟

..... -1

..... -2

س7 / اكتب فيما يلي مما درست
مدرسة التميز النموذجية

1 - للخليج العربي أهمية تجارية قديما.

..... *

..... *

2 - يعتبر طريق الحرير أحد أهم المحاور الأكثر استخداما للتجارة الدولية في العالم القديم.

..... *

3 - منطقة الصبية تحتضن مئات المواقع الأثرية التي برهنت على حضارة العبيد القديمة.

..... *

4- لعبت جزيرة فيلكا دورا رئيسيا في منطقة الخليج العربي خلال الألف الثالث والثاني قبل الميلاد.

..... *

..... *



نشاط رقم (4)

ورقة عمل (الفصل الأول)
تاريخ الكويتقسم الاجتماعيات
الصف / العاشر**1 - ضع خطاً تحت الخيار الصحيح من بين البدائل التي تلي كل عبارة فيما يلي: -**

(أ) يبلغ عدد الجزر الكويتية (8 - 9 - 10 - 11)

(ب) أكبر الجزر الكويتية جزيرة تسمى (مسكان - بوبيان - وربة - عوهه)

2 - صوب ما تحته خط بكتابة الإجابة الصحيحة بين القوسين فيما يلي: -(أ) رياح جافة تهب في فترة الظهيرة ذات درجة حرارة عالية وتنخفض معها الرطوبة تسمى الكوس (.....)(ب) المضيق الذي يربط بين خليج عمان والخليج العربي يسمى باب المندب (.....)**3 - أكمل العبارات التالية بما يناسبها مما درست: -**

(أ) تبلغ مساحة دولة الكويت حوالي

(ب) تقع دولة الكويت بالنسبة لشبه الجزيرة العربية في جهة تسمى

(ج) الحرفة الأساسية لسكان البادية في دولة الكويت قديماً تسمى

(د) أول تعداد رسمي للسكان في دولة الكويت كان في عام

(و) طريق الحرير أحد أهم الطرق التجارية الدولية في العالم القديم يبدأ من دولة تسمى

4 - ضع خطاً تحت الخيار الصحيح من بين البدائل التي تلي كل عبارة فيما يلي: -

(أ) من طرق الصيد قديماً الصيد بالإضاءة ويسمى (الحظرة - القرقور - القمبار - السنارة)

(ب) الذي يقوم بتصميم السفينة يسمى (النهام - النوخدة - القلاف - الأستاذ)

قسم الاجتماعيات
 الصف / العاشر
 ورقة عمل (الفصل الأول)
 تاريخ الكويت
 نشاط رقم (5)

1 - ظلل العنصر الذي لا ينتمي للمجموعة فيما يلي-

السبب	النهام	القلاف	الغواص	(أ) ليس من أفراد طاقم سفينة الغوص على اللؤلؤ
البغلة	الشوعي	الجالبوت	السنبوك	(ب) ليست من سفن الغوص على اللؤلؤ

(2) - ظلل الحرف (أ) إذا كانت الإجابة صحيحة والحرف (ب) إذا كانت الإجابة خطأ

*	أداة تستخدم للحفر والجدوم تسمى السحارة	أ	ب
*	إحدى الحرف التي تزاولها المرأة في البادية حياكة الصوف تسمى السدو	أ	ب

(3) اكتب المفهوم الدال على العبارة التالية:

- (أ) الحد الفاصل بين الحدود الكويتية العراقية بمسافة 150 كيلو متراً (.....).
- (ب) حرفة يدوية يقوم العاملون بها بصنع وتلميع القدور المصنوعة من النحاس (.....).

(4) أكمل العبارات التالية بما يناسبها مما درست: -

- (أ) وقعت معركة ذات السلاسل بين المسلمين والفرس عام هجرياً
- (ب) استمر الوجود الإغريقي على جزر جون الكويت حتى بداية القرن
- (ج) في الصورة المقابلة آثار عثر عليها في دولة الكويت توجد في جزيرة تسمى



نشاط رقم (6)

ورقة عمل (الفصل الأول)
تاريخ الكويت

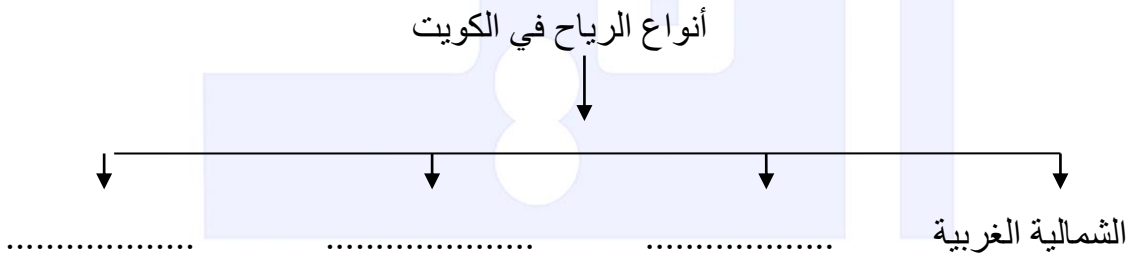
قسم الاجتماعيات
الصف / العاشر

س1/ صنف المظاهر التضاريسية الآتية بين القوسين حسب الجدول التالي:

(الباطن، أم النمل، جال الزور، اللياح، أم المرادم، الدبدبة، الروضتين، واره، كراع المرو، مسكان، برقان)

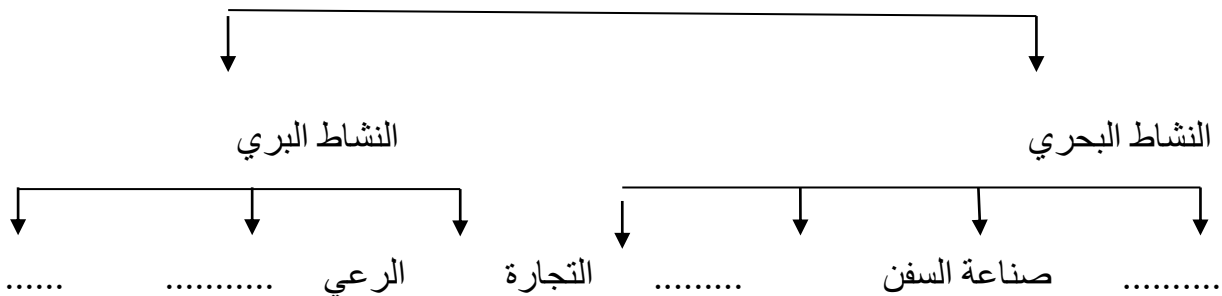
أودية	الجزر	التلال	السهول

س2/ أكمل المخطط التالي:



مدرسة التميز النموذجية

الأنشطة الاقتصادية في دولة الكويت قديما

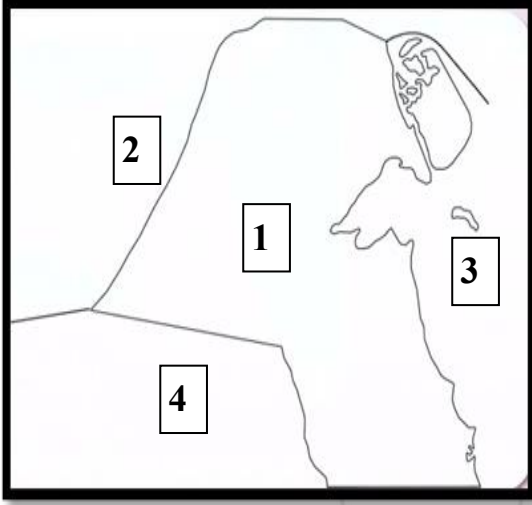


**س3/ فرق حسب الجدول الآتي:**

الرياح الشمالية الغربية	العواصف الترابية

الأسستاذ	القلاف

النوخذه	المجدمي
النهام	الطواش
الغيص	السيب

ثانياً: الخرائط

1/ لاحظ خريطة دولة الكويت الصماء ثم أجب

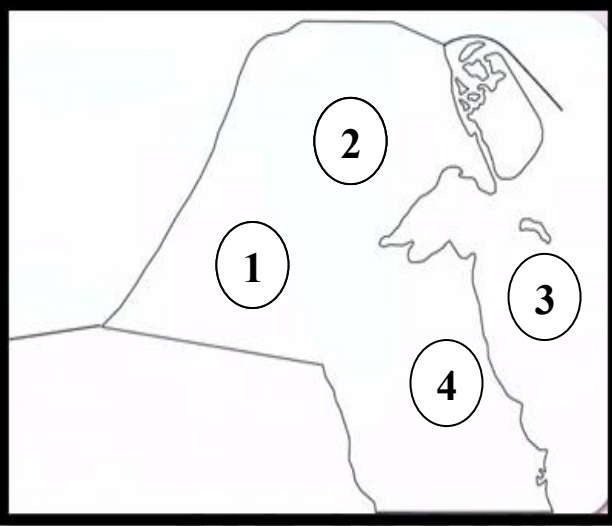
عن الأسئلة التالية

1 - دولة العراق يمثلها على الخريطة الرقم (.....)

2 - الخليج العربي يمثلته الرقم (.....)

3 - المملكة العربية السعودية يمثلها الرقم (.....)

2 - لاحظ خريطة دولة الكويت الصماء ثم أجب عن الأسئلة التي تليها

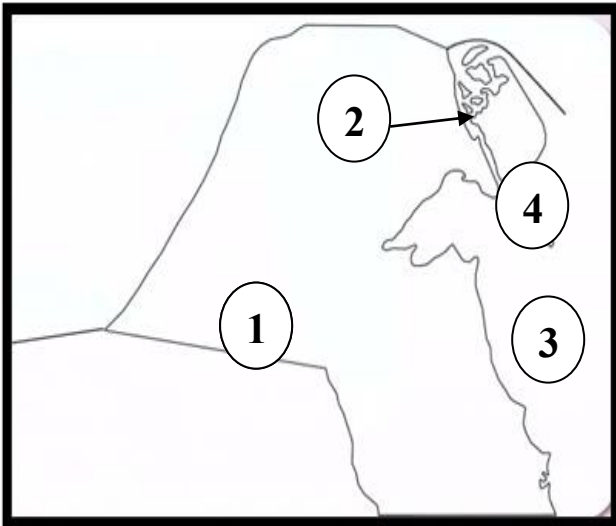


1 - سهل الوضتين يمثلته الرقم (.....)

1 - حقل برقان النفطي يمثلته الرقم (.....)

2 - سهل الدبدبة يمثلته الرقم (.....)

3 / لاحظ خريطة دولة الكويت الصماء ثم أجب عن الأسئلة التي تليها



1 - جزيرة وربة تحمل الرقم ()

2 - جزيرة بوبيان تحمل الرقم ()

3 - جزيرة فيلكا تحمل الرقم ()

نموذج الإجابة

مدرسة التميز النموذجية

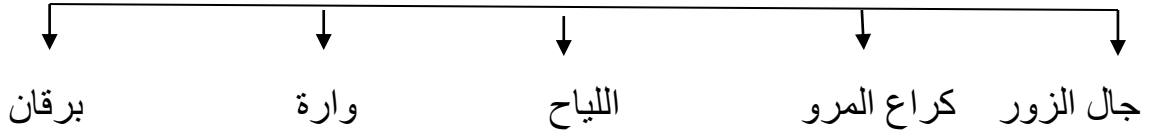
نشاط رقم (1)

ورقة عمل (الفصل الأول)
تاريخ الكويتقسم الاجتماعيات
الصف / العاشر**س1 أكمل العبارات التالية بما يناسبها مما درست:**

- 1- ينحدر سطح دولة الكويت تدريجيا من الغرب إلى الشرق
- 2- لا يزيد أعلى ارتفاع في المناطق الغربية للكويت عن 300 متر فوق سطح البحر
- 3- تقع الكويت بالنسبة لشبه الجزيرة العربية في الجزء الشمالي الشرقي
- 4- تقع الكويت فلكيا بين دائرتي عرض 28,45 – 30,05 شمالا
- 5- تقدر مساحة دولة الكويت بحوالي 17,818 كم².
- 6- أكبر الجزر الكويتية هي جزيرة بوبيان
- 7- ترتفع نسبة الرطوبة في الكويت خلال شهري أغسطس وسبتمبر
- 8- الرياح الجافة التي تهب معظم أيام السنة تسمى الشمالية الغربية
- 9- الرياح الجنوبية الشرقية رياح رطبة ودافئة وتعرف باسم (الكوس)
- 10- يعود الوجود البشري في منطقة الكويت إلى أكثر من 4000 سنة قبل الميلاد.
- 11- العام الميلادي الذي أجري فيه أول تعداد سكاني في الكويت هو 1957م.
- 12- المضيق المائي الذي يفصل الخليج العربي عن خليج عمان يسمى هرمز
- 13- الطريق الذي يعتبر الأكثر استخدام للتجارة الدولية في العالم القديم يسمى الحريز
- 14- الحضارة التي وقعت الكويت في فلكها في النصف الثاني من الألف الأول ق.م تسمى الاغريقية
- 15- أقدم آثار جزيرة فيلكا يرجع إلى الحضارة الدلمونية
- 16- الجزيرة التي عثر فيها القلعة الهلينستية وتل الخزنة وحجر إيكاروس هي فيلكا
- 17- المعركة الإسلامية التي حدثت بين المسلمين والفرس 12هـ تسمى ذات السلاسل

س2 أكمل المخطط السهمي التالي:

(أهم التلال في الكويت)



س3 أكمل العبارات التالية بما يناسبها مما درست :

- 1- تضم الكويت عدة أودية صحراوية جافة من أشهرها وادي الباطن
- 2- الحد الفاصل بين الحدود الكويتية العراقية بمسافة 150 كم يسمى وادي الباطن
- 3- السهل الذي يحتل مساحة كبيرة في غرب وجنوب الكويت يسمى الدبدبة
- 4- السهل الذي يمتد من جون الكويت باتجاه الجنوب موازيا لخط الساحل يسمى برقان
- 5- السهل الذي يقع في الشمال وهي أرض منبسطة تتحدر نحو الشرق يسمى. الروضتين
- 6- أكبر جزر دولة الكويت هي جزيرة بوبيان
- 7- الجزيرة التي هجرها سكانها بعد العدوان العراقي على دولة الكويت عام 1990م تسمى فيلكا
- 8- تمثل جزيرة بوبيان من المساحة الإجمالية للكويت حوالي 5 %
- 9- تم إجراء أول تعداد سكاني في عهد الشيخ عبد الله السالم الصباح

مدرسة التميز النموذجية

قسم الاجتماعيات
 الصف / العاشر
 ورقة عمل (الفصل الأول)
 تاريخ الكويت
 نشاط رقم (2)

س1 / اكتب عن مميزات المناخ في دولة الكويت؟

مناخ الكويت يمتاز بجفافه، وقلة رطوبته، وقد ساعد على ذلك نسبة التبخر العالية، وقلة الأمطار مما يجعل دولة الكويت إحدى المناطق المتميزة جغرافيًا ومناخيًا بمنطقة الخليج العربي

س2 / أكمل الجدول التالي:

المميزات المناخية لدولة الكويت في فصل الشتاء والصيف	
الشتاء	الصيف
الشتاء دافئ قصير ممطر أحياناً يصل معدل الحرارة خلاله إلى 18° درجة مئوية وقد تصل إلى الصفر	طويل حار جاف درجات الحرارة، فيتراوح متوسطها درجاتها صيفاً بين 42° إلى 48° وقد تصل الى 50 درجة في الظل

س3 / عرف ما يلي

- 1- السموم: وهي رياح جافة جدًا تهب في الظهيرة، حيث تنخفض معها الرطوبة
- 2- الإغلاق هو إغلاق موسم السفر بسبب هبوب الرياح الموسمية
- 3- الطواش: هو تاجر اللؤلؤ
- 4- السيب: الشخص المنوط به سحب الغيص للسطح عند شد الأخير الحبل
- 5- النهام: الشخص الذي ينشد المواويل تشجيعاً لطاقم السفينة في رحلتهم
- 6- الصفار: حرفة يدوية يقوم العاملون بها بصنع وتلميع القدور المستخدمة في الطبخ
- 7- المنز: هو السرير الذي ينام فيه الطفل قديماً
- 8- الرك: هو صندوق له فتحة من الأعلى لوضع بعض المأكولات به

س4 / عدد أنواع الرياح في دولة الكويت؟

- 1 - الرياح الشمالية الغربية
- 2 - الرياح الجنوبية الشرقية (الكوس)
- 3 - السموم
- 4 - العواصف الترابية

س 5 / علل مايلي

- 1- تميز النشاط الاقتصادي للمجتمع الكويتي القديم بالتنوع.
حيث جمع بين النشاط البري والبحري
- 2 - قلة عدد السكان الوافدين في الكويت بعد عام 1990 م .
*نتيجة للعدوان والاحتلال العراقي الغاشم لدولة الكويت وما تبع ذلك من عودة كبيرة للوافدين من العرب وغيرهم إلى أوطانهم
- 3 - الخليج العربي يشكل حلقة وصل واتصال ومحطة تبادل حضاري وانساني لمختلف الشعوب.
*يقع الموقع الجغرافي للخليج العربي في موقع متوسط من قارات العالم القديم الثلاث آسيا - أفريقيا أوروبا
- 4 - النشاط البحري هو النشاط السائد لسكان دولة الكويت قديماً.
*حيث تقع الكويت في منطقة صحراوية قليلة الموارد شحيحة الأمطار وأرضها غير صالحة للزراعة
- 5 - نشأة وتطور صناعة السفن في دولة الكويت.
*للموقع الجغرافي لدولة الكويت قديماً
- 6 - انقراض حرفة الغوص على اللؤلؤ في الخليج العربي.
*بسبب اكتشاف النفط وظهور اللؤلؤ الصناعي الياباني

س 6 / قارن بين؟ مدرسة التميز النموذجية

الرياح الجنوبية الشرقية	الرياح الشمالية الغربية
تمتاز بكونها رطبة دافئة ترفع درجة الحرارة وتزيد من نسبة الرطوبة في فصل الصيف	تهب معظم أيام السنة لها أثر واضح في خفض درجة الحرارة خاصةً في فصل الصيف

قسم الاجتماعيات
 الصف / العاشر
 ورقة عمل (الفصل الأول)
 تاريخ الكويت
 نشاط رقم (3)

س1 / علل: اتجاه معظم السكان الكويتيين قديماً إلى العمل في النشاط البحري؟

* حيث تقع الكويت في منطقة صحراوية قليلة الموارد شحيحة الأمطار

س2 / عدد أنواع الأسماك الموجودة في مياه الخليج العربي؟

* الهامور – الربيان – الشع – الزبيدي

س3 / اذكر طرق الصيد المختلفة التي كان يستخدمها سكان الكويت قديماً؟

* الشباك – الحظرة – القرقور – الميدار – الصيد بالإضاءة

س4 / اذكر العوامل التي ساعدت على ازدهار صناعة السفن؟

1- هبوب الرياح الموسمية على منطقة الخليج العربي التي تدفع السفن نحو شواطئ الهند

2- توفر الأيدي العاملة لصناعة السفن

3- تمتع الكويت بواجهة بحرية طويلة تمتد من شمالها إلى جنوبها

4- توفر مصادر المواد المستخدمة في صناعة السفن.

مدرسة التميز النموذجية

س5 / فرق بين كلا من الأستاذ والقلاف؟

القلاف	الأستاذ
هو الذي يقوم بعملية إعداد المواد اللازمة للصناعة ثم عملية بناء السفينة نفسها	هو الذي يقوم بتصميم السفينة

س6 / دلل على اعتزاز دولة الكويت بتراثها البحري؟

1- اتخذت صورة سفينة اليوم الكويتي لتكون شعاراً للدولة

2- وضع شعار السفينة على العملة الوطنية

س 7 / اكتب فيما يلي مما درست

1 - للخليج العربي أهمية تجارية قديمة.
*يقع الموقع الجغرافي للخليج العربي في موقع متوسط من قارات العالم القديم الثلاث آسيا - أفريقيا - أوروبا

2 - يعتبر طريق الحرير أحد أهم المحاور الأكثر استخداماً للتجارة الدولية في العالم القديم.
*حيث كان لطريق الحرير المتجه من الصين مساران رئيسان: الأول شمالي وهو طريق الحرير البري ويبدأ من الصين حتى أوروبا أما المسار الغربي له فهو طريق الحرير البحري

3 - منطقة الصبية تحتضن مئات المواقع الأثرية التي برهنت على حضارة العبيد القديمة.
*من خلال الاكتشافات الحديثة مثل، العثور على أقدم القرى السكنية في بحرة وطبيخ شمال الصبية وآبار المياه القديمة في المنطقة إضافة إلى العثور على جرار فخارية، كما عثر على الرحي الحجرية التي تستخدم في طحن الغلال

4- لعبت جزيرة فيلكا دوراً رئيسياً في منطقة الخليج العربي خلال الألف الثالث والثاني قبل الميلاد.

*باعتبارها مركزاً من مراكز حضارة دلمون القديمة؛ والتي كانت تؤدي دور الوسيط التجاري بين حضارات الهند وحضارة بلاد الرافدين

نشاط رقم (4)

ورقة عمل (الفصل الأول)
تاريخ الكويتقسم الاجتماعيات
الصف / العاشر**1 - ضع خطاً تحت الخيار الصحيح من بين البدائل التي تلي كل عبارة فيما يلي: -**

(أ) يبلغ عدد الجزر الكويتية (8 - 9 - 10 - 11)

(ب) أكبر الجزر الكويتية جزيرة تسمى (مسكان - بوبيان - وربة - عوهه)

2 - صوب ما تحته خط بكتابة الإجابة الصحيحة بين القوسين فيما يلي: -(أ) رياح جافة تهب في فترة الظهيرة ذات درجة حرارة عالية وتنخفض معها الرطوبة تسمى الكوس (السموم)(ب) المضيق الذي يربط بين خليج عمان والخليج العربي يسمى باب المندب (هرمز)**3 - أكمل العبارات التالية بما يناسبها مما درست: -**(أ) تبلغ مساحة دولة الكويت حوالي 17,818 ألف كم(ب) تقع دولة الكويت بالنسبة لشبه الجزيرة العربية في جهة تسمى الشمال الشرقي(ج) الحرفة الأساسية لسكان البادية في دولة الكويت قديماً تسمى الرعي(د) أول تعداد رسمي للسكان في دولة الكويت كان في عام 1957 م(و) طريق الحرير أحد أهم الطرق التجارية الدولية في العالم القديم يبدأ من دولة تسمى الصين**4 - ضع خطاً تحت الخيار الصحيح من بين البدائل التي تلي كل عبارة فيما يلي: -**(أ) من طرق الصيد قديماً الصيد بالإضاءة ويسمى (الحظرة - القرقور - القمبار - السنارة)(ب) الذي يقوم بتصميم السفينة يسمى (النهام - النوخدة - القلاف - الأستاذ)

قسم الاجتماعيات
الصف / العاشر

ورقة عمل (الفصل الأول)
تاريخ الكويت

نشاط رقم (5)

1 - ظلل العنصر الذي لا ينتمي للمجموعة فيما يلي-

السبب	النهام	القلاف	الغواص
-------	--------	--------	--------

(أ) ليس من أفراد طاقم سفينة الغوص على اللؤلؤ

السنوبك	الجالبوت	الشوعي	البغلة
---------	----------	--------	--------

(ب) ليست من سفن الغوص على اللؤلؤ

(2) - ظلل الحرف (أ) إذا كانت الإجابة صحيحة والحرف (ب) إذا كانت الإجابة خطأ

أ	ب	* أداة تستخدم للحفر والجدوم تسمى السحارة
أ	ب	* إحدى الحرف التي تزاولها المرأة في البادية حياكة الصوف تسمى السدو

(3) اكتب المفهوم الدال على العبارة التالية:

(أ) الحد الفاصل بين الحدود الكويتية العراقية بمسافة 150 كيلو متراً (وادي الباطن)

(ب) حرفة يدوية يقوم العاملون بها بصنع وتلميع القدور المصنوعة من النحاس (الصفار)

(4) أكمل العبارات التالية بما يناسبها مما درست: -

(أ) وقعت معركة ذات السلاسل بين المسلمين والفرس عام 12 هجريا

(ب) استمر الوجود الإغريقي على جزر جون الكويت حتى بداية القرن القرن الأول قبل الميلاد

(ج) في الصورة المقابلة آثار عثر عليها في دولة الكويت توجد في جزيرة تسمى فيلكا



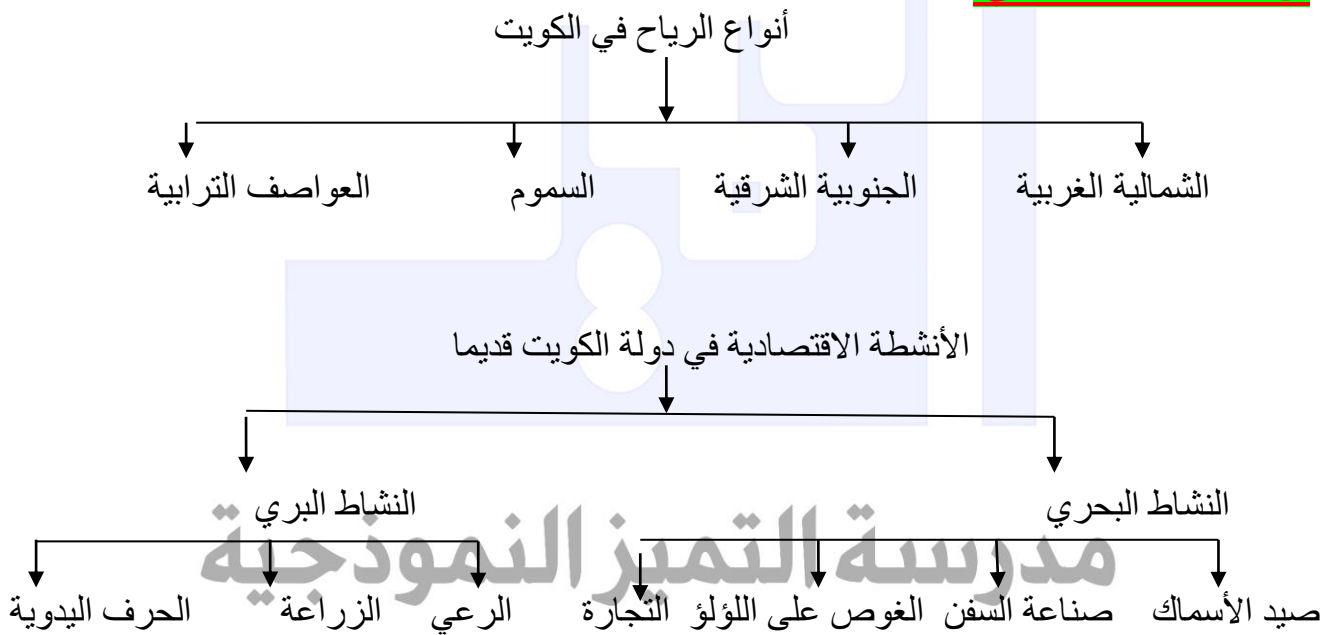
قسم الاجتماعيات
 الصف / العاشر
 ورقة عمل (الفصل الأول)
 تاريخ الكويت
 نشاط رقم (6)

س1/ صنف المظاهر التضاريسية الآتية بين القوسين حسب الجدول التالي:

(الباطن، أم النمل، جال الزور، اللياح، أم المرادم، الدبدبة، الروضتين، واره، كراع المرو، مسكان، برقان)

السهول	التلال	الجزر	أودية
الروضتين	اللياح	أم النمل	
برقان	جال الزور	أم المرادم	الباطن
الدبدبة	واره	مسكان	
	كراع المرو		

س2/ اكمل المخطط التالي:



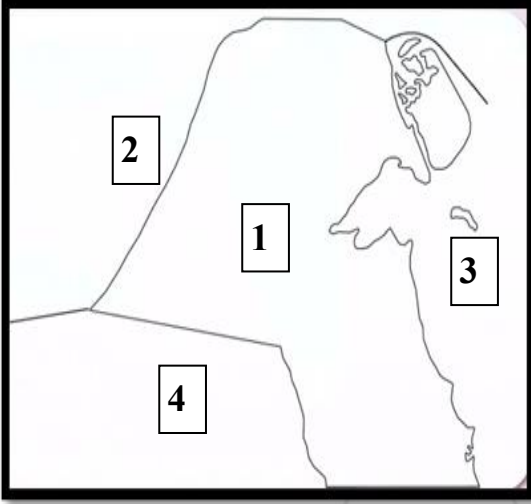


بن 3/ فرق حسب الجدول الآتي:

الرياح الشمالية الغربية	العواصف الترابية
تهب معظم أيام السنة لها أثر واضح في خفض درجة الحرارة خاصة في فصل الصيف	وتهب في أواخر الربيع وأوائل الصيف فتثير الغبار مصحوبة عادة بعواصف رعدية يسقط بسببها المطر الشديد وتسمى السرايات

الأستاذ	القلاف
هو الذي يقوم بتصميم السفينة	هو الذي يقوم بعملية إعداد المواد اللازمة صناعة ثم عملية بناء السفينة نفسها

النوخذه	المجدي
قائد السفينة وربانها والمسؤول عنها وعن طاقمها والمسؤول عن تحديد أماكن الغوص	هو لقب كان يطلق على رئيس البحارة والمسؤول عن إدارة السفينة من لداخل.
النهام	الطواش
الشخص الذي ينشد المواويل تشجيعاً لطاقم السفينة في رحلتهم	هو تاجر اللؤلؤ.
الغيص	السيب
الشخص الذي يغوص في قاع البحر بحثاً عن المحار.	الشخص المنوط به سحب الغيص للسطح عند شد الأخير الحبل

ثانياً: الخرائط

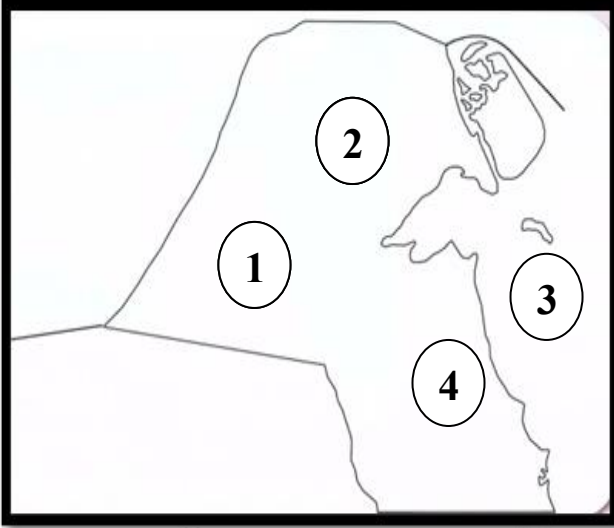
1/ لاحظ خريطة دولة الكويت الصماء ثم أجب

عن الأسئلة التالية

1 – دولة العراق يمثلها على الخريطة الرقم (2)

2 – الخليج العربي يمثلته الرقم (3)

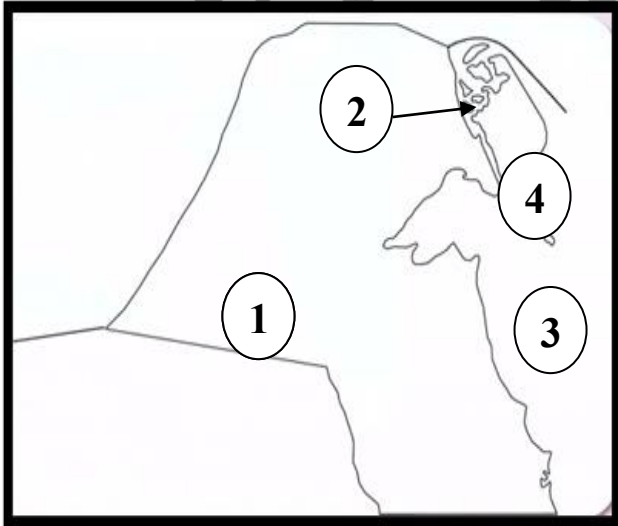
3 – المملكة العربية السعودية يمثلها الرقم (4)

2 - لاحظ خريطة دولة الكويت الصماء ثم أجب عن الأسئلة التي تليها

1 – سهل الوضتين يمثلته الرقم (2)

5- – حقل برقان النفطي يمثلته الرقم (4)

6- – سهل الدبدبة يمثلته الرقم (1)

3 / لاحظ خريطة دولة الكويت الصماء ثم أجب عن الأسئلة التي تليها

1 – جزيرة وربة تحمل الرقم (2)

2 – جزيرة بوبيان تحمل الرقم (4)

3 – جزيرة فيلكا تحمل الرقم (3)



مدرسة التميز النموذجية

(ابتدائي - متوسط - ثانوي)

الجهاز الفني التربوي

منصات التميز التعليمية

لزيارة منصة التميز التعليمية في اليوتيوب امسح الباركود التالي :



لزيارة منصة التميز التعليمية في تلجرام امسح الباركود الخاص بقناة كل فصل مما يلي :



الصف الرابع



الصف الثالث



الصف الثاني



الصف الأول



الصف التاسع



الصف الثامن



الصف السابع



الصف السادس



الصف الخامس

الصف الثاني عشر
أدبيالصف الثاني عشر
علميالصف الحادي عشر
علميالصف الحادي عشر
أدبي

الصف العاشر



لزيارة صفحتنا في تويتر

لزيارة صفحتنا في الإنستقرام

عنواننا : خيطان - ق ٤ - ش ١٠٠