

أوراق عمل مادة اجتماعيات الكويت والعالم



الفصل الدراسي الاول ٢٠٢٣ – ٢٠٢٤ م
مدرسة التميز النموذجية
للمصف التاسع



إعداد
قسم الاجتماعيات



من خلال دراستك لدرس (البيئة الطبيعية) ص ١٥ من ك م اجب عن الأسئلة التالية :


١ - اكتب المفهوم الدال على العبارات التالية :

(.....) التفاعل المستمر بين مكونات البيئة الذي يحفظ استقرارها النسبي في زمن محدد

(.....) الإطار الذي يعيش فيه الانسان ويحصل فيه على جميع مقومات حياته

(.....) كل ما يحيط بالإنسان من ظاهرات حية وظاهرات غير حية

٢- اكمل المخطط السهمي التالي :



٣ - اكتب فيما يلي : مدرسة التميز النموذجية

مميزات البيئة الطبيعية

١-

٢-

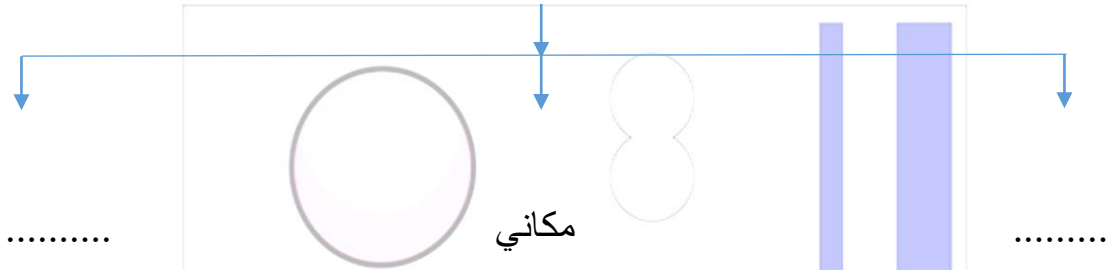
٣-

٤- اكمل العبارات التالية بما يناسبها مما درست :

١- العالم الذي استخدم علم البيئة الطبيعية كمفهوم يدرس في الجامعات يسمى

٢- ظهر مصطلح البيئة الطبيعية في القرن

من خلال دراستك لموضوع (الموقع) من ك م ص ١٨ اجب عن الأسئلة التالية :
اكمل المخطط السهمي التالي : اقسام الموقع



اكمل العبارات التالية بما يناسبها مما درست :

- اكبر دول العالم من حيث المساحة دولة تسمى
- اصغر دول العالم من حيث المساحة دولة تسمى
- تقع دولة الكويت بالنسبة لقارة اسيا في جهة
- تقع دولة الكويت بالنسبة للخليج العربي في جهة

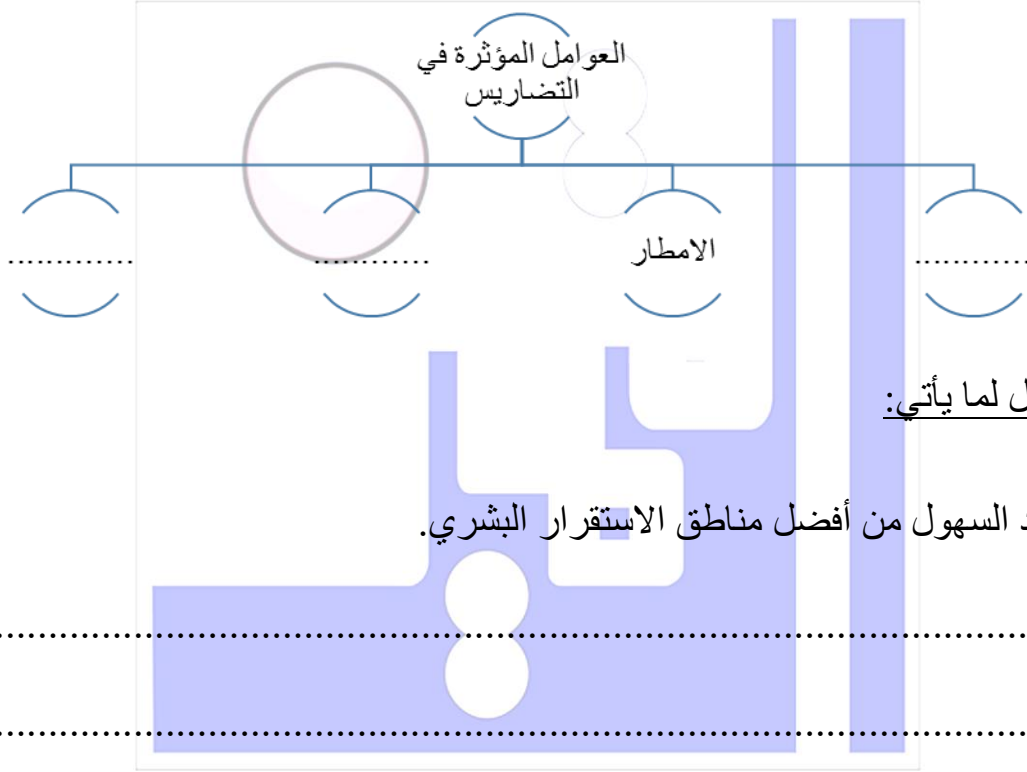
مدرسة التميز النموذجية
- تقع دولة الكويت بالنسبة لشبه الجزيرة العربية في جهة

صح ما تحته خط بكتابة الإجابة الصحيحة بين القوسين :

- الخط الرئيسي لدوائر العرض خط يسمى جرينتش (.....)
- الخط الأساسي لخطوط الطول خط يسمى ١٨٠ (.....)
- خط التاريخ الدولي يسمى خط الاستواء (.....)
- يحد دولة الكويت من جهة الشمال دولة تسمى السعودية (.....)
- يحد دولة الكويت من الشرق مسطح مائي اسمه بحر العرب (.....)

من خلال دراستك لموضوع (التضاريس) من ك م ص ٢٣ اجب عن الأسئلة الآتية :-

أ- أكمل المخطط السهمي التالي:



ب- علل لما يأتي:

١- تعد السهول من أفضل مناطق الاستقرار البشري.

.....

.....

٢- الجبال اقل مظاهر التضاريس صلاحية للاستقرار البشري

مدرسة التميز النموذجية

.....

- اجب عما يلي :

- أنواع السهول:

..... -

أ - صح ما تحته خط بكتابة الإجابة الصحيحة بين القوسين:

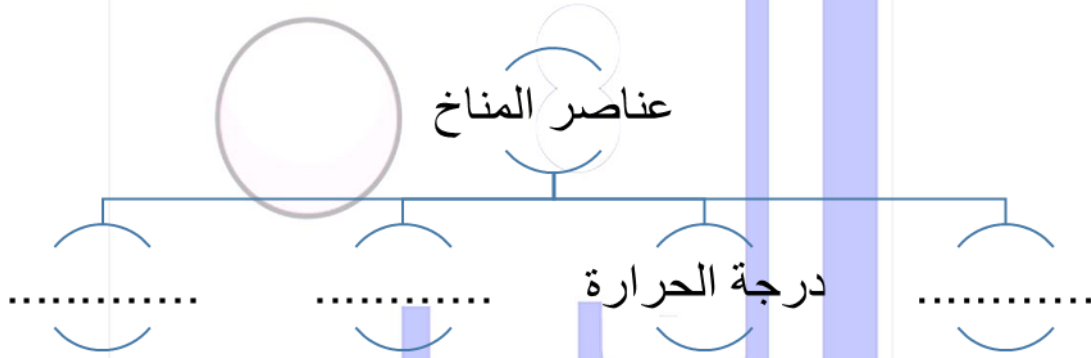
ب - كل مرتفع له قمة لا يقل ارتفاعه عن ١٠٠٠ متر يسمى التل (.....)

ج - ارض مرتفعة سطحها مستوي وتمتد لمساحة كبيرة تسمى السهول (.....)

د- الملامح الرئيسية لشكل سطح الأرض تسمى التعرية (.....)

من خلال دراستك لموضوع (المناخ) ص ٢٧ اجب عن الأسئلة الآتية :-

أكمل المخطط السهمي التالي :



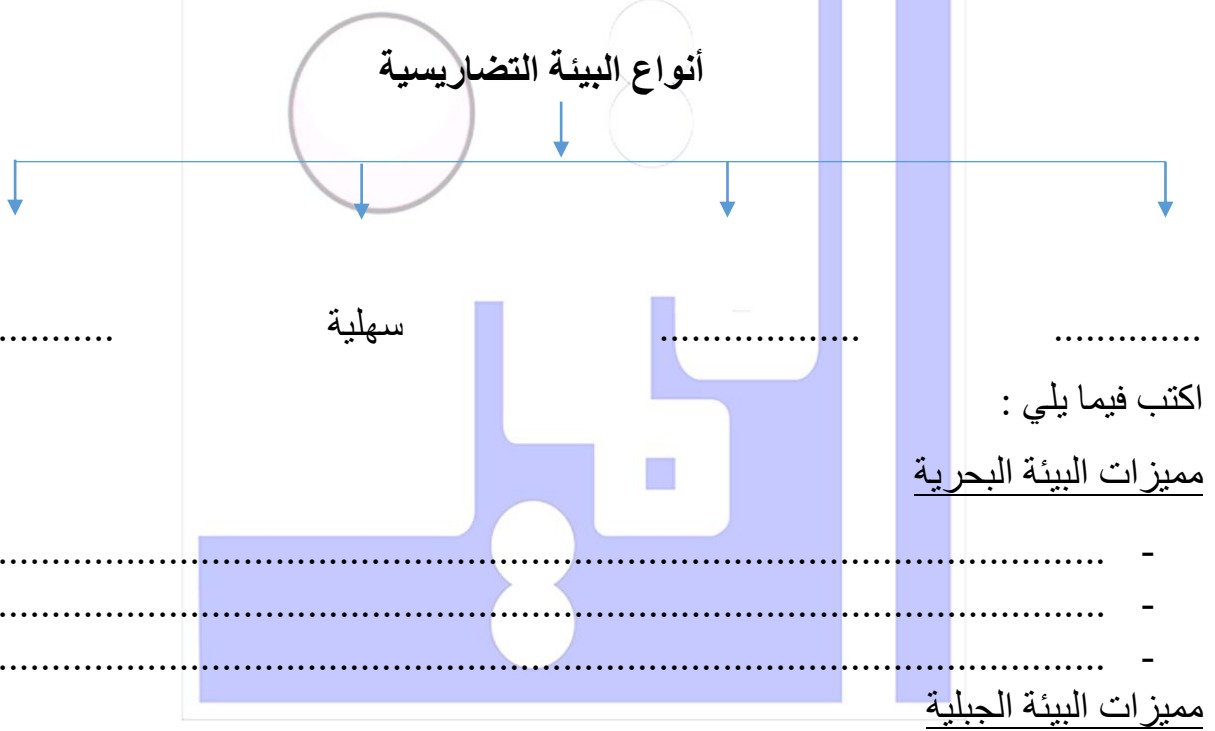
اكتب المفهوم الدال على العبارات التالية :

- ١ - (.....) مساحة من الأرض ذات خصائص مناخية متشابهة ومتميزة عن غيرها
- ٢ - (.....) حالة الجو خلال فترة زمنية طويلة
- ٣ - (.....) تعرضت دولة الكويت لأمطار غزيرة أدت الى هدم البيوت عام ١٩٣٤ م
- ٤ - (.....) الأقاليم الواقعة بين دائرتي عرض ٣٠-٤٠ شمالا وجنوبا تسمى
- ٥ - (.....) الأقاليم الواقعة بين دائرتي عرض ٦٠-٩٠ شمالا وجنوبا تسمى
- ٦ - (.....) الأقاليم الواقعة بين خط الاستواء ودائرة عرض ٣٠ شمالا وجنوبا تسمى
- ٧ - (.....) الأقاليم الواقعة فيما بين دائرتي عرض ٤٠-٦٠ شمالا وجنوبا تسمى

ورقة عمل رقم ٥

من خلال دراستك لموضوع (أنواع البيئة الطبيعية) ص ٣٠ من ك م اجب عن الأسئلة التالية :

اكمل المخطط السهمي التالي :



اكتب فيما يلي :

مميزات البيئة البحرية

مميزات البيئة الجبلية

مدرسة التميز النموذجية

مميزات البيئة المعتدلة

علل لما يأتي :

تعتمد بعض الحيوانات التي تعيش في البيئة المتجمدة الى تغيير لون كسائها من البني الى الأبيض

ورقة عمل البيئة الطبيعية رقم ١ الاجابات

من خلال دراستك لدرس (البيئة الطبيعية) ص ١٥ من ك م اجب عن الأسئلة التالية :


١ - اكتب المفهوم الدال على العبارات التالية :

(التوازن البيئي) التفاعل المستمر بين مكونات البيئة الذي يحفظ استقرارها النسبي في زمن محدد

(البيئة) الإطار الذي يعيش فيه الانسان ويحصل فيه على جميع مقومات حياته

(البيئة الطبيعية) كل ما يحيط بالإنسان من ظاهرات حية وظاهرات غير حية ليس للإنسان أي دخل في وجودها

٢- اكمل المخطط السهمي التالي :



٣ - اكتب فيما يلي :

مميزات البيئة الطبيعية

- ١- التوازن البيئي
 - ٢- توفر موارد طبيعية عديدة
 - ٣- علاقة تبادلية بين عناصر البيئة الطبيعية
- اكمل العبارات التالية بما يناسبها مما درست :

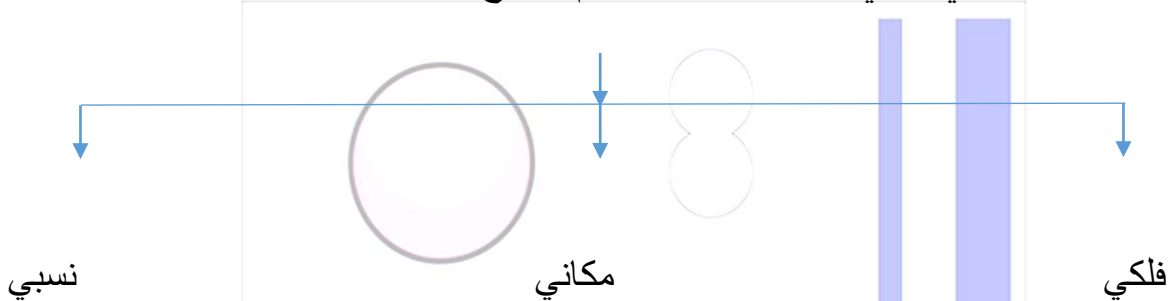
١- العالم الذي استخدم علم البيئة الطبيعية كمفهوم يدرس في الجامعات يسمى هنري ديفيد

٢- ظهر مصطلح البيئة الطبيعية في القرن التاسع عشر

ورقة عمل عن (الموقع) رقم ٢

من خلال دراستك لموضوع (الموقع) من ك م ص ١٨ اجب عن الأسئلة التالية :

اكمل المخطط السهمي التالي : اقسام الموقع



اكمل العبارات التالية بما يناسبها مما درست :

- اكبر دول العالم من حيث المساحة دولة تسمى روسيا
- اصغر دول العالم من حيث المساحة دولة تسمى الفاتيكان
- تقع دولة الكويت بالنسبة لقارة اسيا في جهة الجنوب الغربي
- تقع دولة الكويت بالنسبة للخليج العربي في جهة الشمال الغربي

مدرسة التميز النموذجية

- تقع دولة الكويت بالنسبة لشبه الجزيرة العربية في جهة الشمال الشرقي

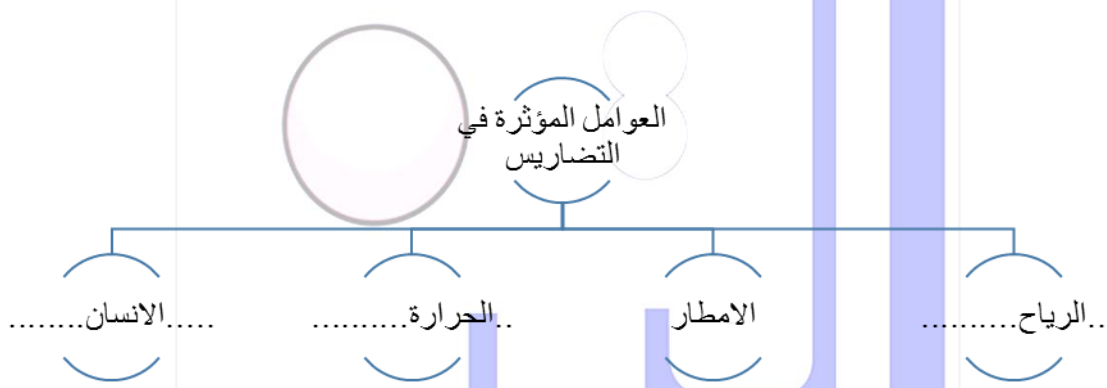
صحح ما تحته خط بكتابة الإجابة الصحيحة بين القوسين :

- الخط الرئيسي لدوائر العرض خط يسمى جرينتش (الاستواء)
- الخط الأساسي لخطوط الطول خط يسمى ١٨٠ (جرينتش)
- خط التاريخ الدولي يسمى خط الاستواء (١٨٠)
- يحد دولة الكويت من جهة الشمال دولة تسمى السعودية (العراق)
- يحد دولة الكويت من الشرق مسطح مائي اسمه بحر العرب (الخليج العربي)

ورقة عمل التضاريس رقم ٣

من خلال دراستك لموضوع (التضاريس) من ك م ص ٢٣ اجب عن الأسئلة الآتية :-

ت- أكمل المخطط السهمي التالي:



ث- علل لما يأتي:

٢- تعد السهول من أفضل مناطق الاستقرار البشري.

تركز السكان فيها لسهولة التنقل - تعتبر موانئ طبيعية

سهولة بناء المساكن عليها

مدرسة التميز النموذجية

٢- الجبال اقل مظاهر التضاريس صلاحية للاستقرار البشري والتوسع الزراعي :

لوعورتها - ولعدم وجود مقومات للحياة

٣ - أنواع السهول :

سهول ساحلية - سهول فيضيه نهريه

صحح ما تحته خط بكتابة الإجابة الصحيحة بين القوسين :

- كل مرتفع من الأرض وله قمة لا يقل ارتفاعها عن ١٠٠٠ متر يسمى التل (الجبل)

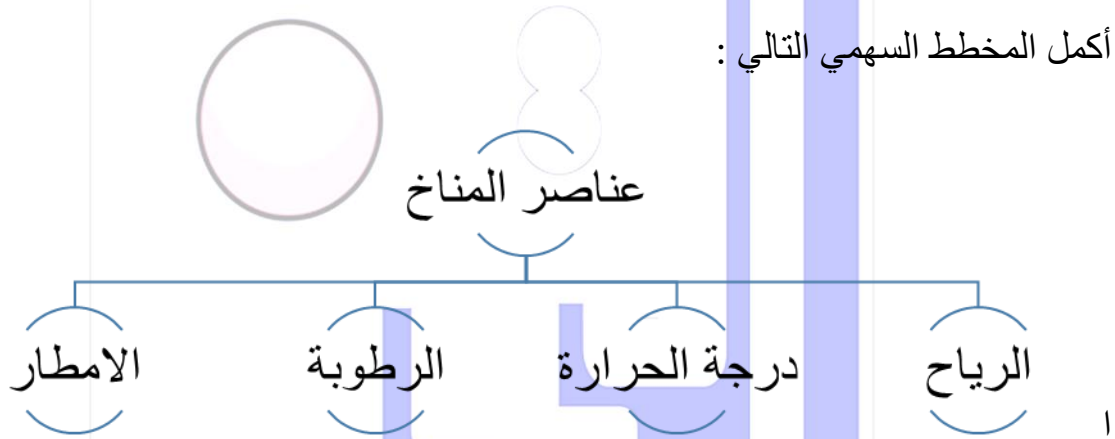
- ارض مرتفعة سطحها مستوي وتمتد لمساحة كبيرة تسمى السهول (الهضبة)

- الملامح الرئيسية لشكل سطح الأرض تسمى التعرية (التضاريس)

ورقة عمل رقم المناخ (٤)

من خلال دراستك لموضوع (المناخ) ص ٢٧ اجب عن الأسئلة الآتية :-

أكمل المخطط السهمي التالي :



اكتب المفهوم الدال على العبارات التالية :

١ - (الأقاليم المناخية) مساحة من الأرض ذات خصائص مناخية متشابهة ومتميزة عن غيرها

٢ - (المناخ) حالة الجو خلال فترة زمنية طويلة

٣ - (الهدامة الأولى) تعرضت دولة الكويت لأمطار غزيرة أدت الى هدم البيوت عام ١٩٣٤ م

٤ - (الأقاليم المناخية المعتدلة الدفيئة) الأقاليم الواقعة بين دائرتي عرض ٣٠-٤٠ شمالا وجنوبا

٥ - (الأقاليم المناخية الباردة) الأقاليم الواقعة بين دائرتي عرض ٦٠-٩٠ شمالا وجنوبا

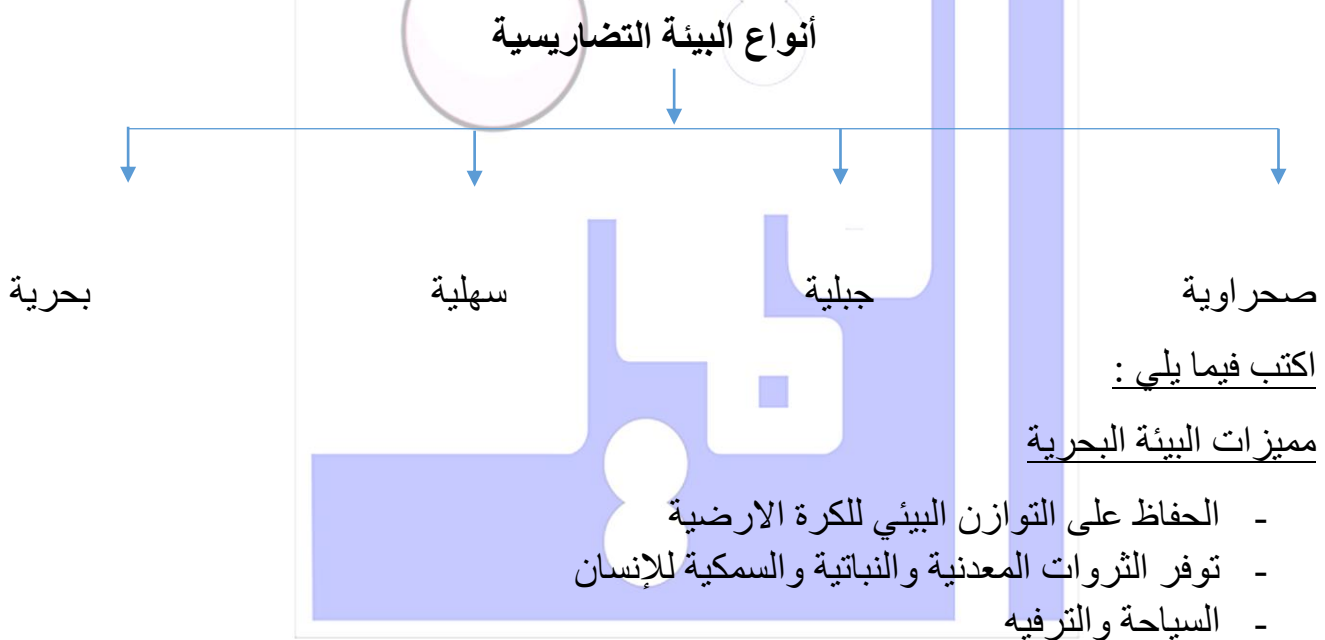
٦ - (الأقاليم المناخية الحارة) الأقاليم الواقعة بين خط الاستواء ودائرة عرض ٣٠ شمالا وجنوبا

٧ - (الأقاليم المناخية المعتدلة الباردة) الأقاليم الواقعة فيما بين دائرتي عرض ٤٠-٦٠ شمالا وجنوبا

ورقة عمل أنواع البيئة الطبيعية رقم ٥

من خلال دراستك لموضوع (أنواع البيئة الطبيعية) ص ٣٠ من ك م اجب عن الأسئلة التالية :

اكمل المخطط السهمي التالي :



مميزات البيئة الجبلية

مدرسة التميز النموذجية

- بيئة للسياحة
- بيئة طبيعية للحياة البرية
- تخزين المياه الطبيعية

مميزات البيئة المعتدلة

- ممارسة العديد من الأنشطة
- إقامة النشاط الزراعي والصناعي فيها
- البناء والاستقرار

علل لما يأتي :

تعتمد بعض الحيوانات التي تعيش في البيئة المتجمدة الى تغيير لون كسائها من البني الى الأبيض

لكي تختبئ اثناء تساقط الثلوج



مدرسة التميز النموذجية
(ابتدائي - متوسط - ثانوي)
الجهاز الفني التربوي

منصات التميز التعليمية

لزيارة منصة التميز التعليمية في اليوتيوب امسح الباركود التالي :



لزيارة منصة التميز التعليمية في تليجرام امسح الباركود الخاص بقناة كل فصل مما يلي :



الصف الرابع



الصف الثالث



الصف الثاني



الصف الأول



الصف التاسع



الصف الثامن



الصف السابع



الصف السادس



الصف الخامس



الصف الثاني عشر
أدبي



الصف الثاني عشر
علمي



الصف الحادي عشر
علمي



الصف الحادي عشر
أدبي



الصف العاشر



لزيارة صفحتنا في تويتر

لزيارة صفحتنا في الإنستغرام

عنواننا : خيطان - ق ٤ - ش ١٠٠