

المرشد الشامل (غير محلول) للمصف الثامن



مذكرة تفصيلية لأسئلة الكتاب



فريق الاعداد:

الوحدة الأولى : مريم البعيص

الوحدة الثانية : موزي مطلق المطيري

مراجعة وتدقيق:

الموجهة الفنية : نشمية المطيري

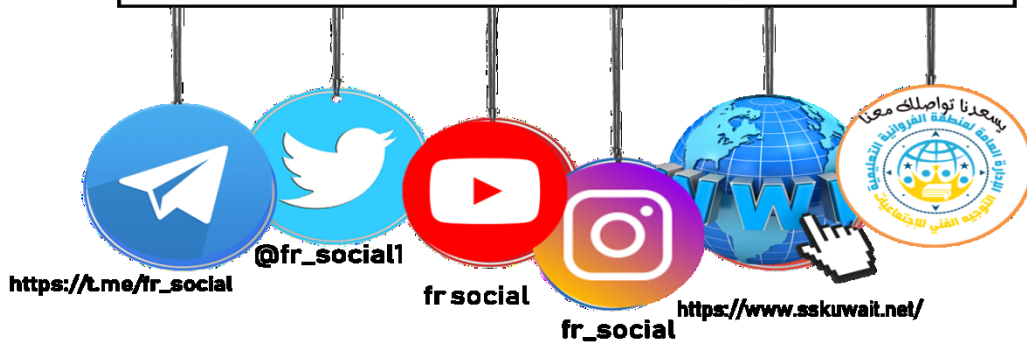
رئيسة قسم الاجتماعيات في مدرسة رقية بنت محمد : جليله الدغيم

رئيسة قسم الاجتماعيات في مدرسة عمرة الانصارية : فاطمة الصفوان

إشراف عام : الموجه الفني : حمد البحوه

تصميم وتنسيق : جليله الدغيم

مكتب التوجيه الفني للاجتماعيات منطقة الفروانية التعليمية



المقدمة :

يعد وضع أسئلة الاختبارات موضوعا حساسا، ودقيقا، إذ تشكل الأسئلة المقياس الأساسي في معرفة تطور الطالب، ومدى تحصيله الذي اكتسبه خلال دراسته للمادة، لذلك يجب أن توضع هذه الأسئلة بدقة كبيرة، بحيث تكون شاملة للمقرر الدراسي ومراعية لمستوى الطلبة، ولذلك يسرنا أن نقدم لكم المرشد الشامل للصف الثامن مقرر دولة الكويت والعالم الاسلامي أسئلة تفصيلية واضحة، وشاملة لجميع أسئلة بناء الاختبارات مع مراعاة معايير صياغة الاختبار والتي تم استخلاصها من ملف معايير صياغة الأسئلة المدرج في موقع التوجيه الفني للاجتماعيات ، نهديها الى كل من احتاج اليها من متعلمين ومعلمين ورؤساء أقسام سائلين المولى - سبحانه وتعالى - أن نكون قد وفقنا في تقديم المادة وعرضها وينفع به - حفظ الله الكويت وشعبها

فريق الإعداد

الوحدة الأولى	
لمحة تاريخية عن الحضارة الإسلامية	
أولاً	الحضارة الإسلامية . أسس الحضارة الإسلامية . خصائص الحضارة الإسلامية
ثانياً	مظاهر الحضارة الإسلامية المظاهر السياسية والإدارية . المظاهر الاقتصادية . المظاهر العمرانية . مظاهر الحياة الاجتماعية مظاهر الإنجازات العلمية والثقافية .
ثالثاً	مراكز إشعاع الحضارة الإسلامية ودورها في النهضة الأوروبية الحديثة



الأسئلة الموضوعية

الوحدة الاولى

١. أكمل العبارات التالية بما يناسبها فيما درست :

١. قامت الدولة الإسلامية في
٢. قامت الدولة الإسلامية على يد نبي الله سيدنا
٣. قامت الدولة الإسلامية في القرن
٤. أصدرت الجمعية العامة للأمم المتحدة قرارا بإدخال اللغة العربية لغة رسمية في عام
٥. التاريخ الذي يتم فيه الاحتفال باللغة العربية في كل عام يصادف
٦. العالم اليوناني الذي استفادت منه الحضارة الإسلامية في مجال الرياضيات
٧. العام الذي أطلقت فيه الأمم المتحدة لقب قائد العمل الإنساني للشيخ صباح الأحمد الصباح
٨. توفي الرسول - صلى الله عليه وسلم - في ١٢ من ربيع الأول عام
٩. اجتمع المسلمون بعد وفاة الرسول ﷺ في سقيفة
١٠. أول حاكم بعد الرسول - ﷺ - إذ خلفه بإدارة شئون المسلمين يسمى
١١. ظهر منصب إداري جديد في الدولة الإسلامية يسمى
١٢. استحدث منصب إداري جديد في عهد الخليفة الراشد الثاني عمر بن الخطاب رضي الله عنه يسمى
١٣. ظهر العديد من الكيانات السياسية من ممالك وسلطنات وإمارات في عهد الدولة
١٤. أنشأ ديوان الماء في مدينة مرو الواقعة في
١٥. صناعة خشبية برع المسلمون بصناعتها تسمى
١٦. اكتشف في دولة الكويت محطة لاستراحة قوافل الحجاج تعود للعصر الإسلامي تسمى
١٧. يبلغ مقدار الزكاة على الأموال النقدية التي حال عليها الحول بواقع
١٨. الجهة المسؤولة عن الوقف في دولة الكويت تسمى
١٩. الطراز المعماري يعكس التصميم الأندلسي والمنقوشات الإسلامية في دولة الكويت يسمى
٢٠. الشيخ الذي افتتح المسجد الكبير في عام ١٩٨٦م يسمى الشيخ
٢١. أول القبلتين وهو أكبر مساجد العالم يسمى
٢٢. الخليفة الذي ضم حجرات بيت الرسول ﷺ إلى المسجد يسمى
٢٣. المدينة التي يقع فيها قصر الحمراء تسمى غرناطة
٢٤. يطلق على بلاد الأندلس حاليا اسم
٢٥. قصر يقع في الأراضي الممتدة في شمال الصحراء السورية وجنوب نهر الفرات في العراق يسمى
٢٦. الخليفة العباسي الذي شجع على العلم وحركة الترجمة يسمى
٢٧. كلمة اشتقت منها كلمة الكاميرا تسمى
٢٨. العالم الذي له الفضل في تطوير فكرة الكاميرا يسمى
٢٩. استفاد الأوروبيون من طريقة المسلمون في نقل الرسائل جوا عن طريق
٣٠. ألف الجاحظ ٢٥٠ كتابا أهمهم كتاب كان يراقب سلوك الحيوانات عن طريق التجارب ويدرس أعضائها الداخلية يسمى كتاب

٢ (اكتب المفاهيم أو المصطلحات الدالة على العبارات التالية :

المفهوم	العبرة
١.	هي كل ما يطرأ على المجتمع من تقدم وتطور ورقي سواء في الجانب المادي أو الجانب الروحي.
٢.	هي دار المرضى أو المستشفى ومراكز الصيدلة والتحليل وصناعة الأدوية.
٣.	ضريبة الارض الزراعية التي تخرج مبلغا ماليا معيناً من ناتج المحصول الزراعي
٤.	هي ركن من أركان الإسلام يخرجها المسلمون الأغنياء للمستحقين من الفقراء، من الاموال والثروات وقيمتها ٢,٥٪ .
٥.	مبلغ مالي يدفعه الرجال غير المسلمين من أهل الذمة ممن قادرون على حمل السلاح نظير حماية الدولة لهم
٦.	صدقه جاريه يوقفها المرء في حياته لوجوه الخير والبر ، ويكون اجرها ونفعها ما دامت باقية ويستمر الأجر حتى بعد وفاته
٧.	مجموعة من المكعبات الزجاج المون والشفاف وقطع من الحجر الابيض والاسود والقطع الخزفية تثبت فوق طبقة من الجص او الاسمنت لتعطي شكل منظم متناسق في الشكل واللون
٨.	أماكن تقام فيها الصلوات وخطبة الجمعة والتعليم الديني .
٩.	هي مقر الحاكم والمكان الذي يضم المؤسسات الادارية كالوزارة والدواوين
١٠.	كلمة اشتقت من الدمقس وهو نوع من الحرير الذي اشتهرت به تلك المدينة قبل الإسلام.
١١.	هم النصارى واليهود الذين ظلوا على دينهم مع دفع الجزية .

٣) ظلل الخيار الصحيح من بين الخيارات التي تلي كل عبارة :

١/ العالم الذي ألف كتاب الصيدلة في الطب يسمى			
أ. البيروني	ب. الادريسي	ج. الرازي	د. الخوارزمي
٢/ أصدرت الجمعية العامة للأمم المتحدة قرارا بإدخال اللغة العربية كلغة رسمية في عام :			
أ. ١٩٧٢ م	ب. ١٩٧٣ م	ج. ١٩٧٤ م	د. ١٩٧٥ م
٣/ التاريخ الذي يحتفل العالم الاسلامي بقرار إدخال اللغة العربية لغة رسمية في عام ١٩٧٣ م هو			
أ. ١٨ سبتمبر	ب. ١٨ أكتوبر	ج. ١٨ نوفمبر	د. ١٨ ديسمبر
٤/ لقب الشيخ صباح الاحمد الصباح بقائد العمل الانساني في تاريخ:			
أ. ٦ سبتمبر ٢٠١٤ م	ب. ٧ سبتمبر ٢٠١٤ م	ج. ٨ سبتمبر ٢٠١٤ م	د. ٩ سبتمبر ٢٠١٤ م
٥/ أطلقت الأمم المتحدة لقب قائد العمل الإنساني بتاريخ ٩ سبتمبر من عام ٢٠١٤ م على الشيخ :			
أ. جابر الأحمد الصباح	ب. صباح الأحمد الصباح	ج. سعد العبد الصباح	د. نواف الأحمد الصباح
٦/ توفي الرسول -صلى الله عليه وسلم- في ١٢ من ربيع الأول عام :			
أ. ١١ هـ	ب. ١٢ هـ	ج. ١٣ هـ	د. ١٤ هـ
٧/ أول حاكم بعد الرسول -ﷺ- إذ خلفه بإدارة شئون المسلمين في الدين والدنيا هو:			
أ. عمر بن الخطاب	ب. أبي بكر الصديق	ج. عثمان بن عفان	د. علي بن أبي طالب
٨/ استحداث منصب إداري جديد في عهد الخليفة الراشد الثاني عمر بن الخطاب رَضِيَ اللهُ عَنْهُ هو :			
أ. المحتسب	ب. الخليفة	ج. الوالي	د. الوزير
٩/ صناعة خشبية برع المسلمين بصناعتها هي :			
أ. أرابيسك	ب. الخزف	ج. الحلي	د. الأسلحة
١٠/ الرسم الذي يمثل مقدار الزكاة على الأموال النقدية يمثلها الشكل :			
			
أ	ب	ج	د

١١/ ضريبة الأرض الزراعية التي تخرج مبلغا ماليا معيناً من ناتج المحصول الزراعي هي :			
أ. الزكاة	ب. الخراج	ج. الجزية	د. الوقف الإسلامي
١٢/ ركن من أركان الإسلام يخرجها المسلمون الأغنياء من الأموال والثروات للمستحقين من الفقراء هي			
أ. الزكاة	ب. الخراج	ج. الجزية	د. الوقف الإسلامي
١٣/ مبلغ مالي يدفعه الرجال غير المسلمين من أهل الذمة ممن هم قادرون على حمل السلاح نظير حماية الدولة لهم:			
أ. الزكاة	ب. الخراج	ج. الجزية	د. الوقف الإسلامي
١٤/ صدقة جارية يوقفها المرء في حياته لوجوه الخير والبر، ويكون أجرها ونفعها ما دامت باقية ويستمر الأجر حتى بعد وفاته:			
أ. الزكاة	ب. الخراج	ج. الجزية	د. الوقف الإسلامي
١٥/ الشيخ الذي افتتح المسجد الكبير في عام ١٩٨٦م هو:			
أ. جابر الاحمد الصباح	ب. سعد العبد الله الصباح	ج. صباح الأحمد الصباح	د. نواف الأحمد الصباح
١٦/ الطراز المعماري الذي يعكس التصميم الأندلسي والمنقوشات الإسلامية في دولة الكويت يسمى			
أ. مسجد السلطان أحمد	ب. المسجد النبوي	ج. مسجد عمر بن الخطاب	د. المسجد الكبير
١٧/ أول القبلتين في الاسلام وأحد أكبر مساجد العالم :			
أ. المسجد النبوي	ب. الكعبة المشرفة	ج. المسجد الأقصى	د. مسجد عمر بن الخطاب
١٨/ المسجد الذي رفع إبراهيم وابنه إسماعيل عليهما السلام قواعده وأصبح مثابة للناس وأمانا يسمى :			
أ. الكعبة المشرفة	ب. المسجد النبوي	ج. المسجد الأقصى	د. المسجد الكبير
١٩/ مركزا دينيا وسياسيا وثقافيا للدولة الإسلامية الجديدة هو			
مكة المكرمة:	المسجد الكبير	المسجد النبوي	المسجد الأقصى
٢٠/ يقع جامع عمرو بن العاص في :			
أ. الاردن	ب. الأندلس	ج. الفسطاط	د. مرو
٢١/ تقع جامعة الزيتونة في :			
أ. قرطبة	ب. تونس	ج. دمشق	د. بغداد
٢٢/ يقع قصر الحمراء بمدينة غرناطة في :			
أ. الأندلس	ب. دمشق	ج. قرطبة	د. القاهرة
٢٣/ الخليفة العباسي الذي شجع على العلم وحركة الترجمة :			
المأمون	هشام بن عبد الملك.	معاوية بن ابي سفيان	يزيد بن الوليد

٢٤ / يعتبر مجمع باي كاليان احد المراكز العلمية للحضارة الاسلامية ويقع في مدينة:			
أ- دمشق	ب- بخاري	ج- بغداد	د- المدينة المنورة
٢٥ / يعتبر بيت الحكمة من أهم المراكز العلمية في الحضارة الإسلامية ويقع في :			
أ- بغداد	ب- دمشق	ج- الاردن	د- اوزباكستان
٢٦ / يعتبر المرصد الفلكي من أهم المراكز العلمية في الحضارة الاسلامية ويقع في :			
أ- دمشق	ب- بغداد	ج- أذربيجان	د- أوزباكستان
٢٧ / العالم الذي له الفضل في تطوير فكرة الكاميرا هو:			
أ- الخوارزمي	ب- الرازي	ج- الادريسي	د- الحسن بن الهيثم
٢٨ / أشهر علماء الجبر ألف كتاب الجبر والمقابلة هو :			
أ- الخوارزمي	ب- الرازي	ج- الادريسي	د- الحسن بن الهيثم
٢٩ / أشهر علماء الطب ألف كتاب الحاوي في الطب هو :			
أ- البيروني	ب- الادريسي	ج- الرازي	د- الخوارزمي
٣٠ / ألف العالم الجاحظ ٣٥٠ كتاب وأهمهم كتاب :			
أ- الحيوان	ب- الصيدلة في الطب	ج- الجبر والمقابلة	د- نزهة المشتاق في اختراق الآفاق
٣١ / أحد مراكز إشعاع الحضارة الاسلامية الى أوروبا تمثلها حاليا دولة (إيطاليا) هي :			
أ- بلاد الأندلس	ب- صقلية	ج- بلاد الشام	د- بلاد الرافدين
٣٢ / تمثل الدول الحالية (إسبانيا والبرتغال) أحد مراكز إشعاع الحضارة الاسلامية الى أوروبا هي :			
أ- بلاد الأندلس	ب- صقلية	ج- بلاد الشام	د- بلاد الرافدين
٣٣ / تمثل الدول الحالية (سوريا ولبنان والاردن وفلسطين) أحد مراكز الإشعاع الحضارة الاسلامية الى أوروبا هي :			
أ- بلاد الأندلس	ب- صقلية	ج- بلاد الشام	د- بلاد الرافدين
٣٤ / تأثر العالم الانجليزي روجر بيكون بالعالم والفيلسوف الكندي في مجال :			
الفلسفة	الجغرافيا	الطب	الرياضيات

٤) صوب ما تحته خط في العبارات التالية :

الرقم	العبارة	التصويب
١.	قامت الدولة الإسلامية- في القرن السابع الميلادي.	
٢.	قامت الدولة الإسلامية في بيت المقدس .	
٣.	في كل عام يحتفل العالم الاسلامي بيوم اللغة العربية في تاريخ ١٨ نوفمبر	
٤.	أطلقت الأمم المتحدة لقب قائد العمل الإنساني للشيخ جابر الاحمد الصباح	
٥.	لقب للشيخ صباح الأحمد الصباح بقائد العمل الإنساني بتاريخ ٩ سبتمبر عام ٢٠١٥م.	
٦.	ظهر منصب إداري جديد في الدولة الإسلامية بعد وفاة الرسول ﷺ هو الوالي	
٧.	ظهر العديد من الكيانات السياسية من ممالك وسلطنات وإمارات. في عهد الدولة الأموية.	
٨.	توفي الرسول- صلى الله عليه وسلم- في ١٢ من ربيع الأول عام ١٢ هـ	
٩.	تم أنشأ ديوان الماء في مدينة قرطبة.	
١٠.	برزت الصناعات الخشبية عند العرب وسميت نسبة لهم هي الخزف.	
١١.	مقدار الزكاة على الأموال النقدية التي حال عليها الحول ٢٥٪.	
١٢.	أماكن تقام فيها الصلوات وخطبة الجمعة والتعليم الديني هي القصور	
١٣.	أنشأ المسجد النبوي بالمدينة المنورة خلال ثلاث شهور من الهجرة.	
١٤.	يقع الجامع الازهر في دمشق.	
١٥.	يقع جامع قرطبة في السعودية.	
١٦.	يقع مسجد عمر بن الخطاب بدومة الجندل في اسبانيا.	
١٧.	أشهر علماء المسلمين في الطب هو البكري.	

٥) ضع علامة (✓) أمام العبارة الصحيحة، وعلامة (x) أمام العبارة الخاطئة مع التصويب:

الصفحة	الرقم	العبارة	أ	ب	التصويب
٢٤	١	أطلق لقب قائد العمل الإنساني على كل من حضرة صاحب السمو أمير البلاد الشيخ صباح الأحمد الصباح والداعية الدكتور عبد الرحمن السميّط.			
٢٥	٢	ظهر منصب المحتسب في عهد الخليفة أبو بكر الصديق رضي الله عنه.			
٢٥	٣	توفي الرسول صلى الله عليه وسلم في عام ١٣ هجرية.			
٢٥	٤	اول خليفة للدولة الإسلامية اسمه ابي بكر الصديق .			
٢٥	٥	اجتمع المسلمون لاختيار خليفة لرسول ﷺ في مكان سقيفة بني ساعدة.			
٢٧	٦	صناعة خشبية برع المسلمين بصناعتها وسميت نسبة لهم هي الأرابيسك			
٢٨	٧	الخراج هو ضريبة الأرض الزراعية التي تخرج مبلغا ماليا معيناً من ناتج المحصول الزراعي			
٢٨	٨	تجب الزكاة على الأموال النقدية التي حال عليها الحول بواقع ٥ ٪			
٢٩	٩	الخراج هو مال يؤخذ من اهل الذمة (اليهود – والنصارى).			
٣٠	١٠	من أهم مميزات المظاهر العمرانية في الحضارة الإسلامية القباب والمآذن والمنابر والزخارف والأسوار .			
٣١	١١	افتتح الشيخ جابر الاحمد الصباح المسجد الكبير			
٣١	١٢	تم افتتاح المسجد الكبير في عام ١٩٨٨م			
٣١	١٣	صمم المسجد الكبير على طريقة الطراز الاندلسي الاسلامي .			
٣٣	١٤	المسجد الأقصى هو أول القبلتين وأحد أكبر مساجد العالم			
٣٣	١٥	الخليفة الذي ضم حجرات بيت الرسول ﷺ الى المسجد هو علي بن ابي طالب			
٣٤	١٦	قصر الخضراء بناه الخليفة الأموي معاوية بن ابي سفيان .			
٣٤	١٧	قصر عمرة بناه الخليفة يزيد بن الوليد .			
٣٥	١٨	تم بناء قصر الرصافة في عهد الخليفة مروان بن عبد الملك .			
٣٩	١٩	العالم الذي له الفضل في تطوير فكرة الكاميرا هو الحسن بن الهيثم			
٣٩	٢٠	الكاميرا كلمة اشتقت من العدسة			
٤٢	٢١	اشتهرت كتابات الادريسي نزهة المشتاق في اختراق الافاق في مجال الطب			

(٦) استنتج الرابط بين العناصر التالية :


- ١/ الرياضيات + الفيزياء + الكيمياء + الفلسفة + الفلك (.....)
- ٢/ علوم الدين + حديث + فقه + تفسير + تاريخ (.....)
- ٣/ مساجد + قصور + مستشفيات + مكتبات + الأدوات + الاختراعات. (.....)
- ٤/ العلوم + الفكر + الأدب + الأخلاق + السياسة + الثقافة (.....)
- ٥/ القرآن الكريم والسنة النبوية + اللغة العربية + الحضارات الاخرى (.....)
- ٦/ شمولية + عالمية + تسامح + حضارة إيمان وعمل + إنسانية (.....)
- ٧/ الوزير + الوالي + الحاجب + القاضي + المحتسب (.....)
- ٨/ سور الأحساء + سور القاهرة + سور بغداد (.....)
- ٩/ أهل الذمة + رجال الدين + الحكام + الخدم + التجار (.....)

(٧) من أنا أو ماذا أمثل أو من نحن أو من نكون :



صناعة خشبية
برع المسلمين
بصناعتها
انا

منصب إداري جديد
استحدث في عهد الخليفة
الراشد الثاني عمر بن
الخطاب رضي الله عنه :
انا



مسجد رفع بنيانه نبي الله
إبراهيم وابنه إسماعيل
عليهما السلام
قواعده. أنا



أنشأت الحضارة
الاسلامية بنا
ماذا نمثل
.....

(٨) صنف الكلمات التالية إلى مكانها المناسب في الجدول التالي:

أ- أسماء الكتب : الحيوان / الصيدلة في الطب / الجبر والمقابلة / الحاوي في الطب / نزهة المشتاق في اختراق الآفاق

العالم	الجاحظ	البيروني	الخوارزمي	أبو بكر الرازي	الشريف الإدريسي
الكتاب					

ب- مكان المسجد (مكة المكرمة / المدينة المنورة / القدس / فلسطين المحتلة)

اسم المسجد	الكعبة المشرفة	المسجد النبوي	المسجد الأقصى
المكان			

ج- القصور / القاهرة / تونس / الأندلس / دمشق / المملكة العربية السعودية / إسطنبول

المسجد الأموي	جامع عمرو بن العاص	الجامع الأزهر	جامعة الزيتونة	جامع قرطبة	مسجد السلطان أحمد	مسجد عمر بن الخطاب

د- القصور + الأدب + الثقافة + الأدوات + الاختراعات + الأخلاق + السياسة + مساجد

الجوانب المادية	الجوانب الروحية

القرآن الكريم + شمولية + تسامح + إيمان وعمل اللغة العربية + إنسانية + عالمية

اسس الحضارة الإسلامية	خصائص الحضارة الإسلامية

(٩) ضع أسماء الخلفاء أو القصور التالية أسماؤهم كلا في مكانه حسب الجدول التالي:

هشام بن عبد الملك / معاوية بن أبي سفيان / يزيد بن الوليد
الرصافة / الخضر / عمرة

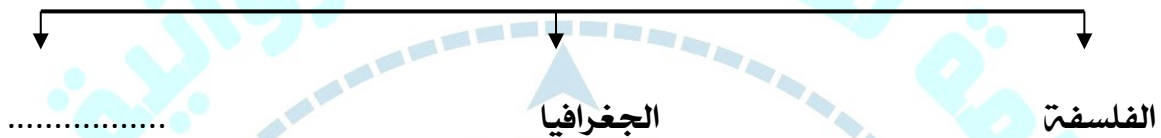
الخليفة			
اسم القصر			
المكان	سوريا	دمشق	الأردن

(١٠) أكمل المخططات السهمية التالية :

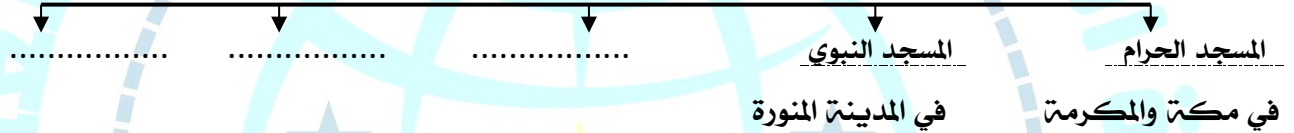
الحضارات الأخرى التي طورت الحضارة الاسلامية



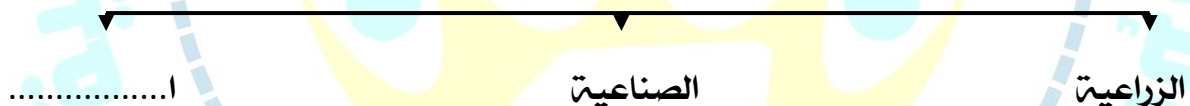
المجالات التي أثرت بالعلماء الأوربيين .



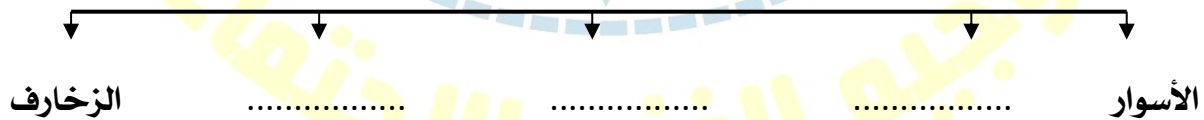
أهم المراكز العلمية في الحضارة الاسلامية



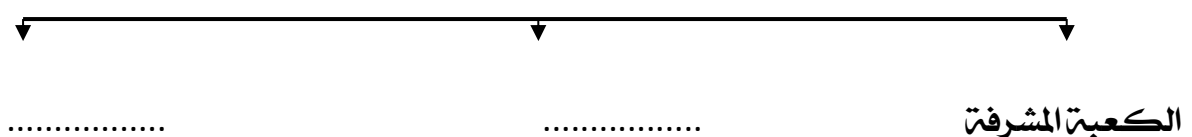
(المظاهر الاقتصادية الحضارة الإسلامية)



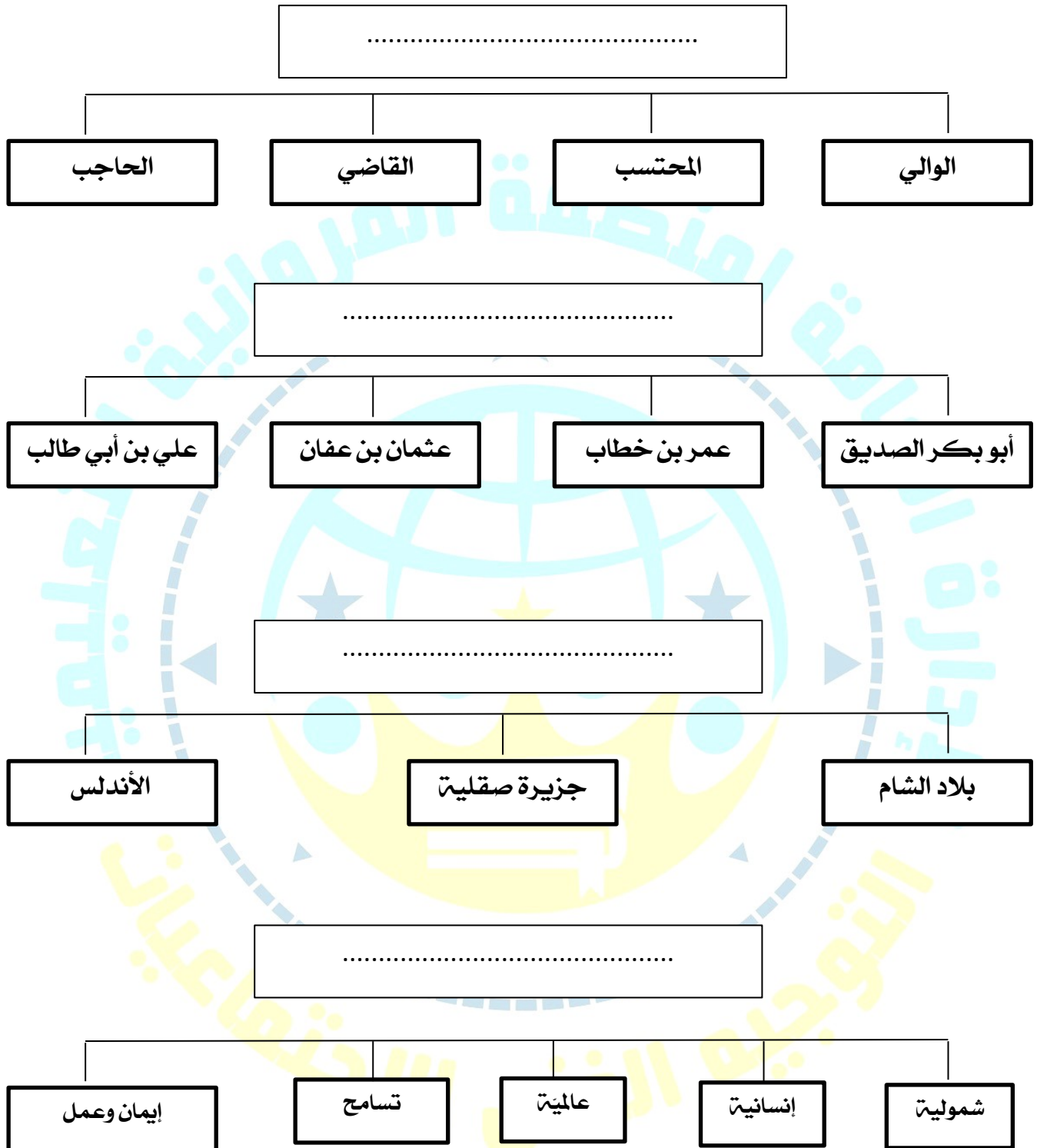
مميزات المظاهر العمرانية في الحضارة الإسلامية



أشهر المساجد التاريخية في العالم الإسلامي



(١١) اكتب عنوانا للمخططات السهمية التالية :



١٢) اختر للمجموعة (أ) ما يرتبط بها من المجموعة (ب) بوضع الرقم المناسب.



م	المجموعة (أ)	الرقم المناسب	المجموعة (ب)
١	بلاد الأندلس		سوريا - لبنان - فلسطين - الاردن
٢	صقلية		إيطاليا
٣	بلاد الشام		إسبانيا والبرتغال
			بريطانيا

م	المجموعة (أ)	الرقم المناسب	المجموعة (ب)
١	كتاب الحيوان		البيروني
٢	كتاب الصيدلة في الطب		الخوارزمي
٣	كتاب نزهة المشتاق في اختراق الآفاق		الجاحظ
			الادريسي

م	المجموعة (أ)	الرقم المناسب	المجموعة (ب)
١	مبلغ يخرج المسلمون الأغنياء من الأموال والثروات للمستحقين من الفقراء		الجزية
٢	ضريبة الأرض الزراعية التي تخرج مبلغا ماليا معيناً من ناتج المحصول الزراعي		الخراج
٣	مبلغ مالي يدفعه الرجال غير المسلمين من أهل الذمة نظير حماية الدولة لهم.		الزكاة
٤	صدقة جارية يوقفها المرء في حياته لوجوه الخير والبر، ويكون أجرها ونفعها ما دامت باقية ويستمر الأجر حتى بعد وفاته.		الوقف الإسلامي
			الصدقة

١٢ / أ. أعد ترتيب الأحداث التالية ترتيباً تصاعدياً من الأقدم إلى الأحدث بوضع الرقم الصحيح في المربع

ترتيب الأحداث	الأحداث
١	ظهور منصب إداري جديد في الدولة الإسلامية وهو الخليفة.
٢	اجتماع المسلمون في سقيفة بني ساعدة.
٣	اختيار أبي بكر الصديق - <small>رضي الله عنه</small> كأول حاكم بعد الرسول - <small>ﷺ</small> .
٤	استحداث منصب إداري جديد في عهد الخليفة الراشد الثاني عمر بن الخطاب - <small>رضي الله عنه</small> .
٥	وفاة الرسول - <small>ﷺ</small> في ١٢ من ربيع الأول عام ١١ هـ.

بد أعد ترتيب رتب الخلفاء الراشدين ترتيباً تصاعدياً من حيث فترة توليهم الخلافة :
عمر بن الخطاب - عثمان بن عفان - علي بن أبي طالب - أبو بكر الصديق

--	--	--	--

١٤ / لاحظ الشكل المقابل ، ثم أجب عن الأسئلة التالية :



(١) أكمل العبارات التالية بما يناسبها :

الشكل المقابل يمثل معلم ديني يسمى

تم افتتاح هذا المعلم في عام

الشيخ الذي تم في عهده افتتاح هذا المعلم هو




(١) أكمل العبارات التالية بما يناسبها :

الشكل المقابل يمثل

اذكر اثنين منها

١) ٢)



(١) أكمل العبارات التالية بما يناسبها :

- الشكل المقابل يمثل (.....)

- ماذا يمثل هذا المعلم للمسلمين؟

.....

في أي دولة يقع ؟



(١) أكمل العبارات التالية بما يناسبها :


- الشكل المقابل يمثل

- من هو العالم الذي قام برسم خريطة كروية الأرض ؟

ما اسم أشهر كتبه

في أي مجال اشتهر ؟

١٥ / ضع عنوانا مناسباً لـ... (الصور - الأشكال - الخرائط - المعلومات) التالية :



.....

.....




.....

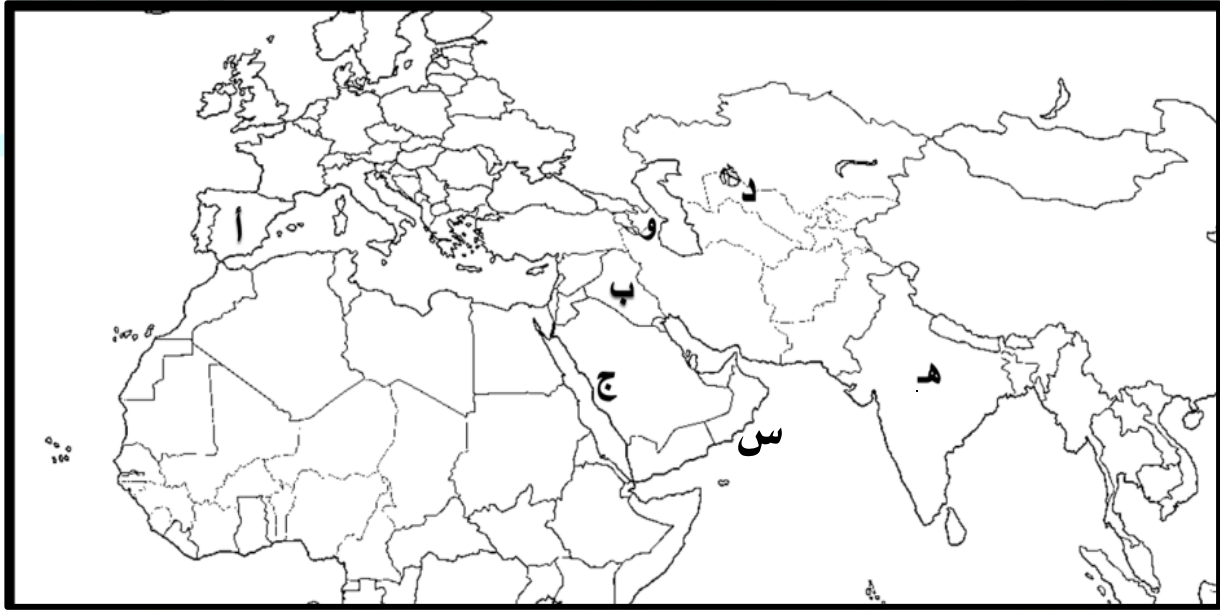
.....

(١٦) لاحظ الصورة التي أمامك ، ثم أكتب الحدث التاريخي الدال عليها :

.....
.....



(١٧) أمامك خريطة مقطعية من العالم الاسلامي نفذ المطلوب :



- بلاد الأندلس من مراكز الاشعاع يمثلها على الخريطة الحرف :
- المرصد الفلكي في أذربيجان يمثلها على الخريطة الحرف :
- بيت الحكمة يمثلها على الخريطة الحرف :
- مجمع باي كاليان يمثلها على الخريطة الحرف :
- مسجد رفعة نبي الله إبراهيم واسماعيل يمثلها على الخريطة الحرف :
- بحر العرب يمثلها على الخريطة الحرف :

□ الأسئلة المقالية :

(١) فرق بين كل مما يلي :

• ١- الصادرات والواردات في الحضارة الاسلامية-

الصادرات	الواردات

٢- مفاهيم كل من التالية :

الزكاة	الخراج	الجزية	الوقف الإسلامي

(٢) عرف المفاهيم أو المصطلحات التالية :

١- الحضارة :

٢- الخراج :

٣- الزكاة :

٤- الجزية :

٥- الوقف الإسلامي :

المساجد :

٦- القصور :

٧- اهل الذمة :

الفسيفساء :

(٣) فسر:

١. تسمية الحضارة الإسلامية بهذا الاسم.
٢. تسمية صناعة الأرابيسك بهذا الاسم.
٣. تسمية الزكاة بهذا الاسم.

(٤) علل / اذكر السبب.

١. أهتمت الحضارة الإسلامية بالموارد الاقتصادية والمالية.
٢. اهتمت الدولة الإسلامية بالقطاع الصناعي اهتماما كبيرا.
٣. تدين أوروبا بالفضل الكبير للحضارة الإسلامية.
٤. لقيت التجارة تشجيعا كبيرا في الحضارة الإسلامية.
٥. ازدهار العلم وظهور العلماء في الدولة الإسلامية.

(٥) برهن على صحة العبارة التالية:

١/ انعكس أثر خصائص الحضارة الإسلامية على دولة الكويت

أ.....
ب.....

٢/ كان لجزيرة فيلكا دور يعود للعصر الإسلامي:

أ.....
ب.....

٣/ استفاد الأوروبيون من الحضارة الإسلامية في عدة مجالات منها الجغرافيا والفلسفة واستخراج المياه الجوفية.

أ.....
ب.....

٦/ دلل على صحة العبارة التالية:

١/ كان للمسلمين جهود عديدة في الزراعة

أ.....
ب.....

١٢ شعب الكويت جبل على حب الخير الدائم والأجر المستمر.

٧ اذكر ما تعرفه عن البيروني :

عدد مؤلفاته	
أشهر مؤلفاته	
أهم اكتشافاته	

١٨ عدد .

١/ عدد اسس الحضارة الاسلامية :

أ.....
ب.....

٢/ عدد الصناعات التي ظهرت في الحضارة الاسلامية .

أ.....
ب.....

٣/ عدد العوامل أدت إلى ازدهار العلم وظهور العلماء :

أ.....
ب.....

٤/ عدد المناصب السياسية في الدولة الإسلامية .

(الخليفة - الوالي - القاضي - الحاجب - المحتسب)

٥/ عدد خصائص الحضارة العربية الإسلامية .

أ.....
ب.....

٦/ عدد الشخصيات الكويتية التي أطلق عليها لقب قائد العمل الانساني

أ.....
ب.....

٩/ أحب عن الأسئلة التالية :

- ١/ ماهي موارد بيت مال المسلمين ؟
أ.....
ب.....
- ٢/ ما أهم مميزات المظاهر العمرانية ؟
أ.....
ب.....
- ٣/ ماهي نتائج حضارة إيمان وعمل ؟
أ.....
ب.....
- ٤/ ما أهمية الوقف الاسلامي ؟
أ.....
ب.....
- ٥/ أهمية المساجد في العالم الاسلامي
أ.....
ب.....

١٠ / أقرأ الفقرة التالية ثم أجب على الأسئلة التي تليها :

أن الجمعية العامة للأمم المتحدة أصدرت في شهر ديسمبر عام ١٩٧٣ قراراً بإدخال اللغة العربية ضمن اللغات الرسمية ولغات العمل في الأمم المتحدة وهي الإنجليزية والفرنسية والصينية والروسية والإسبانية ، بعد اقتراح قدمته المملكة العربية السعودية ومملكة المغرب ويعتبر هذا تأكيد على انتشار اللغة العربية واعتبر يوم ١٨ ديسمبر من كل عام يوم الاحتفال باللغة العربية.

١ - ما هو التاريخ الذي تم الاعتراف به في اللغة العربية

٢ - استنتج ثلاثة أفكار من الفقرة السابقة

أ.....
ب.....
ج.....

٣ - استخلص حقيقة من الفقرة السابقة

٤ - اقترح عنواناً مناسباً للفقرة

يعتبر المسجد الكبير من أهم المظاهر العمرانية في دولة الكويت له إطلاله جميلة ومنظر بديع، حيث يقع في قلب العاصمة مقابل قصر السيف، والذي افتتح في عام 1986 في عهد الشيخ جابر الأحمد الصباح، وقد صمم المسجد وفق الطراز الأندلسي الإسلامي.

١ - استخرج من الفقرة السابقة

في عهد أي شيخ تم افتتاح المسجد الكبير ؟

متى تم افتتاح المسجد الكبير؟

٢ - استخلص حقيقة من الفقرة السابقة .

من مقولات المفكر الفرنسي في كتاب حضارة العرب ➤ . لم يعرف التاريخ أمة أرحم من العرب (المسلمين) . والرحمة والعدل عندهم متلازمان، و"لقد فاق العرب (المسلمين) كل من سبقهم من الأمم وظهرت قوتهم الإبداعية في مختلف الفنون

١ / من القائل ؟.....

٢ / على ماذا تدل ؟.....

(١١) اكتب مما درست حول :

١/ يوم الاحتفال باللغة العربية.

.....

.....

.....

٢/ المسجد الأقصى :

.....

.....

.....



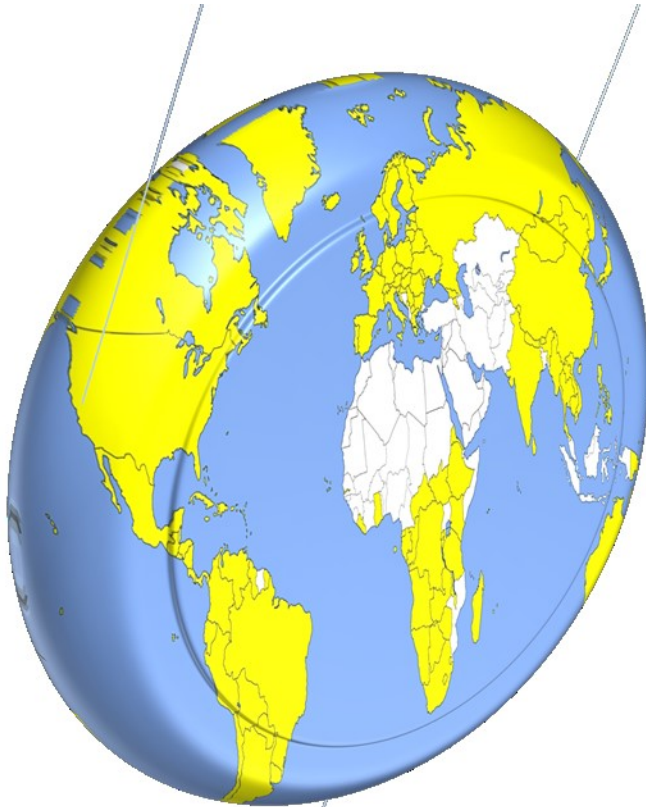
٣/ مجالس القصص والوعاظ،

.....

.....

.....





الأسئلة الموضوعية

الوحدة الثانية

١. أكمل العبارات التالية بما يناسبها فيما درست :

- ١/ تتواجد دول العالم الاسلامي ضمن
- ٢/ تبلغ مساحة العالم الاسلامي حوالي.....مليون كم^٢.
- ٣/ تبلغ مساحة العالم الاسلامي بالنسبة لمساحة العالم حوالي.....
- ٤/ الدولة الاسلامية الوحيدة في قارة امريكا الجنوبية تسمى
- ٥/ يقع العالم الاسلامي بين خطي طول ١٨ غرباً الىشرقاً
- ٦/ يقع العالم الاسلامي بين دائرتي عرض ١٣ جنوب خط الاستواء الىشمال خط الاستواء.
- ٧/ أكبر الدول الاسلامية مساحة تسمى جمهورية
- ٨/ أصغر الدول الاسلامية مساحة تسمى جمهورية
- ٩/ جبال تضم مكة و تحجز سهل تهامة في الغرب عن هضبة نجد في الشرق تسمى مرتفعات
- ١٠/ يطلق على هضبة الصحراء الكبرى
- ١١/ أكبر هضبة في العالم الاسلامي تمتد من ساحل المحيط الأطلسي غرباً الى مرتفعات البحر الاحمر شرقاً تسمى هضبة
- ١٢/ تنقسم السهول في العالم الى نوعين سهول فيضيه و سهول
- ١٣/ أشهر سهول دولة الكويت يمتد من جون الكويت باتجاه الجنوب موازياً للساحل يسمى سهل
- ١٤/ سهل يقع في شمال دولة الكويت يسمى
- ١٥/ يشبه الجبل ولكن ارتفاعه يكون اقل من ١٠٠٠ متر. يسمى.....
- ١٦/ أكثر الأقاليم المناخية انتشاراً في دول العالم الاسلامي الاقليم.....
- ١٧/ مساحة من الارض تتصف بعناصر مناخية متشابهة اسم
- ١٨/ من اهم مصادر الطاقة في العالم الغاز الطبيعي و.....
- ١٩/ يبلغ إجمالي احتياطي النفط الخام في دول العالم الاسلامي من إجمالي الاحتياطي العالمي حوالي.....
- ٢٠/ أكثر المعادن انتاجاً في العالم الاسلامي يسمى
- ٢١/ أكثر دوله انتاجاً لمعدن اليورانيوم لعام ٢٠١٤ بنسبة ٤١ % تسمى
- ٢٢/ تبلغ نسبة إنتاج العالم الاسلامي من الحبوب بالنسبة للعالم حوالي.....%
- ٢٣/ المحاصيل التي تزرع من أجل التصدير تسمى
- ٢٤/ تصنع الحبال وبعض انواع الاحذية و الحقائق والأقمشة من أغصان نبات يسمى
- ٢٥/ الدولة التي احتلت المركز الثاني على مستوى العالم للإنتاج البحري في عام ٢٠١٤ تسمى
- ٢٦/ يعد من المصادر غير الطبيعية لإنتاج الاسماك يسمى
- ٢٧/ الدولة التي لا تطل على سطح مائي تسمى دوله

٢) اكتب المفاهيم أو المصطلحات الدالة على العبارات التالية :

أشكال سطح الارض وتطلق على الجبال والهضاب والسهول والتلال	١.
حوض أو منخفض طبيعي على سطح الارض	٢.
كل قمة لا يقل ارتفاعها عن ١٠٠٠ متر تقريبا	٣.
أجزاء فسيحة من سطح الأرض تتميز باستوائها وقلّة ارتفاعها	٤.
أرض مرتفعة سطحها مستو ، وتمتد لمساحة واسعة	٥.
يشبه الجبل ولكن ارتفاعه اقل من ١٠٠٠ متر	٦.
حالة الجو خلال فترة زمنية طويلة من حيث عناصره	٧.
حالة الجو في مكان لمدة قصيرة تتراوح بين يوم أو عدة أيام	٨.
مساحه من الأرض تتصف بعناصر مناخية متشابهة.	٩.
كمية النفط المخزونة في باطن الارض ولم تستخرج بعد.	١٠.
المحاصيل التي تزرع من أجل التصدير مثل : القطن والمطاط الطبيعي.	١١.
هو نبات ينمو في المناطق الاستوائية والموسمية، تؤخذ أغصانه وتوضع تحت الماء وتطمر بالطين، وبعد أيام تستخرج وتغزل ويصنع منها الحبال والأحذية والحقائب والأقمشة الخشنة.	١٢.
مصطلح يطلق على أي دولة لا تطل على مسطح مائي	١٣.

٣) ظلل الخيار الصحيح من بين الخيارات التي تلي كل عبارة :

١/ تتواجد دول العالم الاسلامي ضمن :			
أ- ثلاث قارات	ب- أربع قارات	ج- خمس قارات	د- ست قارات
٢/ يطلق مصطلح القارات القديمة على كل من قارة آسيا وأفريقيا وقارة :			
أ- أمريكا الجنوبية	ب- أمريكا الشمالية	ج- استراليا	د- أوروبا
٣/ يبلغ عدد الدول الاسلامية في قارة أفريقيا :			
أ- ٢٤ دولة	ب- ٢٥ دولة	ج- ٢٦ دولة	د- ٢٧ دولة
٤/ يبلغ عدد الدول الاسلامية في قارة آسيا :			
أ- ٢٤ دولة	ب- ٢٥ دولة	ج- ٢٦ دولة	د- ٢٧ دولة
٥/ تضم قارة أوروبا دولتين اسلاميتين هما ألبانيا و :			
أ- البوسنة والهرسك	ب- سورينام	ج- كازاخستان	د- افغانستان
٦/ الدولة اسلامية التي تقع ضمن قارة أمريكا الجنوبية هي :			
أ- سورينام	ب- ألبانيا	ج- جزر المالديف	د- المانيا
٧/ تبلغ مساحة العالم الاسلامي حوالي :			
أ- ٣٠ كم ^٢	ب- ٣١ كم ^٢	ج- ٣٢ كم ^٢	د- ٣٣ كم ^٢
٨/ اكبر الدول الإسلامية من حيث المساحة هي :			
أ- أوزبكستان	ب- كازاخستان	ج- باكستان	د- افغانستان
٩/ اصغر دول العالم الاسلامي مساحة هي :			
أ- جيبوتي	ب- جزر القمر	ج- المالديف	د- البحرين
١٠/ كل قمة لا يقل ارتفاعها عن ١٠٠٠ متر تسمى :			
أ- الجبل	ب- التل	ج- سهول	د- وديان
١١/ من اهم الجبال في قارات أمريكا الجنوبية تسمى :			
أ- جبال الالب	ب- جبال زاجروس	ج- جبال أطلس	د- جبال جوليانا توب
١٢/ من اكبر الهضاب في العالم هضبة :			
أ- نجد	ب- الأناضول	ج- الصحراء الكبرى	د- الإيرانية
١٣/ من المصادر الغير طبيعية لإنتاج الأسماك هو			
أ- المياه العذبة	ب- الاستزراع السمكي	ج- المحيطات	د- البحار

(٤) صوب ما تحته خط في العبارات التالية:

الرقم	العبارة	التصويب
١.	تتواجد دول العالم الاسلامي ضمن ثلاث قارات	
٢.	يمتد العالم الاسلامي في القارات الحديثة	
٣.	يطلق على آسيا وأفريقيا وأروبا مصطلح القارات الجديدة	
٤.	تتواجد دول العالم الاسلامي في القارات التالية: آسيا وأفريقيا و أوروبا وإستاليا .	
٥.	يبلغ عدد الدول الاسلامية في قارة آسيا ٢٦ دولة	
٦.	يبلغ عدد الدول الاسلامية في قارة أفريقيا ٢٥ دولة	
٧.	تضم قارة أوروبا دولتين اسلاميتين هما البوسنة والهرسك و ألمانيا	
٨.	القارة التي تضم دولة اسلامية واحدة هي أمريكا الشمالية	
٩.	توجد دولة اسلامية واحدة في قارة أمريكا الجنوبية هي البوسنة والهرسك	
١٠.	تبلغ مساحة العالم الاسلامي حوالي ٣٣ كم ^٢	
١١.	تبلغ مساحة العالم الاسلامي بالنسبة للعالم ٢٥,٢ %.	
١٢.	يقع العالم الاسلامي بين خطي طول ١٨ غربا إلى ١٤٥ شرقا.	
١٣.	يقع العالم الاسلامي بين دائرتي ١٣ جنوب خط الاستواء إلى ٦٦ شمال خط الاستواء .	
١٤.	أكبر الدول الاسلامية من حيث المساحة هي جمهورية مصر العربية	
١٥.	اصغر دول العالم الاسلامي مساحة البحرين .	
١٦.	يتكون مجمل عدد قارات العالم ستة قارات .	
١٧.	حوض أو منخفض طبيعي على سطح الارض يسمى هضبة	
١٨.	السهول اجزاء فسيحة من سطح الارض تتميز باستوائها وارتفاعها .	
١٩.	أرض مرتفعة سطحها مستو ، وتمتد لمساحة واسعة تسمى الجبل.	
٢٠.	الجبل هو كل قمة لا يقل ارتفاعها عن ١٠٠ متر تقريبا .	
٢١.	التل يشبه الجبل ولكن ارتفاعه أكثر من ١٠٠٠ متر.	
٢٢.	توجد قمة جبال جوليانا توب في دولة سورينام في قارة أوروبا .	
٢٣.	تنتشر الهضاب في العالم الاسلامي وبشكل أكبر في قارتي آسيا وأوروبا .	
٢٤.	يطلق على هضبة الصحراء الكبرى اسم هضبة أفريقيا الغربية .	

الرقم	العبارة	التصويب
٢٥	تنقسم السهول في العالم الاسلامي الى فيضيه وقارية .	
٢٦	يطلق عل السهول النهرية مصطلح اخر وهو الساحلية.	
٢٧	تشيد المدن ويتركز السكان في الجبال.	
٢٨	من أشهر السهول في الكويت ويمتد من جون الكويت باتجاه الجنوب هو سهل الروضتين.	
٢٩	تصنف السهول الشرقية للخليج العربي ضمن السهول النهرية	
٣٠	تقع الكويت على احد الاقاليم المناخية وهو المناخ المعتدل.	
٣١	حالة الجو خلال فترة زمنية طويلة من حيث عناصره يسمى الطقس.	
٣٢	تعد الصحراء الكبرى من المناطق ضئيلة الكثافة السكانية لوجودها ضمن الاقليم الاستوائي	
٣٣	ينتج العالم الاسلامي من النفط الخام بالنسبة للعالم ما يعادل ٤٢,٥ %.	
٣٤	من أهم مصادر الطاقة في العالم النفط والذهب.	
٣٥	ينتج العالم الاسلامي من الغاز الطبيعي نسبته ٣٣ %	
٣٦	كمية النفط المخزون في باطن الارض يسمى انتاج النفط	
٣٧	أعلى نسبة انتاج للمعادن في العالم الاسلامي هو معدن الحديد.	
٣٨	نسبة سكان العالم الاسلامي الذين يعملون في الثروة الزراعية يعادل ٦٠ %	
٣٩	من أهم المحاصيل الزراعية في العالم الاسلامي الحبوب والخضروات.	
٤٠	يبلغ انتاج العالم الاسلامي من الحبوب بالنسبة للعالم حوالي ١٣ %	
٤١	المحاصيل التي تزرع من أجل التصدير يطلق عليها اسم الحبوب	
٤٢	القطن والجوت والمطاط الطبيعي امثلة على الخضروات والفواكه.	
٤٣	نبات ينمو في المناطق الاستوائية وتصنع من اغصانه بعد الغزل الحبال والحقائب والاقمشة هو نبات المطاط الطبيعي.	
٤٤	احتلت اندونيسيا في الانتاج البحري وفق احصائية ٢٠١٤م المركز الاول.	
٤٥	من أهم مصادر انتاج الاسماك الغير طبيعية المياه العذبة	

(٥) ظلل الحرف (أ) إذا كانت العبارة صحيحة وظلل الحرف (ب) إذا كانت العبارة خاطئة :


الرقم	العبارة	أ	ب	التصحيح
١.	يشغل العالم الاسلامي موقعا مهما على خريطة العالم.			
٢.	تتواجد دول العالم الاسلامي ضمن أربع قارات			
٣.	القارات القديمة هي آسيا وافريقيا وأوروبا.			
٤.	تضم قارة آسيا ٢٧ دولة من الدول الاسلامية.			
٥.	قارة افريقيا تشتمل على ٢٦ دولة من دول العالم الاسلامي			
٦.	تقع كل من دولتي البانيا والبوسنة والهرسك في قارة افريقيا			
٧.	الدولة الاسلامية الوحيدة التي تقع في قارة امريكا الجنوبية هي البانيا			
٨.	تقع دولة سورينام الاسلامية في قارة الامريكية الشمالية			
٩.	تبلغ مساحة العالم الاسلامي حوالي ٣٣ مليون كم ^٢			
١٠.	تبلغ مساحة العالم الاسلامي حوالي ٢٢,٢ ٪ من مساحة العالم.			
١١.	يقع العالم الاسلامي بين خطي طول ١٨ غربا الى ٤١ شرقا			
١٢.	يقع العالم الاسلامي بين دائرتي عرض ١٢ جنوب خط الاستواء الى ٦٦ شمال خط الاستواء			
١٣.	تعد جمهورية كازاخستان اكبر الدول الاسلامية من حيث المساحة			
١٤.	اصغر الدول في العالم الاسلامي هي مملكة البحرين			
١٥.	تعرف التضاريس بأنها أشكال سطح الارض.			
١٦.	تتنوع التضاريس في العالم الاسلامي كلما اتسعت مساحة الارض			
١٧.	التل هو حوض أو منخفض طبيعي على سطح الأرض			
١٨.	تعد السهول أجزاء من سطح الارض تتميز باستوائها وقله ارتفاعها			
١٩.	الهضبة هي أرض مرتفعة سطحها متعرج وتمتد لمساحات واسعة			
٢٠.	الهضبة تشبه التل ولكن ارتفاعه أعلى من ١٠٠٠ متر			
٢١.	الجبل هو كل قمة لا يقل ارتفاعها عن ١٠٠ متر تقريبا.			

الرقم	العبارة	أ	ب	التصحيح
٢٢.	تعد الهضاب من الأشكال التضاريسية المهمة في العالم الاسلامي وتنتشر معظمها في قارتي آسيا وأفريقيا.			
٢٣.	سميت مرتفعات الحجاز بذلك نظرا لانها تحجز سهل تهامة عن هضبة نجد			
٢٤.	تشمل كل من عمان وليبيا على جبلين يحمل كل منهما اسم الجبل الاخضر			
٢٥.	يقع جبل مرة في السودان			
٢٦.	توجد قمة جبال جوليانا توب في قارة أمريكا الجنوبية			
٢٧.	تنقسم السهول في العالم الاسلامي الى فيضيه وساحلية			
٢٨.	تكمن أهمية السهول بانها مكان مناسب لتشييد المدن			
٢٩.	تستخدم الهضبات كموانئ طبيعية			
٣٠.	يتركز السكان في السهول نظرا لسهولة التنقل فيها			
٣١.	يعد سهل برقان من اشهر السهول في دولة الكويت			
٣٢.	تلال جال الزور من التلال التي تقع في البحرين			
٣٣.	تنوع التضاريس في العالم الاسلامي ساهم في تنوع مناخه			
٣٤.	يعد النفط والغاز الطبيعي من أهم مصادر الطاقة في العالم			
٣٥.	النسبة التي ينتجها العالم الاسلامي من الغاز الطبيعي ٣٦% بالنسبة لاجمالي الانتاج العالمي منه.			
٣٦.	يعتبر اليورانيوم هو اكثر الثروات المعدنية انتاجا وفق احصاء ٢٠١٤ م			
٣٧.	تدخل الثروة الزراعية كمادة خام في كثير من الصناعات.			
٣٨.	قلة الايدي العاملة من الامور التي تساعد على الانتاج الزراعي			
٣٩.	سقوط الامطار والمناخ والتربة الخصبة من العوامل المهمة للإنتاج الزراعي.			
٤٠.	العالم الاسلامي لا يمتلك غذاءه ولديه اكتفاء ذاتي من المحاصيل الزراعية.			
٤١.	الغلات النقدية هي التي تزرع من اجل التصدير.			
٤٢.	القطن من امثلة الغلات النقدية			
٤٣.	الجوت نبات ينمو في المناطق الاستوائية والموسمية.			
٤٤.	المحيطات والمياه العذبة من أهم المصادر الغير طبيعية انتاج الاسماك في العالم الاسلامي			
٤٥.	الدولة الاسلامية التي تحتل المركز الرابع وفق احصاء ٢٠١٤ في الانتاج البحري هي اندونيسيا			

(٦) استنتج الرابط بين العناصر التالية :

- الموقع + التضاريس + المناخ + الموارد المائية
- آسيا + أفريقيا + أوربا
- وادي + سهل + هضبة + جبل
- الاخضر + مرة + الاحجار + الحجاز
- وارة + كراع المرو + جال الرياح + جال الزور
- موسمي + مداري + صحراوي + معتدل
- ثروة الطاقة والمعادن + الثروة الزراعية + الثروة السمكية
- يورانيوم + ذهب + فضة + نحاس
- مناخ + مياه + تربة خصبه + أيدي عامله

(٧) من أنا أو ماذا أمثل أو من نحن أو من نكون :



أملك قمة لا يقل ارتفاعها
عن ١٠٠٠ متر تقريبا.
أنا

من أهم المعادن
انتاجا في العالم
الاسلامي
أنا



أكبر الدول
الاسلامية من حيث
المساحة والاولى في
انتاج معدن اليورانيوم
أنا



نحن عناصر هامة
لمعرفة حالة الجو
نحن نمثل



نمثل المحاصيل التي
تزرع من أجل التصدير
ونسعى



(٨) صنف الكلمات التالية إلى مكانها المناسب في الجدول التالي:

١ / وارة - الحجاز - - الأناضول - الروضتين - جال الزور - أطلس - مره - نجد - برقان

سهول	تلال	هضاب	جبال

٢ / النحاس - الجوت - الذهب - الارز - القطن - اليورانيوم - المطاط - الفضّة

الثروة المعدنية	الثروة الزراعية

(٩) ضع أسماء المحاصيل التالية في مكانها حسب الجدول التالي :

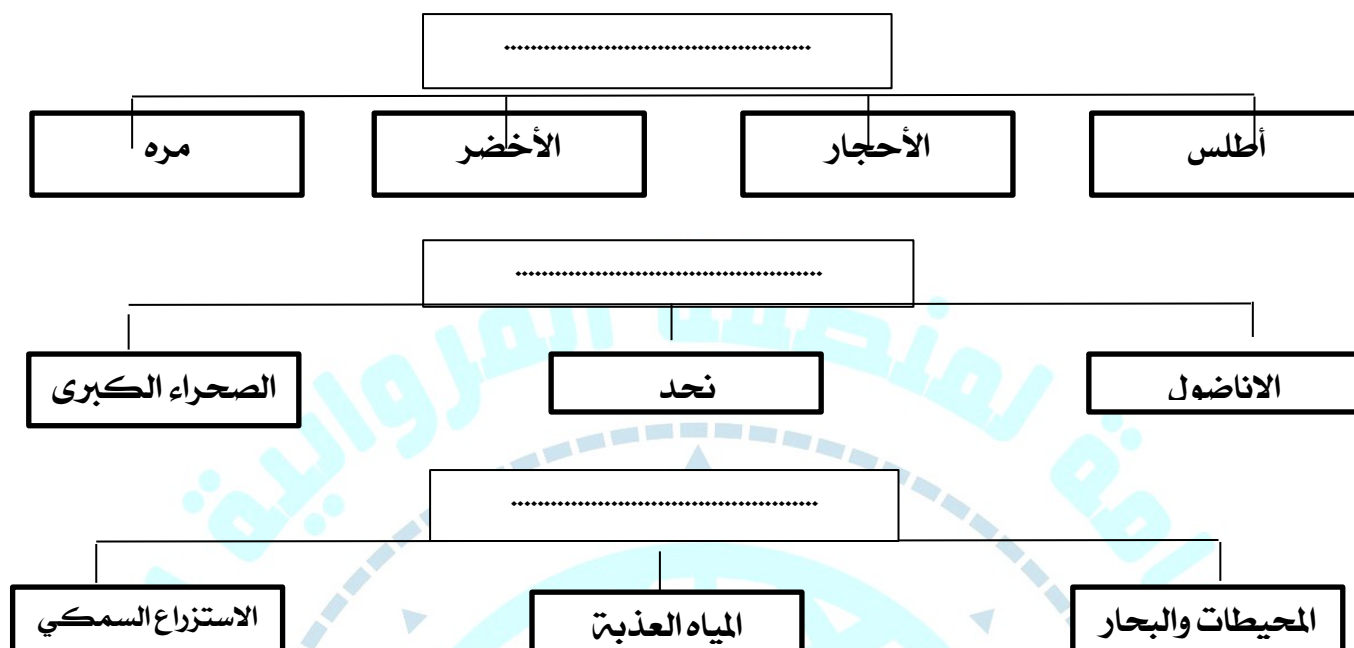
الذرة - الأرز - العنب - الموز - القطن - الجوت

الغلات النقدية	الحبوب	الفواكه والثمار

(١٠) أكمل المخططات السهمية التالية :



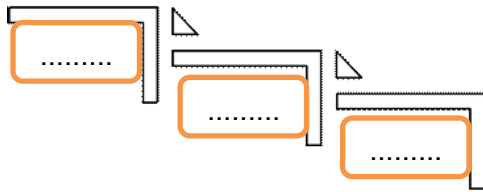
(١١) اكتب عنوانا للمخطط السهمي التالي :



(١٢) اختر للمجموعة (أ) ما يرتبط بها من المجموعة (ب) بوضع الرقم المناسب .

ص	م	المجموعة (أ)	الرقم المناسب	المجموعة (ب)	الدائرة البيانية
٦٧	١	نسبة انتاج العالم الاسلامي من النفط الخام		%٤١,٥	
٦٩	٢	نسبة احتياط العالم الاسلامي من النفط الخام		%٣٦	
٦٧	٣	نسبة انتاج العالم الاسلامي من الغاز الطبيعي		%٥٨,٥	
٧٠	٤	نسبة انتاج كازاخستان من معدن اليورانيوم		%١٤	
٧٢	٥	نسبة انتاج العالم الاسلامي من الحبوب		%٤١	
٥١	٦	مساحة العالم الاسلامي بالنسبة لعالم		%٢٢,٢	

(١٣) أعد ترتيب (الأشكال التضاريسية) حسب الارتفاع:



جبل - سهل - هضبة

١٤/ لاحظ الشكل المقابل ، ثم أجب عن الأسئلة التالية:

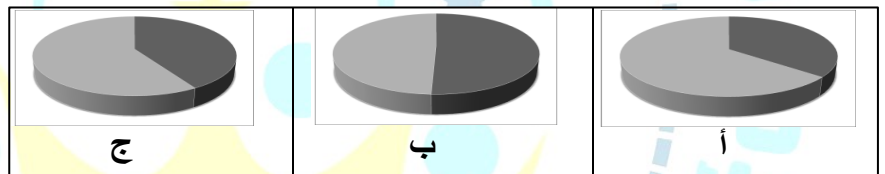


- ١- الشكل المقابل يمثل ؟
- ٢- اذكر أسماء اثنين من الجبال والسهول الموجودة في العالم الاسلامي؟
 أ- جبل
 ب- جبل
 أ- سهل
 ب- سهل
- ٣- ماهي أكبر الهضاب الموجودة في العالم الاسلامي ؟

(١) أكمل العبارات التالية بما يناسبها :



- ١/ من أهم مصادر الطاقة في العالم و
- (٢) تبلغ نسبة إنتاج النفط الخام في العالم الاسلامي
 حيث تمثلها الدائرة البيانية التي تحمل الحرف



(١٥) ضع عنوانا للصور التالية :



.....

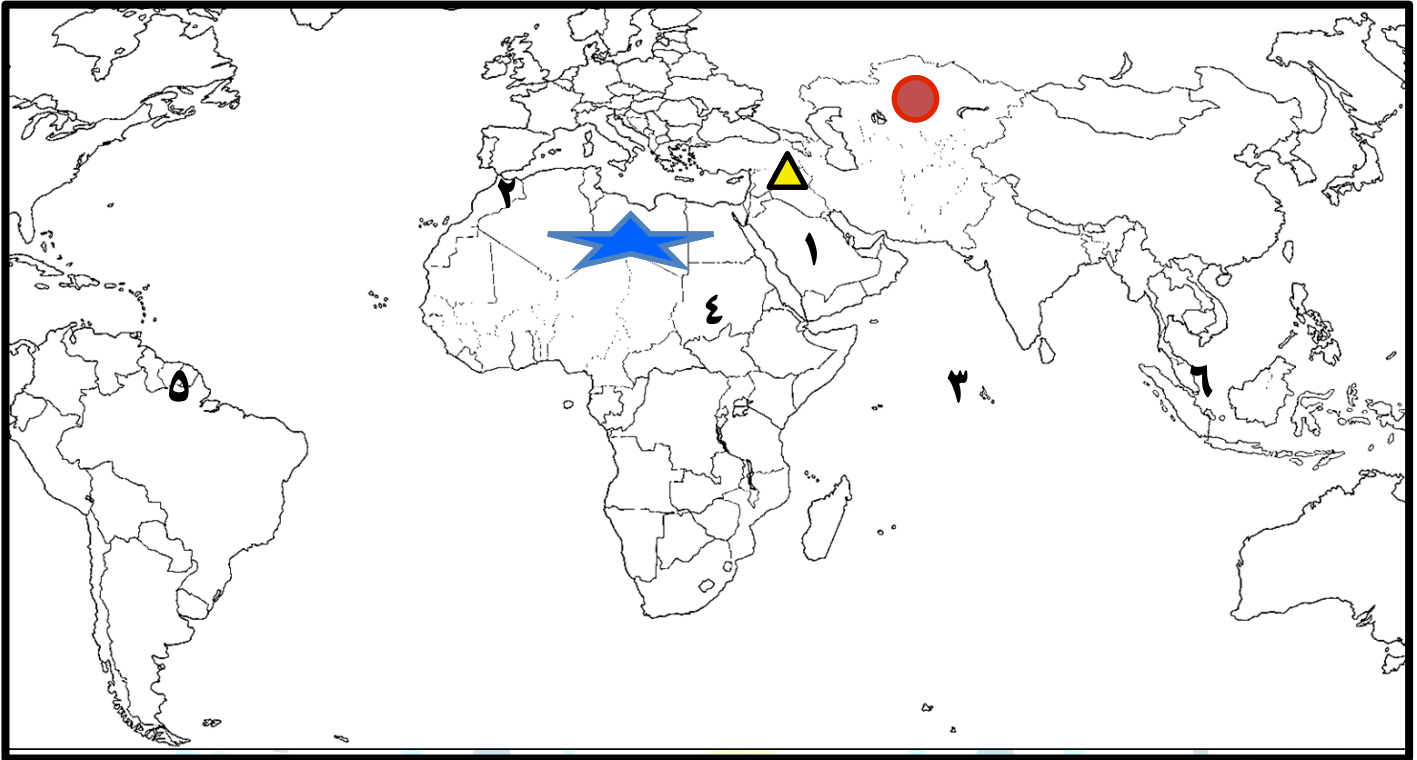
.....



.....

.....

١٦ / اكتب مدلولات الأرقام أو الرموز أو الأشكال على الخريطة التي أمامك :



- أكبر الدول الإسلامية مساحةً يمثلها على الخريطة الشكل
- هضبة الصحراء الكبرى يمثلها على الخريطة الشكل
- سهول تسمى دجلة والفرات يمثلها على الخريطة الشكل
- هضبة نجد يمثلها على الخريطة الرقم
- جبال أطلس يمثلها على الخريطة الرقم
- دولة إسلامية تحتل المركز الثاني في الانتاج البحري يمثلها على الخريطة الرقم
- أصغر الدول الإسلامية مساحةً يمثلها على الخريطة الرقم
- الدولة الإسلامية التي يوجد بها جبل مره يمثلها على الخريطة الرقم
- دولة سورينام يمثلها على الخريطة الرقم
- * ظلل قارة أمريكا الجنوبية
- * ارسم خط الاستواء
- * حدد كل من المحيط الهندي والمحيط الأطلسي كتابيا على الخريطة

الأسئلة المقالية :

(١) فرق بين كل مما يلي :

مصادر طبيعية	مصادر غير طبيعية

١/ مصادر انتاج الاسماء

(٢) قارن بين كل مما يلي :

١/ الأقاليم المناخية من حيث صفة المطر :

وجه المقارنة	المناخ الاستوائي الحار	المناخ الموسمي الحار	المناخ المداري	المناخ المعتدل الدافئ
صفة الأمطار				

١/ عدد الدول الاسلامية في كل قارة :

اسم القارة	قارة آسيا	قارة افريقيا	قارة أوروبا	أمريكا الجنوبية

١٢ جمهورية كازاخستان ، جمهورية المالديف من حيث المساحة :

وجه المقارنة	جمهورية كازاخستان	جمهورية المالديف
المساحة		

١٣ الجبل والتل من حيث الارتفاع ص ٥٣

وجه المقارنة	الجبل	التل
الارتفاع		

١٤ الكويت وهضبة الصحراء الكبرى من حيث الكثافة السكانية ص ٦٦

وجه المقارنة	الكويت	هضبة الصحراء الكبرى
الكثافة السكانية		

٥/ المناخ والطقس من حيث الفترة الزمنية

وجه المقارنة	المناخ	الطقس
الفترة الزمنية		

(٣) عرف المفاهيم أو المصطلحات التالية :

- التضاريس :
- الوادي :
- الجبل :
- هضبة :
- السهول :
- التل :
- المناخ :
- الطقس :
- الإقليم المناخي :
- احتياطي النفط :
- الغلات النقدية :
- الجوت :
- دول مغلقة :

(٤) فسر :

١. تسمية هضبة أفريقيا الشمالية بهضبة الصحراء الكبرى.

.....

٢. تسمية مرتفعات الحجاز بهذا الاسم.

.....

(٥) علل / اذكر السبب .

١) يشغل العالم الاسلامي موقعا جغرافيا مهما على خريطة العالم .

.....

٢) تنوع التضاريس في العالم الاسلامي .

.....

٣) للسهول أهمية كبيرة .

.....

٤) تشييد المدن في السهول .

.....

٥) تركيز السكان في السهول .

.....

٦) تنوع المناخ في دول العالم الاسلامي

أ.....

ب.....

٧) الكثافة السكانية في الصحراء الكبرى ضئيلة .

.....

٨) تنوع الثروات الطبيعية في العالم الاسلامي ص ٦٧

٩) أ.....

١٠) ب.....

١١) تنوع مصادر انتاج الاسماك في دول العالم الاسلامي .

أ.....

ب.....

١١) قلّة عدد السكان في المناطق الجبلية في دول العالم الاسلامي

أ.....

ب.....

٦) اكتب ما تعرفه عن:

١) موقع العالم الإسلامي

.....

.....

٢) جمهورية كازاخستان

.....

.....

٣) هضبة الصحراء الكبرى

.....
.....

١٧ عدد

١) العوامل التي ساعدت في تنوع المناخ في دول العالم الإسلامي

.....
.....
.....
.....

٢) أهم موارده الطبيعية في العالم الإسلامي .

.....
.....
.....

١٨ أجب عن الأسئلة التالية

أ. كيف تصنع الأحذية والحقائب والأقمشة الخشنة من نبات الجوت ؟

.....
.....

ب. ما أسماء الدول الإسلامية الأكثر إنتاجاً للأسماك ؟

أ...../ب.....

ج. ما هو المصطلح الذي يطلق على الدول التي لا تطل على سطح مائي ؟

..... *

الفقرة الاولى :

تعد الثروة الزراعية في العالم الاسلامي المصدر الرئيسي لإنتاج الغذاء ويعمل بها ٧٠ ٪ من سكان العالم الاسلامي حيث تمثل الدخل الرئيسي لدوله وتدخل كمادة خام في كثير من الصناعات وهناك عوامل ساعدت على الانتاج الزراعي ومنها المناخ و سقوط الأمطار و وجود البحيرات والأنهار والآبار والتربة الخصبة ومن أهم المحاصيل الغذائية في العالم الاسلامي الحبوب والغللات النقدية.

١- اقرأ الفقرة التالية ثم أجب عما يليها من أسئلة :

١- ضع عنوان مناسب للفقرة السابقة :

٢- اذكر أهم المحاصيل الزراعية في العالم الاسلامي ؟

أ/
ب/

٣- ما أهم العوامل التي ساعدت على الانتاج الزراعي في دول العالم الاسلامي ؟

أ/
ب/

٤- حول النسبة المذكورة في الفقرة السابقة الى دائرة بيانية.

الفقرة الثانية :

تتنوع التضاريس كلما اتسعت مساحة الأرض، وأن مساحة العالم الإسلامي تبلغ 32 مليون كم²، وهي مساحة شاسعة أدت بدورها إلى تنوع تضاريسه، التي امتدت في أربع قارات من أصل سبع قارات تمثل العالم.

١- عرف ما تحته خط :

.....

٢- علل تنوع تضاريس العالم الاسلامي.

.....

٢- اذكر القارات التي امتدت لها مساحة العالم الاسلامي.

.....

الفقرة الثالثة :

هناك عدة عوامل لعبت دورا في تنوع المناخ في دول العالم الاسلامي من أهمها امتداد دول العالم الاسلامي على مساحة شاسعة وموقعها بالنسبة لدوائر العرض والاطلالة على عدة مسطحات مائية بالإضافة الى التنوع في التضاريس .

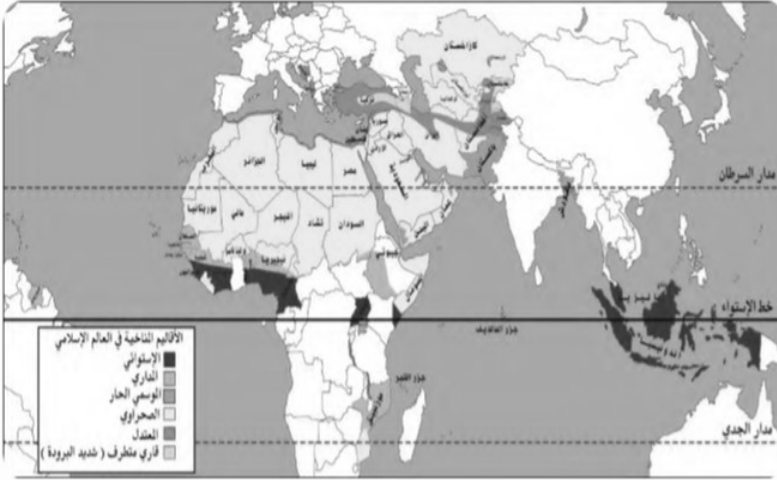
١- عرف ما تحته خط :

.....

٢- اذكر اثنين من العوامل التي أدت لتنوع المناخ في العالم الاسلامي

أ/
ب/

١٠ / لاحظ الخريطة المقابلة ثم أجب على التالي :



شكل (٢٤) خريطة الأقاليم المناخية في دول العالم الإسلامي

١/ في أي اقليم مناخي تقع دولة الكويت ؟

.....

٢/ اكتب اثنين من المسطحات المائية التي يطل عليها العالم الاسلامي

..... /١

..... /٢

٣- اكتب اثنين من الأقاليم المناخية التي يقع ضمنها دول العالم الاسلامي

..... /١

..... /٢

- لاحظ شكل ٢٨ المقابل ثم أجب على الاسئلة التالية:

أعد ترتيب الثلاث دول الاولى في إنتاج معدن اليورانيوم .

..... /١

..... /٢

..... /٣

من الدولة التي تمتلك أقل نسبة أقل نسبة في إنتاج معدن


الفضة ؟

حول نسبة كازاخستان في اليورانيوم لدائرة بيانية

اليورانيوم		الذهب		الفضة	
كازاخستان	%٤١	إندونيسيا	%٢,٣	تركيا	%٠,٧
أوزباكستان	%٤,٣	أوزباكستان	%٣,٤	إندونيسيا	%٣,٦
النيجر	%٧,٢	السودان	%٢,٤	كازاخستان	%٣,٦
باكستان	%٠,١	مالي	%١,٥	أوزباكستان	%٠,٢
		كازاخستان	%١,٧	المغرب	%٠,٧

شكل (٢٨) نسبة إنتاج اليورانيوم والذهب والفضة من جملة إنتاج دول العالم

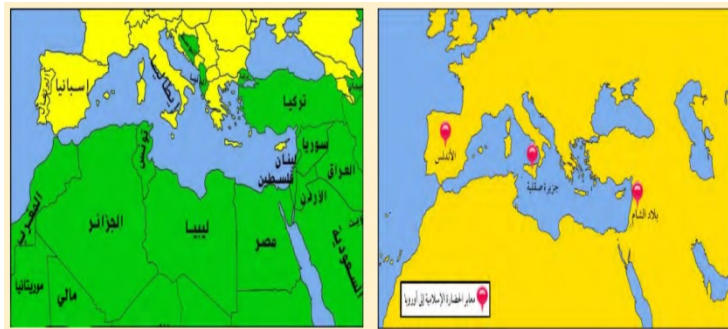
الإسلامي حسب إحصاء ٢٠١٤^(١)



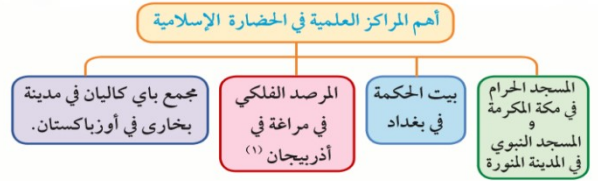
ملحق الخرائط

ص ٣٨

ص ٤١

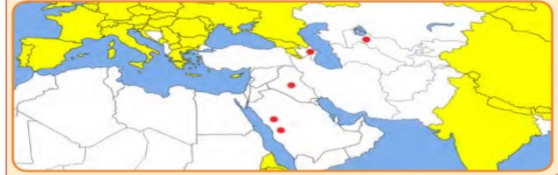


شكل (١٣) الدول الحديثة مراكز أشعاع الحضارة الإسلامية



نشاط (٢)

وزع أسماء المدن التي ظهرت فيها المراكز العلمية في الحضارة الإسلامية حسب الرمز الصحيح على الخريطة التي أمامك .



ص ٥٦

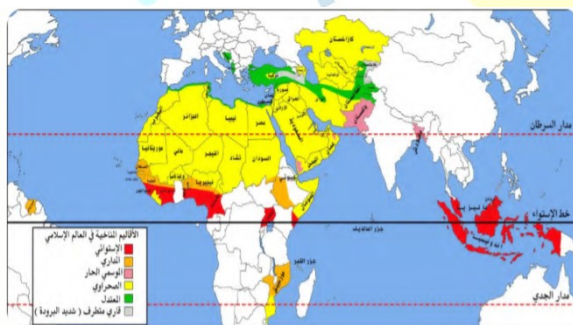


شكل (١٨) أهم حضاب دول العالم الإسلامي



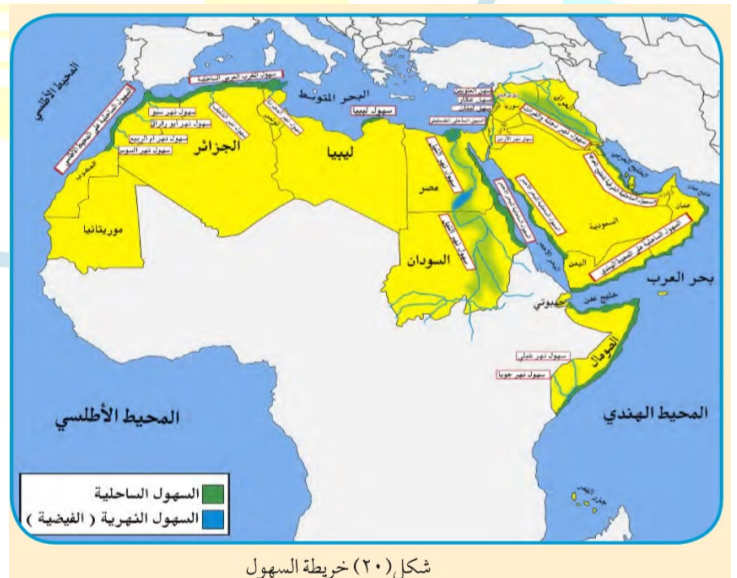
ص ٥٤

ص ٦٣



شكل (٢٤) خريطة الأقاليم المناخية في دول العالم الإسلامي

ص ٧٤



شكل (٢٠) خريطة السهول



شكل (٢٨) يوضح أهم الدول الإسلامية المتشعبة للأسماء



ملخص الجداول

الحوض أو المنخفض الطبيعي من سطح الأرض

الوادي		السهول		الهضبة		تل	الجبل									
الحوض أو المنخفض الطبيعي من سطح الأرض		يطلق على الأجزاء الفسيحة من سطح الأرض والتي تتميز باستوائها وقلّة ارتفاعها		الأرض المرتفعة وسطها مستو وتمتد لمساحة واسعة		جزء من سطح الارض ويشبه الجبل ولكن ارتفاعه أقل من ١٠٠٠ متر	كل قمة من سطح الأرض لا يقل ارتفاعها عن ١٠٠٠ متر تقريبا									
		آسيا		آسيا		تلال جبال الزور واللياح وارة في الكويت	آسيا									
		أفريقيا		أفريقيا												
		سهل برقان و الروضتين		الكويت												
سهل دجلة والفرات		العراق		الصومال		تركيا		من مصر الى الجزائر	هضبة الصحراء الكبرى	ايران	الهضبة الايرانية		مصر السودان	سهل نهر النيل		الكويت
سهل نهر الاردن		الاردن		تونس		نجد					السعودية					
البحر المتوسط		البحر المتوسط		البحر المتوسط		البحر المتوسط					البحر المتوسط			البحر المتوسط		