


أوراق عمل مادة الاجتماعيات



الفصل الدراسي الاول 2023 – 2024 م

مدرسة التميز النموذجية
للمصف السابع



إعداد
قسم الاجتماعيات



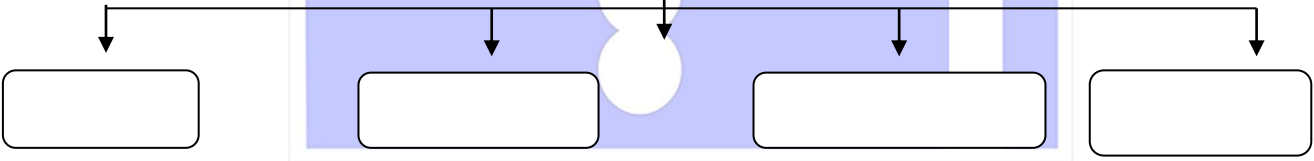
ورقة عمل (1)

السؤال الأول : أكمل العبارات الآتية بما يناسبها مما درست :-

- 1- القارات التي يمتد فيها الوطن العربي هي
- 2- البحر الذي يفصل الجناح الاسيوي عن الجناح الافريقي.....
- 3- عدد دول الوطن العربي يبلغ..... دولة
- 4- مساحة الوطن العربي تبلغ حواليمليون كم2
- 5- العام الذي انضمت فيه جزر القمر إلى جامعة الدول العربية هو.....

السؤال الثالث : أكمل المخطط السهمي التالي :

مقومات الهوية العربية



مدرسة التميز النموذجية

* أكتب المصطلح العلمي :-

1- (.....) مجموعة الدول العربية التي يجمعها عدد من السمات المشتركة منها

(الدين واللغة) ويمتد ضمن قارتين من اكبر قارات العالم مساحة

ورقة عمل (2)

السؤال الأول : أكمل العبارات الآتية بما يناسبها مما درست :

- 1- في أي قارة يمتد القسم الأكبر من الوطن العربي.....
- 2- موقع ذو مكانة مهمة بين دول العالم يسمى
- 3- خط الطول الرئيسي في العالم يسمى
- 4- دائرة العرض الرئيسية في العالم تسمى

السؤال الثاني : قارن بين خطوط الطول ودوائر العرض كما هو موضح بالجدول

وجه المقارنة	خطوط الطول	دوائر العرض
العدد
الخط الرئيسي
الأهمية

مدرسة التميز النموذجية

السؤال الثالث : أجب عن الآتي :

فرق بين

المضيق

.....

.....

.....

القناة

.....

.....

.....

ورقة عمل (3)

السؤال الأول : أختار الاكمال المناسب من بين الخيارات التي تلي كل عبارة مما يلي :-

- 1- الدولة التي تحد الوطن العربي من الشمال تسمى (اسبانيا – ايطاليا – فرنسا – تركيا)
- 2- المحيط الذي يحد الوطن العربي من الغرب يسمى (الهادي – الأطلسي – الهندي)
- 3- البحر الذي يحد الوطن العربي من الشمال (الأحمر – بحر العرب – المتوسط – الأسود)
- 4- تقع دولة الكويت بالنسبة للوطن العربي في جهة (الشرق – الغرب – الشمال – الجنوب)

السؤال الثاني : قارن بين الأهمية الجغرافية والأهمية الاقتصادية للوطن العربي

الأهمية الجغرافية	الأهمية الاقتصادية
1-	1-
2-	2-

السؤال الثالث : أجب عن ما يأتي :

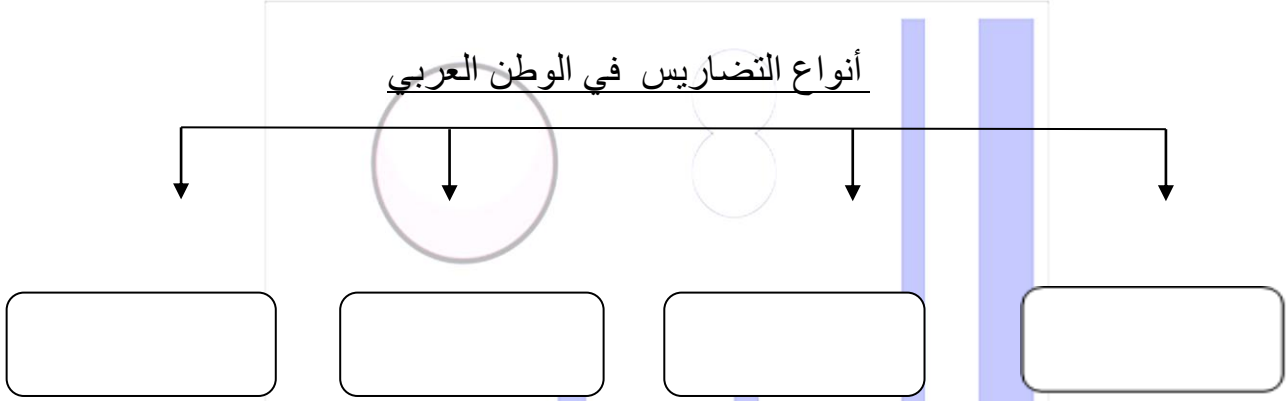
1- ما الأهمية الحضارية للوطن العربي

- أ-
- ب-



ورقة عمل (4)

السؤال الأول : أكمل المخطط السهمي التالي



السؤال الثاني : أكمل العبارات التالية بما يناسبها مما درست :-

- 1- الدولتان اللتان يقع فيهما جبل يسمى الجبل الأخضر و.....
- 2- الجبال التي تمتد في العراق تسمى
- 3- تقع جبال مرة في دولة عربية تسمى
- 4- الجبال التي تمتد في الجزائر تسمى

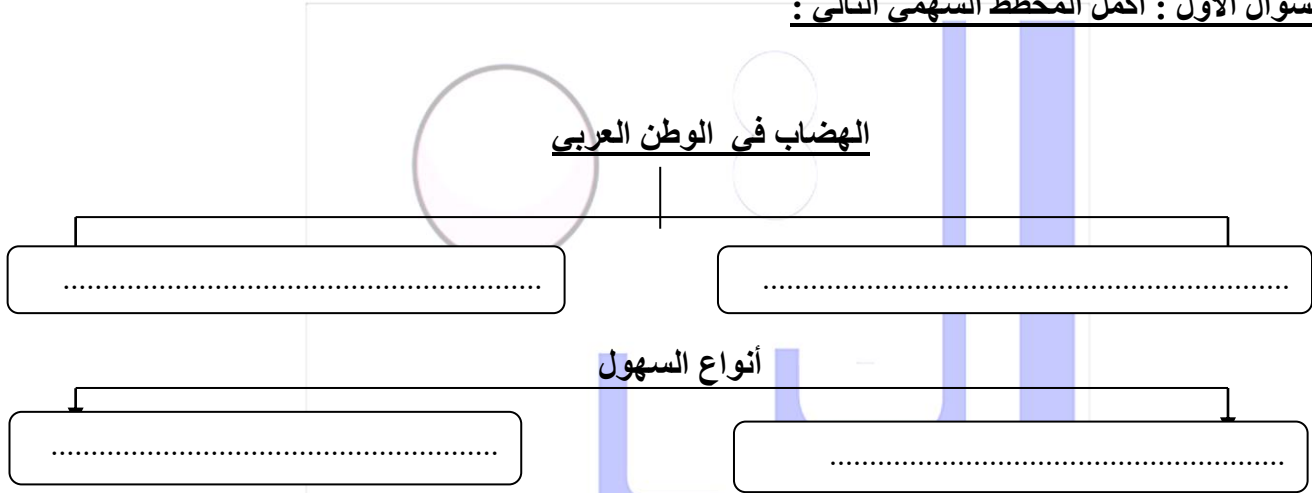
مدرسة التميز النموذجية

فرق بين

الهضبة	الجبل
.....
.....

ورقة عمل (5)

السؤال الأول : أكمل المخطط السهمي التالي :



السؤال الثاني : اختر الإكمال الصحيح للعبارات التالية من بين الخيارات التي تلي كلا منها وضع خطا تحتها:-

- 1- الدولة التي يوجد بها هضبة نجد تسمى (السعودية – المغرب – اليمن – تونس)
- 2- الدولة التي توجد بها هضبة الشطوط تسمى (الجزائر – مصر – السودان – الكويت)
- 3 – أكثر الأشكال التضاريسية انتشاراً هي (الوديان – السهول – الجبال – الهضاب)

مدرسة التميز النموذجية

السؤال الثالث : فرق بين كلاً من السهول الفيضية والسهول الساحلية

وجه المقارنة	السهول الفيضية	السهول الساحلية
التعريف
مثال

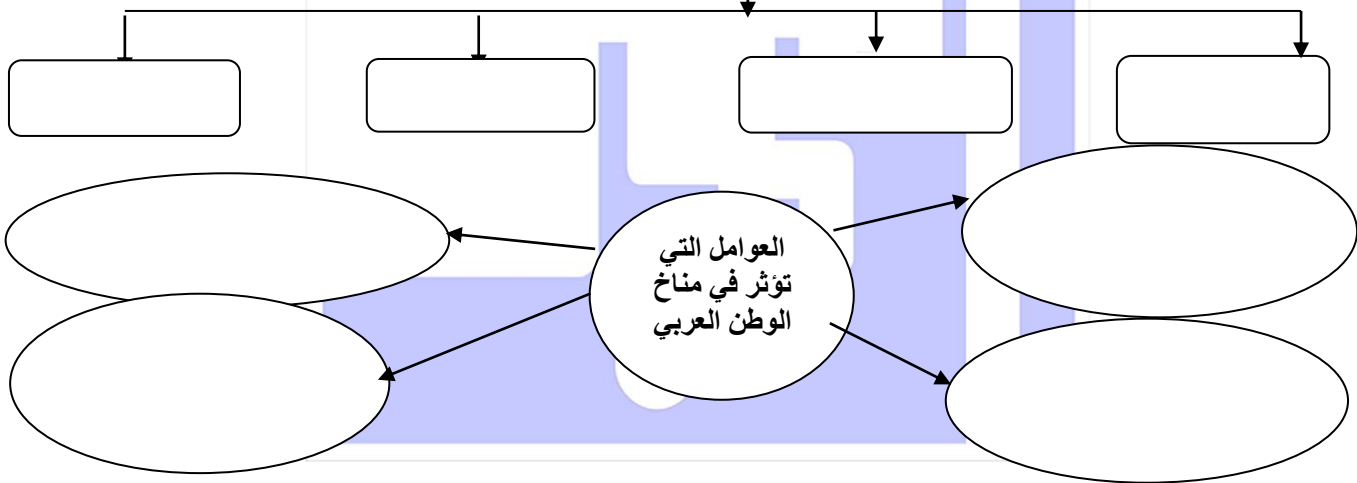
ورقة عمل (6)

السؤال الأول : أكتب المصطلح :

1- (.....) : هو حالة الجو في مكان ما لفترة زمنية قصيرة

2- (.....) : هو حالة الجو في مكان ما لفترة زمنية طويلة

عناصر المناخ



السؤال الثاني : بعد الإطلاع على خريطة الكتاب ص 48 أكمل الجدول التالي

الدولة	اسم الرياح المحلية
مصر
.....	الطوز
السودان
.....	السموم
ليبيا

* عرف ما يلي :

الضغط الجوي :

ورقة عمل (7)

السؤال الأول : أجب عما يلي

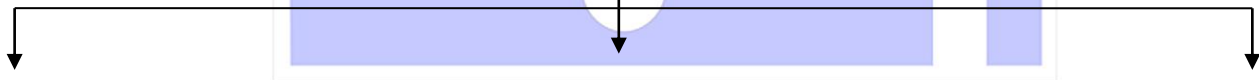
1- ما العوامل المؤثرة في تنوع النبات الطبيعي

أ -

ب -

السؤال الثاني : أكمل المخطط السهمي التالي

أنواع النباتات في الوطن العربي



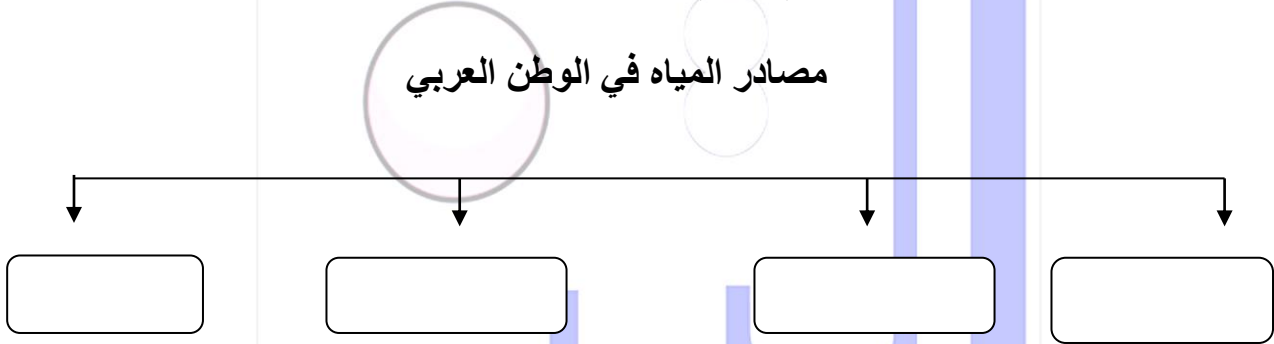
مدرسة التميز النموذجية

السؤال الثالث : عرف ما يلي :

1- النبات الطبيعي

ورقة عمل (8)

السؤال الأول : أكمل المخطط السهمي التالي:



السؤال الثاني : بالاستعانة بخريطة الكتاب ص 58 أجب عما يأتي :

- 1- الدول العربية التي يجري بها نهر النيل و
- 2- الدولة العربية التي يجري بها نهري دجلة والفرات تسمى
- 3- الدولة العربية التي يجري بها نهري جوبا وشبيلي تسمى
- 4- يصب نهري دجلة والفرات في
- 5 - تم إنشاء محطة الشويخ لتحلية المياه في عام
- 6 - الحملة التوعوية في دولة الكويت للمحافظة على المياه تسمى حملة

* عرف ما يلي :

المياه الجوفية :

ورقة عمل (1)

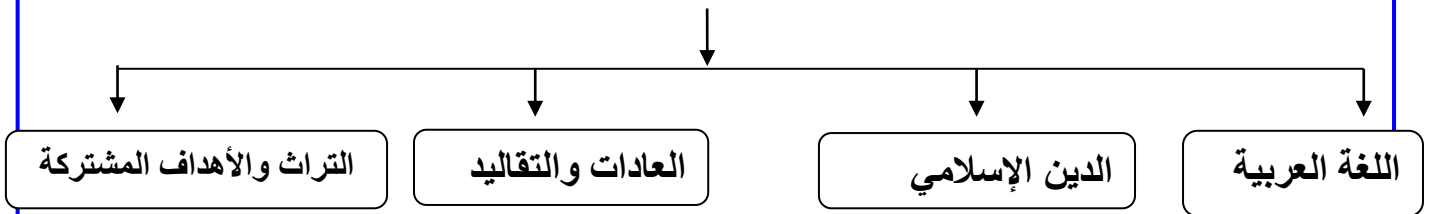
السؤال الأول : أكمل العبارات الآتية بما يناسبها مما درست :-

- 1- القارات التي يمتد فيها الوطن العربي هي آسيا وإفريقيا
- 2- ما اسم البحر الذي يفصل الجناح الآسيوي عن الجناح الأفريقي البحر الأحمر
- 3- عدد دول الوطن العربي يبلغ 22 دولة
- 4- مساحة الوطن العربي تبلغ حوالي 13,500 مليون كم²
- 5- العام الذي انضمت فيه جزر القمر إلى جامعة الدول العربية هو 1993

السؤال الثالث : أكمل المخطط السهمي التالي :

مدرسة التميز النموذجية

مقومات الهوية العربية



* أكتب المصطلح العلمي :-

- 1- (الوطن العربي) مجموعة الدول العربية التي يجمعها عدد من السمات المشتركة منها (

الدين واللغة) ويمتد ضمن قارتين من اكبر قارات العالم



ورقة عمل (2)

السؤال الأول : أكمل العبارات الآتية بما يناسبها مما درست :

- 1- في أي قارة يمتد القسم الأكبر من الوطن العربي أفريقيا
- 2- موقع ذو مكانة مهمة بين دول العالم يسمى الموقع الاستراتيجي
- 3- خط الطول الرئيسي في العالم يسمى جرينتش
- 4- دائرة العرض الرئيسية في العالم تسمى خط الاستواء

السؤال الثاني : قارن بين خطوط الطول ودوائر العرض كما هو موضح بالجدول

وجه المقارنة	خطوط الطول	دوائر العرض
العدد	360	180
الخط الرئيسي	جرينتش	خط الاستواء
الأهمية	معرفة التوقيت الزمني	معرفة المناخ

السؤال الثالث : فرق بين :

المضيق
هو ممر مائي ضيق يصل بين بحرين
أو محيطين أو أي مساحتين كبيرتين
نسبيا من الماء

القناة
هو مجرى مائي صناعي ضيق
يشق لأغراض الري أو النقل.
.....

ورقة عمل (3)

السؤال الأول : أختار الاكمال المناسب من بين الخيارات التي تلي كل عبارة مما يلي :-

- 1- الدولة التي تحد الوطن العربي من الشمال تسمى (اسبانيا – ايطاليا – فرنسا – تركيا)
- 2- المحيط الذي يحده الوطن العربي من الغرب يسمى (الهادي – الأطلسي – الهندي)
- 3- البحر الذي يحده الوطن العربي من الشمال (الأحمر – بحر العرب – المتوسط – الاسود)
- 4- تقع دولة الكويت بالنسبة للوطن العربي في جهة (الشرق – الغرب – الشمال – الجنوب)

السؤال الثاني : قارن بين الأهمية الجغرافية والأهمية الاقتصادية للوطن العربي

الأهمية الاقتصادية	الأهمية الجغرافية
1- الجسر الذي يربط بين قارات العالم القديم	1- موقعه الاستراتيجي
2- ظهور النفط بكميات كبيرة	2- يقع وسط قارات العالم القديم الثلاث

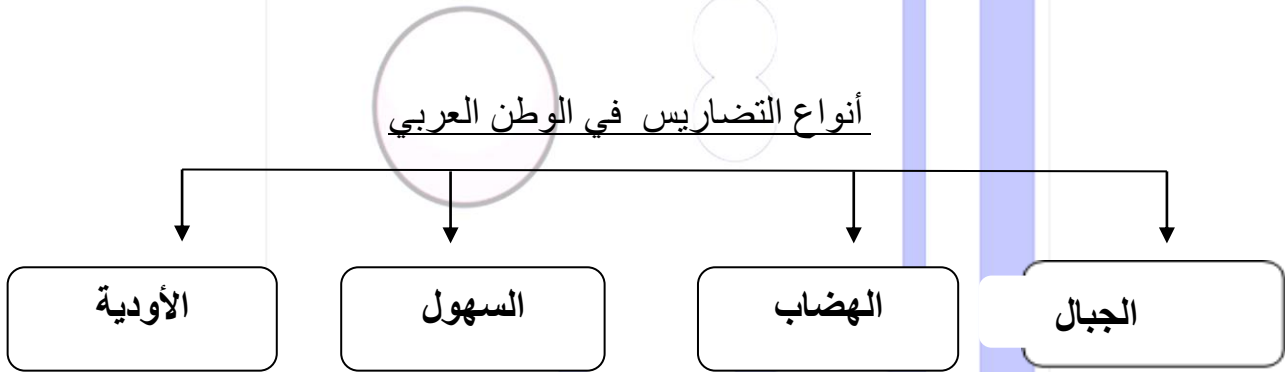
السؤال الثالث : أجب عن ما يأتي :

- 1- ما الأهمية الحضارية للوطن العربي
- أ- قامت على أرض الوطن العربي حضارات عديدة .
- ب- هبطت على أرض الوطن العربي الديانات السماوية



ورقة عمل (4)

السؤال الأول : أكمل المخطط السهمي التالي



السؤال الثاني : أكمل العبارات التالية بما يناسبها مما درست :-

1- الدولتان اللتان يقع فيهما جبل يسمى الجبل الأخضر ليبيا و عمان

2- الجبال التي تمتد في العراق تسمى جبال شيخا دار

3- تقع جبال مرة في دولة عربية تسمى السودان

4- الجبال التي تمتد في الجزائر تسمى الاحجار

مدرسة التميز النموذجية

فرق بين

الهضبة
ارض مرتفعة سطحها مستوي وتمتد مساحة
كبيرة

الجبل
هو كل ما ارتفع من الأرض له قمة لا يقل ارتفاعها
عن 1000 متر



ورقة عمل (5)

السؤال الأول : أكمل المخطط السهمي التالي :

الهضاب في الوطن العربي



السؤال الثاني : اختر الإكمال الصحيح للعبارات التالية من بين الخيارات التي تلي كلا منها وضع خطأ تحتها:-

- 1- الدولة التي يوجد بها هضبة نجد تسمى (السعودية - المغرب - اليمن - تونس)
- 2- الدولة التي توجد بها هضبة الشطوط تسمى (الجزائر - مصر - السودان - الكويت)
- 3 - أكثر الأشكال التضاريسية انتشاراً هي (الوديان - السهول - الجبال - الهضاب)

السؤال الثالث : فرق بين كلاً من السهول الفيضية والسهول الساحلية

وجه المقارنة	السهول الفيضية	السهول الساحلية
التعريف	هي الأراضي المنخفضة التي تكونت من التربة التي حملتها مياه الأنهار	هي الأراضي المنبسطة التي تجاور سواحل البحار والمحيطات
مثال	سهول نهر النيل	سهول البحر الأبيض المتوسط

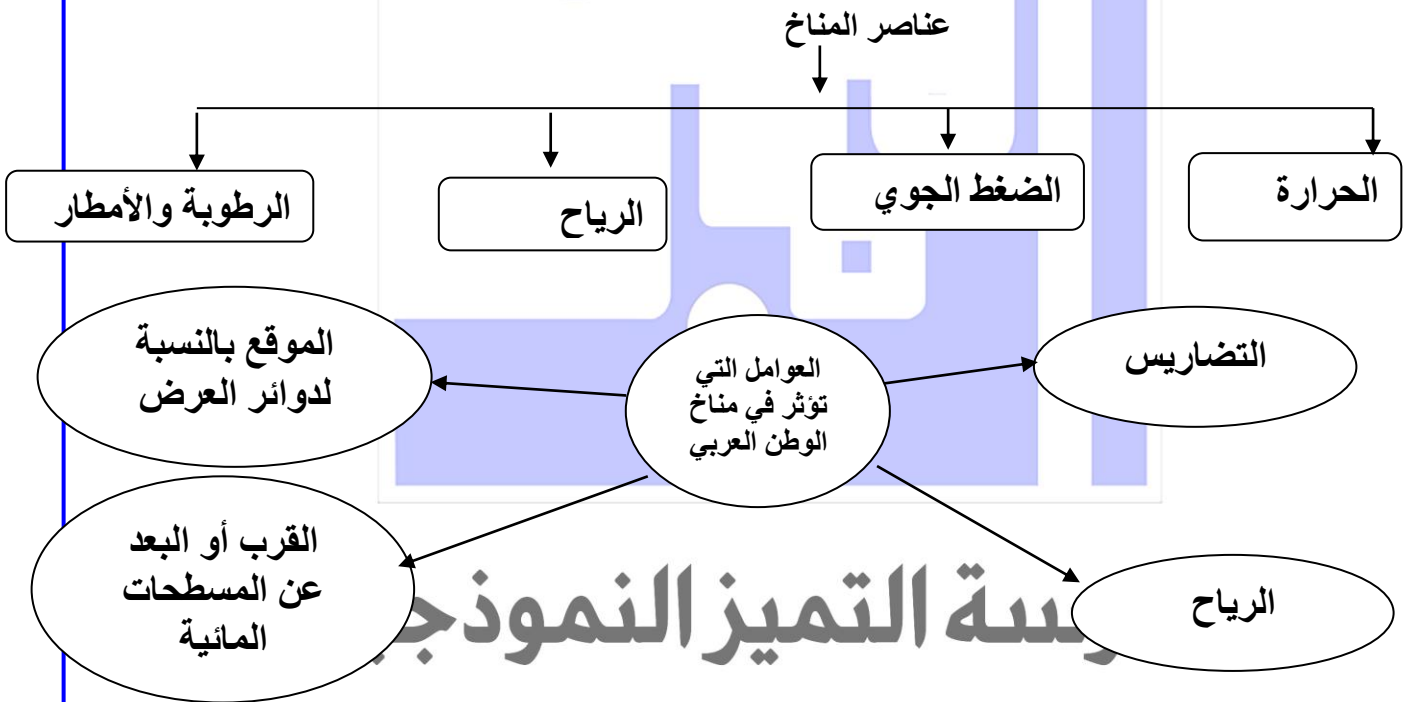


ورقة عمل (6)

السؤال الأول : أكتب المصطلح :

3- (الطقس): هو حالة الجو في مكان ما لفترة زمنية قصيرة

4- (المناخ): هو حالة الجو في مكان ما لفترة زمنية طويلة



السؤال الثاني : بعد الاطلاع علي خريطة الكتاب ص 48 أكمل الجدول التالي

الدولة	اسم الرياح المحلية
مصر	الخماسين
الكويت	الطوز
السودان	الهبوب
السعودية	السموم
ليبيا	القبلي

* عرف ما يلي : الضغط الجوي : وزن الهواء فوق أي مكان

ورقة عمل (7)

السؤال الأول : أجب عما يلي

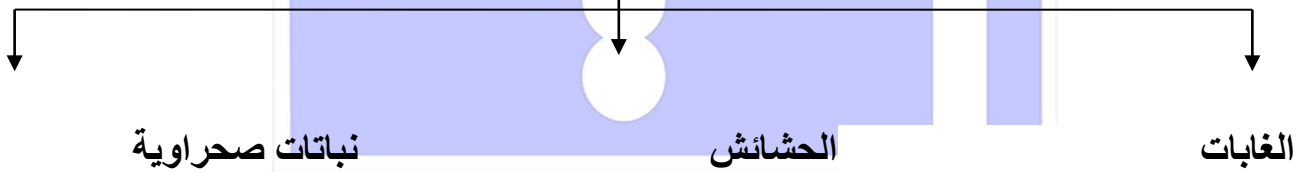
1- ما العوامل المؤثرة في تنوع النبات الطبيعي

أ - نوع التربة

ب - المناخ

السؤال الثاني : أكمل المخطط السهمي التالي

أنواع النباتات في الوطن العربي



مدرسة التميز النموذجية

السؤال الثالث : عرف ما يلي :

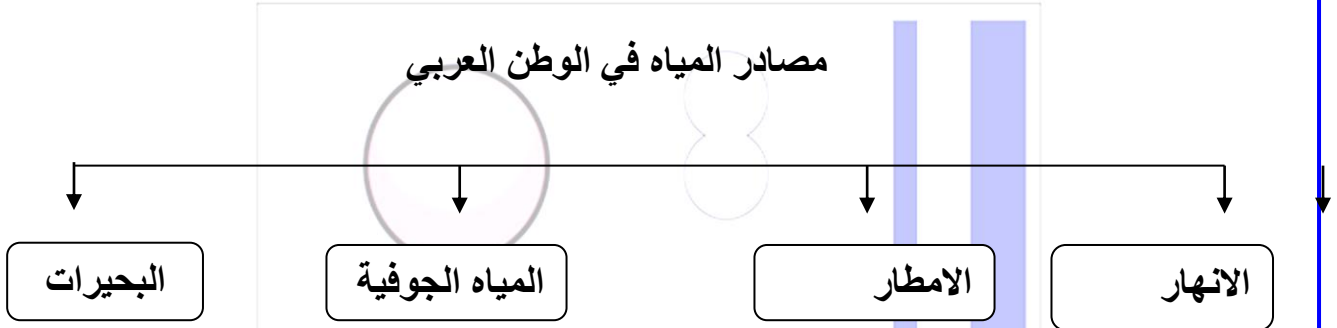
- النبات الطبيعي

هو ذلك النبات الذي ينمو تلقائيا عقب سقوط الأمطار دون تدخل الإنسان



ورقة عمل (8)

السؤال الأول : أكمل المخطط السهمي التالي:



السؤال الثاني : بالاستعانة بخريطة الكتاب صـ 58 أجب عما يأتي :

- 1- الدول العربية التي يجري بها نهر النيل السودان ومصر
- 2- الدولة العربية التي يجري بها نهري دجلة والفرات تسمى العراق
- 3- الدولة العربية التي يجري بها نهري جوبا وشبيلي تسمى الصومال
- 4- يصب نهري دجلة والفرات في الخليج العربي
- 5 - تم إنشاء محطة الشويخ لتحلية المياه في عام 1953
- 6 - اسم الحملة التوعوية في دولة الكويت للمحافظة على المياه تسمى حملة ترشيد

* عرف ما يلي :

المياه الجوفية هي المياه التي توجد في جوف الأرض (باطن الأرض)




مدرسة التميز النموذجية
(ابتدائي - متوسط - ثانوي)
الجهاز الفني التربوي

منصات التميز التعليمية

لزيارة منصة التميز التعليمية في اليوتيوب امسح الباركود التالي :



لزيارة منصة التميز التعليمية في تليجرام امسح الباركود الخاص بقناة كل فصل مما يلي :



لزيارة صفحتنا في تويتر

لزيارة صفحتنا في الإنستغرام

عنواننا : خيطان - ق ٤ - ش ١٠٠